

امتحان نهاية الفصل الدراسي الأول - الدور الأول - العام الدراسي ٢٠١٣ / ٢٠١٤ م

السؤال الأول: (٦ درجة)

اختر الإجابة الصحيحة من بين البدائل المعطاة، بوضع دائرة حول رمز الإجابة الصحيحة :

(١) يبلغ عدد دوائر العرض :

(أ) ١٧٠ (ب) ١٨٠ (ج) ١٩٠ (د) ٢٠٠

(٢) يطلق مصطلح بلاد الرافدين على :

(أ) العراق (ب) مصر (ج) ليبيا (د) الجزائر

(٣) يظهر مناخ البحر المتوسط في سلطنة عمان في :

(أ) ساحل الباطنة (ب) جبال ظفار (ج) رمال الربع الخالي (د) الجبل الأخضر

(٤) يطلق على الأراضي المنبسطة قليلة الانحدار التي ترتفع عما يجاورها من أراضي :

(أ) السهول (ب) الهضاب (ج) الجبال (د) الوديان

(٥) احد القبائل التالية تنتمي الى القبائل القحطانية :

(أ) الأزدي (ب) قريش (ج) ربيعة (د) تميم

٦- عندما تختفي السهول الساحلية تظهر جبال صخرية عالية إما قريبة من البحر أو

ملاصقة له يطلق عليها :

(أ) الخلجان (ب) السهول (ج) الجروف (د) التلال

٧- يصب نهري دجلة والفرات في :

(أ) البحر الأحمر (ب) الخليج العربي (ج) البحر المتوسط (د) بحر العرب

٨- من أكثر أنواع التربة انتشارا في الوطن العربي :

(أ) التربة الفيضية النهرية (ب) تربة الحشائش السوداء

(ج) تربة البحر المتوسط (د) التربة الرملية الصحراوية

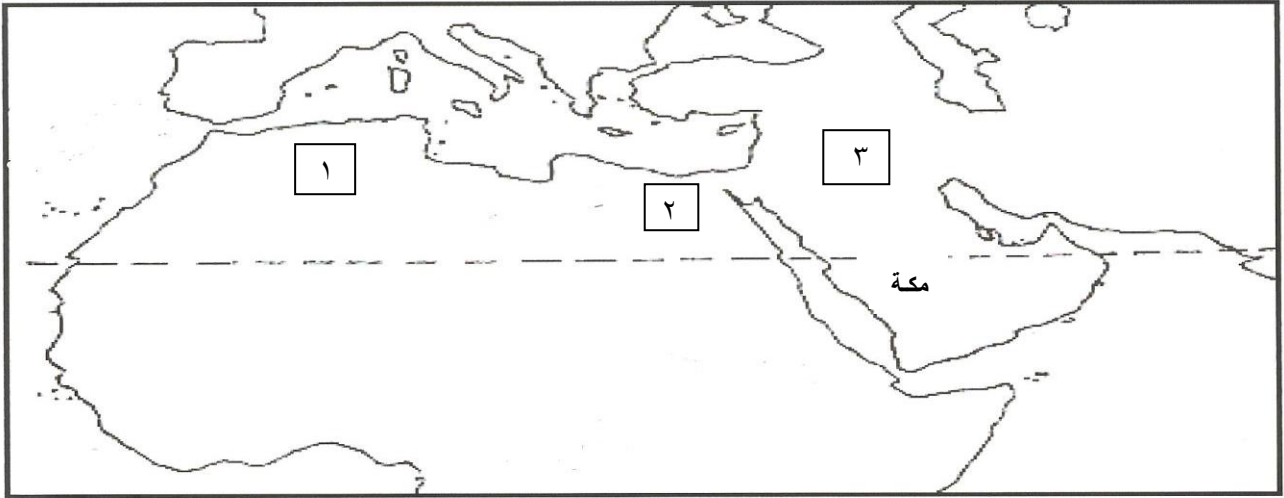
يتبع،،

امتحان نهاية الفصل الدراسي الأول - الدور الأول - العام الدراسي ٢٠١٣ / ٢٠١٤ م

السؤال الثاني (٨ درجات)

أ) لماذا عزم أبرهة الحبشي حاكم اليمن على غزو مكة وهدم الكعبة ؟

ب) أمامك خريطة للوطن العربي ادرسها جيدا ، ثم اجب عن الأسئلة التي تليها :



- ١ - صل بخط بين مكة المكرمة والحبشة (اثيوبيا) .
 - ٢ - اكتب على الخريطة مضيق جبل طارق .
 - ٣ - ما الرقم الذي يشير الى نهر النيل على الخريطة ؟
 - ٤ - سم الدولة التي يمر عليها خط غرنتش والمشار إليها بالرقم (١) .
- ج) يوجد نوعين من الموارد المائية في الوطن العربي . اذكرهما .

(١)

(٢)

د) عرف خطوط الطول .

امتحان نهاية الفصل الدراسي الأول - الدور الأول - العام الدراسي ٢٠١٣ / ٢٠١٤ م

السؤال الثالث (٨ درجات) :

أ- ضع إشارة (√) في الجدول التالي للبلاد العربية التي كانت تخضع للإمبراطورية البيزنطية ، وتلك التي خضعت للدولة الفارسية :

اسم المنطقة	نفوذ فارسي	نفوذ بيزنطي
مصر		
العراق		

ب- صنف في جدول الدول التالية الى دول عرب الشمال ودول عرب الجنوب .
(المناذرة ، سبأ ، الغساسنة ، معين)

دول عرب الشمال	دول عرب الجنوب

ج- أكمل الجدول التالي بما تراه مناسباً :

النهر	المصب
النيل	-----
دجله والفرات	-----

د- يطلق محليا على فصل سقوط الامطار في جبال ظفار في السلطنة فصل (الخريف / الربيع) .
ضع دائرة حول الإجابة الصحيحة .

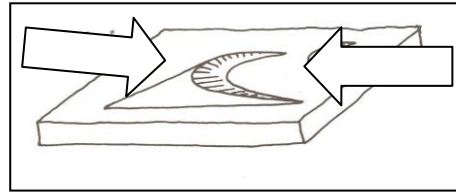
يتبع،،،

امتحان نهاية الفصل الدراسي الأول - الدور الأول - العام الدراسي ٢٠١٣ / ٢٠١٤

السؤال الرابع (٨ درجات)

أ- ما الفرق بين الطقس والمناخ؟

ب- ظل السهم الذي يشير الى الاتجاه الصحيح للرياح المكونة للكثيب الرملي في الشكل التالي :



ج- اكتب نوع المناخ السائد في الأماكن التالية :


١- جبال ظفار (.....)

٢- لبنان (.....)

٣- صحراء الربع الخالي (.....)

د- اقترح بعض الحلول التي تسهم في حل مشكلة العجز المائي في الوطن العربي .

،، انتهت الأسئلة مع تمنياتنا للجميع بالتوفيق والنجاح ،،



بِسْمِ اللَّهِ الرَّحْمَنِ الرَّحِيمِ

" رَبِّ اجْعَلْ لِي قَدْرًا وَيَسِّرْ لِي أَمْرِي "



مِنَاطِنَا عُمَانُ
وَأَزَاةُ الرَّبِّيَّةِ وَالْحَلِيمِ
المديرية العامة للتربية والتعليم بمحافظة الظاهرة
دائرة التقويم التربوي

نموذج إجابة امتحان نهاية الفصل الدراسي الأول - الدور الأول - العام الدراسي ٢٠١٣ / ٢٠١٤ م

الصف: الخامس | المادة: الدراسات الاجتماعية | الزمن: ساعة ونصف | الدرجة: ٤٠ درجة

إجابة السؤال الأول : (١٦ درجة ، لكل مفردة درجتان)

رقم المفردة	١	٢	٣	٤	٥	٦	٧	٨
رمز الإجابة	ب	أ	د	ب	أ	ج	ب	د
الإجابة	١٨٠	العراق	الجبل الخضر	الهضاب	الأزد	الجروف	الخليج العربي	التربة الرملية الصحراوية
الدرجة	٢	٢	٢	٢	٢	٢	٢	٢
الصفحة	١٦	١٤	٤٥	٣٥	١١	٢٤	٥٩	٦٢

إجابة السؤال الثاني : (٨ درجات)

م	الإجابة	الدرجة	الصفحة
أ	من أجل نشر الديانة النصرانية بين العرب والسيطرة على تجارة مكة وتحويل حج العرب الى كنيسة القليس التي بناها في صنعاء	١	٨٩
ب		١	٧٦
-١			
-٢			١
			٢٠
٣-	رقم (٢)	١	٥٩
٤-	الجزائر	١	١٧
ج	- الموارد المائية السطحية - الموارد المائية الجوفية	١	٥٨
د	خطوط الطول :عبارة عن أنصاف دوائر يبلغ عددها ٣٦٠ خطا (١٨٠ خطا شرقي غرينتش و ١٨٠ خطا غربي غرينتش) .	٢	١٦

إجابة السؤال الثالث: (٨ درجات)

أ-

م	الإجابة			الدرجة	الصفحة
	أسم المنطقة	نفوذ فارسي	نفوذ بيزنطي	٢	٧٨
	مصر		✓		
	العراق	✓			

ب-

الإجابة:		الدرجة	الصفحة
دول عرب الشمال	دول عرب الجنوب	٢	٧٦
المناذرة	سبأ		
الغساسنة	معين		


ج-

الإجابة		الدرجة	الصفحة
النهر	المصب	٢	٢٧-٢٨
النيل	البحر الأبيض المتوسط		
دجله والفرات	الخليج العربي		

د-

الخريف	٢	٥٥
--------	---	----

إجابة السؤال الرابع (٨ درجات)

م	الإجابة	الدرجة	الصفحة
أ	- الطقس : هو الأحوال الجوية لفترة قصيرة لا تزيد عن ٢٤ ساعة (يوم) وهو ما نلاحظه من مطر أو سحب أو ما نحس به من بروده أو حرارة أو رياح .	٢	٤٤
	- المناخ : هو متوسط حالة الجو لفترة طويلة قد تكون شهرا أو فصلا أو سنة أو أكثر .		
ب		١	٤١

ج:-

الدرجة	الصفحة	نوع المناخ السائد في الأماكن التالية :-
٣	٥٤/٤٩/٤٥	١- جبال ظفار (المناخ الموسمي) ٢- لبنان (مناخ البحر المتوسط) ٣- صحراء الربع الخالي (المناخ الصحراوي)

د-

الدرجة	الصفحة	الإجابة
٢	٦٠	بعض الحلول التي تسهم في حل مشكلة العجز المائي في الوطن العربي تحلية مياه البحر بواسطة محطات تستخدم الغاز الطبيعي والنفط . معالجة مياه الصرف الصحي والمياه العادمة واستخدامها في الري .

” نهاية نموذج الإجابة ”

إعداد وحدة إشراف مادة الدراسات الاجتماعية بمحافظة الظاهرة