



سلطنة عمان  
وزارة التربية والتعليم

المديرية العامة للتربية والتعليم محافظة ظفار

امتحان نهاية الفصل الدراسي للصف الخامس ( الأساسي / لعام )  
للعام الدراسي ١٤٣٥هـ / ١٤٣٦هـ - ٢٠١٣م / ٢٠١٤م  
الفصل الدراسي الثاني

المادة: الدراسات الاجتماعية الدرجة الكلية للامتحان : ٤٠ درجة زمن الإجابة : ساعة ونصف

الاسم الطالب/ة: ..... الصف : خامس / .....

تنبيه الاسئلة في اربع صفحات اجب عن جميع الاسئلة الاتية :

السؤال الأول:

١٦

ضع دائرة حول الرمز الدال على الاجابة الصحيحة من بين البدائل المعطاة أمامك:-

- ١- جامعة أنشأها هارون الرشيد ببغداد حيث نشطت فيها حركة الترجمة لعلوم اليونان والهند والصين هي بيت:  
أ. الحكمة      ب- الرشيد      ج- الجامعة      د- العلوم
- ٢- العامل الطبيعي المؤثر في توزيع السكان في الوطن العربي:  
أ. الحرفة السائدة      ب- الخدمات      ج- الهجرة      د- المناخ
- ٣- الدولة العربية التي تحتل المرتبة الاولى في انتاج النفط :  
أ. السعودية      ب- عمان      ج- العراق      د- الامارات
- ٤- الجهة الادارية التي تقوم بمهمة النظر في الاسواق ومراقبة الاسعار والموازن :  
أ. الوالي      ب- الحسبة      ج- القاضي      د- الوزير
- ٥- يتركز أغلب سكان سلطنة عمان في المناطق .  
أ. الجبلية الوعرة      ب- الساحلية والسهلية      ج- الصحراوية الرملية      د- الهضاب الداخلية الجافة
- ٦- يُعد الوطن العربي بالدرجة الأولى بـ:  
أ. صناعياً      ب- سياحياً      ج- زراعياً      د- تجارياً
- ٧- مدينة بناها القائد عقبة بن نافع في تونس ليكون الجند قرب خطوط القتال:  
أ. بغداد      ب- الفسطاط      ج- القيروان      د- البصرة
- ٨- من أهدافها تدارس قضايا المجتمع واستقبال الضيف:  
أ. مراكز الوفاء الاجتماعي      ب- المدارس      ج- جمعية المرأة العمانية      د- السبلة

أولاً :

أ- ما المقصود بـ: التعداد السكاني ؟

.....  
.....

ب- علل : يعد الغاز الطبيعي من الطاقة النظيفة ؟

.....

ثانياً :

( ذهبت عائلة أحمد إلى إحدى المراكز التجارية وعندما وصلوا إلى مواقف السيارات وقف أحمد بسيارته في موقف وجدت عليه هذه الصورة بحجة أنه لم يجد مواقف أخرى قريبة من باب المركز التجاري ) .

أ. فهل توافق أحمد على هذا السلوك ؟

.....

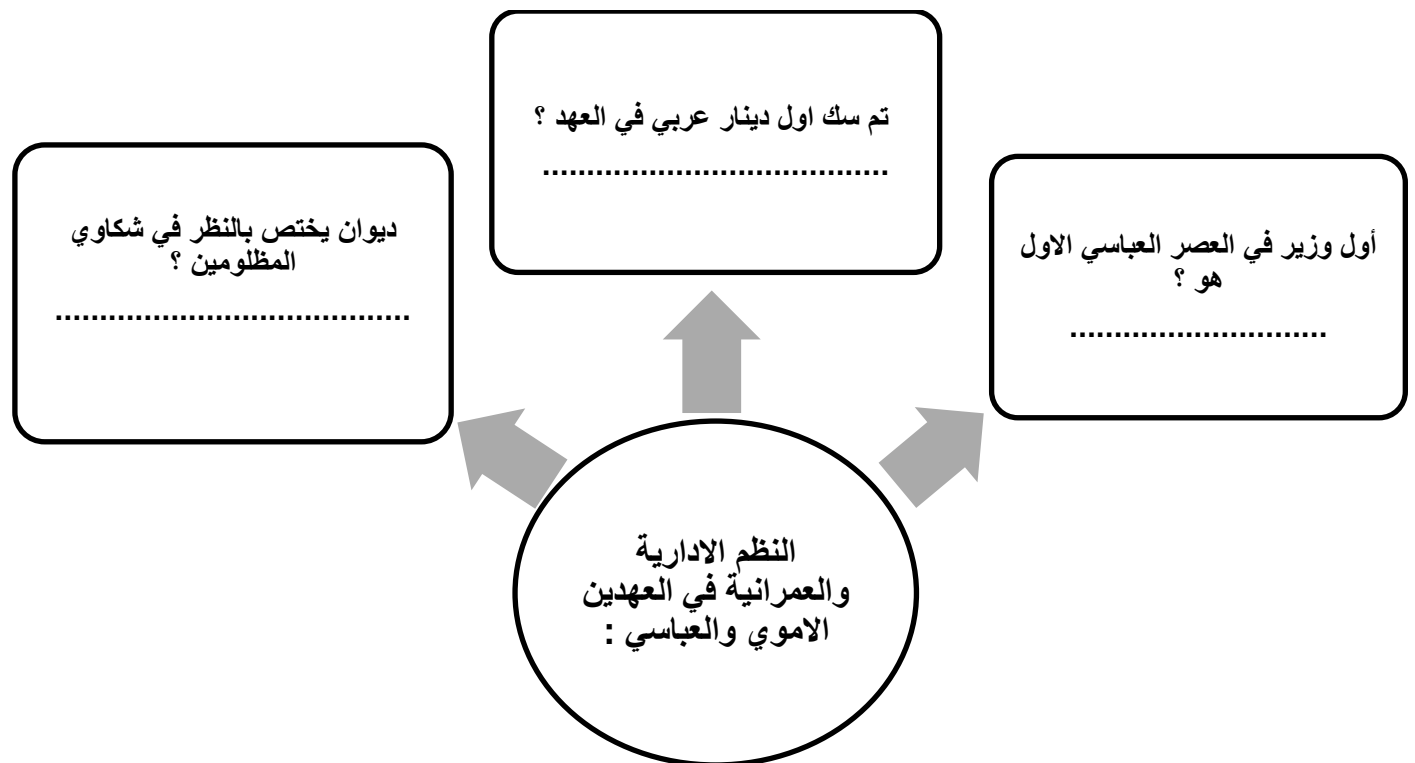
ب. ولماذا ؟

.....

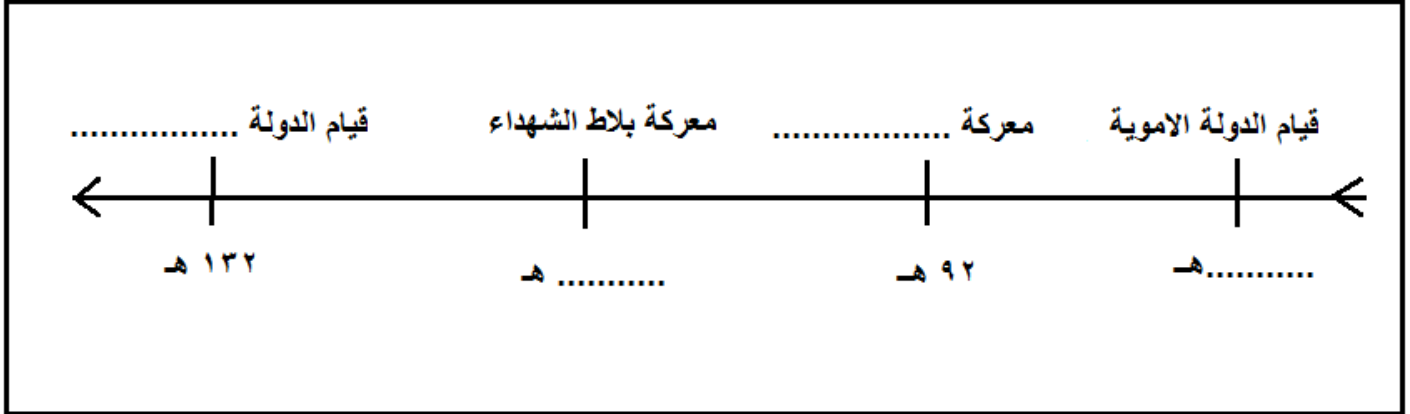


ثالثاً :

أكمل المخطط المفاهيمي التالي :



أولاً: أكمل البيانات المطلوبة في المسطرة الزمنية:

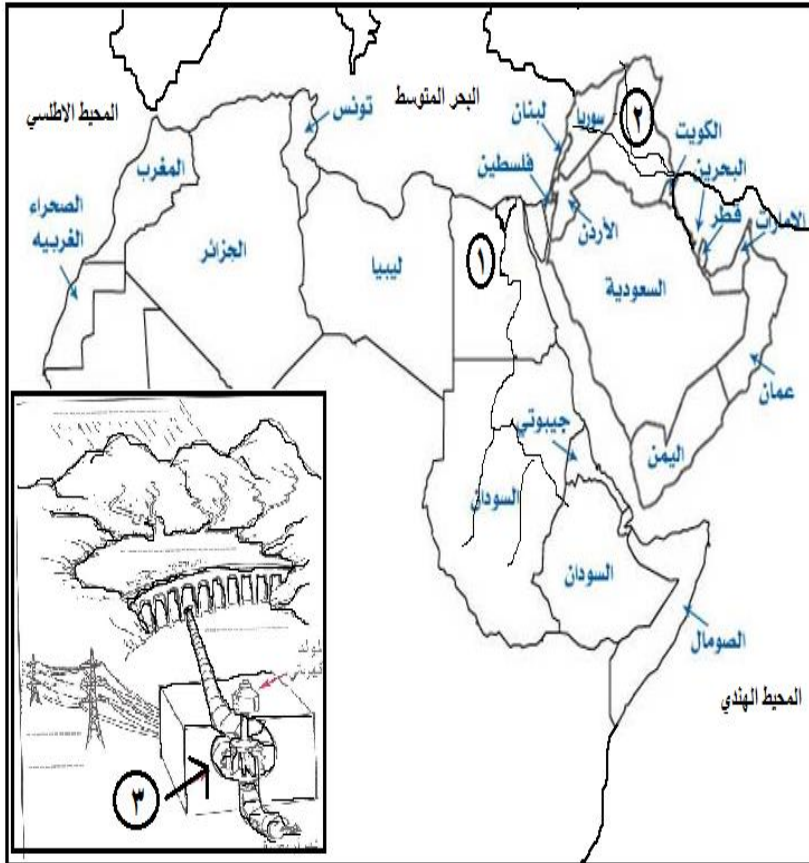


ثانياً:

- عدد اثنين من مصادر المياه الرئيسية في الوطن العربي؟

١- ..... ٢- .....

ثالثاً: تمعن في الخريطة الآتية والتي توضح الانهار في الوطن العربي ثم اجب عما يليها من اسئلة



١- يشير الرقم (١) الى نهر:

.....

٢- يشير الرقم (٢) الى نهر:

.....

٣- في هذه الدول يتم توليد الطاقة الكهربائية حسب

ما يشير اليه الرقم (٣) من مياه:

( أ ) .....

( ب ) مثال: .....

## السؤال الرابع :

٨

أولاً:

أ- حدد الفئات المستفيدة من الضمان الاجتماعي:

١- ..... ٢- .....

ب- من أين استمد العمانيون صفة التعاون والترابط فيما بينهم ؟

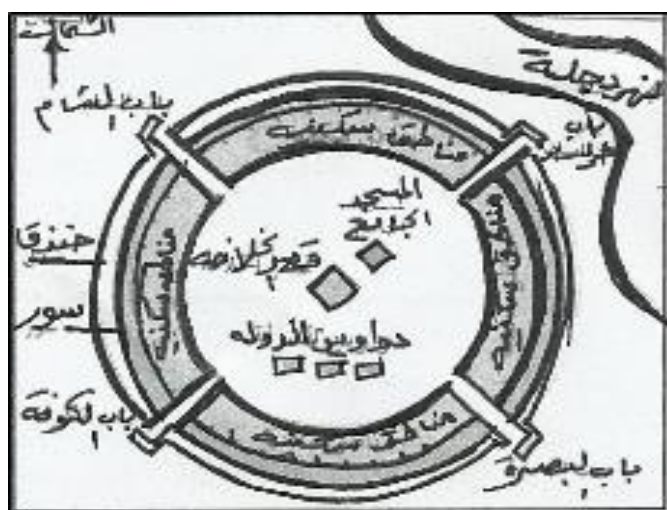
.....

ثانياً :

- صنف العوامل المؤثرة في قيام الصناعة إلى عوامل بشرية وطبيعية بوضع إشارة ( √ ) .

أوجه المقارنة	عوامل طبيعية	عوامل بشرية
راس المال		
مواد أولية		
الأسواق		

ثالثاً : يمثل الشكل الذي امامك مخططاً لإحدى المدن العربية تمنع فيه ثم اجب عما يليه من اسئلة :



١ - يمثل هذا المخطط مدينة .....

٢- علل :

-اختيار الخليفة ابو جعفر المنصور لهذا المكان لبناء عاصمته فيه :

.....

انتهت الأسئلة مع تمنياتنا لكم بالتوفيق والنجاح،،،



سلطنة عمان  
وزارة التربية والتعليم  
المديرية العامة للتربية والتعليم محافظة ظفار

نموذج إجابة امتحان نهاية الفصل الدراسي للصف الخامس للتعليم ( الأساسي / العام )  
للعام الدراسي ١٤٣٥ هـ / ١٤٣٦ هـ - ٢٠١٣ / ٢٠١٤ م  
الفصل الدراسي الثاني

المادة : الدراسات الاجتماعية      الدرجة الكلية : ٤٠ درجة      تنبيه : نموذج الإجابة في صفتين

اجابة السؤال الأول : ١٦ درجة ( كل مفردة درجتان )				
المفردة	البديل الصحيح	الدرجة	الصفحة	
١	أ	٢	٣٨	
٢	د	٢	٥٢	
٣	أ	٢	٨٢	
٤	ب	٢	٣٣	
٥	ب	٢	٥٣	
٦	ج	٢	٦٨	
٧	ج	٢	١٥	
٨	د	٢	١٢١	

اجابة السؤال الثاني : ٨ درجات				
الجزئية	المفردة	الاجابة الصحيحة	الدرجة	الصفحة
أولاً	أ	التعداد السكاني : عملية جمع واعداد المعلومات السكانية والاقتصادية و الاجتماعية المتعلقة بجميع الافراد في دولة معينة بفترة معينة	١	٤٤
	ب	لانه عند احترافه لا تظهر الملوثات مثلما يحدث للنفط .	١	٨٤
ثانياً	أ	- لا. (درجة) -هذا تصرف غير مقبول لأن وجود هذه الصورة في الموقف يعني أن المكان لذوي الاحتياجات الخاصة . ( مايفيد المعنى ) ( درجتان )	٣	١١٠
	ب	- اول وزير بالعصر العباسي الاول : جعفر البرمكي . - تم سك اول دينار عربي بالعهد : الاموي . - الديوان الذي يختص بالنظر في شكاوي المظلومين : ديوان المظالم . ( لكل اجابة درجة )	٣	٢٣ ٢٠ ٣٢

اجابة السؤال الثالث: ٨ درجات				
الصفحة	الدرجة	الاجابة الصحيحة	المفردة	الجزئية
١٠ ١٧ ١٧ ٢٧	٤	قيام الدولة الاموية ( ٤١هـ ) / معركة شريش ( ٩٢هـ ) معركة بلاط الشهداء ( ١١٤هـ ) / قيام الدولة العباسية ( ١٣٢هـ ) ( لكل حدث درجة )	-	أولاً
٦٩	١	الأمطار ، الأنهار ، المياه الجوفية . يكتفى بذكر اجابتان لكل نصف درجة .	-	ثانياً
٨١	٣	رقم ١ يشير الى نهر النيل . درجة	١	ثالثاً
		رقم ٢ يشير الى نهر دجلة والفرات . درجة	٢	
		يتم توليد الكهرباء من : مياه السودان نصف درجة	أ	
		مثال السد العالي بمصر / سد الفرات يكتفى بذكر احداها . نصف درجة	ب	

اجابة السؤال الرابع:- ٨ درجات																
الصفحة	الدرجة	الاجابة الصحيحة	المفردة	الجزئية												
١٠٧	٢	الأيام ، العجزة ، الأرامل ، المطلقات ، كبار السن ، أسر السجناء . ( يُكتفى بذكر اجابتان فقط ] لكل اجابة درجة	أ	أولاً												
١١٧	١	من الدين الاسلامي الحنيف	ب													
٧٥ ٧٧	٣	<table border="1"> <thead> <tr> <th>عوامل بشرية</th> <th>عوامل طبيعية</th> <th>أوجه المقارنه</th> </tr> </thead> <tbody> <tr> <td>√</td> <td></td> <td>راس المال</td> </tr> <tr> <td></td> <td>√</td> <td>مواد أوليه</td> </tr> <tr> <td>√</td> <td></td> <td>الأسواق</td> </tr> </tbody> </table>	عوامل بشرية	عوامل طبيعية	أوجه المقارنه	√		راس المال		√	مواد أوليه	√		الأسواق	-	ثانياً
عوامل بشرية	عوامل طبيعية	أوجه المقارنه														
√		راس المال														
	√	مواد أوليه														
√		الأسواق														
٣٤	٢	مخطط مدينة بغداد . درجة واحدة	١	ثالثاً												
		حتى يكون بين انصاره بالعراق . درجة واحدة	٢													