

السؤال الأول: (١٦ درجة)

إخترا لإجابة الصحيحة من بين البدائل المعطاة بوضع دائرة حول رمز الإجابة الصحيحة :

١ - يشير السهم في الخريطة التي امامك الى :



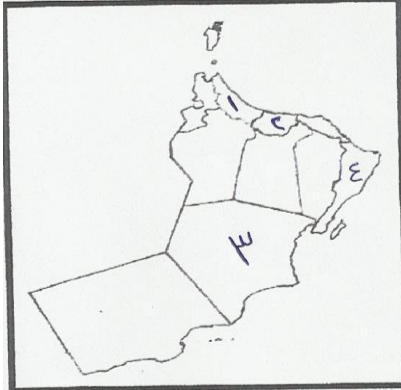
أ () دائرة الاستواء .

ب () مدار الجدي .

ج () مدار السرطان .

د () خط غرينيتش .

٢ - الرقم الذي يشير الى الهضبة الصحراوية التي يستخرج منها النفط في السلطنة هو :



أ () ١

ب () ٢

ج () ٣

د () ٤

٣ - من المدن الحديثة التي ظهرت في الصحراء بعد اكتشاف النفط مدينة الأحمدى في دولة :

أ () الامارات . ب () البحرين . ج () السعودية . د () الكويت .

٤ - الخليفة الراشدي الذي شهدت خلافته أكبر الفتوحات الاسلامية هو :

أ () أبو بكر الصديق . ب () عمر بن الخطاب .

ج () عثمان بن عفان . د () علي بن أبي طالب .

تابع السؤال الاول :

٥- نوع المناخ السائد في المحافظة المظللة على الخريطة هو :

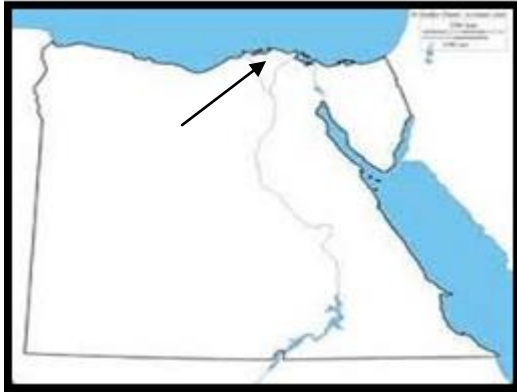


- (أ) مناخ البحر المتوسط .
- (ب) المناخ الموسمي .
- (ج) المناخ الاستوائي .
- (د) المناخ الصحراوي .

٦- تسمى الأشكال الرملية الكبرى التي تكاد تخلو دول شبه الجزيرة العربية منها :

- (أ) الكثبان الطولية .
- (ب) الكثبان الهلالية .
- (ج) الجروف .
- (د) العرق .

٧ - الدلتا المشار اليها بالسهم على الخريطة هي :



- (أ) دلتا النيل .
- (ب) دلتا الرافدين .
- (ج) دلتا سبو .
- (د) دلتا ام الربيع .

٨- من غزوات النبي صلى الله عليه وسلم مع المشركين غزوة أحد التي وقعت في :

- (أ) ٣ هـ
- (ب) ٤ هـ
- (ج) ٥ هـ
- (د) ٦ هـ

السؤال الثاني (٨ درجات)

(أ) صنف السهول الآتية حسب معطيات الجدول :

(سهل الباطنة - سهل الجزيرة - سهل تهامة - سهل البطانة) ؟

سهول داخلية	سهول ساحلية
.....
.....

(ب) فسر: توافد الزوار على محافظة ظفار في فصل الصيف؟

.....
.....

(ج) عرف المناخ؟

.....
.....

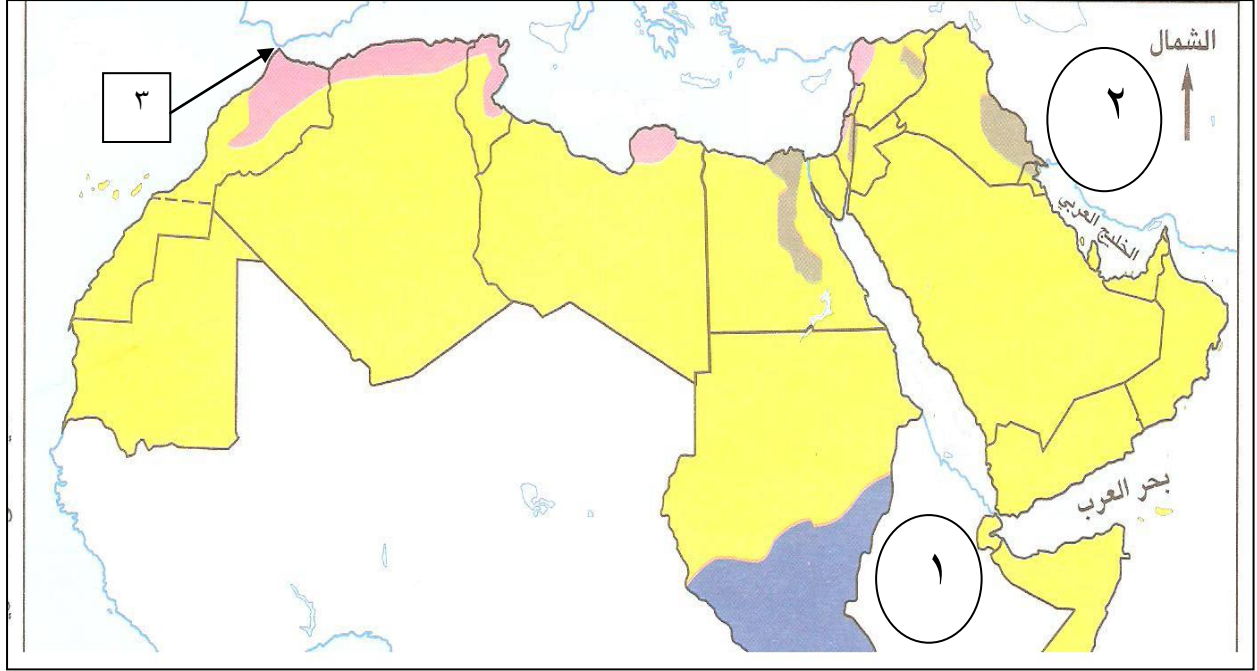
(د) يقسم خط الطول الرئيسي (غرينتش) الكرة الأرضية الى قسمين . ما هما؟

١-.....

٢-.....

السؤال الثالث (٨ درجات) :

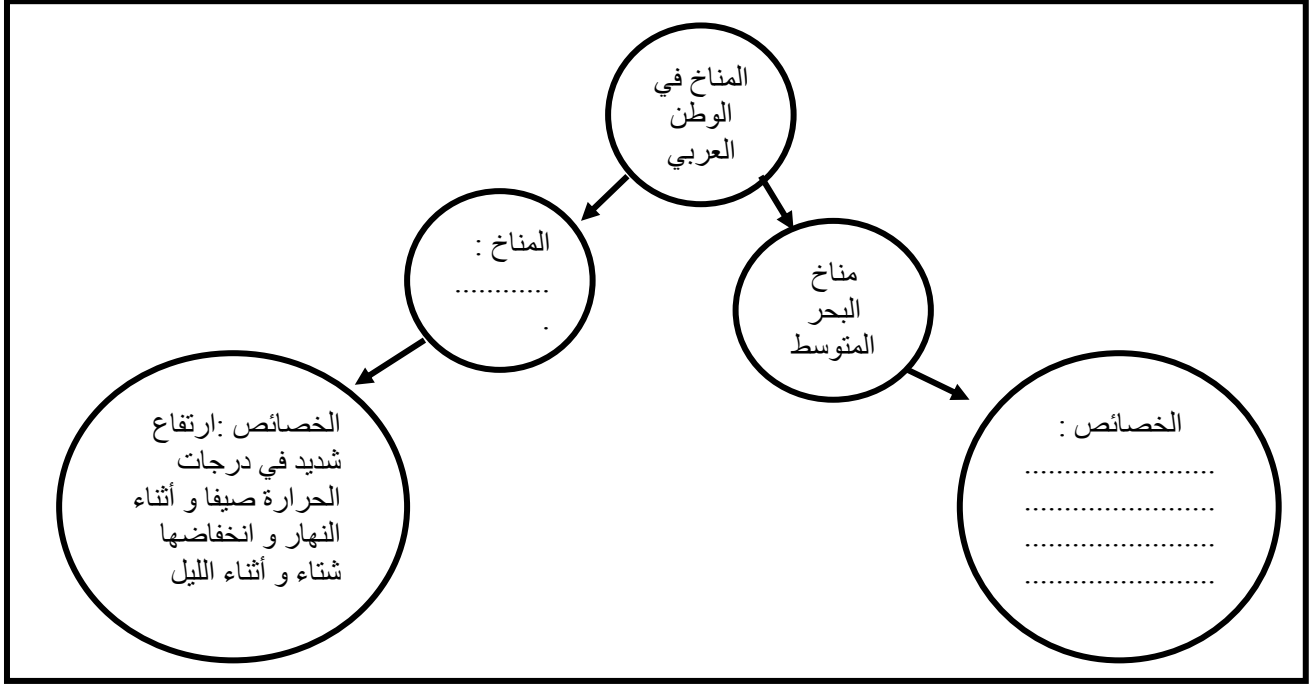
أ . أمامك خريطة الوطن العربي ادرسها جيدا ثم اجب عن الأسئلة التي تليها :



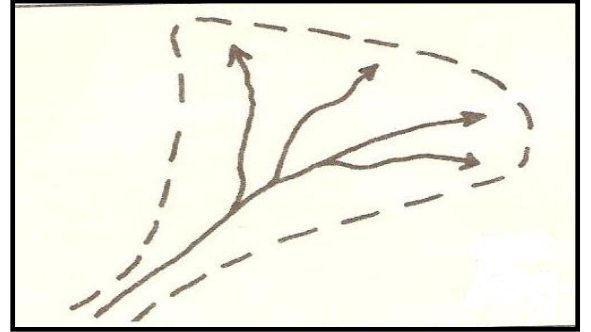
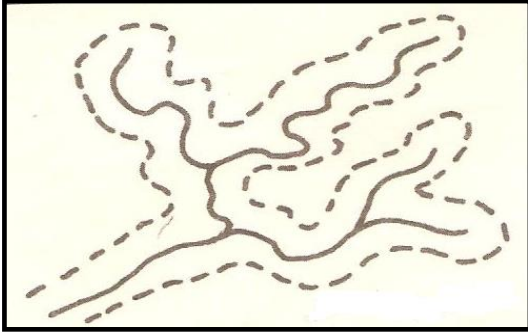
- ١ - سمي المضيق المشار إليه بالرقم (٣) ؟
 - ٢ - ظل موقع جبال حجر عمان على الخريطة ؟
 - ٣ - استخدم الرمز بين القوسين (•) في تحديد موقع المدينة التي دخلها المسلمون في عام ٨ هجري؟
 - ٤ - ما الرقم الذي يشير الى الامبراطورية الفارسية في الخريطة ؟
- (ب) شهدت خلافة أبي بكر الصديق رضي الله عنه حدثين مهمين كان لهما دورا في توحيد المسلمين . اذكرهما ؟
- ١ -
 - ٢ -

تابع السؤال الثالث :

(ج) أكمل الشكل التالي ؟



(د) أمامك شكلين للدالات النهرية ، اكتب تحت كل شكل الاسم الدال عليه ؟



السؤال الرابع (٨ درجات)

أ- بما تفسر انخفاض عدد السكان والمراكز العمرانية في السهول الداخلية ؟

.....

.....

يتبع ،،،،،،

(٥)

تابع السؤال الرابع :

ب- ما النتائج المترتبة على سقوط كميات غزيرة من الأمطار على الصحاري في فترات
زمنية قصيرة ؟

.....
.....

ج) رتب الأحداث التاريخية الآتية ترتيبا تصاعديا :

غزوة بدر الكبرى - حجة الوداع - هجرة الرسول عليه الصلاة والسلام - صلح الحديبية

..... ١

..... ٢

..... ٣

..... ٤


د) " والله لو منعوني عقال بغير كانوا يؤدونه لرسول الله لحاربتهم ، أو أهلك دونه"

- من قائل المقولة السابقة وما مناسبتها ؟

.....

.....

،، إنتهت الأسئلة مع تمنياتنا للجميع بالتوفيق والنجاح ،،



بِسْمِ اللَّهِ الرَّحْمَنِ الرَّحِيمِ

" رَبِّهِ أَهْرَافُ لِي سَدْرِي وَيَسْرُ لِي أَفْرِي "



سَيَّاطَنَةُ عُمَانَ
وَزَاوَةُ الرَّبِّيَّةِ وَالْحَلِيمَةِ

المديرية العامة للتربية والتعليم لمحافظة الظاهرة

دائرة القويم التربوي

نموذج إجابة امتحان نهاية الفصل الدراسي الأول - الدور الأول - العام الدراسي ٢٠١٤/٢٠١٥م

الصف: الخامس المادة: الدراسات الاجتماعية الزمن: ساعة ونصف الدرجة: ٤٠ درجة

إجابة السؤال الأول: (١٦ درجة ، لكل مفردة درجتان)

رقم المفردة	١	٢	٣	٤	٥	٦	٧	٨
رمز الإجابة	أ	ج	د	ب	ب	د	أ	أ
الإجابة	دائرة الاستواء	٣	الكويت	عمر بن الخطاب	المناخ الموسمي	العرق	دلتا النيل	٣ هـ
الدرجة	٢	٢	٢	٢	٢	٢	٢	٢
الصفحة	١١	٣١	٤٩	٩٨	٥١	٣٥	١٨	٨٨

نموذج إجابة امتحان نهاية الفصل الدراسي الأول - الدور الأول - الدراسات الاجتماعية - الصف الخامس - العام الدراسي ٢٠١٤/٢٠١٥ م

إجابة السؤال الثاني : (٨ درجات)

م	الإجابة	الدرجة	الصفحة
أ	السهول الساحلية	٢ لكل مفردة نصف درجة	١٨
	السهول الداخلية		
	سهل الباطنة		
	سهل تهامة		
ب	بسبب هطول الأمطار و المناظر الطبيعية الخلابة و المناخ اللطيف مع مراعاة إجابة الطالب	٢	٥٣
ج	متوسط حالة الجو لفترة زمنية طويلة قد تكون شهرا أو فصل أو سنة أو أكثر	٢	٤١
د	نصف الكرة الشرقي - نصف الكرة الغربي	٢	١١

السؤال الثالث (٨ درجات)

م	الإجابة	الدرجة	الصفحة
أ	 <p>١ - مضيق جبل طارق</p> <p>٢ - يظل موقع الجبال على الخريطة في الموقع المناسب مع مراعاة إجابة الطالب</p> <p>٣ - يضع الرمز ● على موقع مكة المكرمة في الخريطة مع مراعاة إجابة الطالب</p> <p>٤ - رقم ٢</p>	<p>نصف درجة ١٦</p> <p>نصف درجة ٢٧</p> <p>نصف درجة ٩٠</p> <p>نصف درجة ٨١</p>	
ب	<p>١ - القضاء على حركة الردة</p> <p>٢ - بدء الفتوحات الإسلامية</p>	٢	٩٤
ج	 <p>المناخ في الوطن العربي</p> <p>المناخ الصحراوي</p> <p>مناخ البحر المتوسط</p> <p>الخصائص: ارتفاع شديد في درجات الحرارة صيفا و أثناء النهار و انخفاضها شتاء و أثناء الليل</p> <p>الخصائص: حار و جاف صيفا و معتدل و ممطر شتاء</p> <p>مع مراعاة إجابة الطالب</p>	٢	٤٦-٤١
د	 <p>شکل أرجل الطائر</p> <p>الشكل المثلي</p>	٢	٢٤

إجابة السؤال الرابع (٨ درجات)

م	الإجابة	الدرجة	الصفحة
أ	بسبب قلة الأمطار و الجفاف	٢	١٨
ب	تكون السيول و الأودية الجارفة و الفيضانات المدمرة	٢	٤٦
ج	١ - هجرة الرسول ٢ - غزوة بدر ٣ - صلح الحديبية ٤ - حجة الوداع	٢	٩٢-٨٥
د	القائل : أبو بكر الصديق المناسبة : الرد على طلب الصحابة بعدم محاربة المرتدين	٢	٩٥

” نهاية نموذج الإجابة ”