

بِسْمِ اللَّهِ الرَّحْمَنِ الرَّحِيمِ

" رَبِّ اجْتَنِبْ لِي حَذْرِي وَيَسِّرْ لِي أَمْرِي "



مِنَاطِنَةُ عُمَانَ
وَدَارَةُ التَّرْبِيَةِ وَالتَّحْلِيمِ
المديرية العامة للتربية والتعليم لمحافظة الظاهرة
دائرة التقويم التربوي

امتحان نهاية الفصل الدراسي الأول - الدور الأول - العام الدراسي ٢٠١٤ / ٢٠١٥ م

الصف: السادس	المادة: الدراسات الاجتماعية	الزمن: ساعة ونصف	الدرجة: ٤٠ درجة
--------------	-----------------------------	------------------	-----------------

تنبيه:

- الاسئلة في (٥) صفحات .
- الاجابة في نفس الورقة .

رقم السؤال	الدرجة بالأرقام	الدرجة بالحروف	اسم وتوقيع المصحح	ملاحظات
الأول				
الثاني				
الثالث				
الرابع				
المجموع الكلي				

اسم الطالب /


الصف / الشعبة / ()

المدرسة /

الصف / السادس المادة / الدراسات الاجتماعية

السؤال الأول: (٦ درجات)

اختر الإجابة الصحيحة من بين البدائل المعطاة التي أمامك:



١- الصورة التي أمامك تشير إلى أحد أغلفة النظام الأرضي :-

ب- المائي

أ- الصخري

د- الجوي

ج- الحيوي

٢- مبنى سكني يبلغ ارتفاعه ١٥٠ متر، فإذا كانت درجة الحرارة على سطح الأرض ٢٠° س ،

فكم ستكون درجة الحرارة في أعلى المبنى ؟:

ب - ١٧° س

أ - ١٦° س

د- ١٩° س

ج - ١٨° س

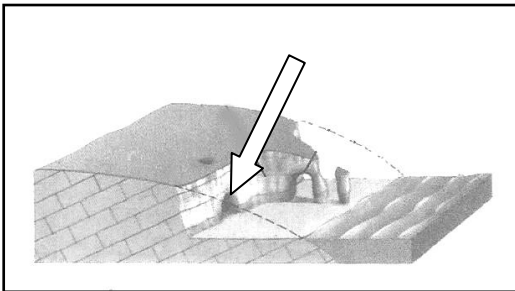
٣- عندما تنهار المباني وأغصان الأشجار تكون قوة الزلزال ما بين:

ب- ٣،٥ - ٥

أ- أقل من ٣،٥

د- ٦-٧

ج- ٥-٦



٤- يشير السهم في الشكل الذي أمامك إلى:

ب- مسلة صخرية

أ- كهف

د- قنطرة (قوس)

ج- جرف

امتحان نهاية الفصل الدراسي الأول - الدور الأول - العام الدراسي ٢٠١٤ / ٢٠١٥ م

٥- مؤسس الدولة الأموية في الأندلس:-

أ- الوليد بن عبد الملك

ب- عبد الرحمن بن معاوية

ج- معاوية بن أبي سفيان

د- عبد الملك بن مروان

٦- تمكن زعيم المرابطين يوسف بن تاشفين عام ٤٧٩ هـ من دخول الأندلس والانتصار على الأسبان

في موقعة:-

أ- الزلاقة

ب- بلاط الشهداء

ج- الإرك

د- القادسية

٧- تعد طبقة الاستراتوسفير مهمة لحياة الإنسان ، لكونها تحتوي على غاز يقي الإنسان من الأشعة

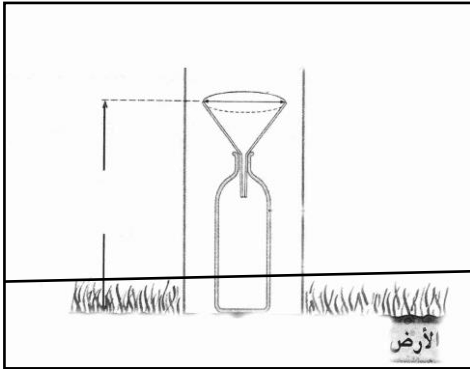
الخطيرة على صحته هو :-

أ- النيتروجين

ب - الهيدروجين

ج- الأوزون

د- ثاني أكسيد الكربون



٨- يشير الشكل الذي أمامك إلى جهاز قياس:-

أ - الحرارة

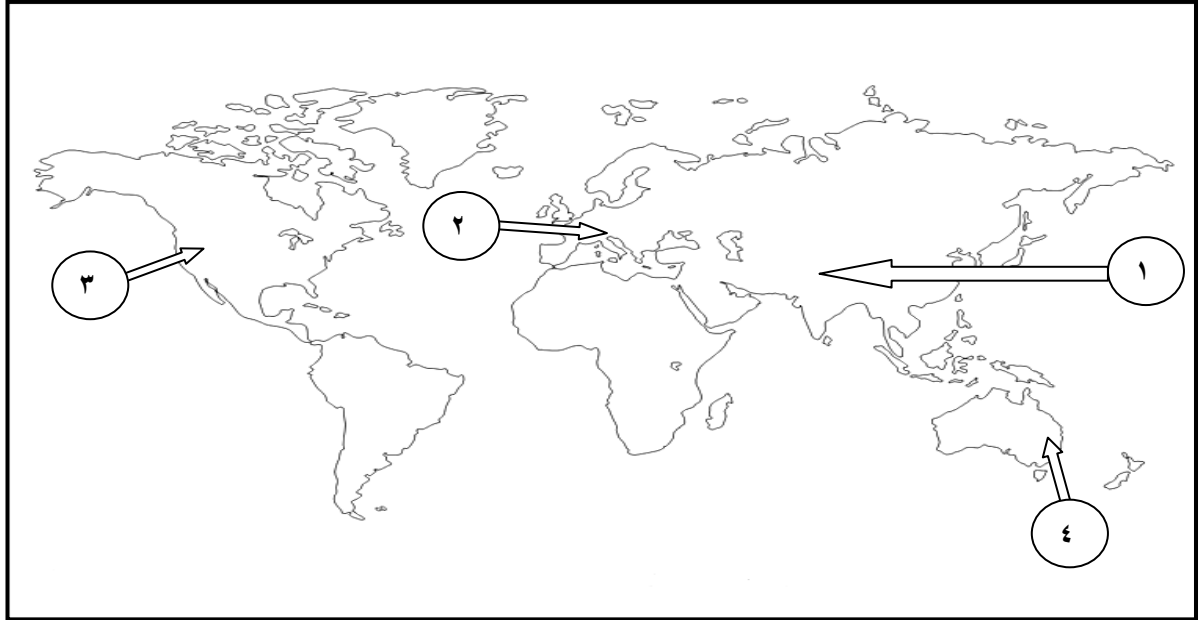
ب- المطر

ج- الضغط الجوي

د- الرياح

السؤال الثاني: (٨ درجات)

أ- انظر إلى خريطة الجبال في العالم التي أمامك ، وأجب عن الأسئلة التي تليها:-



١- يشير الرقم (١) في الخريطة إلى جبال

٢- اكتب على الخريطة (جبال الأنديز) في موقعها الصحيح.

٣- الرقم الذي يشير إلى جبال الألب في الخريطة هو

٤- ظلل على الخريطة القارة التي يوجد بها جبال الأطلس .

ب- عرف كل مما يلي :-

١-الزلازل:-----

٢-المناخ:-----

امتحان نهاية الفصل الدراسي الأول - الدور الأول - العام الدراسي ٢٠١٤ / ٢٠١٥ م

ج- اذكر اثنين من أهم المشكلات البيئية التي ظهرت بسبب تزايد أعداد السكان والإفراط في استغلال الموارد الطبيعية .

..... (١)

..... (٢)

السؤال الثالث: (٨ درجات)

أ- علل : محاولة شارلمان غزو الأندلس.

ب- انظر إلى الشكل الذي أمامك ، والذي يمثل المناطق الحرارية في العالم ، ثم أكتب المصطلحات

التالية في مواقعها الصحيحة عليه :

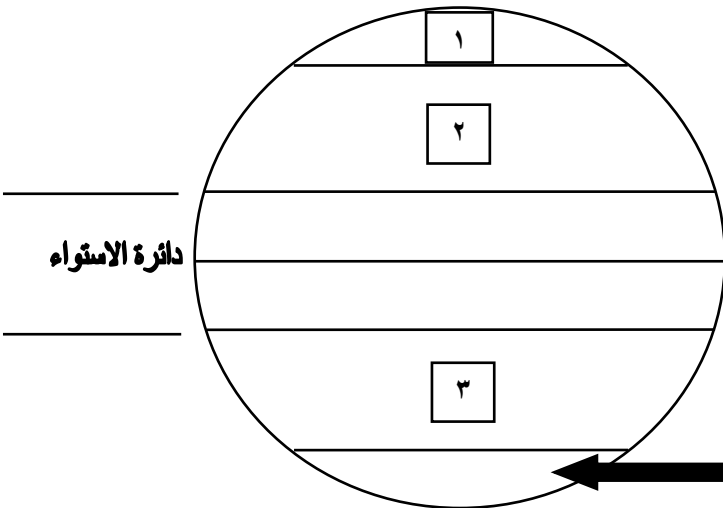
(١) ظل المنطقة المدارية في الشكل المقابل.

(٢) الرقم الذي يشير إلى المنطقة المعتدلة الشمالية في الشكل المقابل

(٣) اكتب مدار الجدي في موقعه الصحيح.

(٤) سم المنطقة المدارية المشار إليها بالسهم

في الشكل المقابل.....



امتحان نهاية الفصل الدراسي الأول - الدور الأول - العام الدراسي ٢٠١٤ / ٢٠١٥ م

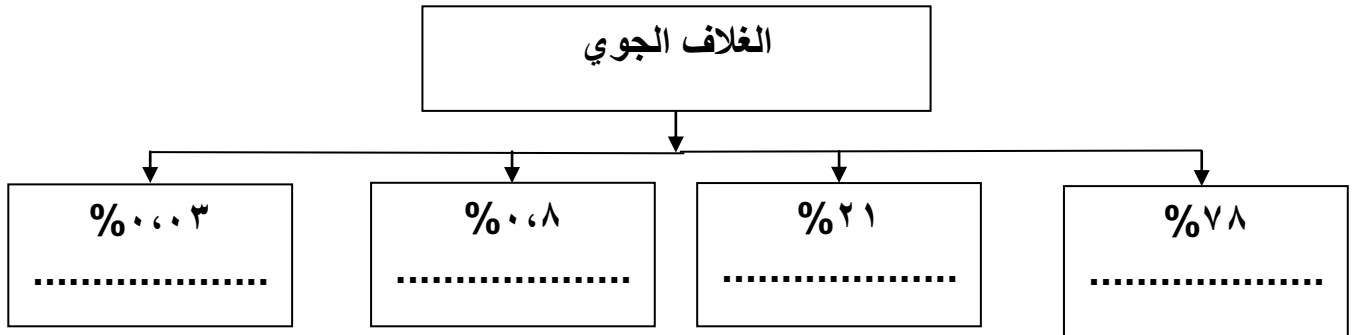
ج- استنتج اثنين من العوامل التي دفعت الإباضية لاختيار مدينة تاهرت عاصمة للدولة الرستمية .

السؤال الرابع: (٨ درجات)

أ- أكمل البيانات المطلوبة في الجدول التالي حول الدول الإسلامية المستقلة عن الدولة العباسية :

العاصمة	اسم الدولة
.....	امامة عمان
القاهرة

ب- أكمل البيانات المطلوبة حول الغازات المكونة للغلاف الجوي :-



ج - اكتب اثنين من عوامل ضعف الدولة الفاطمية .

انتهت الأسئلة مع التمنيات للجميع بالتوفيق والنجاح



بِسْمِ اللَّهِ الرَّحْمَنِ الرَّحِيمِ

" رَبِّ اجْعَلْ لِي قَلْبًا عَاقِلًا " رَبِّ اجْعَلْ لِي قَلْبًا عَاقِلًا " رَبِّ اجْعَلْ لِي قَلْبًا عَاقِلًا "

مِنَاطِنَةُ عُثْمَانَ
وَأَذَانَ الرَّبِيعِ وَالْحَلِيمِ
المديرية العامة للتربية والتعليم محافظة الظاهرة
دائرة التقويم التربوي

نموذج إجابة امتحان نهاية الفصل الدراسي الأول - الدور الأول - العام الدراسي ٢٠١٤ / ٢٠١٥ م

الصف : السادس

المادة : الدراسات الاجتماعية

الزمن : ساعة ونصف

الدرجة : ٤٠ درجة

الدرجة	الصفحة	الإجابة									
		إجابة السؤال الأول (١٦ درجة) كل مفردة بدرجتين									
		رقم المفردة	١	٢	٣	٤	٥	٦	٧	٨	التجميع
		رمز الإجابة	أ	د	د	أ	ب	أ	ج	ب	
		الإجابة الصحيحة	الصخري	١٩ س	٧	كهف	عبدالرحمن	موقعة	الأوزون	المطر	
		الدرجة	٢	٢	٢	٢	٢	٢	٢	٢	١٦
		الصفحة	١٣	٩٧	١٧	٤١	٥٤	٦٠	٩٨	١١٤	
		إجابة السؤال الثاني (٨ درجات)									
		١ - (٤ درجات لكل مفردة درجة)									
١	٢٥	أ- خريطة توزيع السلاسل الجبلية في العالم صفحة ٢٥ :-									
١	٢٥	١- الهملايا.									
١	٢٥	٢- يكتب الطالب على الخريطة (جبال الأنديز).									
١	٢٥	٣- الرقم ٢ (جبال الألب) .									
١	٢٥	٤- تظليل قارة أفريقيا (التي تقع فيها جبال الأطلس) .									

		الإجابة ٢- عرف كل مما يلي :- (لكل مفردة درجة)
١	١٦	أ- الزلازل :- هي عبارة عن هزات أرضيه قصيرة وسريعة متتالية تضرب الأرض بسبب تصادم الصفائح .
١	١٠١	ب-المناخ : حالة الجو خلال فترة زمنية طويلة قد تكون شهرا أو فصلا أو سنة أو عدة سنوات.
٢	١٢	ج - أهم المشكلات البيئية التي ظهرت بسبب تزايد أعداد السكان والأفراط في استغلال الموارد الطبيعية :- - تلوث المياه (الغلاف المائي) . - تلوث الهواء (الغلاف الجوي) . - تدهور النباتات الطبيعية والحياة البرية (الغلاف الحيوي) . - انجراف التربة وتزايد الانهيارات الأرضية (الغلاف الصخري) . (يكتفى بذكر اثنين بدرجتين لكل مفردة درجه)
٢	٥٧	إجابة السؤال الثالث: (٨ درجات) أ - علل لكل من ما يلي :- (لكل مفردة درجه) - طمعا في طرد المسلمين منها وضمها إلى دولته .
١	١٠٣	ب - شكل المناطق الحرارية في العالم (٤ درجات لكل مفردة درجة) :- ١- تظليل المنطقة المدارية . ٢- الرقم ٢ (المنطقة المعتدلة الشمالية) . ٣- كتابة مدار الجدي في المكان الصحيح . ٤- المنطقة الباردة الجنوبية .
٢	٧٥	ج- اثنين من العوامل التي دفعت الإباضية لاختيار مدينة تاهرت عاصمة للدولة الرستمية : - موقع مدينة تاهرت في منطقة جبلية داخلية غنية بمصادر المياه . - محاطة بقبائل بربرية إباضية . - بعيدة عن خطر الدولة العباسية . - موقعها المتوسط يسهل اتصالها بالجماعات الإباضية . - السيادة التجارية . (يكتفى بذكر اثنين بدرجتين)

السؤال الرابع: (٨ درجات)

أ- اكمل الجدول حول الدول الإسلامية المستقلة عن الدولة العباسية. (لكل مفردة درجة)

٥٢

١

العاصمة	اسم الدولة
نزوى	----
----	الدولة الفاطمية

١

ب- البيانات المطلوبة حول الغازات المكونة للغلاف الجوي:

(اربع درجات كل مفردة بدرجة)

٩٤

١

١- النيتروجين

١

٢- الأوكسجين

١

٣- الأرجون

١

٤- ثاني أكسيد الكربون.

٩١

ج - عوامل ضعف الدولة الفاطمية: (درجتين)

- تولي خلفاء ضعاف دون سن الرشد.

- سيطرة الوزراء على شؤون الدولة .

- تعرض مصر سنة ٤٥٤ هـ إلى مجاعة ووباء دام ثماني سنوات .

- انفصال بعض الأقاليم الخاضعة للدولة .

٢

(يكتفى بذكر اثنين بدرجتين)

نهاية نموذج الإجابة

إعداد وحدة الدراسات الاجتماعية