



مِنَاظِنَةُ عُمَانِ
وَزَارَعَةُ التَّرْبِيَةِ وَالتَّعْلِيمِ
المديرية العامة للتربية والتعليم بمحافظة مسقط
دائرة التقويم التربوي
قسم الاختبارات والمقاييس

امتحان الصف الخامس
للعام الدراسي ١٤٣٥/١٤٣٦ هـ - ٢٠١٤/٢٠١٥ م
الدور الأول - الفصل الدراسي الأول

- عدد صفحات أسئلة الامتحان: (٥).
- الإجابة في الورقة نفسها.

- المادة: الدراسات الاجتماعية
- زمن الإجابة: ساعة ونصف

اسم الطالب	
المدرسة	
الصف	

السؤال	الدرجة بالأرقام (بالأحمر)		الدرجة بالحروف (بالأحمر)	(التوقيع بالاسم)	
	آحاد	عشرات		المصحح (بالأحمر)	المدقق (بالأخضر)
١					
٢					
٣					
٤					
المجموع			جمعه (بالأحمر)	مراجعة الجمع والتشطيب (بالأزرق)	
المجموع الكلّي					

(١)

امتحان الصف الخامس

للعام الدراسي ١٤٣٥/١٤٣٦ هـ - ٢٠١٤/٢٠١٥ م

الدور الأول - الفصل الدراسي الأول

المادة: الدراسات الاجتماعية

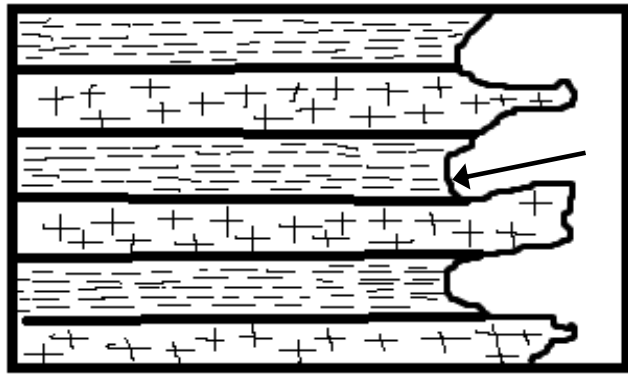
السؤال الأول: ضع دائرة حول رمز الإجابة الصحيحة من بين البدائل المعطاة فيما يلي:

١ - من القارات التي يقع فيها الوطن العربي :

أ - أمريكا الشمالية ب - آسيا ج - أوروبا د - أمريكا الجنوبية

٢ - الدولة التي تقع فيها سهول الرافدين :

أ - مصر ب - الجزائر ج - العراق د - سلطنة عمان

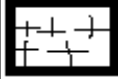


٣ - المنطقة المشار إليها بالسهم (←)

في الشكل المقابل تعرف ب :

أ - الرأس ب - الجرف
ج - الخليج د - الدلتا

صخور
صلبه



صخور
لينه



٤ - يطلق على الجبال المتصلة ببعضها بعضا :

أ - السفوح ب - الهضاب ج - المرتفعات د - السلسلة

٥ - الشهران الأعلى معدلا في كمية تساقط الأمطار في مدينة سيق حسب الجدول :

الشهر	يناير	فبراير	مارس	إبريل	مايو	يونيو	يوليو	أغسطس	سبتمبر	أكتوبر	نوفمبر	ديسمبر
الأمطار	٢٣	٤٦	٥٨	٣٧	٢٦	١٣	٤٧	٥٩	٢٦	٨	٦	١١

أ - (فبراير ، سبتمبر) ب - (مارس ، أغسطس) ج - (أكتوبر ، نوفمبر) د - (يونيو ، يوليو)

٦ - اللقب الذي يطلق على ملك الفرس :

أ - السلطان ب - إمبراطور ج - كسرى د - القيصر

٧ - السنة التي توفي فيها الرسول محمد صلى الله عليه وسلم :

أ - ١٠ هجرية ب - ١١ هجرية ج - ١٢ هجرية د - ١٣ هجرية

يتبع/٢

(٢)

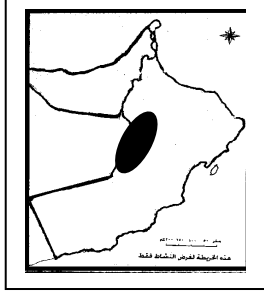
امتحان الصف الخامس

للعام الدراسي ١٤٣٥/١٤٣٦ هـ - ٢٠١٤/٢٠١٥ م

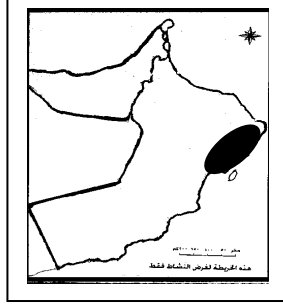
الدور الأول - الفصل الدراسي الأول

المادة: الدراسات الاجتماعية

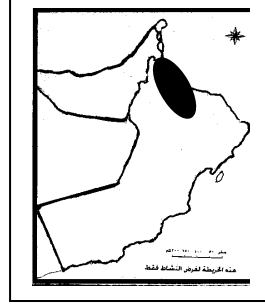
٨ - الخريطة التي توضح المحافظة التي تتأثر بالمناخ الموسمي صيفا في سلطنة عمان :



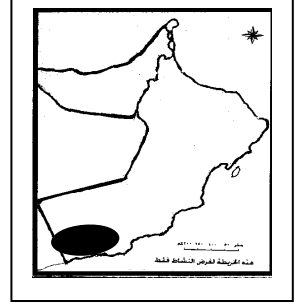
(د)



(ج)



(ب)



(أ)

السؤال الثاني:

١ - ما المقصود بكل مما يلي :

أ - المناخ :

ب - الهضبة :

٢ - أ - أختَر من بين القوسين السنة الهجرية التي تناسب الحدث التاريخي المذكور ، وأكتبها في الجدول:

(٣هـ ، ٤هـ ، ٦هـ ، ٩هـ)

الحدث التاريخي	السنة الهجرية
غزوة أحد	
صلح الحديبية	
عام الوفود	

ب - بم تفسر استغلال السهول الساحلية منذ القدم في الزراعة ؟

٣ - صنف السهول التالية في الجدول إلى سهول ساحلية وسهول داخلية :

(سهل الباطنة ، سهل البطانه ، سهل السبو ، سهول حوران)

سهول ساحلية	سهول داخلية

(٣)

امتحان الصف الخامس

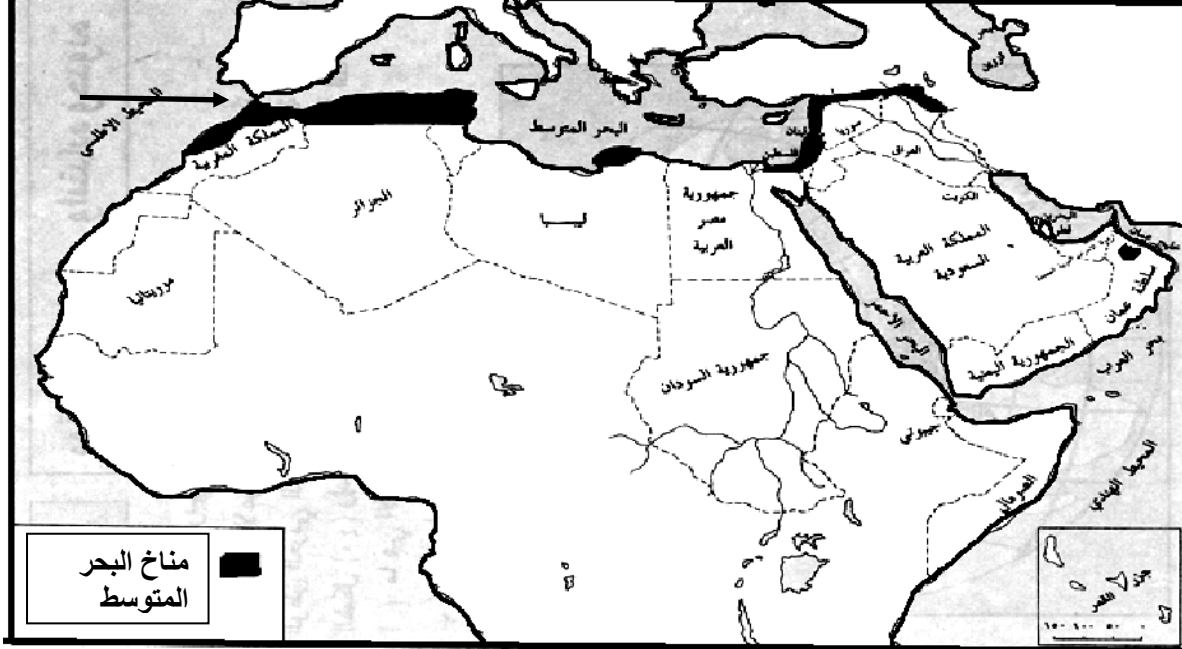
للعام الدراسي ١٤٣٥/١٤٣٦ هـ - ٢٠١٤/٢٠١٥ م

الدور الأول - الفصل الدراسي الأول

المادة: الدراسات الاجتماعية

السؤال الثالث:

١ - أدرس الخريطة التالية ثم أجب عن الأسئلة التي تليها :



أ - أستخرج من الخريطة دولتين عربيتين يظهر فيهما مناخ البحر المتوسط .

ب - ما اسم الممر المائي المشار إليه (→) ؟

ج - ظلل الدولة العربية التي عاصمتها الرياض .

٢ - أ - قارن بين الإمبراطورية الفارسية ودولة الأحباش كما في الجدول التالي :

الدولة	الإمبراطورية الفارسية	دولة الأحباش
وجه المقارنة		
الديانة		
الصناعات التي اشتهرت بها		

ب - وضح كيف أستطاع الخليفة أبو بكر الصديق القضاء على حركة الردة .

(٤)

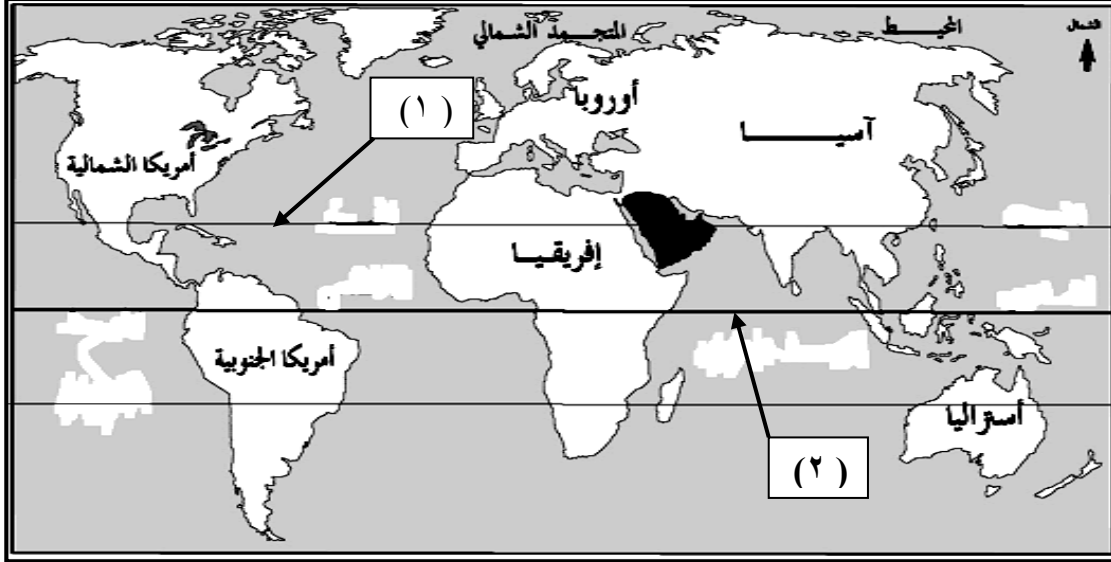
امتحان الصف الخامس

للعام الدراسي ١٤٣٥/١٤٣٦ هـ - ٢٠١٤/٢٠١٥ م

الدور الأول - الفصل الدراسي الأول

المادة: الدراسات الاجتماعية

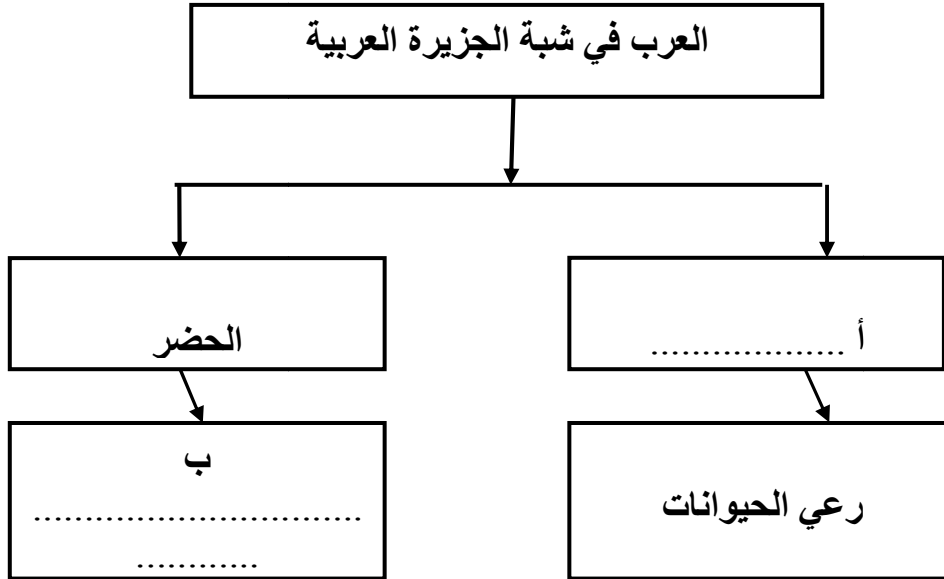
٣ - أدرس الخريطة التالية ، ثم أكتب اسم دوائر العرض المشار إليها بالأرقام (١) و (٢) :



.....(١)(٢)

السؤال الرابع :

١ - أكمل الفراغات في خريطة المفاهيم التالية :



(٥)

امتحان الصف الخامس

للعام الدراسي ١٤٣٥/١٤٣٦ هـ - ٢٠١٤/٢٠١٥ م

الدور الأول - الفصل الدراسي الأول

المادة: الدراسات الاجتماعية

٢ - أ - أرسم داخل المربع التالي شكل الكتيب الهلالي ، موضحا بالسهم اتجاه الرياح .



ب - علل لما يلي :

- تقام المهرجانات السياحية السنوية في محافظة ظفار في فصل الصيف .

٣ - أ - أذكر سببا واحدا لكل مما يلي :

١ - العجز في الموارد المائية في الوطن العربي .

٢ - اختلاف خصائص التربة من مكان لآخر في الوطن العربي .

ب - وضح تأثير اكتشاف النفط والغاز الطبيعي على الحياة في الصحراء ؟

انتهت الأسئلة مع الدعاء للجميع بالتوفيق والنجاح



سلطنة عمان
وزارة التربية والتعليم

المديرية العامة للتربية والتعليم بمحافظة مسقط
حائزة التقويم التربوي
قسم الاختبارات والمقاييس

نموذج إجابة امتحان الصف الخامس
للعام الدراسي ١٤٣٥/١٤٣٦ هـ - ٢٠١٤/٢٠١٥ م
الفصل الدراسي الأول - الدور الأول

الدرجة الكلية: (٤٠) درجة

المادة: الدراسات الاجتماعية
تنبيه: نموذج الإجابة في (٥) صفحات

أولاً: إجابة السؤال الموضوعي:-

الدرجة الكلية: (١٦) درجة		إجابة السؤال الأول			
المخرج التعليمي	الصفحة	الدرجة	الإجابة	البديل الصحيح	المفردة
	١٠	٢	آسيا	ب	١
	٢٣	٢	العراق	ج	٢
	٢٠	٢	الخليج	ج	٣
	٢٧	٢	السلسلة	د	٤
	٤٣	٢	(مارس ، أغسطس)	ب	٥
	٧٦	٢	كسرى	ج	٦
	٩٢	٢	١١ هجرية	ب	٧
	٥١	٢	محافظة ظفار	أ	٨

(٢)
 نموذج إجابة امتحان الصف الخامس
 للعام الدراسي ١٤٣٥/١٤٣٦ هـ - ٢٠١٤/٢٠١٥ م
 الفصل الدراسي الأول - الدور الأول
 المادة: الدراسات الاجتماعية
 ثانياً: إجابة الأسئلة المقالية:-

إجابة السؤال الثاني		الدرجة الكلية: (٨) درجة									
المخرج التعليمي	الصفحة	الدرجة	الإجابة الصحيحة								
	٤١	١	متوسط حالة الجو لفترة زمنية طويلة قد تكون شهراً أو فصلاً أو سنة أو أكثر .								
	٣١	١	الأراضي المنبسطة ، القليلة الانحدار التي ترتفع عما يجاورها من أراضي .								
	٨٨ ٨٩ ٩٢	٣ درجات لكل درجة واحدة	<table border="1"> <thead> <tr> <th>السنة الهجرية</th> <th>الحدث التاريخي</th> </tr> </thead> <tbody> <tr> <td>٣ هـ</td> <td>غزوة أحد</td> </tr> <tr> <td>٦ هـ</td> <td>صلح الحديبية</td> </tr> <tr> <td>٩ هـ</td> <td>عام الوفود</td> </tr> </tbody> </table>	السنة الهجرية	الحدث التاريخي	٣ هـ	غزوة أحد	٦ هـ	صلح الحديبية	٩ هـ	عام الوفود
السنة الهجرية	الحدث التاريخي										
٣ هـ	غزوة أحد										
٦ هـ	صلح الحديبية										
٩ هـ	عام الوفود										
	٢١	١	نظراً لخصوبة تربتها . ووفرة المياه .								
	١٨	٢ لكل نصف درجة	<table border="1"> <thead> <tr> <th>سهول داخلية</th> <th>سهول ساحلية</th> </tr> </thead> <tbody> <tr> <td>حوران</td> <td>الباطنة</td> </tr> <tr> <td>البطانه</td> <td>السبو</td> </tr> </tbody> </table>	سهول داخلية	سهول ساحلية	حوران	الباطنة	البطانه	السبو		
سهول داخلية	سهول ساحلية										
حوران	الباطنة										
البطانه	السبو										

(٣)
 نموذج إجابة امتحان الصف الخامس
 للعام الدراسي ١٤٣٥/١٤٣٦ هـ - ٢٠١٤/٢٠١٥ م
 الفصل الدراسي الأول - الدور الأول
 المادة: الدراسات الاجتماعية
 ثانياً: إجابة الأسئلة المقالية:-

إجابة السؤال الثالث		الدرجة الكلية: (٨) درجة			
الجزئية	المفردة	الإجابة الصحيحة	الدرجة	الصفحة	المخرج التعليمي
١	أ	المغرب ، الجزائر ، تونس ، ليبيا ، مصر ، لبنان ، فلسطين ، الأردن ، سوريا ، العراق ، سلطنة عمان (الجبل الأخضر) . (يكتفى بذكر دولتين)	١ لكل نصف درجة	٤٢	
	ب	مضيق جبل طارق	١	١٦	
	ج	يظل الطالب المملكة العربية السعودية	١	٢١	
٢	أ	الإمبراطورية الفارسية	٢ لكل نصف درجة	٧٦ ٧٧ ٨٢ ٨٣	
		الديانة			
		دولة الأحباش			
		المجوسية			
		الجلود والسجاد والأواني الخزفية			
		حفر العاج			
		إذابة الذهب			
		أعمال المنسوجات			
		الصناعات الخشبية			
		والجلدية			
يكتفى بذكر صناعة واحدة					

إجابة السؤال الثالث

الدرجة الكلية: (٨) درجة

المخرج التعليمي	الصفحة	الدرجة	الإجابة الصحيحة	المفردة	الجزئية
	٩٥	١	سارع أبو بكر الصديق الى التصدي لهذه الحركة ، ووجه أحد عشر قائدا لمحاربة القبائل المرتدة ، حتى قضى على حركة الردة في جميع أنحاء شبة الجزيرة العربية . (ما يؤدي المعنى يعتبر صحيحا)	ب	

(٥)

المادة: الدراسات الاجتماعية

تابع ثانياً: إجابة الأسئلة المقالية:-

إجابة السؤال الثالث				
الدرجة الكلية: (٨) درجة				
المخرج التعليمي	الصفحة	الدرجة	الإجابة الصحيحة	المفردة
	١٣	٢ لكل درجة	(١) مدار السرطان (٢) دائرة الاستواء	
إجابة السؤال الرابع الدرجة الكلية: (٨) درجة				
	٦٨ ٧٠	٢ لكل درجة	أ - البدو ب - التجارة والزراعة	١
	٣٧	٢	 <p>أ</p>	٢
	٥٣	١	ب بسبب هطول الأمطار في جبال ظفار صيفا ، تكتسي الجبال بالأشجار والأعشاب الخضراء صيفا ، وتجذب المناظر الطبيعية الخلابة والمناخ اللطيف في المحافظة الزوار من داخل السلطنة وخارجها . (ما يؤدي المعنى صحيحا)	

الدرجة الكلية: (٨) درجة

إجابة السؤال الرابع

المخرج التعليمي	الصفحة	الدرجة	الإجابة الصحيحة	المفردة	الجزئية
	٥٦	١	١ - بسبب سيادة المناخ الصحراوي في المنطقة .	أ	٣
	٥٩	١	٢ - بسبب اختلاف المواد الصخرية المفتتة والمواد العضوية التي تدخل في تكوينها .		
	٤٩	١	ظهر عدد من المدن الحديثة في الصحراء كالظهران في السعودية والأحمدي في الكويت وهيما في سلطنة عمان .	ب	

نهاية نموذج الإجابة