

الإجابة في الورقة نفسها



المديرية العامة للتربية والتعليم لمحافظة شمال الباطنة

الامتحان النهائي للصف الثامن للفصل الدراسي الأول/الدور الأول للعام الدراسي ٢٠١٤-٢٠١٥ م

الزمن: ساعة ونصف

المادة: الدراسات الاجتماعية

تنبيه: الأسئلة في (٥) صفحات

الدرجة الكلية: (٤٠) درجة

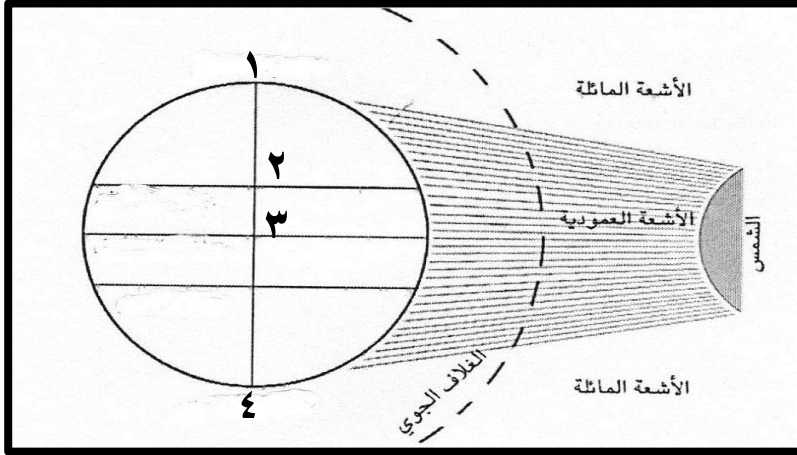
اسم الطالب/ة:

الشعبة:

أجب عن جميع الأسئلة الآتية

السؤال الأول: ضع دائرة حول رمز الإجابة الصحيحة من بين البدائل المعطاة:

- ١) التيار البحري البارد الذي يهب على جنوب غربي أفريقيا ويؤدي إلى انخفاض درجة حرارة سواحلها:
- (أ) بنجويلا (ب) همبولوت (ج) ليرادور (د) الكناري
- ٢) من خلال الشكل الذي أمامك- فإن أعلى درجة حرارة ستكون في المنطقة المشار إليها بالرقم:



- (أ) ١
(ب) ٢
(ج) ٣
(د) ٤

٣) أول من أدخل زراعة القرنفل والبن إلى زنجبار السلطان:

- (أ) حمد بن سعيد (ب) سلطان بن أحمد (ج) سعيد بن سلطان (د) برغش بن سعيد

٤) صدر النظام الأساسي للدولة في العام الميلادي:

- (أ) ١٩٩٢ (ب) ١٩٩٤ (ج) ١٩٩٦ (د) ١٩٩٨

٥) عاصمة عُمان في عهد الإمام أحمد بن سعيد:

- (أ) مسقط (ب) قلهاث (ج) الرستاق (د) نزوى

٦) يُشترط في عضوية مجلس الدولة أن لا يقل العمر بالسنوات عن:


- (أ) ٢٥ (ب) ٣٠ (ج) ٣٥ (د) ٤٠

(٢)

المادة: الدراسات الاجتماعية الصف: الثامن الفصل الدراسي: الأول- الدور: الأول العام الدراسي: ٢٠١٤-٢٠١٥ م

تابع- السؤال الأول:

٧) العنصر المناخي الذي يقيسه الجهاز في الصورة المقابلة:



(أ) الحرارة

(ب) الضغط الجوي

(ج) الرطوبة

(د) الرياح

٨) تُصنف الصورة التي أمامك - كأحدى المنجزات الحضارية لدولة البوسعيد بشرقي أفريقيا في المجال:



(أ) الاقتصادي

(ب) السياسي

(ج) العمراني

(د) الثقافي

١٦

السؤال الثاني:

٩) عرّف كلاً من:

(أ) الرطوبة:

(ب) الجمر:

١٠) عدد اثنين من:

(أ) الرياح المحلية في الوطن العربي.

(ب) الحقوق العامة للمواطن العُماني في النظام الأساسي للدولة.

تابع - السؤال الثاني:

(١١) دلل على "عمق التأثيرات الحضارية العمانية في شرق أفريقيا حتى التاريخ المعاصر".

٨

السؤال الثالث:

(١٢) صنّف البضائع الآتية التي كانت تحملها السفن العمانية بين مسقط والهند - وفقاً للجدول الآتي .
(خشب الصندل - الأرز - اللؤلؤ - الصوف - اللبان - الأعشاب الطبية)

الواردات	الصادرات
_____	_____
_____	_____
_____	_____

(١٣) قارن بين مجلس الدولة ومجلس الشورى وفقاً لمجالات المقارنة في الجدول الآتي.

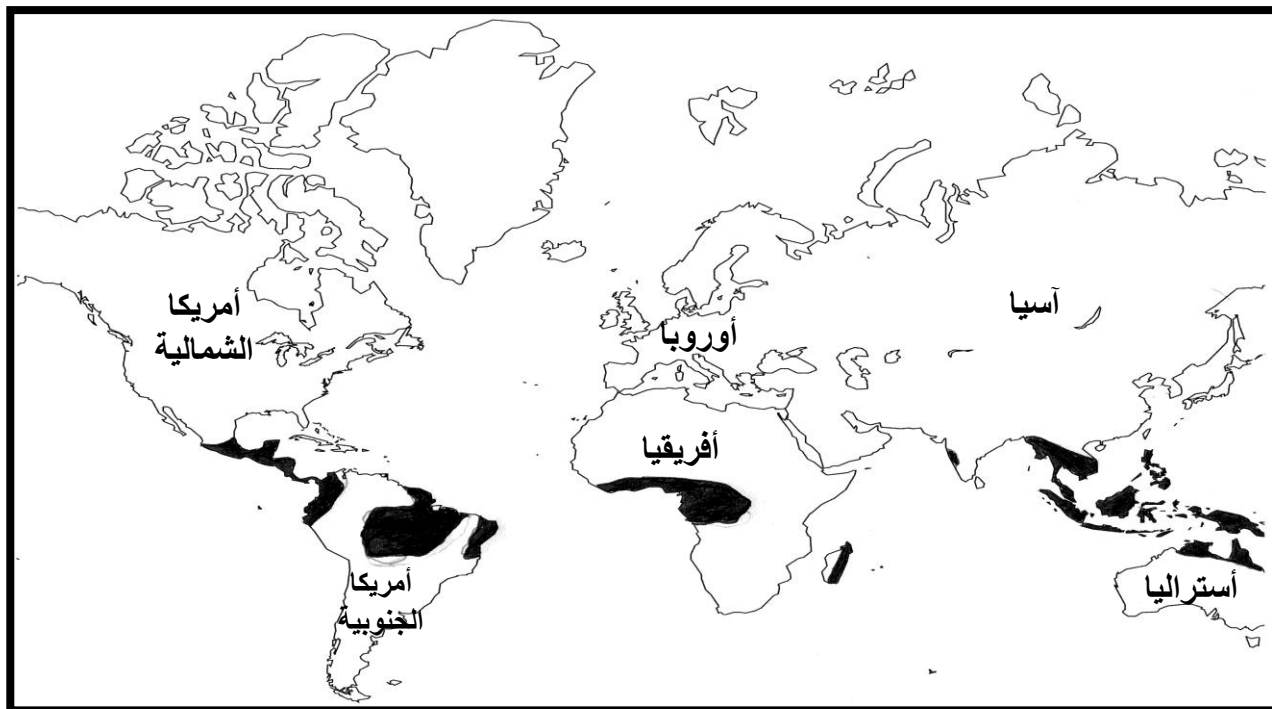
مجلس الدولة	مجلس الشورى	اسم المجلس مجال المقارنة
_____	_____	العام الميلادي لتأسيسه
_____	_____	طريقة اختيار العضو

(٤)

المادة: الدراسات الاجتماعية الصف: الثامن الفصل الدراسي: الأول- الدور: الأول العام الدراسي: ٢٠١٤-٢٠١٥ م

تابع - السؤال الثالث:

١٤) أمامك خريطة لأحد الأقاليم المناخية في العالم، ادرسها جيداً ثم اجب عن الأسئلة الآتية:



أ) ما اسم الإقليم المناخي الذي تمثله الخريطة؟

ب) بين خصائص هذا الإقليم من حيث درجة الحرارة والأمطار.

_____	درجة الحرارة
_____	الأمطار

ج) استخرج من الخريطة القارة التي لا تظهر بها خصائص هذا الإقليم .

٨

السؤال الرابع:

١٥) بم تفسر:

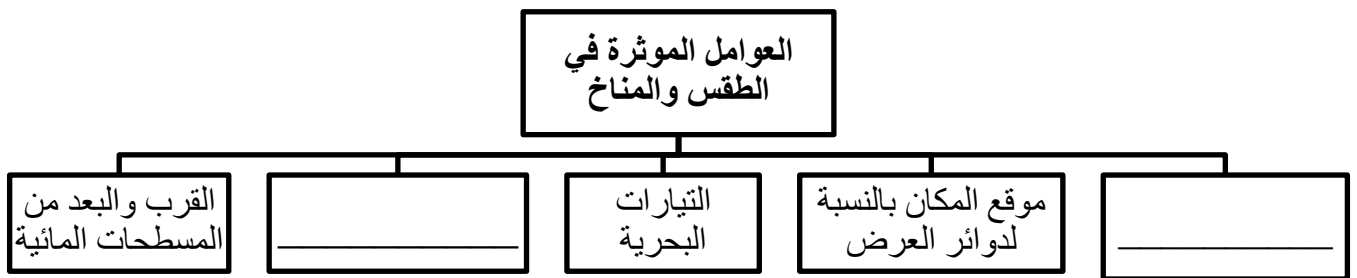
أ) زيادة الحركة السياحية في محافظة ظفار خلال فصل الصيف؟

ب) ارتفاع درجة الحرارة في محافظة مسقط صيفاً؟

تابع- السؤال الرابع:

١٦) برأيك - ما أهمية مرافقة الوزراء والمستشارين لجلالة السلطان قابوس (يحفظه الله) في جولاته السنوية؟

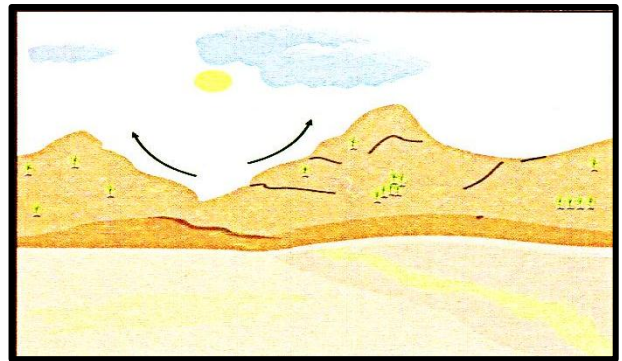
١٧) أ) أكمل المخطط الآتي:



ب) لاحظ الصورتين أمامك، ثم أجب عن الأسئلة التي تليها:



(٢)



(١)

١) ما رقم الصورة التي تمثل ظاهرة نسيم الوادي؟

٢) علل حدوث الظاهرة المشار إليها بالرقم (٢).



المديرية العامة للتربية والتعليم لمحافظة شمال الباطنة

[نموذج إجابة امتحان الصف الثامن لمادة الدراسات الاجتماعية]
العام الدراسي ٢٠١٤ / ٢٠١٥ م - الفصل الدراسي الأول / الدور الأول

الدرجة الكلية ٤٠ درجة

$$١٦ = ٢ \times ٨$$

إجابة السؤال الأول: ١٦ درجة

رقم المفردة	١	٢	٣	٤	٥	٦	٧	٨
رمز الإجابة	أ	ج	ج	ج	ج	د	ب	د
الإجابة	بنجويلا	٣	سعيد بن سلطان	١٩٩٦	الرساق	٤٠	الضغط الجوي	الثقافي
الوحدة	الأولى	الأولى	الثانية	الثالثة	الثانية	الثالثة	الأولى	الثانية
الصفحة	١٦ - ١٧	١٤	٦٤	٨٥	٥٥	٩٦	٣٠	٦٧
الدرجة	٢	٢	٢	٢	٢	٢	٢	٢

إجابة السؤال الثاني: ٨ درجات

الجزئية	الإجابة	الدرجة	الصفحة	الوحدة
٩	(أ) الرطوبة: كمية بخار الماء العالق في الهواء في حالة غير مرئية . (ب) الجمرک: جهاز إداري يتولى فرض الرسوم وتحصيلها على البضائع الواردة إلى الدولة من الدول الأخرى.	١	٣٦	الأولى
١٠	(أ) الطوز - الخماسين - الهبوب - الكوس - الغربي- السموم (يكتفى بذكر اثنين لكل مفردة درجة) (ب) الجنسية - المساواة - الحرية الشخصية - حرية الشعائر الدينية حرية الرأي والتعبير - حرية المرسلات (البريدية والهاتفية) حرية الصحافة والطباعة والنشر . (يكتفى بذكر اثنين لكل مفردة درجة)	٢	٣٣ - ٣٤	الأولى
١١	١- انتشار الاسلام بالمنطقة. ٢- تأثر اللغة السواحلية بالكثير من المفردات العربية. ٣- انتشار بعض العادات والتقاليد الاجتماعية العمانية (الدشداشة - المجالس - السبلة) . (يكتفى بذكر اثنين لكل مفردة درجة)	٢	٧٤ - ٧٥	الثانية

إجابة السؤال الثالث: ٨ درجات

الوحدة	الصفحة	الدرجة	الإجابة	الجزئية									
الثانية	٧٢	٣	<table border="1"> <thead> <tr> <th>الواردات</th> <th>الصادرات</th> </tr> </thead> <tbody> <tr> <td>الصوف</td> <td>اللؤلؤ</td> </tr> <tr> <td>الأرز</td> <td>اللبان</td> </tr> <tr> <td>خشب الصندل</td> <td>الأعشاب الطبية</td> </tr> </tbody> </table> <p>(لكل مفردة نصف درجة فقط)</p>	الواردات	الصادرات	الصوف	اللؤلؤ	الأرز	اللبان	خشب الصندل	الأعشاب الطبية	١٢	
الواردات	الصادرات												
الصوف	اللؤلؤ												
الأرز	اللبان												
خشب الصندل	الأعشاب الطبية												
الثالثة	٩٦	٢	<table border="1"> <thead> <tr> <th>مجلس الدولة</th> <th>مجلس الشورى</th> <th>اسم المجلس مجال المقارنة</th> </tr> </thead> <tbody> <tr> <td>١٩٩٧م</td> <td>١٩٩١م</td> <td>العام الميلادي لتأسيسه</td> </tr> <tr> <td>مرسوم سلطاني</td> <td>الانتخاب وترشيح المواطنين</td> <td>طريقة اختيار العضو</td> </tr> </tbody> </table> <p>(لكل مجال مقارنة نصف درجة فقط)</p>	مجلس الدولة	مجلس الشورى	اسم المجلس مجال المقارنة	١٩٩٧م	١٩٩١م	العام الميلادي لتأسيسه	مرسوم سلطاني	الانتخاب وترشيح المواطنين	طريقة اختيار العضو	١٣
مجلس الدولة	مجلس الشورى	اسم المجلس مجال المقارنة											
١٩٩٧م	١٩٩١م	العام الميلادي لتأسيسه											
مرسوم سلطاني	الانتخاب وترشيح المواطنين	طريقة اختيار العضو											
الأولى	٤٣ ٤٢ ٤٣	١ ١ ١	<p>(أ) الإقليم الاستوائي.</p> <p>(ب)</p> <table border="1"> <tbody> <tr> <td>درجة الحرارة</td> <td>الحرارة دائمة الارتفاع طوال العام</td> </tr> <tr> <td>الأمطار</td> <td>- تسقط الأمطار طوال العام - تصاعديّة - عزيرة (يكتفى بواحد)</td> </tr> </tbody> </table> <p>(ج) قارة أوروبا.</p>	درجة الحرارة	الحرارة دائمة الارتفاع طوال العام	الأمطار	- تسقط الأمطار طوال العام - تصاعديّة - عزيرة (يكتفى بواحد)	١٤					
درجة الحرارة	الحرارة دائمة الارتفاع طوال العام												
الأمطار	- تسقط الأمطار طوال العام - تصاعديّة - عزيرة (يكتفى بواحد)												

إجابة السؤال الرابع : ٨ درجات

الوحدة	الصفحة	الدرجة	الإجابة	الجزئية
الأولى	٤٦	١	(أ) - تتأثر الأجزاء الجنوبية من السلطنة (محافظة ظفار) بهبوب الرياح الموسمية المحملة بالرطوبة وبخار الماء، وهو أمر يساعد على سقوط الأمطار والرذاذ المتواصل . فتزدهر الأرض بالأعشاب والمراعي الخضراء . - الاستجمام والترفيه.	١٥
	٤١	١	(ب) بسبب تعامد الشمس في فصل الصيف على مدار السرطان الذي يمر بمحافظة مسقط.	
الثالثة	٩٥	٢	- لتلمس احتياجات المواطنين. - وحل أية مشكلات أو صعوبات تواجهها مشروعات التنمية أو تحتاج إليها المنطقة أو الولاية. - أو ما يفيد المعنى. (لكل مفردة درجة)	١٦
الأولى	١٣	٢	(أ) العوامل المؤثرة في الطقس والمناخ التضاريس الغطاء النباتي (لكل مفردة درجة ولا يشترط الترتيب الموجود في المخطط)	١٧
	٣٥	١	(ب) ١- الرقم (١) ظاهرة نسيم الوادي. ٢- نتيجة اختلاف الضغط الجوي بين الجبل و الوادي.	

*** انتهى نموذج الإجابة **