



امتحان الصف الخامس

الدور الاول/ الفصل الدراسي الاول

للعام الدراسي ١٤٣٥/١٤٣٦ هـ - ٢٠١٤/٢٠١٥ م

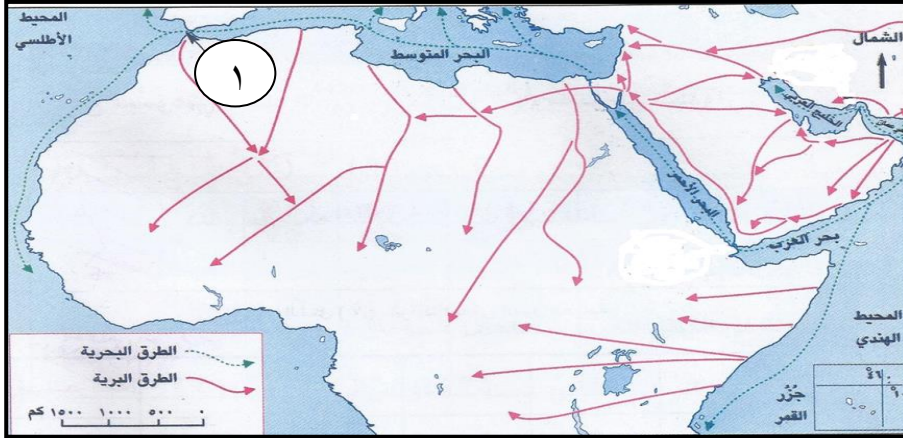
اسم الطالب : الصف :

المادة : الدراسات الاجتماعية الزمن : ساعة ونصف عدد الاوراق : ٤

الدرجة الكلية : ٤٠ درجة تنبيه : الاجابة في نفس الورقة

أجب عن جميع الأسئلة الآتية

السؤال الأول : ضع دائرة حول رمز الإجابة الصحيحة من بين البدائل المعطاه :-



(١) يربط المضيق المشار اليه بالرقم (١) في الخريطة المقابلة بين :

- (أ) البحر الاحمر والبحر المتوسط
(ب) بحر عمان والخليج العربي
(ج) بحر العرب والبحر الاحمر
(د) البحر المتوسط والمحيط الاطلسي

(٢) السهول التي تمتاز عموماً بانخفاض عدد السكان والمراكز العمرانية :

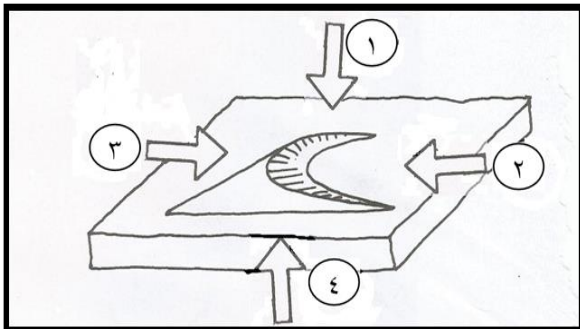
- (أ) الرسوبية (ب) الفيضية (ج) الداخلية (د) الساحلية

(٣) واجه الفلاح محمد صعوبة في ممارسة الزراعة بالمناطق الجبلية بسبب :

- (أ) شدة الانحدار (ب) وفرة المياه (ج) الرعي الجائر (د) التربة الخصبة

(٤) تعرف الارض المنبسطة قليلة الانحدار والتي ترتفع عن ما جاورها من اراضي بـ :

- (أ) الجبل (ب) الهضبة (ج) الوادي (د) الدلتا



(٥) الرقم الذي يشير الى اتجاه الرياح الصحيح في الشكل المقابل:

- (أ) ١
(ب) ٢
(ج) ٣
(د) ٤

(٦) الدولة العربية التي يمر بها نهري دجلة والفرات:

- (أ) العراق (ب) الجزائر (ج) المغرب (د) السودان

(تابع) امتحان الدراسات الاجتماعية للصف الخامس للعام ٢٠١٤/٢٠١٥ م الدور الاول/ الفصل الدراسي الاول

تابع السؤال الاول :

٧) كان اختيار القادة وكبار الموظفين في الدولة البيزنطية من طبقة :
 (أ) التجار (ب) الصناع (ج) الفلاحون (د) النبلاء

٨) تم القضاء على حركة الردة في عهد الخليفة :
 (أ) ابو بكر الصديق (ب) عمر بن الخطاب (ج) عثمان بن عفان (د) علي بن ابي طالب

السؤال الثاني :

أ) عرف ما يلي :
 ١- التربة :

٢- خطوط الطول :

ب) امامك جدول يبين درجات الحرارة والامطار الشهرية في سيق بالجبل الاخضر . ادرسه جيدا واكمل الجدول التالي :

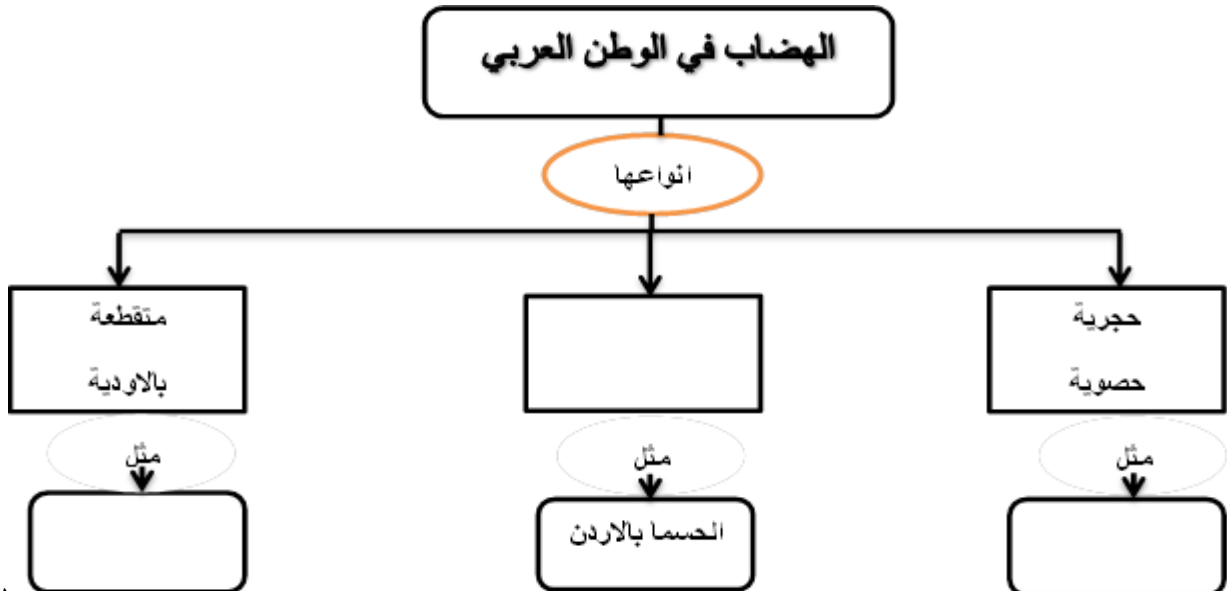
الشهر	يناير	فبراير	مارس	أبريل	مايو	يونيو	يوليو	أغسطس	سبتمبر	أكتوبر	نوفمبر	ديسمبر
درجات الحرارة (س)	٩,٥	١٢	١٥	١٨	٢٢	٢٥	٢٥	٢٤	٢٢	١٨	١٤	١١
الأمطار (مليمترات)	٢٣	٤٦	٥٨	٣٧	٢٦	١٣	٤٧	٥٩	٢٦	٨	٦	١١

أعلى درجة حرارة

أدنى درجة حرارة

الشهر الذي سقطت فيه اعلى كمية امطار

ج) اكمل تصميم الخريطة الذهنية لأنواع الهضاب في الوطن العربي .



السؤال الثالث :

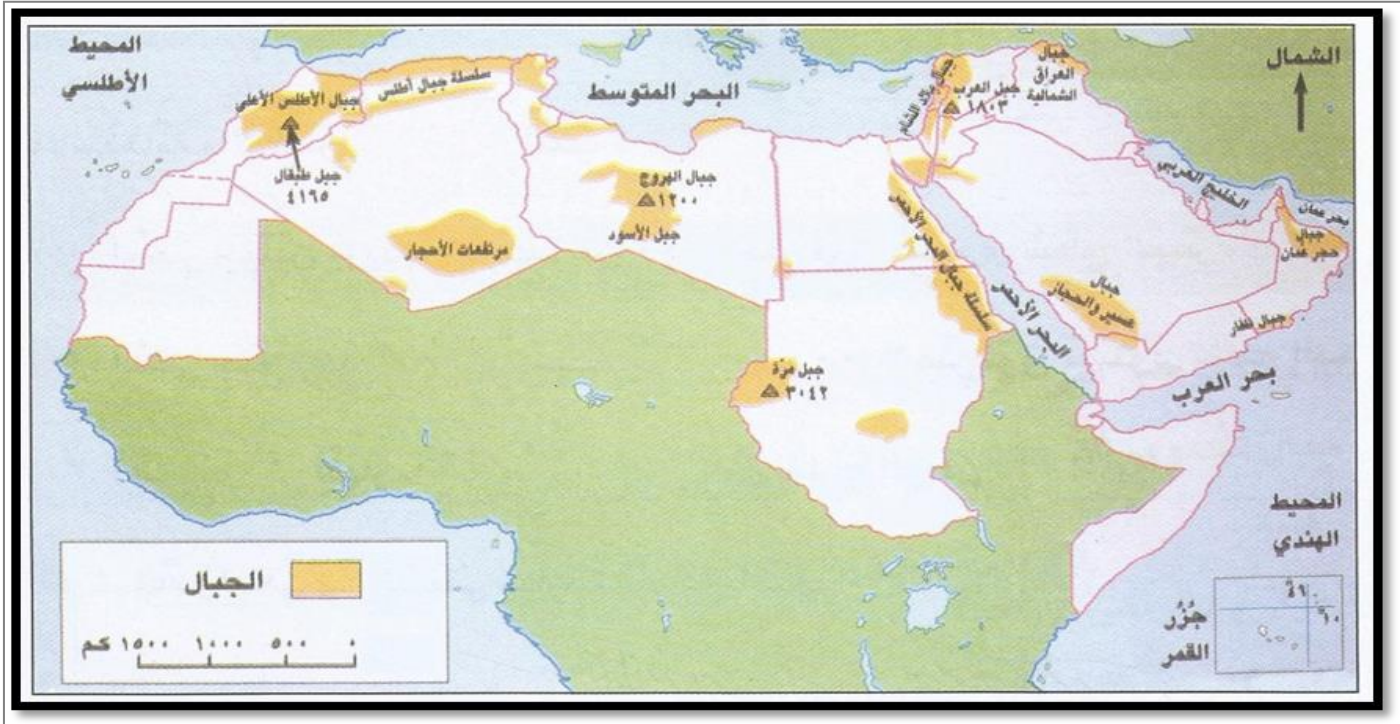
(أ) اعط مثلاً واحداً على كل من :
١- السهول الساحلية في سلطنة عمان .

٢- الديانات المنتشرة في شبة الجزيرة العربية قبيل الاسلام.

(ب) رتب الاحداث التاريخية التالية من **الأقدم الى الأحدث** باستخدام الارقام (١ ، ٢ ، ٣ ، ٤) .

- () وفاة الرسول صلى الله عليه وسلم
() غزوة أحد
() فتح مكة
() صلح الحديبية

(ج) أمامك خريطة الجبال في الوطن العربي ، ادرسها جيداً ثم أجب عن ما يلي :



١- استخراج من الخريطة السلاسل الجبلية في سلطنة عمان .

٢- ضع دائرة على السلسلة الجبلية الممتدة بين مصر والسودان .

٣- ظلل على الخريطة الدولة التي تقع فيها جبال الهروج.

(تابع) امتحان الدراسات الاجتماعية للصف الخامس للعام ٢٠١٤/٢٠١٥ م الدور الاول/الفصل الدراسي الاول

السؤال الرابع :

أ) قارن بين المناخ الصحراوي والمناخ الموسمي من حيث الامطار ودرجات الحرارة في فصل الصيف .

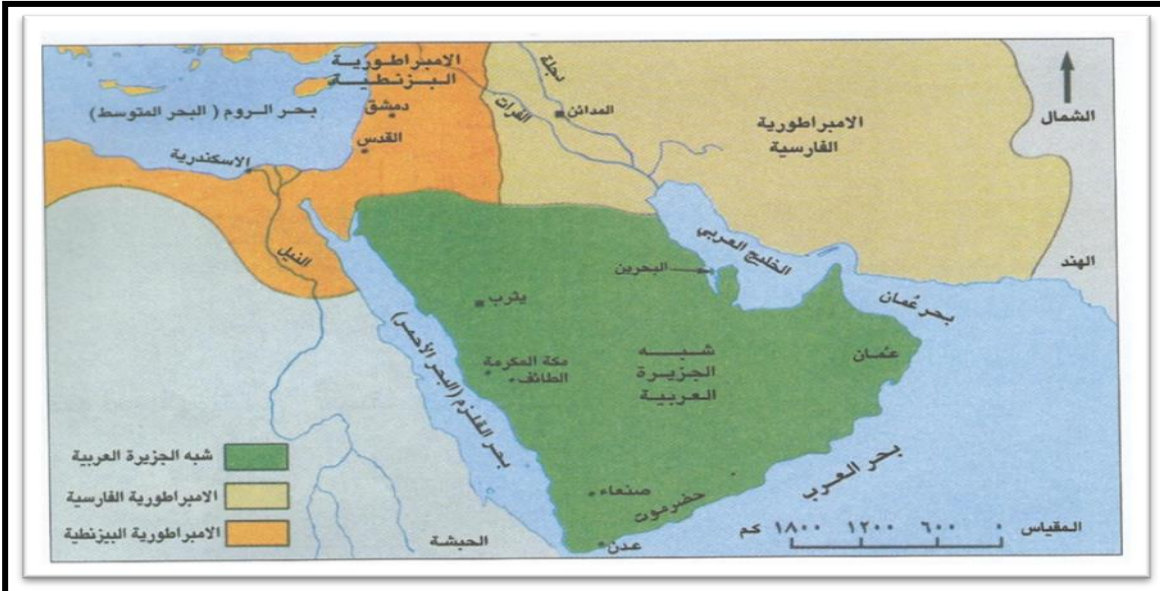
فصل الصيف		المناخ
الامطار	درجة الحرارة	
		الصحراوي
		الموسمي

ب) علل ما يلي :

١- الصراع الدائم بين الفرس والروم قبل الاسلام.

٢- كثرة تنقل البدو من مكان الى اخر.

ج) امامك خريطة شبه الجزيرة العربية والدول المحيطة بها قبيل الاسلام. ادرسها جيدا ثم اجب عن الاسئلة التالية :



١- ما أسم البحر الذي تطل عليه الامبراطورية البيزنطية ؟

٢- في أي جهة تقع الامبراطورية الفارسية بالنسبة لشبه الجزيرة العربية ؟

انتهت الاسئلة مع تمنياتنا للجميع بالتوفيق والنجاح ،،

[نموذج إجابة امتحان الصف الخامس لمادة الدراسات الاجتماعية]
العام الدراسي ٢٠١٤ / ٢٠١٥ م الدور الاول / الفصل الدراسي الاول

الدرجة الكلية ٤٠ درجة نموذج الاجابة في (٣) صفحات

اجابة السؤال الأول: ١٦ درجة $١٦ = ٢ \times ٨$

رقم المفردة	١	٢	٣	٤	٥	٦	٧	٨
رمز الإجابة	د	ج	أ	ب	ج	أ	د	أ
الوحدة	الاولى	الاولى	الاولى	الاولى	الاولى	الاولى	الثانية	الثانية
الصفحة	١٦	١٨	٢٨	٣١	٣٧	٥٦	٧٩	٩٤
الدرجة	٢	٢	٢	٢	٢	٢	٢	٢

اجابة السؤال الثاني ٨ درجات

الجزئية	الإجابة	الدرجة	الصفحة	الوحدة
أ	١- الطبقة المفتتة من قشرة الارض تنمو فيها النباتات .	١	٥٩	الاولى
	٢- خطوط وهمية وليست حقيقية تفيدنا في تحديد المواقع ومعرفة التوقيت/ انصاف دوائر يبلغ عددها ٣٦٠ خطأً . "يكتفى بواحد "	١	١٢	الاولى
ب	اعلى درجة حرارة	٣	٤٣	الاولى
	ادنى درجة حرارة			
	الشهر الذي سقطت فيه اعلى كمية امطار			
	" لكل مفردة درجة "			
ج	<p style="text-align: center;">الهضاب في الوطن</p> <p style="text-align: center;">انواعها</p> <pre> graph TD A[الهضاب في الوطن] --> B[انواعها] B --> C[متقطعة بالودية] B --> D[رملية أو صحراوية] B --> E[حجرية حصوية] C --> F[ثمرت] D --> G[الحصا بالاردن] E --> H[جدة الحراسيس] </pre>	٣	٣٣	الاولى
		" لكل درجة "		

(٣)

[تابع / نموذج إجابة امتحان الصف الخامس لمادة الدراسات الاجتماعية]
العام الدراسي ٢٠١٤ / ٢٠١٥ م الفصل الدراسي الاول

إجابة السؤال الرابع : ٨ درجات

الوحدة	الصفحة	الدرجة	الإجابة		الجزئية	
الاولى	٤٦ ٥١	٤	فصل الصيف		أ	
			الامطار	درجة الحرارة		المناخ
			قلة الامطار أو امطار فجائية غزيرة	مرتفعة		الصحراوي
			امطار غزيرة	معتدلة		الموسمي
" لكل درجة "						
الثانية	٧٦	١	١- للسيطرة على شبة الجزيرة العربية .		ب	
الثانية	٦٨	١	٢- طلباً للماء والمرعى .			
الثانية	٧٥	١	١ - بحر الروم (البحر المتوسط) / بحر القلزم (البحر الاحمر) "يكتفى بواحد "		ج	
الثانية	٧٥	١	٢ - الشمال أو الشمال الشرقي .			

مجموع الدرجات ٤٠ درجة

انتهى نموذج الاجابة