



امتحان الصف الحادي عشر
للعام الدراسي ١٤٣٤/١٤٣٥ هـ - ٢٠١٣/٢٠١٤ م
الدور الأول - الفصل الدراسي الثاني

- المادة: الدراسات الاجتماعية (هذا وطني في السيرة الحضارية لعمان) ● عدد صفحات أسئلة الامتحان: (٨) .
- زمن الإجابة: ساعتان ● الإجابة في الورقة نفسها.

اسم الطالب	
المدرسة	
الصف	

السؤال	الدرجة بالأرقام (بالأحمر)		الدرجة بالحروف (بالأحمر)	(التوقيع بالاسم)	
	آحاد	عشرات		المصحح (بالأحمر)	المدقق (بالأخضر)
١					
٢					
٣					
٤					
المجموع				مراجعة الجمع والتشطيب (بالأزرق)	جمعه (بالأحمر)
المجموع الكلي	٦٠				



امتحان الصف الحادي عشر

للعام الدراسي ١٤٣٤/١٤٣٥ هـ — ٢٠١٣ / ٢٠١٤ م

الدور الأول - الفصل الدراسي الثاني

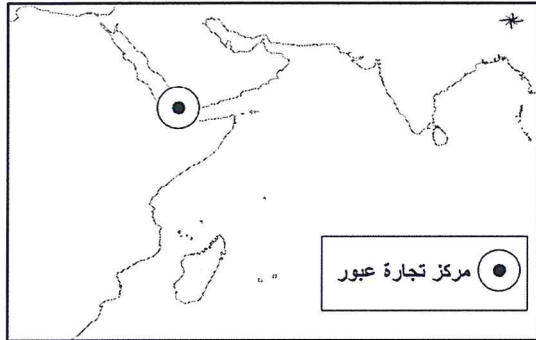
- المادة: الدراسات الاجتماعية (هذا وطني في السيرة الحضارية لعمان)
- تنبيه: الأسئلة في (٨) صفحات.
- زمن الإجابة: ساعتان .

أجب عن جميع الأسئلة الآتية:

السؤال الأول: ضع دائرة حول رمز الإجابة الصحيحة لكل مفردة من المفردات الآتية:

- (١) القلعة التي ظهرت فيها بواكير الإنشاءات الدفاعية الدائرية:
أ - صحار. ب - مطرح. ج - الرستاق. د - بهلاء.

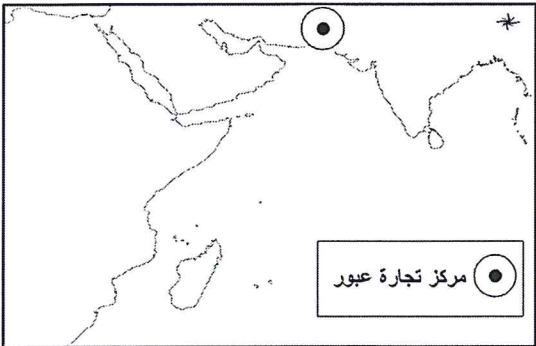
(٢) الخريطة التي تمثل الموقع المثالي لتجارة العبور بين أفريقيا والهند:



ب -



أ -



د -



ج -

(٣) تتميز الدول الصناعية في العالم من حيث مساهمة القطاعات في الناتج المحلي الإجمالي ب:

- أ - انخفاض مساهمة قطاع الخدمات.
ب - انخفاض مساهمة القطاعات السلعية غير النفطية.
ج - ارتفاع مساهمة القطاع النفطي.
د - ارتفاع مساهمة القطاعات السلعية غير النفطية.

(٢)

امتحان الصف الحادي عشر

للعام الدراسي ١٤٣٤/١٤٣٥ هـ — ٢٠١٣/٢٠١٤ م

الدور الأول - الفصل الدراسي الثاني

المادة: الدراسات الاجتماعية " هذا وطني "

تابع السؤال الأول:

٤ (العامل الديموجرافي المؤثر في النشاط الاقتصادي للمجتمعات :

ب - تركيبة السطح.

أ - الموقع الفلكي

د - الثروة المعدنية .

ج - حجم السكان.

٥ (العام الذي بلغ فيه الإنفاق الحكومي على المساهمات ودعم القطاع الخاص أعلى نسبة وفق إحصائيات الجدول الآتي :

٢٠١٢م	٢٠١١م	٢٠١٠م	٢٠٠٩م	
%٦٥	%٥٧	%٦٠	%٥٧	نسبة الإنفاق الجاري
%٢١	%٢٨	%٣٣	%٣٦	نسبة الإنفاق الاستثماري
؟	؟	؟	؟	نسبة الإنفاق على المساهمات ودعم القطاع الخاص
١٣٥٥٥	١٠٧٣٨	٧٩٦٥	٧٤٢٩	مجموع الإنفاق الحكومي

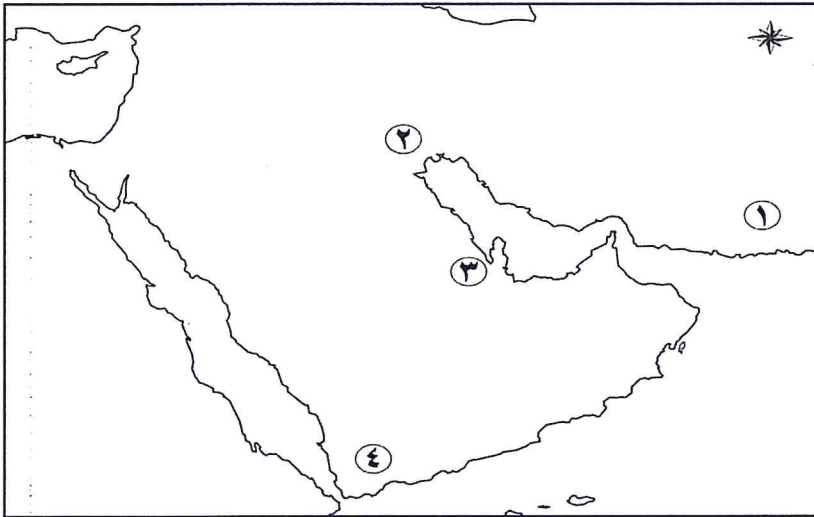
أوجه الإنفاق الحكومي بالمليون ريال (٢٠٠٩ - ٢٠١٢ م)

د - ٢٠١٢م

ج - ٢٠١١م

ب - ٢٠١٠م

أ - ٢٠٠٩م



٦ (الرقم الذي يشير إلى موقع حضارة جمدة نصر) في الخريطة المقابلة:

أ - ١

ب - ٢

ج - ٣

د - ٤

٧ (الترتيب الصحيح لظهور المؤسسات الثقافية العمانية من الأقدم إلى الأحدث:

د- الكتاتيب

ج- المدارس

ب- المساجد

أ - المساجد

- المساجد

الكتاتيب

- الكتاتيب

- المدارس

- المدارس

- المساجد


- المدارس

- الكتاتيب

(٣)

امتحان الصف الحادي عشر
للعام الدراسي ١٤٣٤/١٤٣٥ هـ — ٢٠١٣ / ٢٠١٤ م
الدور الأول - الفصل الدراسي الثاني
المادة : الدراسات الاجتماعية " هذا وطني "

تابع السؤال الأول:



٨ (الفن المعماري الظاهر في الصورة التي أمامك:

- أ- المشربيات.
ب- الصروح.
ج- المحاريب.
د- التيجان.

٩ (المسطرة الزمنية التي تمثل الترتيب الصحيح لإصدار الصحف العمانية في شرقي أفريقيا:

١٩٥٤	١٩٤٩	١٩٣٢	ب-	١٩٥٤	١٩٤٩	١٩٣٢	أ-
النهضة	المرشد	الإصلاح		المرشد	النهضة	الإصلاح	
١٩٥٤	١٩٤٩	١٩٣٢	د-	١٩٥٤	١٩٤٩	١٩٣٢	ج-
الإصلاح	النهضة	المرشد		المرشد	الإصلاح	النهضة	

١٠ (الباب الذي تدرج تحته مادة " فرصة تأسيس الجمعيات والروابط أو المشاركة فيها " في النظام الأساسي للدولة:

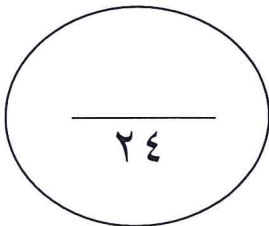
- أ- المبادئ الموجهة.
ب- نظام الحكم .
ج- الحقوق والواجبات .
د- أحكام عامة .

١١ (مجلس يرأسه جلالة السلطان ويهتم به شخصياً:

- أ - مجلس المناقصات .
ب - مجلس الأمن الوطني.
ج - مجلس التعليم .
د - مجلس الخدمة المدنية.

١٢ (تميزت المرحلة الثالثة من مراحل اختيار وانتخاب مرشحي مجلس الشورى بـ :

- أ- زيادة عدد الناخبين إلى ١٧٥ ألف مواطن.
ب- اختيار المرشحين بالتركية بعد المناقشات.
ج- إدخال سلطة القضاء في عملية فرز الأصوات.
د - تخفيض سن الانتخاب الى (٢١) سنة.



(٤)

امتحان الصف الحادي عشر

للعام الدراسي ١٤٣٤/١٤٣٥ هـ — ٢٠١٣ / ٢٠١٤ م

الدور الأول - الفصل الدراسي الثاني

المادة : الدراسات الاجتماعية " هذا وطني "

السؤال الثاني:

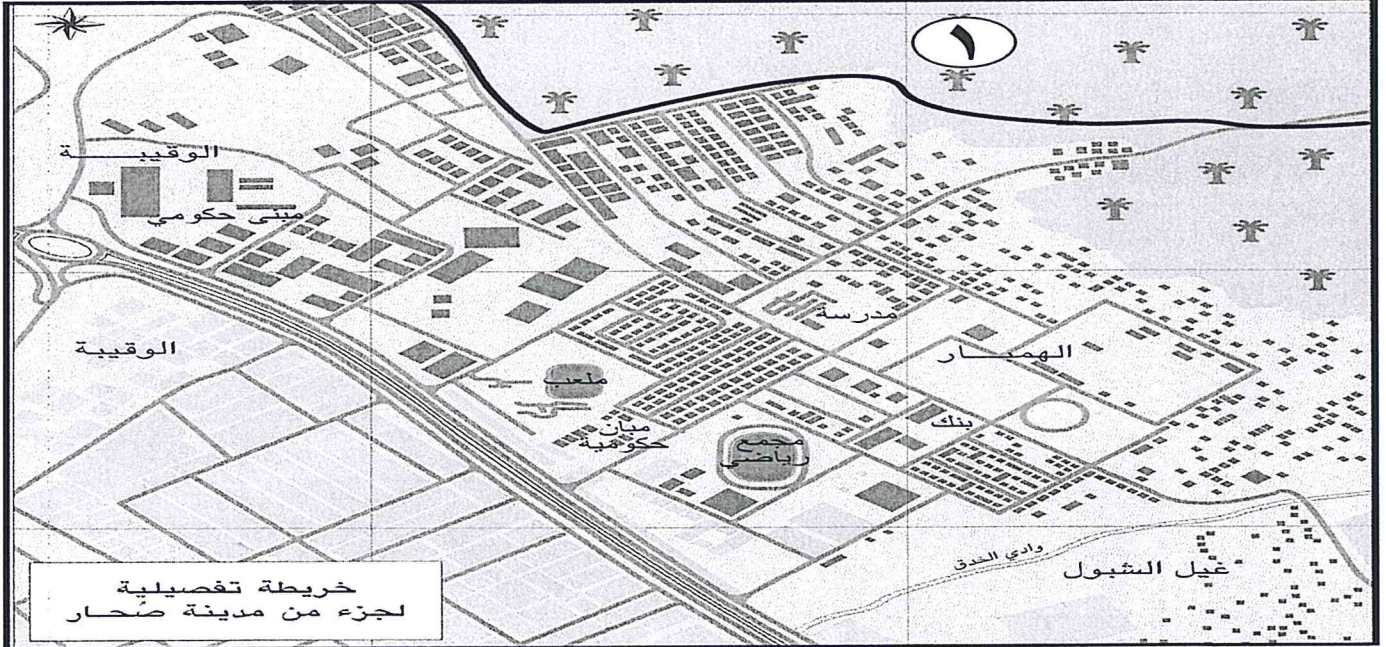
أ) ١- بم تفسر: ظهور مبان في العمارة العمانية الإسلامية تتميز بواجهات تخلو من النوافذ ويوجد بها باب واحد.

.....
.....
.....

٢- رتب الأحداث الآتية الخاصة بدور عمان الثقافي في أفريقيا من الأقدم إلى الأحدث.

- () اتخاذ السيد سعيد بن سلطان زنجبار عاصمة ثانية له.
- () وصول الاسلام إلى أوغندا على يد أحمد العامري .
- () تأسيس إمارة لامو على الساحل الشرقي لأفريقيا .
- () دخول الإسلام عن طريق العمانيين إلى جزر القمر.

ب) أمامك مخطط لمدينة صحار، ادرسه جيداً ثم أجب عن الأسئلة التالية:



١- ما المشاريع التي أنفقت عليها الحكومة إنفاقاً استثمارياً من خلال مخطط المدينة ؟

.....
.....

٢- لماذا ترتفع نسبة العمالة الوافدة في المنطقة المشار إليها بالرقم (١) ؟

.....
.....
.....

(٥)

امتحان الصف الحادي عشر

للعام الدراسي ١٤٣٤/١٤٣٥ هـ — ٢٠١٣ / ٢٠١٤ م

الدور الأول - الفصل الدراسي الثاني

المادة : الدراسات الاجتماعية " هذا وطني "

تابع السؤال الثاني:

ج (أمامك جدول يبين إجمالي الصادرات الحكومية في سلطنة عمان ومساهمة القطاع النفطي فيها، ادرسه جيداً ثم أجب عن الأسئلة التالية :

٢٠١٢م	٢٠١٠م	٢٠٠٥م	٢٠٠٠م	
١٣٩٧٣	٩٦٩٦	٦٠٤٤	٣٦٠٣	حجم الصادرات النفطية
%٧٠	%٦٩	%٨٤	%٨٣	نسبة مساهمة القطاع النفطي في الصادرات
٢٠٠٤٧	١٤٠٧٣	٧١٨٧	٤٣٥١	إجمالي الصادرات

إجمالي حجم الصادرات الحكومية ومساهمة القطاع النفطي بالمليون ريال (٢٠١٢م-٢٠٠٠م)

١- كم زاد حجم الصادرات النفطية من عام ٢٠٠٠م إلى عام ٢٠١٢م بالمليون ريال؟

.....

٢- احسب نسبة مساهمة القطاعات غير النفطية في إجمالي الصادرات عام ٢٠١٢م.

.....

٣- علل انخفاض نسبة الصادرات النفطية إلى إجمالي الصادرات عام ٢٠١٠م .

.....

٤ - ماهي توقعاتك لحجم الصادرات الإجمالي في السنوات القادمة من خلال الجدول؟ ولماذا؟

.....

.....

.....

السؤال الثالث:

أ (اذكر اثنين لكل مما يأتي :

١- الأدوار التربوية التي تلعبها المجالس العامة (السبله) في حياة الأطفال.

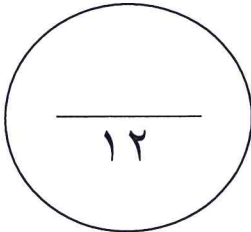
.....

.....

٢- المواد التي تدرس في الكتاتيب في عصر النهضة.

.....

.....



(٦)

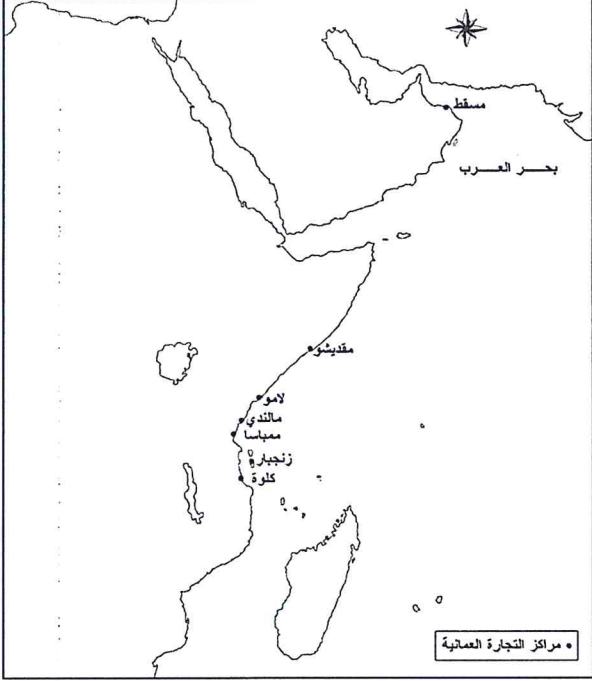
امتحان الصف الحادي عشر

للعام الدراسي ١٤٣٤/١٤٣٥ هـ — ٢٠١٣ / ٢٠١٤ م

الدور الأول - الفصل الدراسي الثاني

المادة : الدراسات الاجتماعية " هذا وطني "

تابع السؤال الثالث:



ب) أمامك خريطة عمان وشرقي أفريقيا في عهدي اليعاربة والبوسعيد ادرسها جيداً ثم أجب عن الأسئلة الآتية:

١- ضع دائرة حول المدينة التي أسست فيها القبائل العمانية إمارة عربية شمال لامو .

٢- ارسم خط التجارة الذي يربط بين زنجبار ومنطقة البحيرات الاستوائية .

٣- ما سبب توجيه العمانيين نشاطهم التجاري نحو شرقي أفريقيا؟

.....
.....
.....

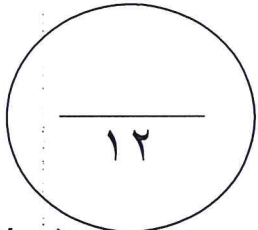
ج) حدد ما يأتي:

١- الهيئة القضائية المختصة بالنظر في القضايا الآتية:

الهيئة القضائية	القضية
	مطالبة امرأة مطلقة بحق أولادها في النفقة الشهرية من زوجها السابق.
	اعتراض موظف على قرار نقله لقسم آخر صدر من مسؤوله بالعمل.

٢- نوع السلطة التي تمثلها الوظائف الآتية:

نوع السلطة	الوظيفة
	وزير التربية والتعليم
	المدعي العام



(٧)

امتحان الصف الحادي عشر

للعام الدراسي ١٤٣٤/١٤٣٥ هـ — ٢٠١٣ / ٢٠١٤ م

الدور الأول - الفصل الدراسي الثاني

المادة : الدراسات الاجتماعية " هذا وطني "

السؤال الرابع:

أ) " اتسمت السياسة الخارجية لحكومة سلطنة عمان بعدم التدخل في الشؤون الداخلية للدول الأخرى واحترام قراراتها واستقلالها "

في ضوء هذه العبارة أجب عما يأتي :

١- دلل على اتباع السلطنة لهذه السياسة منذ بداية عهد النهضة.

٢- برأيك ما النتائج المترتبة على اتباع الحكومة مثل هذه السياسة؟

ب) ١- قارن بين الشكلين المعماريين الآتيين من حيث اسم الشكل ومادة البناء.



(ب)



(أ)

الشكل (ب)	الشكل (أ)	اسم الشكل
		مادة البناء

٢- برهن على تحقق ما وعد به جلالة السلطان قابوس المعظم في أقواله الآتية:

أولاً- " أيها الشعب سأعمل بأسرع ما يمكن لجعلكم تعيشون سعداء لمستقبل أفضل... "

ثانياً- " وأنا أريد أن أعاهد المواطنين بأن التمثيل الشعبي سيتطور في المستقبل لخيرهم وخير البلاد "

(٨)

امتحان الصف الحادي عشر

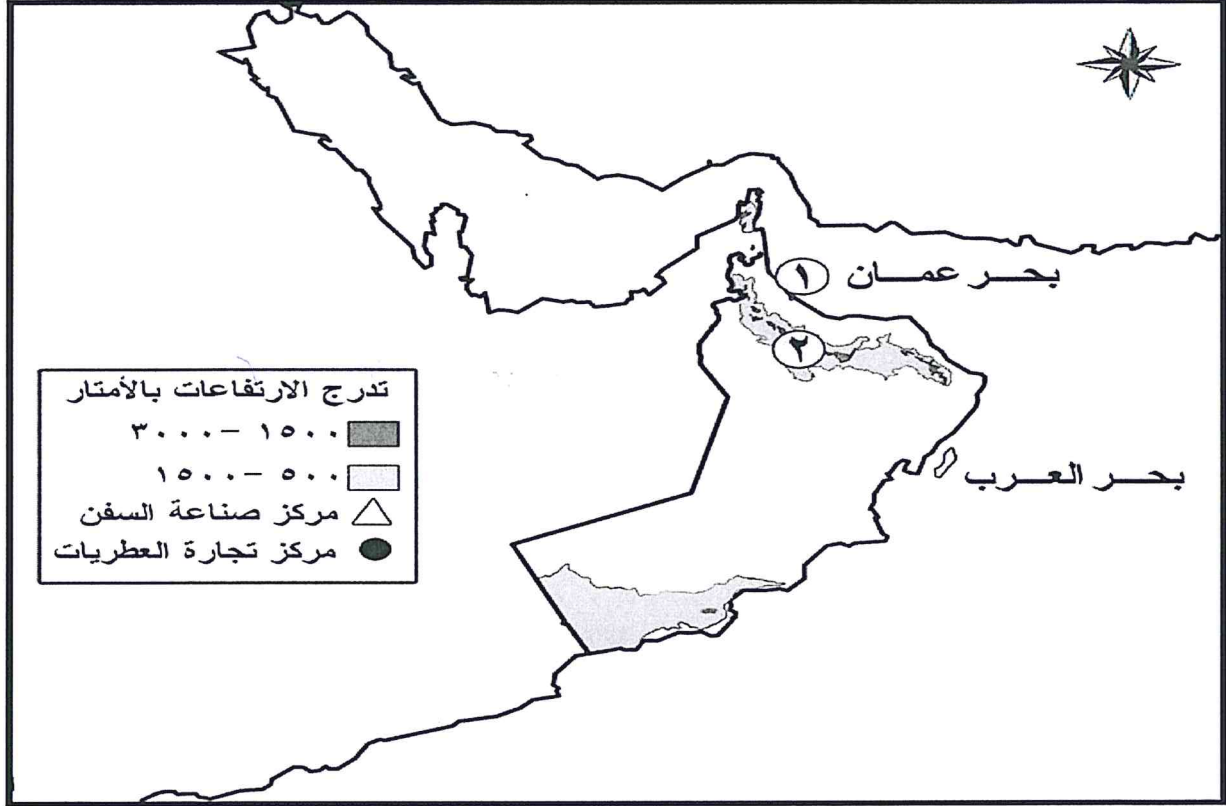
للعام الدراسي ١٤٣٤/١٤٣٥ هـ — ٢٠١٣ / ٢٠١٤ م

الدور الأول - الفصل الدراسي الثاني

المادة : الدراسات الاجتماعية " هذا وطني "

تابع السؤال الرابع:

ج) من خلال دراستك لموضوع النشاط الاقتصادي لعمان في العصور القديمة والإسلامية والحديثة، استعن بالخريطة الآتية ثم أجب عن الأسئلة التي تليها :



١- وقع على الخريطة المراكز الآتية باستخدام الرموز الواردة في مفتاح الخريطة.

- مركز صناعة السفن بمحافظة جنوب الشرقية.

- مركز تجارة العطريات قديماً بمحافظة ظفار.

٢- ما السلعة الرئيسية التي صدرها العمانيون من الميناء المشار إليه بالرقم (١) في العصور القديمة؟

.....

٣- بين أثر التضاريس على النشاط الاقتصادي الذي مارسه السكان قديماً بالموقع المشار إليه بالرقم (٢).

.....

.....

.....

.....