



مِنَاظِمَةُ عُمَانِ
وَأَوْدَةُ التَّرْبِيَةِ وَالتَّعْلِيمِ
المديرية العامة للتربية والتعليم بمحافظة مسقط
دائرة التقويم التربوي
قسم الاختبارات والمقاييس

امتحان الصف الثامن
للعام الدراسي ١٤٣٥/١٤٣٦ هـ - ٢٠١٤/٢٠١٥ م
الفصل الدراسي الثاني - الدور الأول

- عدد صفحات أسئلة الامتحان: (٥).
- الإجابة في الورقة نفسها.

- المادة: الدراسات الاجتماعية.
- زمن الإجابة: ساعة ونصف.

اسم الطالب	
المدرسة	
الصف	

(التوقيع بالاسم)		الدرجة بالحروف (بالأحمر)	الدرجة بالأرقام (بالأحمر)		السؤال
المدقق (بالأخضر)	المصحح (بالأحمر)		عشرات	آحاد	
					١
					٢
					٣
					٤
	مراجعة الجمع والتشطيب (بالأزرق)	جمعه (بالأحمر)			المجموع
					المجموع الكلّي

امتحان الصف الثامن
للعام الدراسي ١٤٣٥/١٤٣٦ هـ - ٢٠١٤/٢٠١٥ م
الفصل الدراسي الثاني - الدور الأول
المادة: الدراسات الاجتماعية

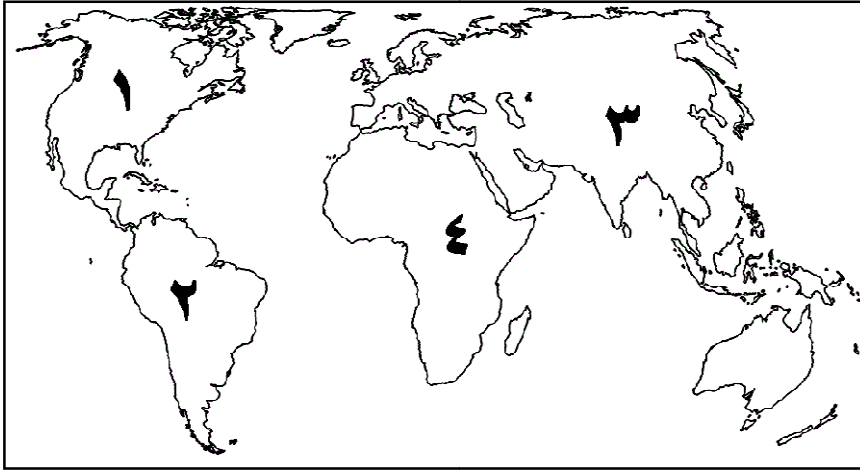
أجب عن جميع الأسئلة الآتية:

السؤال الأول: ضع دائرة حول رمز الإجابة الصحيحة لكل مفردة من المفردات الآتية:

١- اندفاع المياه التي تأتي من أعماق بعيدة عن مستوى سطح الأرض إلى أعلى لعدة أمتار بفعل عاملي الضغط العالي والحرارة يطلق عليها:

- أ- الينابيع
ب- العيون
ج- النافورات الحارة
د- الآبار الارتوازية

٢- الرقم الذي يشير إلى القارة التي ستواجه فيها (٢٥) دولة خطر العجز المائي بحلول ٢٠٢٥ م حسب إحصاءات الأمم المتحدة في الشكل المقابل:



- أ- (١)
ب- (٢)
ج- (٣)
د- (٤)

٣- يعد من الافلاج الغيلية بنزوى:

- أ- المعينين
ب- دارس
ج- المحدث
د- الغنتق

٤- مفكر إيطالي نشأ في فلورنسا، من أشهر مؤلفاته كتاب (الأمير):

- أ- دانتي
ب- كوبرنيكس
ج- مايكل أنجلو
د- ميكافيلي

٥- الإمام الذي بني قلعة نزوى (الشهباء):

- أ- سلطان بن سيف الأول
ب- سيف بن سلطان الأول
ج- محمد بن عبدالله اليعمدي
د- بلعرب بن سلطان اليعربي

٦- تشتهر مسقط بالعديد من المعالم الأثرية من أهمها:

- أ- حصن الرديدة
ب- بيت مغب
ج- جامع البيضاء
د- البرج الأحمر

(٢)

امتحان الصف الثامن

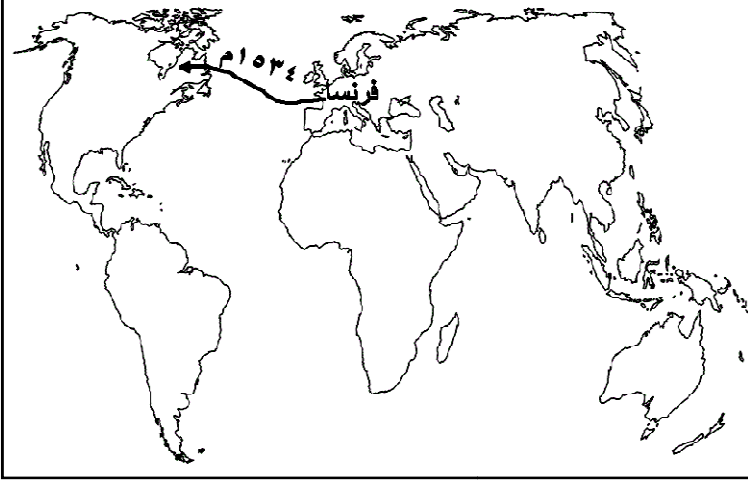
للعام الدراسي ١٤٣٥/١٤٣٦ هـ - ٢٠١٤/٢٠١٥ م

الفصل الدراسي الثاني - الدور الأول

المادة: الدراسات الاجتماعية

تابع: السؤال الأول:

٧- الشكل المقابل يشير إلى الرحلة البحرية التي قام بها:



أ- أمريكو فيسبوتشي ب- جون كابوت

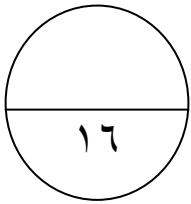
ج- بارثلميو دياز د- جاك كارتييه

٨- يشير الرمز (م) في الشكل المقابل إلى ولاية:



أ- مَقَشَن ب- صلالة

ج- مَرِبَاط د- رَحِيوت



الدرجة: ١٦

السؤال الثاني:

(أ)

١- عرف ما يلي:

أ- المستنقعات:

.....
.....

ب- الغطاءات الجليدية:

.....
.....

(٣)

امتحان الصف الثامن

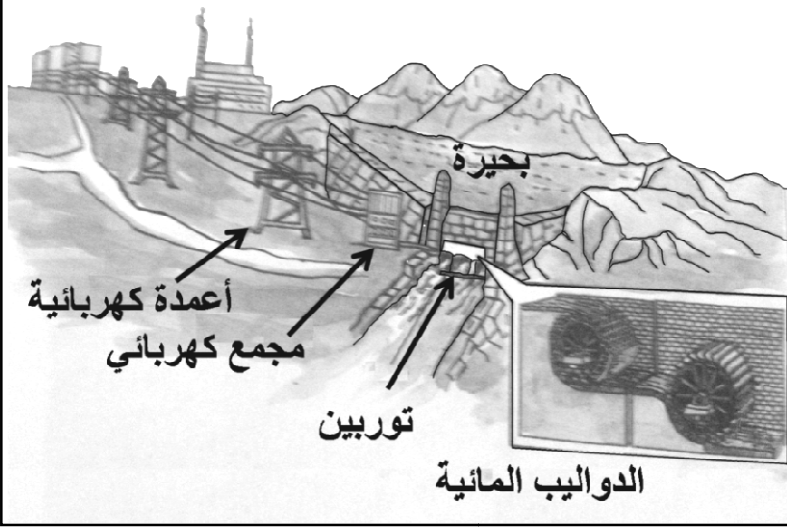
للعام الدراسي ١٤٣٥/١٤٣٦ هـ - ٢٠١٤/٢٠١٥ م

الفصل الدراسي الثاني - الدور الأول

المادة: الدراسات الاجتماعية

تابع: السؤال الثاني:

٢- من خلال الشكل المقابل وضح طريقة إنتاج الطاقة الكهربائية



(ب)

١- علل ما يلي:

أ- استغلال الموارد المعدنية في البحار والمحيطات مازال محدوداً.

ب- تحويل مناطق الأحواض المائية في سلطنة عمان إلى مناطق محمية بحكم القانون.

٢- ما السبب في هجرة قسم كبير من الفلاحين الأوروبيين لمزارعهم بحثاً عن العمل في المصانع أثناء الثورة الصناعية؟

(ج)

١- عدد اثنين من مصادر تلوث المياه.

أ-

ب-

٢- قارن في الجدول الآتي بين سدود التخزين وسدود الحماية من حيث: (الهدف من إنشائها / أمثلة عليها).

المقارنة	سدود التخزين	سدود الحماية
الهدف من إنشائها		
أمثلة عليها		

الدرجة :

٨

(٤)

امتحان الصف الثامن

للعام الدراسي ١٤٣٥/١٤٣٦ هـ - ٢٠١٤/٢٠١٥ م

الفصل الدراسي الثاني - الدور الأول

المادة: الدراسات الاجتماعية

السؤال الثالث:

(أ) من خلال الخريطة المقابلة أجب عن الأسئلة الآتية:



١- الدولة التي انطلقت منها رحلة

فيردناند ماجلان عام ١٥١٩م

مشار إليها بالرقم.....

٢- الرقم (٣) في الخريطة يشير إلى دولة

.....

٣- ظلل الدولة التي بدأت منها النهضة

الأوروبية قبل غيرها.

(ب) ما النتائج المترتبة على ما يلي:

١- بُعد بريطانيا عن الحروب والتوترات السياسية التي شهدتها أوروبا.

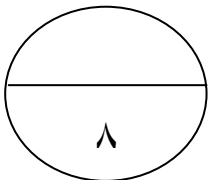
٢- اختراع الأمريكيين آلة جديدة للحصاد تجر بواسطة الخيول عام ١٨٣١م.

(ج) فسر ما يلي:

١- التجارة لم تكن هي السبب الوحيد للاكتشافات الجغرافية.

٢- تنوع الحاصلات والمنتجات الزراعية في نزوى.

٣- تعتبر العيون والينابيع المائية من المقومات السياحية في الرستاق.



الدرجة : ٨

(٥)

امتحان الصف الثامن

للعام الدراسي ١٤٣٥/١٤٣٦ هـ - ٢٠١٤/٢٠١٥ م

الفصل الدراسي الثاني - الدور الأول

المادة: الدراسات الاجتماعية

السؤال الرابع :


(أ) صنف الأودية الآتية حسب الولايات التي توجد بها.
(وادي السحتن - وادي كلبوه - وادي نحيز - وادي عاهن)

الولاية	الوادي الذي يوجد بها
صحار	
صلالة	
الرستاق	
نزوى	

(ب)

١- ما السبب في تساقط كميات من الأمطار على محافظة ظفار في فصل الصيف؟

٢- انظر إلى الصورة التي أمامك، ثم أجب عن الأسئلة التي تليها:



أ- ما اسم المعلم السياحي الذي تشير إليه الصورة؟

ب- ما المادة التي استخدمت لتجليد هيكل هذا المعلم؟

(ج)

١- وضح أهمية موقع مدينة الرستاق.

٢- دلل على / ممارسة الإنسان العماني لمهنة الصيد منذ الألف الثالثة قبل الميلاد.

انتهت الأسئلة مع الدعاء للجميع بالتوفيق والنجاح



سَلْطَنَةُ عُومَانِ
وَزَارَةُ التَّعْلِيمِ وَالتَّحْقِيقِ

المديرية العامة للتربية والتعليم بمحافظة مسقط
دائرة التقويم التربوي
قسم الاختبارات والمقاييس

نموذج إجابة امتحان الصف الثامن
للعام الدراسي ١٤٣٥/١٤٣٦ هـ - ٢٠١٤/٢٠١٥ م
الفصل الدراسي الثاني - الدور الأول

المادة: الدراسات الاجتماعية
تنبيه: نموذج الإجابة في (٤) صفحات
الدرجة الكلية: (٤٠) درجة

أولاً: إجابة السؤال الموضوعي:-

الدرجة الكلية: (١٦) درجة			إجابة السؤال الأول		
المخرج التعليمي	الصفحة	الدرجة	الإجابة	البديل الصحيح	المفردة
	١٦	٢	النافورات الحارة	ج	١
	٢٦+٢٥	٢	(٤)	د	٢
	٣٢	٢	المعيدن	أ	٣
	٤٧	٢	ميكافيلي	د	٤
	٨٦	٢	سلطان بن سيف الأول	أ	٥
	٧٥	٢	بيت مغب	ب	٦
	٦٠+٥٣	٢	جاك كارتنيه	د	٧
	١٠٨	٢	صلالة	ب	٨
١٦		المجموع			


(٢)

تابع نموذج إجابة امتحان الصف الثامن
للعام الدراسي ١٤٣٥/١٤٣٦ هـ - ٢٠١٤/٢٠١٥ م
الفصل الدراسي الثاني - الدور الأول
المادة: الدراسات الاجتماعية

ثانياً: إجابة الأسئلة المقالية:

الدرجة الكلية : (٨) درجة		الرمز (/) يعني إجابة أخرى صحيحة		إجابة السؤال الثاني	
المخرج التعليمي	الصفحة	الدرجة	الإجابة الصحيحة	المفردة	الجزئية
	١٥	١ لكل مفردة نصف درجة	أ- مسطحات مائية ضحلة تظهر بصورة دائمة أو مؤقتة تنمو فيها النباتات المائية المتنوعة. ب- مساحات واسعة يغطيها الجليد الصلب.	١	أ
	٢١	١	يتم احتجاز المياه خلف السدود ومن ثم إطلاقها لتحرك توربينات كبيرة تولد الكهرباء.	٢	
	٢٠	١	أ- بسبب التكلفة العالية التي تصرف على الدراسات والأبحاث المتعلقة بكيفية استخراجها.	١	ب
	٣٥	١	ب- لضمان حماية مياه الأحواض المائية من التلوث والاستنزاف.		
	٦٥	١	كون العمل في المصانع يؤمن لهم دخلاً أسرع من العمل في الأرض.	٢	
	٢٤	١ لكل نصف درجة	مياه الأمطار الحمضية/أكسيد الكبريت والنيتروجين /النباتات والحشائش /القواقع والطفيليات/المبيدات الحشرية /الأسمدة الكيماوية/المياه العادمة/ ما تطرحة المصانع من فضلات سامة.	١	
	٢٩	٢ لكل مفردة نصف درجة	سدود الحماية حماية المناطق المجاورة من أخطار فيضانات الأودية سد وادي الجزي/سد وادي الفليج/سد وادي الانصب	٢	ج
	٣٠		سدود التخزين تخزين المياه والإفادة منها وقت الجفاف		
			المقارنة الهدف من إنشائها أمثلة عليها		

(٣)
 تابع نموذج إجابة امتحان الصف الثامن
 للعام الدراسي ١٤٣٥/١٤٣٦ هـ - ٢٠١٤/٢٠١٥ م
 الفصل الدراسي الثاني - الدور الأول
 المادة: الدراسات الاجتماعية
 ثانياً: إجابة الأسئلة المقالية:-

إجابة السؤال الثالث		الدرجة الكلية : (٨) درجة		الرمز (/) يعني إجابة أخرى صحيحة
الجزئية	المفردة	الإجابة الصحيحة	الدرجة	الصفحة
أ	١	اسبانيا رقم (٤)	١	٥٩
	٢	فرنسا	١	٤٤
	٣		١	٤٥-٤٤
ب	١	ساهم في استقرارها وتوفير جو من الاستثمار والاختراع	١	٦٢
	٢	مكن المزارعين من حصاد محاصيلهم بسهولة وسرعة.	١	٦٣
ج	١	البحث عن مواطن الذهب ومصادره / نشر الديانة المسيحية/البحث عن أراض جديدة/الرغبة في الثراء السريع. (يكتفى بواحدة)	١	٥٥
	٢	مناخها المتميز الذي يجمع بين المناخ شبه الجاف في السهول والأودية والمناخ المعتدل في الجبل الأخضر.	١	٨٣
	٣	مناطق جذب سياحي نظرا لجودة المياه للري /الشرب/الاستشفاء/الاستجمام / النزهة / الاستحمام. (يكتفى بواحدة)	١	٩٨

(٤)

تابع نموذج إجابة امتحان الصف الثامن
للعام الدراسي ١٤٣٥/١٤٣٦ هـ - ٢٠١٤/٢٠١٥ م

الفصل الدراسي الثاني - الدور الأول

المادة: الدراسات الاجتماعية

تابع ثانياً: إجابة الأسئلة المقالية:-

إجابة السؤال الرابع		الدرجة الكلية: (٨) درجة		الرمز (/) يعني إجابة أخرى صحيحة	
الجزئية	المفردة	الإجابة الصحيحة	الدرجة	الصفحة	المخرج التعليمي
أ	١	الولاية	٤ لكل درجة	٩٩	
		الوادي الذي يوجد بها			
		صحار			
		وادي عاهن			
		وادي نحيز			
ب	٢	الرياح الموسمية الجنوبية الغربية.	١	١١٣	
		أ- بوابة صحار.			
		ب- الحجر الرملي.			
		١ (لكل مفردة نصف درجة)			
		١٠٥			
ج	١	بحكم موقعها بين محافظة الداخلية وساحل الباطنة ومحافظة الظاهرة / مركزا اقتصاديا وسوقا رائجا لحاصلاتها الزراعية ومنتجاتها الحيوانية وصناعاتها والمختلفة وما يصلها من منتجات الجبل الأخضر.	١	٩٣	
		٢			
	٢	الأثار المكتشفة في رأس الحمراء	١	٧٢	

نهاية نموذج الإجابة