



سلطنة عُمان
وزارة التربية والتعليم

المديرية العامة للتربية والتعليم محافظة مسندم
امتحان الصف الخامس

للعام الدراسي ١٤٣٥/١٤٣٦ هـ - ٢٠١٤/٢٠١٥ م
الفصل الدراسي الثاني - الدور الأول

- المادة : الدراسات الاجتماعية
- زمن الإجابة : ساعة ونصف
- عدد صفحات أسئلة الامتحان : (٤)
- الإجابة في الورقة نفسها

اسم الطالب	
المدرسة	الشعبة

السؤال	الدرجة بالأرقام (بالأحمر)		الدرجة بالحروف (بالأحمر)	التوقيع بالاسم	
	آحاد	عشرات		المصحح (بالأحمر)	المدقق (بالأخضر)
١					
٢					
٣					
٤					
٥					
المجموع				جمعه (بالأحمر)	مراجعة الجمع والتشطيب (بالأزرق)
المجموع الكلي		٤٠			



امتحان الصف الخامس لمادة الدراسات الاجتماعية

للعام الدراسي ١٤٣٥/١٤٣٦ هـ - ٢٠١٤/٢٠١٥ م

الفصل الدراسي الثاني - الدور الأول

أجب عن جميع الأسئلة

السؤال الأول: ضع دائرة على رمز الإجابة الصحيحة من بين البدائل المعطاة:

١- المصدر الرئيس للمياه في الوطن العربي:

أ- الأنهار ب- الوديان ج- الينابيع د- الأمطار

٢- من الدول التي يعتبر اعتدال المناخ فيها عامل جذب سياحي:

أ- سلطنة عمان ب- قطر ج- لبنان د- موريتانيا

٣- المدينة التي يوجد فيها المسجد الذي يظهر بالصورة المجاورة هي:

أ- الجزائر ب- القيروان ج- القاهرة د- القدس

٤- البلاد التي لم يتمكن العباسيون من السيطرة عليها هي:

أ- الأندلس ب- مصر ج- الشام د- خراسان

٥- الوزارة التي تشرف على رعاية وتأهيل الأشخاص ذوي الإعاقة هي:

أ- التربية والتعليم ب- الزراعة والثروة السمكية ج- التنمية الاجتماعية د- القوى العاملة

٦- من المشكلات التي تعاني منها المدينة العربية:

أ- قلة الكثافة السكانية ب- تزايد الخدمات ج- كفاية الإسكان د- قلة المسطحات الخضراء

٧- من أسباب مشكلة التصحر التي تعاني منها الأرياف:

أ- الرعي الجائر ب- قلة الإنتاج ج- انخفاض الدخل د- نقص المعدات الزراعية.

٨- عدد الأبواب في مخطط مدينة بغداد كما بناها أبو جعفر المنصور:

أ- ٢ ب- ٣ ج- ٤ د- ٥



١٦




امتحان الصف الخامس لمادة الدراسات الاجتماعية
للعام الدراسي ١٤٣٥/١٤٣٦ هـ - ٢٠١٤/٢٠١٥ م
الفصل الدراسي الثاني - الدور الأول

السؤال الثاني:

أولاً: وضح الصعوبات التي واجهت الأمويين في إدارة الدولة .

..... و



ثانياً: انظر إلى الصورة التي أمامك ثم أجب عن الأسئلة الآتية:

أ- ما نوع التعاون بين العمانيين الذي توضحه الصورة؟

.....

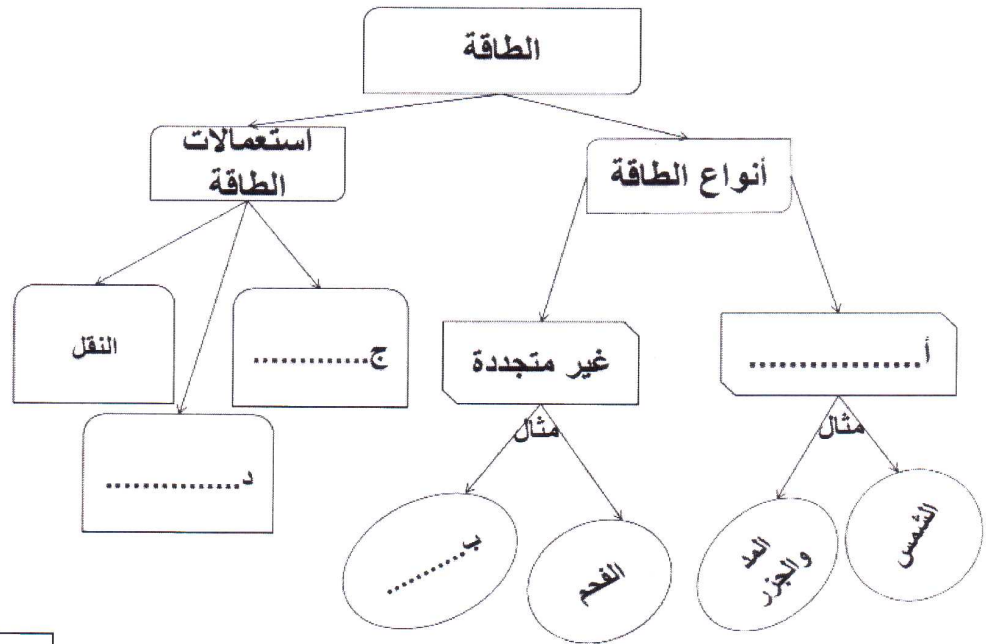
ب- ما المهمة التي يقوم فيها النساء والأولاد؟

.....

ج- كيف يتعاون العمانيون مع بعضهم في مناسبات أخرى مثل الأعراس؟

.....

ثالثاً- أكمل خريطة المفاهيم الآتية عن أنواع الطاقة واستعمالاتها:





امتحان الصف الخامس لمادة الدراسات الاجتماعية

للعام الدراسي ١٤٣٥/١٤٣٦ هـ - ٢٠١٤/٢٠١٥ م

الفصل الدراسي الثاني - الدور الأول

السؤال الثالث:

أولاً: اكتب بين القوسين المصطلح أو المفهوم الصحيح لكل عبارة:

أ- (.....) زيادة عدد السكان من سنة إلى أخرى بسبب الزيادة الطبيعية والهجرة.

ب- (.....) اسم سكان أسبانيا والبرتغال عندما فتحها المسلمون.

ثانياً: أجب عن الأسئلة الآتية:

أ-م تفسر تركيز السكان على ضفاف الأنهار الكبرى كالنيل والفرات.

١-.....

٢-.....

ب- اقترح مشاريع وخدمات اجتماعية يمكن أن تساهم فيها الأسرة في العمل التطوعي.

١-.....

٢-.....

ثالثاً: رتب الأحداث التاريخية الآتية من الأقدم إلى الأحدث وذلك بكتابة رقم الترتيب الصحيح بين القوسين:

٨

أ- () قيام الدولة الأموية.

ب- () تعريب الدواوين.

ج- () بناء مدينة بغداد.

د- () قيام الدولة العباسية.

السؤال الرابع:

أولاً: قارن بين ديوان الخراج وديوان المظالم من حيث وظيفة كل منها.

.....

.....




امتحان الصف الخامس لمادة الدراسات الاجتماعية

للعام الدراسي ١٤٣٥/١٤٣٦ هـ - ٢٠١٤/٢٠١٥ م

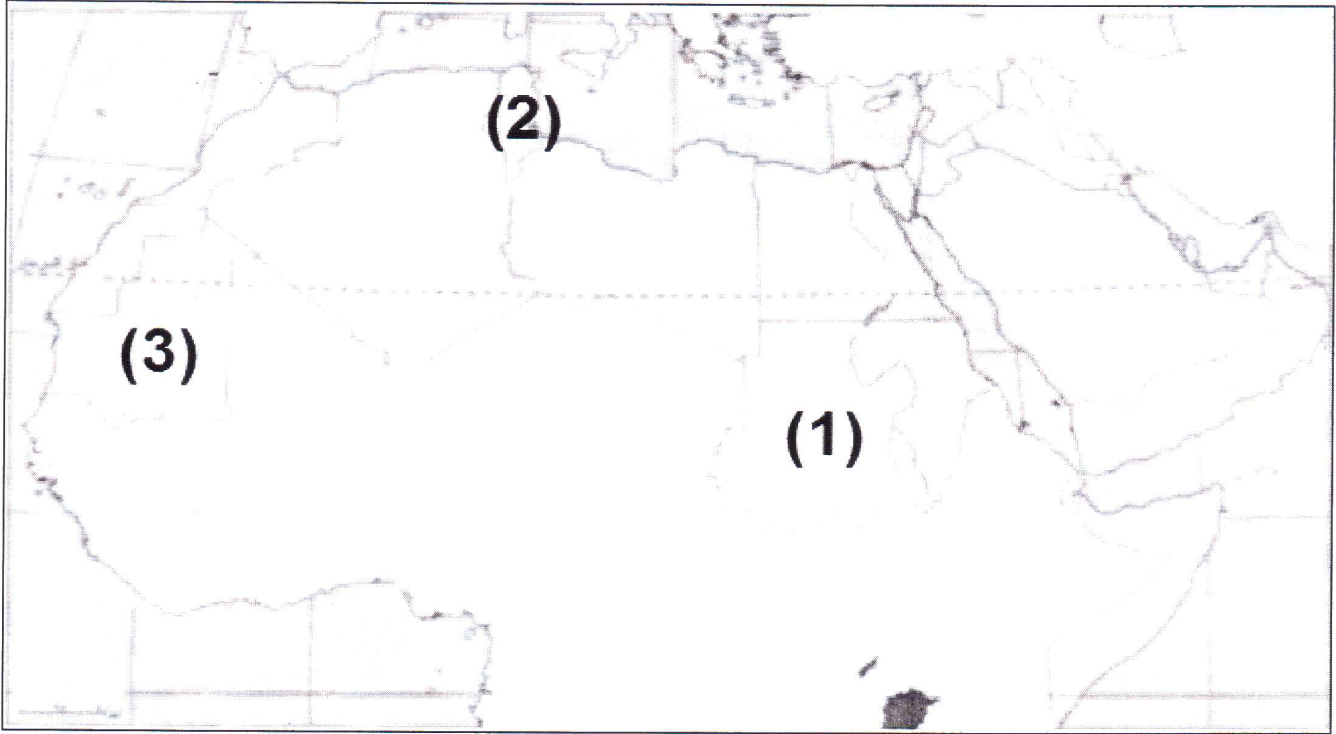
الفصل الدراسي الثاني - الدور الأول

ثانياً: أمامك شكل يوضح عملية توليد الطاقة الكهربائية من السدود الكبرى اكتب العبارات الآتية في مواضعها

الصحيح على الشكل: شبكة نقل الكهرباء - أنابيب المياه - سد لتخزين المياه



ثالثاً: أمامك خريطة صماء للوطن العربي ادرسها جيداً ثم أجب عن ما يليها من أسئلة:



أ- ضع دائرة حول الدولة التي تقع فيها عاصمة الدولة العباسية.

ب- استخرج من الخريطة الرقم الذي يشير إلى دولة كانت يسميها المسلمون ولاية إفريقية. ()

ج- اكتب المحيط الأطلسي في موقعه على الخريطة.

انتهت الأسئلة مع تمنياتنا لكم بالتوفيق والنجاح



المديرية العامة للتربية والتعليم لحافظة مسندم

نموذج إجابة امتحان الصف الخامس

للعام الدراسي ١٤٣٥/١٤٣٦ هـ - ٢٠١٤/٢٠١٥ م

الدور الأول - الفصل الدراسي الثاني

المادة: الدراسات الاجتماعية

الدرجة الكلية (١٦) درجة

إجابة السؤال الأول الموضوعي

المفردة	١	٢	٣	٤	٥	٦	٧	٨
البديل الصحيح	د	ج	ب	أ	ج	د	أ	ج
الإجابة	الأمطار	لبنان	الفيروان	الأندلس	التنمية الاجتماعية	قلة المسطحات الخضراء	الرعي الجائر	٤
الدرجة	٢	٢	٢	٢	٢	٢	٢	٢
الصفحة	٥٥	٧٣	٢١	٢٤	٩٠	٤٨	٥١	٣٠
المخرج التعليمي	-	-	-	-	-	-	-	-

الدرجة الكلية (٨) درجة

إجابة السؤال الثاني

المخرج التعليمي	الصفحة	الدرجة	الإجابة	المفردة	الجزئية
	٢٣	١	اتساع مساحتها-تعدد شعوبها-صعوبة الاتصال والموصلات بين أجزائها-تزايد معارضة الحكم الأموي من العلويين والعباسيين (يكتفى ب ٢ لكل منها نصف درجة)	-	أولا
	٩٨	١	التعاون في موسم جني التمور-حصاد التمور-الجداد	أ	ثانيا
	٩٨	١	تجميع التمور في مكان واحد أسفل النخلة /إذا عبر الطالب بإجابة أخرى توضح دورهم في جني التمور في البيئة المحلية تعتبر الإجابة صحيحة	ب	
	٩٩	١	تقديم التهاني-مساعدة أهل العريس-المشاركة بالفنون الشعبية/أو ما يفيد المعنى (يكتفى بإجابة واحدة)	ج	
	٦٦	١	طاقة متجددة	أ	ثالثا
	٦٦	١	الغاز أو النفط أو الطاقة النووية	ب	
	٦٦	٢	منزلية صناعية -تجارية (يكتفى باثنين ولا يشترط الترتيب)	ج+د	



تابع أنموذج إجابة امتحان الصف الخامس
للعام الدراسي ١٤٣٥/١٤٣٦ هـ - ٢٠١٤/٢٠١٥ م

المادة: الدراسات الاجتماعية

الدور الأول - الفصل الدراسي الثاني

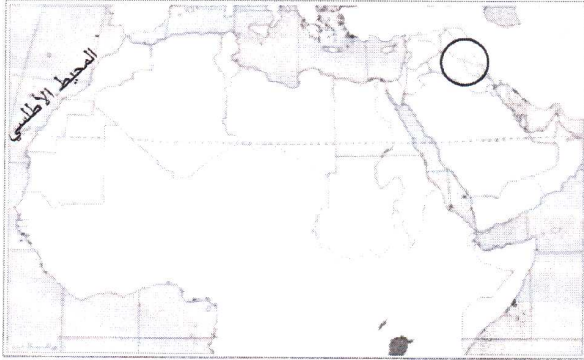
الدرجة الكلية (٨) درجة

إجابة السؤال الثالث

المخرج التعليمي	الصفحة	الدرجة	الإجابة	المفردة	الجزئية
	٤٠	١	النمو السكاني	أ	أولاً
	١٦	١	القووط	ب	
	٤٦	٢	١-توفر المياه ٢-توفر التربة الخصبة الصالحة للزراعة.	أ	ثانياً
	٨٢	٢	تجميل الحي -المحافظة على نظافة الشوارع والحدائق - زراعة الأشجار -زيارة المرضى - مساعدة الضعفاء والمحتاجين / أو أي عمل يقترحه الطالب ويكون في مجال العمل التطوعي(يكتفى باثنين لكل منها درجة)	ب	
	١٠	٠.٥	١	أ	ثالثاً
	١٩	٠.٥	٢	ب	
	٣٠	٠.٥	٤	ج	
	٢٥	٠.٥	٣	د	

الدرجة الكلية (٨) درجة

إجابة السؤال الرابع

المخرج التعليمي	الصفحة	الدرجة	الإجابة	المفردة	الجزئية
	٢٨ و ٢٠	٢	ديوان الخراج جمع أموال الدولة وحفظها. وديوان المظالم النظر في شكاوى المظلومين	-	أولاً
	٦٩	١	أنابيب المياه	أ	ثانياً
	٦٩	١	شبكة نقل الكهرباء	ب	
	٦٩	١	سد لتخزين المياه	ج	
	١٤ و ٢٦	٢		أ + ج	ثالثاً
	١٤	١	٢	ب	

انتهى النموذج