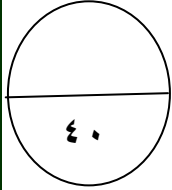




امتحان الدور الثاني للفصل الدراسي الأول للصف الخامس للعام الدراسي ٢٠١١ / ٢٠١٢ م

المادة: الدراسات الاجتماعية الفصل الدراسي الأول الاختبار في ٤ صفحات الزمن: ساعتان
اسم الطالب: الصف: ٥/___ المدرسة:



أجب عن جميع الأسئلة التالية:

السؤال الأول: ضع دائرة حول الحرف الدال على الإجابة الصحيحة من بين البدائل المعطاة:

١ - جميع القبائل التالية من عرب الجنوب ما عدا :

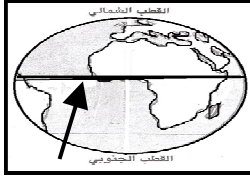
د - الخزرج

ج - الأوس

ب - قريش

أ - الغساسنة

٢ - السهم الذي يظهر في الخريطة المقابلة يشير إلى دائرة :



ب - غرينتش

أ - الجدي

د - الاستواء

ج - السرطان

٣ - من أكبر دول شبة الجزيرة العربية مساحة :

د - قطر

ب - سلطنة عمان

ج - المملكة العربية السعودية

أ - الكويت

٤ - أقل الشهور أمطارا حسب ما يوضحه الجدول التالي في منطقة سيق بالجليل الأخضر :

الشهر	يناير	فبراير	مارس	أبريل	مايو	يونيو	يوليو	أغسطس	سبتمبر	أكتوبر	نوفمبر	ديسمبر
الأمطار	٢٣	٤٦	٥٨	٣٧	٢٦	١٣	٤٧	٥٩	٢٦	٨	٦	١١

٥ - أكتوبر ونوفمبر

ب - مارس وأغسطس

ج - يونيو ويوليو

د - نوفمبر وديسمبر

٥ - الدولة التي يجري بها نهر دجلة:

د - العراق

ج - الصومال

ب - المغرب

أ - موريتانيا

٦ - مدينة تجارية مهمة لها رحلتان مشهورتان قديما (الشتاء والصيف):

د - سبأ

ج - مكة

ب - الطائف

أ - المدينة المنورة

٧ - حركة الردة ظهرت في عهد الخليفة الراشدي:

د - عثمان بن عفان

ج - علي بن أبي طالب

ب - عمر بن الخطاب

أ - أبو بكر الصديق

٨ - تقع صحراء الربع الخالي في قارة :

د - أمريكا الشمالية

ج - أفريقيا

ب - آسيا

أ - استراليا

يتبع ص ٢ <<< ...

السؤال الثاني :

أجب عن الأسئلة الآتية :

١ - ما المقصود بكل مما يلي :

أ - القبيلة :

.....
.....

ب - الأمصار :

.....
.....

٢ - علل لما يلي :

أ - صعوبة ممارسة الزراعة في المناطق الجبلية باستخدام الآلات الزراعية .

.....
.....

ب - يعرف سكان الصحاري العربية باسم البدو الرحل .

.....
.....

٣ - أ - أكتب اسم الكثيب الرملي لكل شكل من الأشكال التالية :



٢ -



١ -

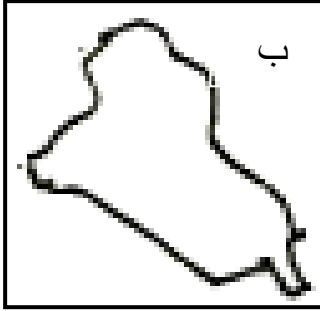
ب - صنف السهول التالية إلى سهول ساحلية وسهول داخلية :

(سهل حوران ، سهل تهامة ، سهل الباطنه ، سهل السبو)

سهول ساحلية	سهول داخلية

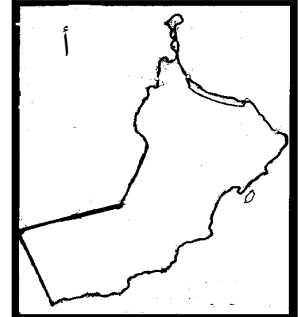
السؤال الثالث :

١ - أختَر من بين الأقواس اسم الدولة (مصر ، الجزائر ، العراق ، سلطنة عمان) التي تظهرها الخرائط الصماء،
ثم أكتبه بجانب كل خريطة :



أ -
.....

ب -
.....



٢ - من خلال ما يوضحه الجدول الآتي قارن بين الدولة الفارسية ودولة الأحباش من حيث :
أ - الديانة ب - النشاط الاقتصادي

النشاط الاقتصادي	الديانة	الدولة
		الفارسية
		الأحباش

٣ - اقترح حلا واحدا لكل من المشكلات التالية :

أ - نقص الموارد المائية في الوطن العربي .

ب - زحف الرمال على المزارع والقرى .

السؤال الرابع :

١ - أكتب الأحداث التاريخية التالية في الجدول أمام السنة الهجرية التي حدثت فيها :
(وفاة الرسول صلى الله عليه وسلم ، غزوة بدر ، فتح مكة ، عام الوفود)

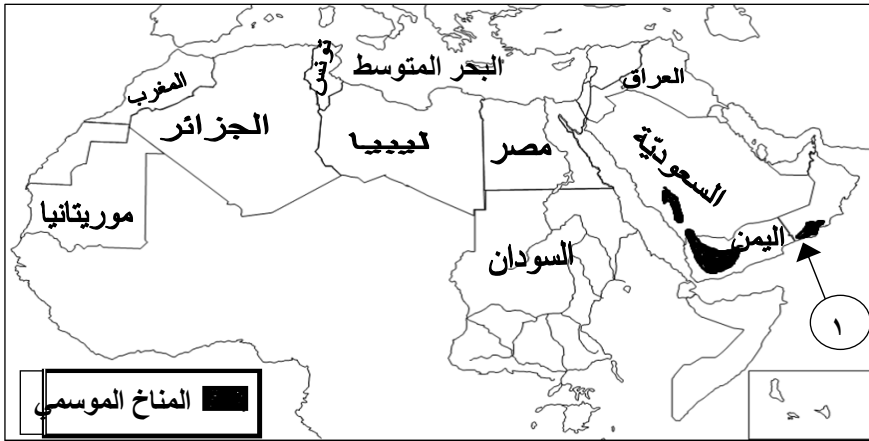
السنة الهجرية	٢هـ	٨هـ	٩هـ	١١هـ
الحدث التاريخي				

يتبع ص ٤ <<<...

تابع امتحان الدور الثاني للفصل الدراسي الأول في مادة الدراسات الاجتماعية للصف الخامس
للعام الدراسي ٢٠١١/٢٠١٢م

السؤال الرابع :

٢ - ادرس الخريطة التالية ثم
اجب عن الأسئلة التي تليها :



أ - في أي فصل تسقط الأمطار على المنطقة المشار إليها بالرقم ؟ .

ب - أكتب على الخريطة موقع المحيط الأطلسي .

ج - استخرج من الخريطة اسم دولتين تتأثران بالمناخ الموسمي.

٣ - ادرس الجدول التالي ثم أجب عن الأسئلة التالية:

الشهر	يناير	فبراير	مارس	أبريل	مايو	يونيو	يوليو	أغسطس	سبتمبر	أكتوبر	نوفمبر	ديسمبر
الأمطار ملليمترات في إب باليمن	١٠	١٥	٤٨	١٢٠	٢٢٠	٢٤٥	٢٥٠	٢٥١	١٩٠	٦٨	٣٠	٥
الأمطار ملليمترات في قيرون حيريتي في السلطنة	١	٢	١٣	٦	-	٣٢	٩٤	٧٠	١٦	٠,٣	٠,٩	٨


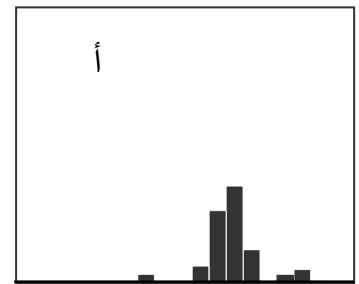

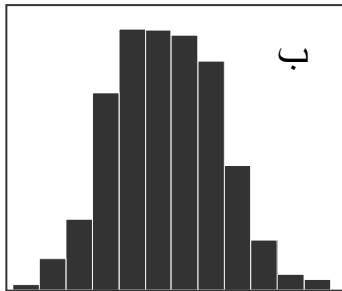
أ - الشهر الذي تكون فيه الأمطار أعلاها في كل من :

١ - إب :

٢ - قيرون حيريتي :

ب - ما الشهر الذي لم تسقط فيه أمطار في قيرون حيريتي ؟ .

ج - حدد الرسم البياني المناسب الذي يمثل كمية سقوط المطر في كل من إب و قيرون حيريتي.



انتهت الأسئلة

مع تمنياتنا لكم بالتوفيق والنجاح