

سلطنة عُمان
وزارة التربية والتعليم

المديرية العامة للتربية والتعليم لمحافظة مسندم
امتحان الصف السادس

للعام الدراسي ١٤٣٥/١٤٣٦ هـ - ٢٠١٤/٢٠١٥ م
الفصل الدراسي الثاني - الدور الأول

- المادة : الدراسات الاجتماعية
- زمن الإجابة : ساعة ونصف
- عدد صفحات أسئلة الامتحان : (٤)
- الإجابة في الورقة نفسها

اسم الطالب	
المدرسة	الشعبة

السؤال	الدرجة بالأرقام (بالأحمر)		الدرجة بالحروف (بالأحمر)	التوقيع بالاسم	
	آحاد	عشرات		المصحح (بالأحمر)	المدقق (بالأخضر)
١					
٢					
٣					
٤					
٥					
المجموع				مراجعة الجمع والتشطيب (بالأزرق)	جمعه (بالأحمر)
المجموع الكلي	٤٠				



امتحان الصف السادس لمادة الدراسات الاجتماعية

للعام الدراسي ١٤٣٥/١٤٣٦ هـ - ٢٠١٤/٢٠١٥ م

الفصل الدراسي الثاني - الدور الأول

(أجب عن جميع الأسئلة)

السؤال الأول: ضع دائرة حول رمز الإجابة الصحيحة من بين البدائل المعطاة:

١- تعرف عملية التحريج بـ:

أ- الحراثة حول المنحدرات ب- الرعي الجائر ج- زراعة الغابات د- تعرية التربة

٢- بلغ عدد المدارس في سلطنة عمان مع بداية عصر النهضة حوالي:

أ- عشر مدارس ب- ثلاث مدارس ج- خمسة عشر مدرسة د- مائة مدرسة.

٣- تغطي مساحة الغابات بأنواعها المختلفة حالياً:

أ- ثلث مساحة الأرض ب- نصف مساحة الأرض ج- ربع مساحة الأرض د- الأرض واليابس

٤- قال تعالى: (هو الذي جعل لكم الأرض ذلولاً فامشوا في مناكبها وكلوا من رزقه واليه النشور) سورة الملك (الآية

١٥) تحثنا هذه الآية على:

أ- العمل ب- إدارة الوقت ج- الأمانة د- الصدق

٥- القارة التي تقع فيها مدينة بلم هي :

أ- اسيا ب- افريقيا ج- أمريكا الجنوبية د- اوروبا

٦- على كل مواطن ان يكون حارساً أميناً على مكتسبات الوطن ومنجزاته. من خطاب صاحب الجلالة في العيد

الوطني الرابع والعشرين (عام التراث) هذا الخطاب يتضمن واجباً على المواطن العماني تجاه وطنه هو:

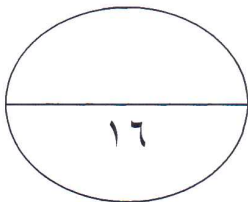

أ- الدفاع عن الوطن ب- الدفاع عن الممتلكات الخاصة ج- حماية البيئة د- منع التلوث

٧- الشكل المقابل يمثل بعض أنواع الحياة البرية التي توجد في:

أ- المنطقة القطبية ب- منطقة السافانا ج- منطقة الصحراء د- إقليم البحر المتوسط

٨- القارة الوحيدة التي لا توجد فيها صحراء هي:

أ- اسيا ب- أمريكا الجنوبية ج- استراليا د- اوروبا





امتحان الصف السادس لمادة الدراسات الاجتماعية

للعام الدراسي ١٤٣٥/١٤٣٦ هـ - ٢٠١٤/٢٠١٥ م

الفصل الدراسي الثاني - الدور الأول

السؤال الثاني: اجب عن الأسئلة التالية:

أولاً: ١- استعن ببعض العبارات الآتية لإكمال الجدول أدناه: (5° شمالي وجنوبي خط الاستواء - 8° شمالي وجنوبي

خط الاستواء - 5° و 15° شمالي وجنوبي خط الاستواء - حشائش صغيرة - غابات كثيفة - حشائش طويلة)

الخصائص	الإقليم الاستوائي	إقليم السافانا
الموقع بالنسبة لدوائر العرض	أ-.....	ب-.....
نوع الغطاء النباتي	ج-.....	د-.....

٢- رتب تصاعدياً من (الأدنى الي الأعلى) النظم البيئية التالية حسب قربها من خط الاستواء:

الغابات الصنوبرية، حشائش السافانا، نباتات التندرا، الغابات الاستوائية.


.....

ثانياً: ما المقصود بالمفاهيم والمصطلحات التالية:

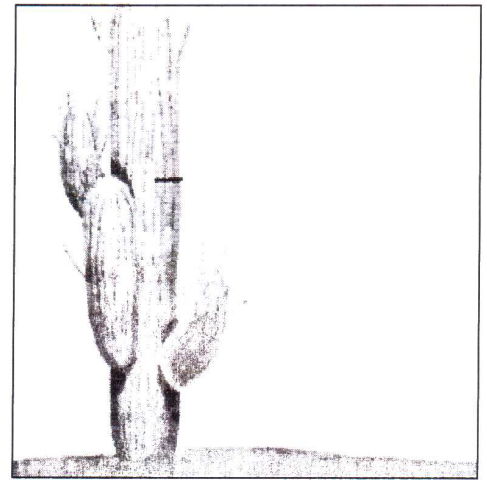
أ- الأمانة.....

ب- إدارة الوقت:.....

ثالثاً: اكتب أسفل الصورتين التاليتين أسلوب التكيف مع ظروف البيئة الصحراوية :



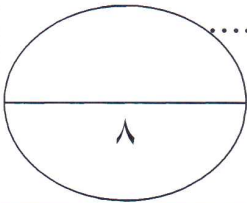
ب-.....



أ-.....

.....

.....





امتحان الصف السادس لمادة الدراسات الاجتماعية

للعام الدراسي ١٤٣٥/١٤٣٦ هـ - ٢٠١٤/٢٠١٥ م

الفصل الدراسي الثاني - الدور الأول

السؤال الثالث: اجب عن الأسئلة التالية:

أولاً: مستعينا بالمفاهيم والمصطلحات الاتية (الوفاء - الصدق - الواجبات-النظام الأساسي-الحقوق-الوطن) اكتب

المفهوم او المصطلح الذي يتناسب بين الاقواس :

أ-وثيقة رسمية تعرف بالدولة ونظمها ومبادئها الموجهة لسياساته. (.....)

ب- تطابق القول مع الفعل الواقع. (.....)

ج- بقعة الأرض التي أعيش عليها وعاش عليها آبائي واجدادني. (.....)

ثانياً: أقرأ الفقرة التالية ثم أجب عن الأسئلة :

" تعد المحافظة على البيئة والتنوع الأحيائي في سلطنة عمان امراً جوهرياً، لذلك حرصت السلطنة على توقيع اتفاقيات

في هذا الجانب منذ عام ١٩٩٢م خلال انعقاد مؤتمر قمة الأرض العالمي بمدينة ريودي جانيرو "

أ- في أي عام وقعت السلطنة اتفاقية التنوع الأحيائي.....

ب-ما اسم الدولة التي انعقد فيها مؤتمر قمة الأرض العالمي.....

ثالثاً: صنف الاعمال الاتية وفقاً للمعطيات الواردة في الجدول ادناه :

(أعمال حفر - صناعة الأجهزة - السباكة)

أعمال لا تحتاج إلى تأهيل دراسي	أعمال بدوية تحتاج إلى خبرة وتأهيل دراسي	أعمال بدوية تحتاج إلى خبرة وتأهيل دراسي عالي
أ-.....	ب-.....	ج-.....

السؤال الرابع : أجب عن الأسئلة

أولاً: أكمل المخطط الذهنية الاتي مستعينا ببعض من الاعمال والتخصصات التالية
(أعمال السيارات - أعمال الانشاءات - لحام - تمديدات منزلية - الاثاث)

مراكز التدريب
المهني

أعمال النجارة

أ-.....

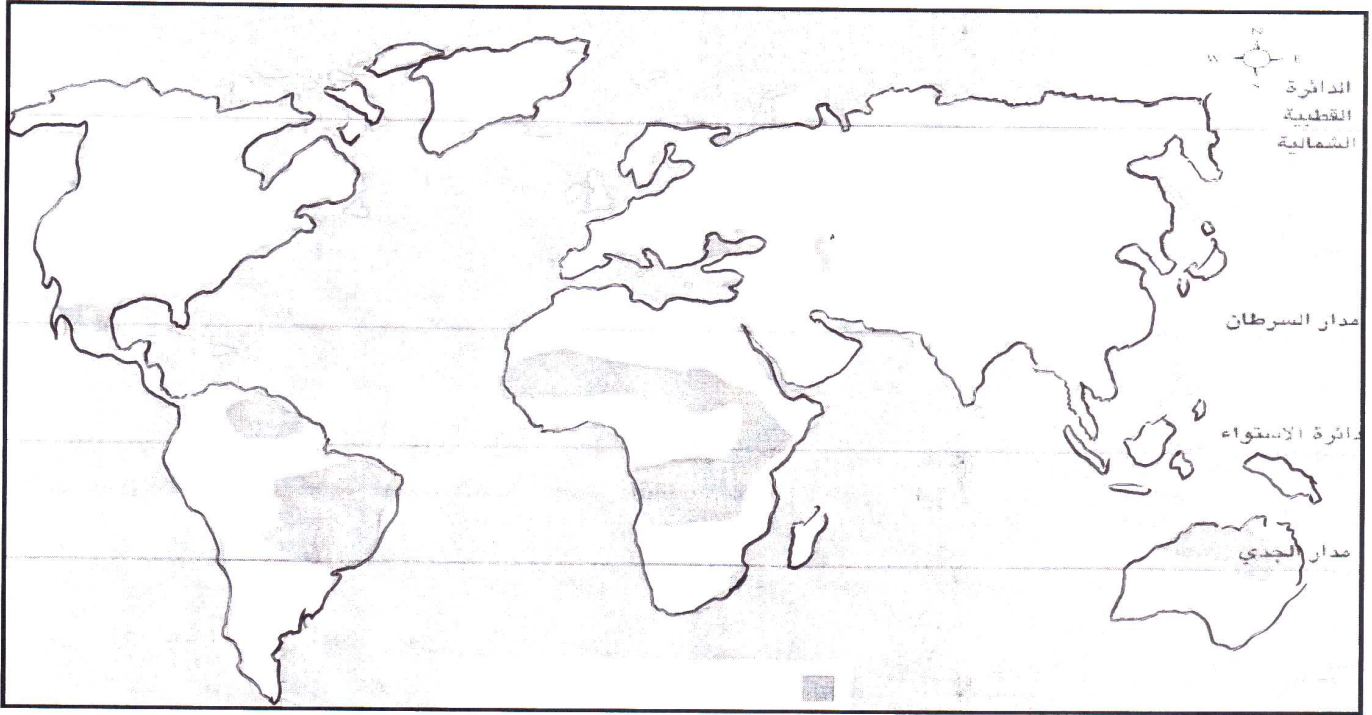
أعمال الميكانيكا

ب-.....

البناء

ج-.....

ثانياً: ادرس خريطة العالم التي امامك جيداً ثم اجب على الأسئلة التي تليها:



أ- ما نوع البيئة التي تمثلها الخريطة؟

ب- ينحصر التوزيع الجغرافي لهذه البيئة في نطاق يقع جنوبي مدار وشمالي مدار

ج- اكتب أسماء القارات التي لا يوجد فيها هذه البيئة

ثالثاً: انظر الى الصورة التي امامك ثم اجب عن الأسئلة التي تليها:

أ- ما المشكلة التي تظهر في

الصورة.....

.....

ب- اقترح حلاً مناسباً للمشكلة التي تظهر

بالصورة.....

.....



(انتهت الأسئلة مع تمنياتنا لكم بالتوفيق والنجاح)



مملكة البحرين
وزارة التربية والتعليم

المديرية العامة للتربية والتعليم محافظة مسندم

نموذج إجابة امتحان الصف السادس

للعام الدراسي ١٤٣٥/١٤٣٦ هـ - ٢٠١٤/٢٠١٥ م

الفصل الدراسي الثاني - الدور الأول

المادة: الدراسات الاجتماعية

الدرجة الكلية (١٦) درجة

إجابة السؤال الأول الموضوعي

المفردة	١	٢	٣	٤	٥	٦	٧	٨
البديل الصحيح	ج	ب	أ	أ	ج	أ	ب	د
الدرجة	٢	٢	٢	٢	٢	٢	٢	٢
الصفحة	٤٠	٥٣	١٩	٧٢	٢١	٥٨	٢٦	٣١
المخرج التعليمي	-	-	-	-	-	-	-	-

الدرجة الكلية (٨) درجة

إجابة السؤال الثاني

المخرج التعليمي	الصفحة	الدرجة	الإجابة	المفردة	الجزئية
	١٩	٠.٥	(٥ درجة ش وج) خط الاستواء	(١)	أولاً أ ب ج د
		٠.٥	(٥ و ١٥ ش وج) خط الاستواء.	ب	
		٠.٥	الغابات الكثيفة	ج	
		٠.٥	المحاثش الطويلة.	د	
	٢٥	٢	-الاستوائي - السافانا -الغابات الصنوبرية - التندرا	(٢)	
	٦١	١	حفظ حقوق الناس من أموال وودائع واسرار.	أ	ثانياً
	٦٣	١	استثمار الوقت في الاعمال النافعة.	ب	
	٣٣	١	جزور طويلة تمتد الي أعماق المياه الجوفية مثل شجرة الاكاسيا.	أ	ثالثاً
	٣٣	١	سيقان شمعية ضخمة واوراق ابرية شوكية لمنع النعم كالصبار.	ب	



تابع أنموذج إجابة امتحان الصف السادس
للعام الدراسي ١٤٣٥/١٤٣٦ هـ - ٢٠١٤/٢٠١٥ م
الفصل الدراسي الثاني - الدور الأول
المادة: الدراسات الاجتماعية

الدرجة الكلية (٨) درجة

إجابة السؤال الثالث

المخرج التعليمي	الصفحة	الدرجة	الإجابة	المفردة	الجزئية
	٥١	١	النظام الأساسي للدولة	أ	أولا
	٥٩	١	الصدق.	ب	
	٥٠	١	الوطن.	ج	
	١٥	١	١٩٩٢م	أ	ثانيا
	١٥	١	البرازيل.	ب	
	٧٦	١	اعمال الحفر.	أ	ثالثا
	٧٦	١	اعمال السباكة.	ب	
	٧٦	١	صناعة الأجهزة.	ج	

الدرجة الكلية (٨) درجة

إجابة السؤال الرابع:

المخرج التعليمي	الصفحة	الدرجة	الإجابة	المفردة	الجزئية
	٨٠	١	اعمال الانشاءات	أ	أولا
	٨٠	١	الاناث	ب	
	٨٠	١	لحام	ج	
	٣٥-	١	بيئة الحشائش الطويلة. (السافانا)	أ	ثانيا
	٣٦	١	مدار السرطان - مدار الجدي.	ب	
	٣٥	١	هي قارة اسيا واوروبا	ج	
	٣٨	١	القطع الجائر للغابات -التحطيب	أ	ثالثا
	٣٨	١	التحريج -زيادة الوعي البيئي بمخاطر استنزاف الموارد - توفير بدائل الوقود	ب	

انتهى النموذج....