



امتحان الصف السابع الأساسي

للعام الدراسي ١٤٣٥/١٤٣٦ - ٢٠١٤/٢٠١٥ م

الفصل الدراسي الثاني - الدور الأول

\* عدد الصفحات : (٦) ورقات

● المادة : الدراسات الاجتماعية

\* الإجابة في الورقة نفسها

● زمن الإجابة : ساعة ونصف

		اسم الطالب
الشعبة		المدرسة

(التوقيع بالاسم)		الدرجة بالحروف (بالأحمر)	الدرجة بالإرقام بالأحمر	السؤال
المدقق (بالأخضر)	المصحح (بالأحمر)			
				١
				٢
				٣
				٤
				٥
	مراجعة الجمع والتشطيب (بالأزرق)	جمعه (بالأحمر)		المجموع الكلي

يعتمد ،،،

المعلم الأول

[ ١٦ درجة ]

السؤال الأول: اختر الحرف الدال على الإجابة الصحيحة من بين البدائل المعطاة :



١. يمثل القناع في الصورة المقابلة أحد أهم فراعنة مصر في عهد الدولة الحديثة :

ب - رمسيس الثاني

أ- أمنحوتب الرابع

د - تحتمس الثالث

ج - توت عنخ آمون

٢. يطلق على الخطط التي يتم تصميمها بهدف تطوير الحياة الاقتصادية والاجتماعية لمجموعة معينة من الناس

اسم:

د - التوسط و المركزية

ج - التنمية الريفية

ب - التطور

أ- التحضر

٣. أول أمة بحرية في التاريخ :

د - السومريون

ج - الآموريون

ب - الفينيقيون

أ- الآشوريون



٤. توضح الصورة المقابلة إحدى المشكلات التي تعاني منها المدن :

ب - الازدحام والاختناقات المرورية

أ- الصرف الصحي

د - تلوث الهواء

ج - الإسكان

٥. الاله الذي كان الملك حمورابي يتلقى منه تشريعاته:

ب - برعو

أ- عشتار

د - آشور

ج - شمس

٦. يمثل الشكل المقابل إحدى مراحل تطور المجتمعات البشرية التي حققها الإنسان وهي مرحلة:-

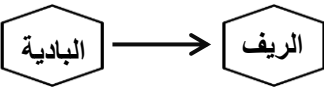
ب - الصيد والرعي

أ- الصناعة

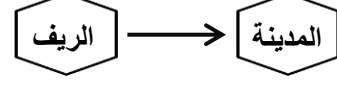
د - التجارة

ج - الزراعة

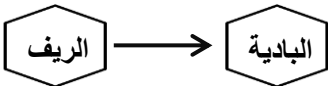
٧. الشكل الذي يشير إلى مفهوم التراجع الحضري :



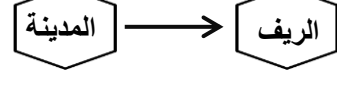
ب-



أ-



د-



ج-

٨. عقدت السلطنة ندوة التصحر في محافظة ظفار في العام الميلادي :

د- ٢٠٠٦

ج- ٢٠٠٤

ب- ٢٠٠٢

أ- ٢٠٠٠

السؤال الثاني : أجب عن الأسئلة الآتية :

[ ٨ درجات ]

أولاً:

(أ) فسر :- تسمية الملك مينا (نارمر) بصاحب التاجين ؟

---

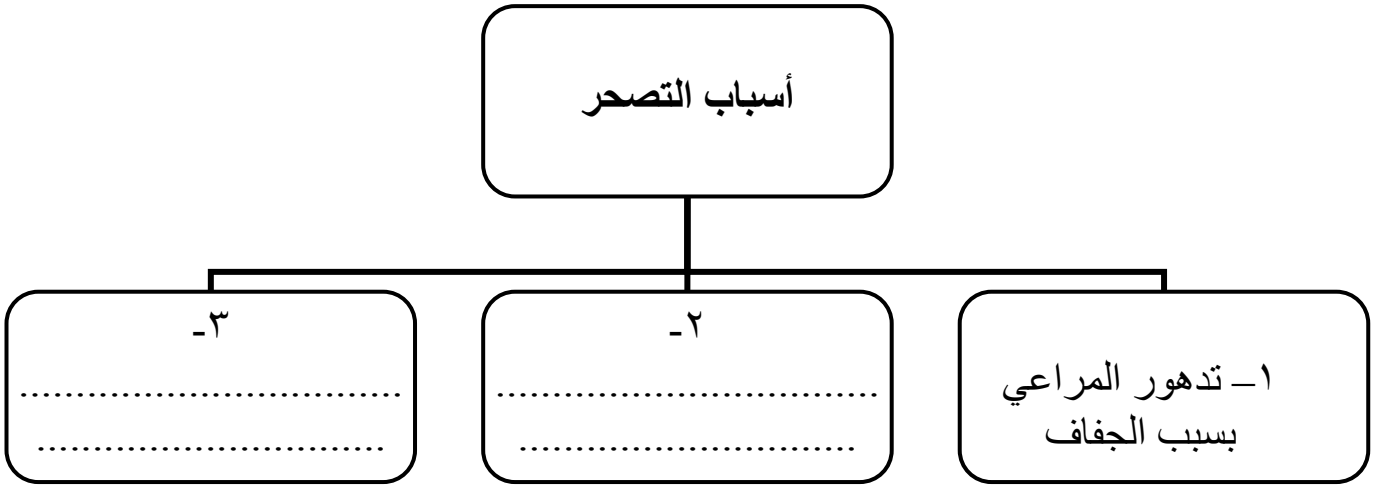
---

(ب) علل :- تنشط حركة الهجرة من الريف إلى الحضر .

---

---

ثانياً: أكمل المخطط الآتي بكتابة أسباب ظاهرة التصحر :



ثالثاً:

(أ) أذكر أبرز مظاهر عصر الدولة الوسطى في مصر القديمة .

---

---

(ب) عرف حضارات وادي النيل .


---

---

[ ٨ درجات ]

السؤال الثالث: أجب عن الاسئلة الآتية :

أولاً: من خلال الشكل الموجود أمامك أجب عن الآتي :-



(أ). يمثل الشكل المقابل أحد الأثار المصرية ويعرف بتمثال \_\_\_\_\_

(ب) . إلى ماذا يرمز كلاً من :-

١- الجسم \_\_\_\_\_

٢- الرأس \_\_\_\_\_

(ج). الملك الذي أمر بنحت هذا التمثال \_\_\_\_\_

ثانياً : من خلال الشكل الموجود أمامك والذي يوضح الخدمات الأساسية التي تقدمها السلطنة أجب عن الآتي :

(أ). ما نوع الخدمة التي توضحها الصورة ؟

(ب). ما أهميتها للمواطن ؟

١- \_\_\_\_\_

٢- \_\_\_\_\_

ثالثاً:

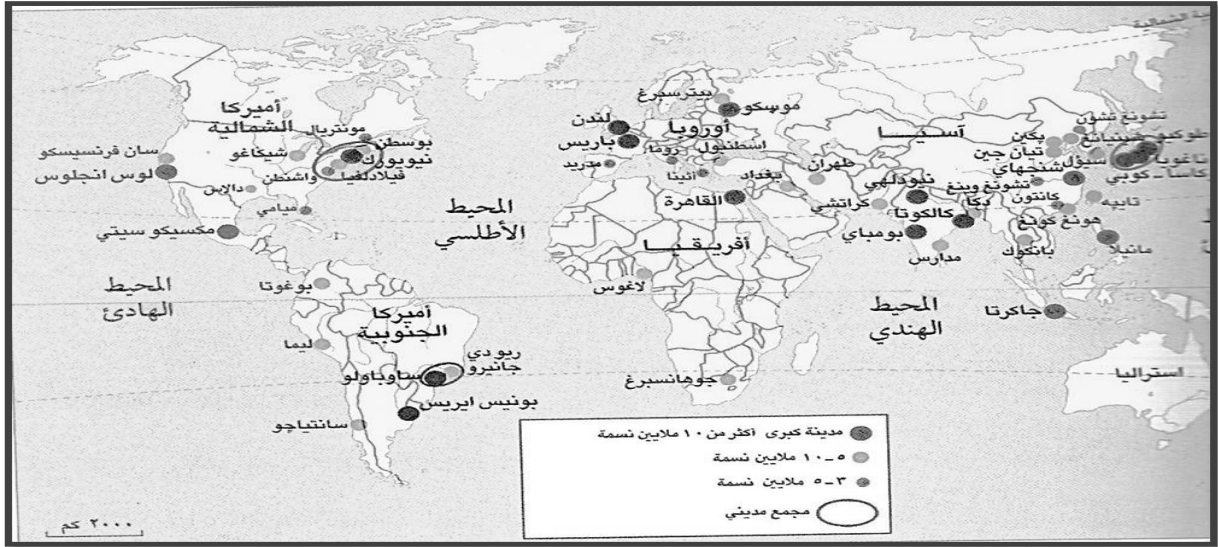
- قارن بين الريف والحضر من حيث :-

وجوه المقارنة	الريف	الحضر
الخصائص	..... ..... .....	..... ..... .....

تابع : امتحان نهاية الفصل الدراسي الثاني - الدور الأول - العام الدراسي ٢٠١٤/٢٠١٥ م.  
المادة : الدراسات الاجتماعية

[ ٨ درجات ]

السؤال الرابع : أجب عن الأسئلة الآتية :  
أولاً: أمامك خريطة المدن المليونية في العالم .. أدرسها جيدا ثم أجب عن الاسئلة التي تليها :

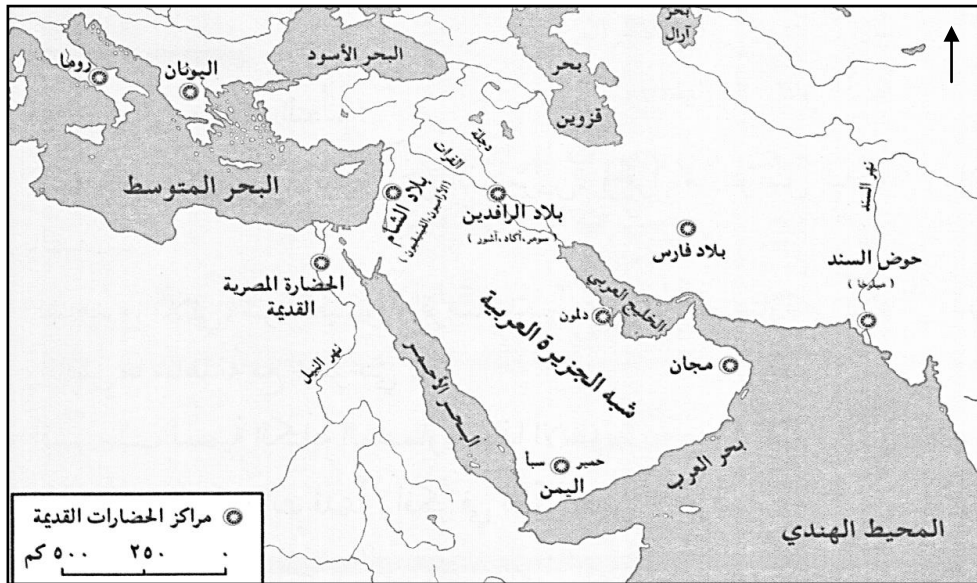


أ) . استخراج مدينة مليونية عربية يزيد عدد سكانها عن ١٠ ملايين نسمة ؟

ب) . سم القارة التي تخلو من المدن المليونية ؟

ج) . إلى ماذا يشير هذا الرمز ( ) في الخريطة ؟

ثانياً: أمامك خريطة مراكز الحضارات القديمة .. أدرسها جيدا ثم أجب عن الاسئلة التي تليها :



أ) ضع دائرة حول اسم الحضارة التي قامت جنوب غربي الجزيرة العربية .

ب) استخراج من الخريطة الحضارة التي قامت على الجانب الغربي من الخليج العربي .

ج) . من الحضارات التي قامت في أوروبا . (أكمل)

تابع : امتحان نهاية الفصل الدراسي الثاني - الدور الأول - العام الدراسي ٢٠١٤/٢٠١٥ م.  
المادة : الدراسات الاجتماعية

تابع : السؤال الرابع :  
ثالثاً: صنف الأعمال الآتية في الجدول التالي :-

( زود جيشه بالعجلات الحربية والأسلحة المصنوعة من الحديد- جمع علوم البابليين وآدابهم وحفظها في مكتبة نينوى -  
اتخذ أكاد عاصمة لدولته - بنى الحدائق المعلقة )

أهم أعماله	أشهر الملوك
..... .....	نبوخذ نصر الثاني
..... .....	أشور بانيبال
..... .....	سرجون الثاني
..... .....	سرجون الأول

انتهت الأسئلة مع تمنياتنا لكم بالتوفيق والنجاح



المديرية العامة للتربية والتعليم لمحافظة البريمي  
نموذج إجابة امتحان الصف السابع الأساسي  
للعام الدراسي ٢٠١٤/٢٠١٥م  
الفصل الدراسي الثاني ( الدور الأول )

المادة: الدراسات الاجتماعية الدرجة الكلية: ( ٤٠ ) درجة  
تنبيه: نموذج الإجابة في ( ٤ ) صفحات

أولاً: إجابة السؤال الموضوعي:-

الدرجة الكلية: ( ١٦ ) درجة			إجابة السؤال الأول		
ملاحظات	الصفحة	الدرجة	الإجابة	البديل الصحيح	المفردة
	٤٨	٢	توت عنخ أمون	ج	١
	١٨	٢	التنمية الريفية	ج	٢
	٦٦	٢	الفينيقيون	ب	٣
	٢٩	٢	الأزدهام والاختناقات المرورية	ب	٤
	٥٦	٢	شمس	ج	٥
	١٢	٢	الزراعة	ج	٦
	٢٣	٢	من المدينة إلى الريف	ج	٧
	٢٢	٢	٢٠٠٢	ب	٨
					٩
					١٠
					١١
					١٢
١٦			المجموع		

تابع نموذج إجابة امتحان الصف السابع الاساسي  
للعام الدراسي ٢٠١٤/٢٠١٥ م  
الفصل الدراسي الثاني - الدور الأول  
المادة: الدراسات الاجتماعية

ثانياً: إجابة الأسئلة المقالية:-

إجابة السؤال الثاني				
الجزئية	المفردة	الإجابة الصحيحة	الدرجة	الصفحة
أولاً	أ	لأنه اتخذ تاجاً مزدوجاً من تاج الشمال وتاج الجنوب	درجة	٤٠
	ب	١- تركيز الخدمات والصناعات في المدن . ٢- توافر فرص العمل . ٣- ارتفاع معدل الدخل . ( يكتفى بذكر اثنتين فقط )	درجتان لكل مفردة درجة	١٨
ثانياً	أ	<p style="text-align: center;">أسباب التصحر</p> <pre> graph TD     A[أسباب التصحر] --&gt; B[٢- الرعي الجائر]     A --&gt; C[٣- تملح التربة وانجرافها .] </pre>	درجتان لكل مفردة درجة	٢٢
ثالثاً	أ	١- استغلال المناجم والمحاجر . ٢- استئناف العلاقات التجارية مع البلدان المجاورة . ٣- إقامة السدود وقنوات الري . ٤- حفر قناة تربط بين البحر الأحمر والبحر المتوسط عن طريق نهر النيل . ٥- اهتم ملوك الدولة بتقوية الجيش وتأمين الحدود فأقاموا الأسوار وبنوا القلاع . ( يكتفى بذكر اثنتين فقط )	درجتان لكل مفردة درجة	٤٥
	ب	حضارات ظهرت على ضفاف نهر النيل وامتدت من أعالي وادي النيل جنوباً حتى مصبه في البحر المتوسط شمالاً .	درجة واحدة	٣٨



تابع نموذج إجابة امتحان الصف السابع الاساسي  
للعام الدراسي ٢٠١٤/٢٠١٥ م  
الفصل الدراسي الثاني - الدور الأول  
المادة: الدراسات الاجتماعية

تابع : إجابة الأسئلة المقالية :-

الدرجة الكلية: (٨) درجات			إجابة السؤال الثالث		
ملاحظات	الصفحة	الدرجة	الإجابة الصحيحة	المفردة	الجزئية
	٤٤	درجة	تمثال أبو الهول	أ	أولاً
	٤٤	درجة لكل مفردة نصف درجة	١- الجسم يرمز إلى القوة ٢- الرأس يرمز إلى العقل	ب	
	٤٤	درجة	الملك خفرع	ج	
	٣٥	درجة	الطرق	أ	ثانياً
	٣٥	درجتان لكل مفردة درجة	١- تربط مواقع الإنتاج بأسواق الاستهلاك والتصدير ٢- تعد مؤشر على التحضر في الدولة . ٣- تربط بين التجمعات السكانية بالمدن . ٤- ربط الدولة بالدول المجاورة . ( يكتفى بذكر اثنتين فقط )	ب	
	١٥ - ١٤	درجتان لكل مفردة درجة	الريف : - توافر الإمكانيات الطبيعية - توافر بعض الخامات الزراعية والحيوانية المستخدمة في الصناعة - انتشار نمط الأسرة الكبيرة - قوة العلاقات الأسرية بين أفراد المجتمع . ( يكتفى بذكر واحدة فقط ) الحضر : - توافر الخدمات والبنى التحتية - التوسط والمركزية . ( يكتفى بذكر واحدة فقط )	-	ثالثاً

تابع نموذج إجابة امتحان الصف السابع الاساسي  
للعام الدراسي ٢٠١٤/٢٠١٥ م  
الفصل الدراسي الثاني - الدور الأول  
المادة: الدراسات الاجتماعية

تابع : إجابة الأسئلة المقالية:-

إجابة السؤال الرابع :		الدرجة الكلية : ( ٨ ) درجات	
الجزئية	المفردة	الإجابة الصحيحة	الدرجة
أولاً	أ	القاهرة	درجة
	ب	استراليا	درجة
	ج	مجمع مدني	درجة
ثانياً	أ	حضارة سبأ - حمير ( يكتفى بذكر واحدة فقط )	درجة
	ب	حضارة دلمون	درجة
	ج	اليونان - روما ( يكتفى بذكر واحدة فقط )	درجة
ثانياً		أهم أعماله	٥٩
		بنو الحقائق المعلقة	٥٧
		جمع علوم البابليين وآدابهم وحفظها في مكتبة نينوى	٥٧
		زود جيشه بالعجلات الحربية والأسلحة المصنوعة من الحديد	٥٤
		اتخذ أكاد عاصمة لدولته	
	أشهر الملوك		
	نبوخذ نصر		
	أشور بانيبال		
	سرجون الثاني		
	سرجون الأول		

نهاية نموذج الإجابة