



امتحان الصف التاسع
للعام الدراسي ١٤٣٥/١٤٣٦-٢٠١٤/٢٠١٥ م
الفصل الدراسي الثاني- الدور الثاني

عدد الصفحات (٤) ورقات .
الإجابة في الورقة نفسها

*المادة: الدراسات الاجتماعية
*زمن الإجابة في ساعة ونصف

		اسم الطالب
	الشعبة	المدرسة

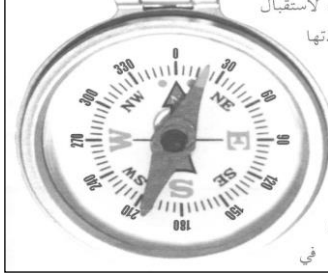
التوقيع بالاسم		الدرجة بالحروف (بالأحمر)	الدرجة بالأرقام بالأحمر	السؤال
المدقق بالأخضر	المصحح بالأحمر			
				١
				٢
				٣
				٤
	مراجعة الجمع والتشطيب (بالأزرق)	جمعه (بالأحمر)		المجموع الكلي

يعتمد ،،،،

المعلم الأول

أجب عن جميع الاسئلة الآتية

(١٦ درجات)



السؤال الأول : اختر الإجابة الصحيحة من بين البدائل المعطاة :

١- توضح الصورة المقابلة إحدى الأدوات المهمة للمعلم على السفينة :

- أ- الرهمانج
ب- البوصلة
ج- القنديل
د- الإسطرلاب

٢- الزيادات الكبيرة في أعداد السكان بالمقارنة مع الموارد المتاحة يعرف بـ:

- أ- الكثافة السكانية
ب- التربة السكانية
ج- الانفجار السكاني
د- المشكلة السكانية

٣- من خلال الجدول الذي أمامك القطاع الأكثر مساهمة في الناتج المحلي عام ١٩٩٩ م :

القطاع الاقتصادي	١٩٩٩م	٢٠٢٠م
النفط	٣٨,٣%	٩,٠%
الغاز	١,١%	١٠,٠%
الزراعة والاسماك	٢,٦%	٥,١%
الصناعة	٤,٢%	١٥,٠%
التجارة	١١,٨%	١٦,٠%

- أ- التجارة
ب- النفط
ج- الغاز
د- الصناعة

٤- أحد أجزاء السفينة يسمى جُؤجؤ السفينة وهو مجتمع رؤوس ألواح المركب :

- أ- العجز
ب- الجدار
ج- السكان
د- الصدر

٥- المدينة التي زارتها السفينة العمانية صحار عام ١٩٨١ م :

- أ- كانتون
ب- هينان
ج- قوانتشو
د- بكين



٦- الخريطة التي أمامك توضح دولة عبارة عن أرخبيل من الجزر تقع في شرق آسيا :

- أ- اليابان
ب- الصين
ج- كوريا
د- الفلبين

٧- دولة تقع في جنوب شرق آسيا عرفت قديماً باسم بورما :

- أ- فيتنام
ب- بوتان
ج- نيبال
د- ميانمار

٨- مرض وراثي يؤثر في صنع الدم فتكون مادة الهيموجلوبين في كريات الدم الحمراء غير قادرة على القيام بوظيفتها :

- أ- الثلاسيميا
ب- فقر الدم المنجلي
ج- الأنيميا
د- الكوليرا

(٨ درجات)

السؤال الثاني : اجب عن الاسئلة التالية :
أولاً ::

أ- أذكر اثنين من الآثار الاقتصادية والاجتماعية للانفجار السكاني .

١-

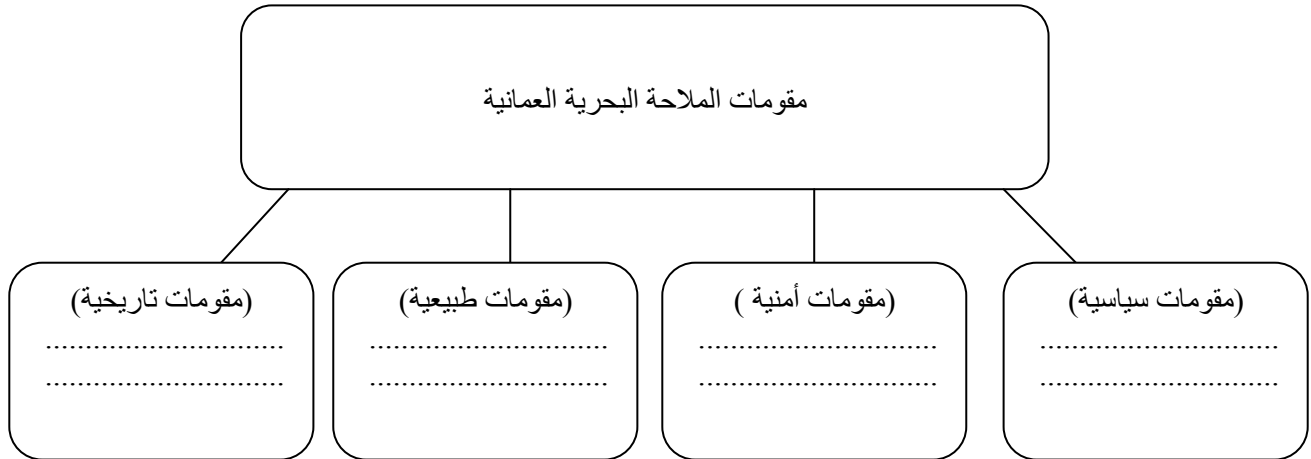
٢-

ب- دلل على تأثر الحضارة الفارسية بحضارة بلاد الرافدين .

ثانياً - دولة يبلغ عدد سكانها (٢,٠٠٠,٠٠٠) وتبلغ قوة العمل (القادرين على العمل) بها حوالي (١,٠٠٠,٠٠٠) إلا أن عدد العاملين فعلاً بها (٩٠٠,٠٠٠) نسمة . أحسب حجم الباحثين عن العمل في هذه الدولة.

ثالثاً : صنف مقومات الملاحة البحرية العمانية في المخطط أدناه :

(تحيط المياه بالسلطنة من ثلاث جهات - البعد عن الصراعات والاضطرابات - الساحل العماني المهد الاول الذي ظهرت فيه الخبرات الفينيقية - العلاقات الحضارية الجيدة مع الحضارات والدول المجاورة)



تابع : امتحان نهاية الفصل الدراسي الثاني - الدور الثاني - العام الدراسي (٢٠١٤/٢٠١٥)
مادة : الدراسات الاجتماعية

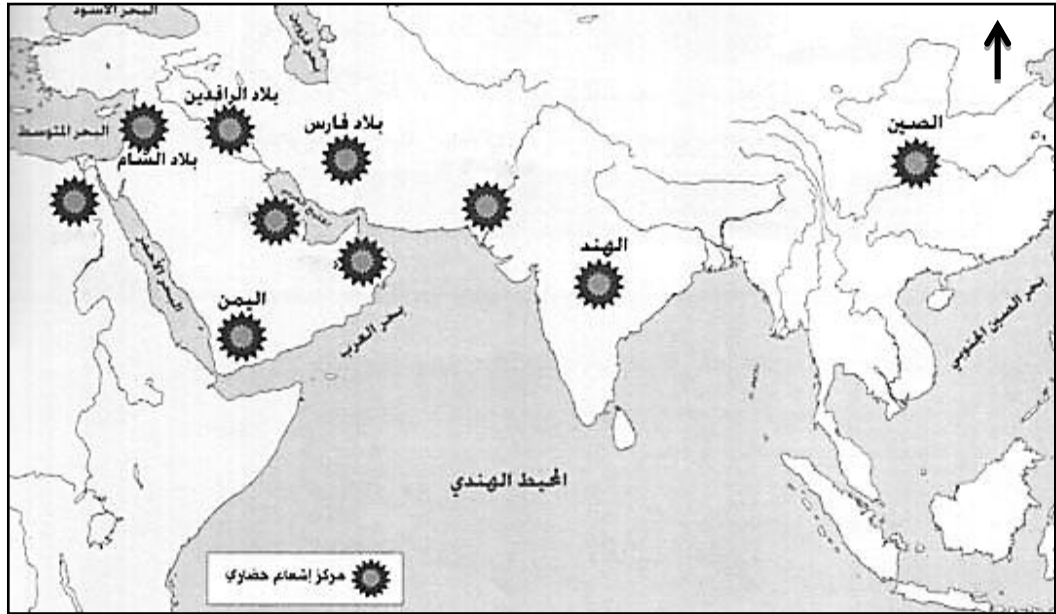
(٨ درجات)

السؤال الثالث : أجب عن الأسئلة الآتية :
أولاً : أمامك خريطة قارة آسيا . أدرسها جيداً ثم أجب عن الأسئلة التي تليها .



- أ- استخرج من الخريطة الدولة التي تجاور الهند من الجنوب _____
ب- أكتب ما تشير إليه الأرقام التالية :
١- دولة _____ ٢- المحيط _____
ج- ارسم سهمًا يوضح حركة سيرة السفن البحرية من عمان إلى الهند.

ثانياً : أمامك خريطة الحضارات القديمة . أدرسها جيداً ثم أجب عن الأسئلة التي تليها :



- أ- اكتب على الخريطة اسم الحضارتان (مجان - مصر) في موقعها الصحيح.
ب- في أي جهة تقع بلاد الرافدين بالنسبة لبلاد فارس _____
ج- ظلل الدولة التي يوجد بها (تاج محل) .

تابع : امتحان نهاية الفصل الدراسي الثاني - الدور الثاني - العام الدراسي (٢٠١٤/٢٠١٥)
مادة : الدراسات الاجتماعية

(٨ درجات)

السؤال الرابع أجب عن الأسئلة الآتية :

أولاً : أمامك معالم سياحية لاحد دول العالم انسب المعلم السياحي لأي دولة مع كتابة اسم المعلم السياحي



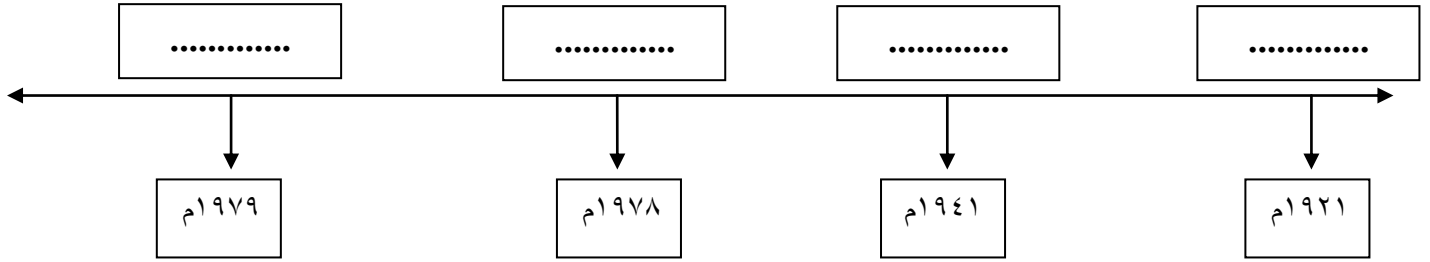
الصين	الدولة
	اسم المعلم السياحي



ماليزيا	الدولة
	اسم المعلم السياحي

ثانياً: أكمل المخطط الزمني (إيران عبر التاريخ) مستعينا بالأحداث التالية :

(وصل رضا شاه بهلوي الى السلطة في إيران - قيام الجمهورية الاسلامية الايرانية- قيام المظاهرات ضد محمد رضا شاه بهلوي - تولي السلطة الشاه محمد رضا شاه بهلوي)



ثالثاً : أمامك جدول معطيات سكانية واقتصادية عن سلطنة عمان ،أدرسه جيداً ثم أجب عن الأسئلة الآتية :

المعطيات	السنة	البيانات
٢,٠١٨,٠٧٤ نسمة	١٩٩٣م	عدد السكان
٢,٣٤٠,٨١٥ نسمة	٢٠٠٣م	
٢,٧٧٣,٤٧٩ نسمة	٢٠١٠م	
٣٠٩,٥٠٠ كم ^٢	-	مساحة السلطنة
٢١,٥٥٢,٦٠٠,٠٠٠ ر.ع	٢٠١٠م	إجمالي الدخل القومي
٧,٧٧٢ ر.ع	٢٠١٠م	نصيب الفرد من إجمالي الدخل القومي
٣٣٥ مؤسسة صحية	٢٠١٠م	عدد المؤسسات الصحية
١٠٤٠ مدرسة	٢٠١٠م	عدد المدارس

أ- كم بلغت الزيادة السكانية للسلطنة منذ عام ٢٠٠٣م حتى آخر تعداد؟؟

ب- استخرج من الجدول نصيب الفرد من إجمالي الدخل القومي عام ٢٠١٠م ؟

انتهت الأسئلة مع تمنياتنا لكم بالتوفيق والنجاح



المديرية العامة للتربية والتعليم لمحافظة البريمي
نموذج إجابة امتحان الصف التاسع
للعام الدراسي ١٤٣٥/١٤٣٦ هـ - ٢٠١٤/٢٠١٥ م
الفصل الدراسي الثاني- الدور الثاني

الدرجة الكلية: (٤٠) درجة

المادة: الدراسات الاجتماعية

تنبيه: نموذج الإجابة في (٥) صفحات

أولاً: إجابة السؤال الموضوعي:-

الدرجة الكلية: (١٦) درجة			إجابة السؤال الأول		
ملاحظات	الصفحة	الدرجة	الإجابة	البديل الصحيح	المفردة
	٦٦	٢	(البوصلة)	ب	١
	٨	٢	الانفجار السكاني	ج	٢
	٣٤	٢	(النفط)	ب	٣
	٦٠	٢	(الصدر)	د	٤
	٩٤	٢	(قواننشو)	ج	٥
	٩٥	٢	(اليابان)	أ	٦
	١٠٢	٢	(ميانمار)	د	٧
	٢٥	٢	(الثلاسيما)	أ	٨
	١٦		المجموع		

تابع نموذج إجابة امتحان الصف التاسع الاساسي
للعام الدراسي ١٤٣٥/١٤٣٦ هـ - ٢٠١٤/٢٠١٥ م
الفصل الدراسي الثاني - الدور الثاني
المادة: الدراسات الاجتماعية

ثانياً: إجابة الأسئلة المقالية:-

الدرجة الكلية : (٨) درجات			إجابة السؤال الثاني		
ملاحظات	الصفحة	الدرجة	الإجابة الصحيحة	المفردة	الجزئية
لكل مفردة نصف درجة	١٢	١	١-نقص الغذاء وسوء التغذية ٢-انخفاض مستوى المعيشة ٣-قلة فرص العمل ٤-الضغط على الخدمات ٥- الضغط على مصادر الطاقة <u>يكتفي بذكر اثنتين فقط</u>	أ	أولا
	٧٣	١	بلاد الرافدين:الكتابة	ب	
درجة للقانون درجة للتطبيق	١٦	٢	حجم الباحثين = مجموع القوة العاملة - مجموع العاملين فعلا $١٠٠٠,٠٠٠ - ٩٠٠,٠٠٠ = ١٠٠,٠٠٠$	-	ثانيا
لكل مفردة نصف درجة	٤٣-٤٠	٤	(مقومات سياسية) العلاقات الحضارية الجيدة مع الحضارات والدول المجاورة. (مقومات امنية) البعد عن الصراعات والاضطرابات. (مقومات طبيعية) تحيط المياه بالسلطنة من ثلاث جهات. (مقومات تاريخية)الساحل العماني المهد الاول الذي ظهرت فيه الخبرات الفينيقية.	-	ثالثا

تابع نموذج إجابة امتحان الصف التاسع الأساسي
للعام الدراسي ١٤٣٥/١٤٣٦ هـ - ٢٠١٤/٢٠١٥ م
الفصل الدراسي الثاني - الدور الثاني
المادة: الدراسات الاجتماعية

تابع ثانياً: إجابة الأسئلة المقالية:-

الدرجة الكلية : (٨) درجات				إجابة السؤال الثالث	
ملاحظات	الصفحة	الدرجة	الإجابة الصحيحة	المفردة	الجزئية
	١١٢	١	سيرلانكا -	أ	اولا
لكل مفردة درجة	١١٢	٢	الصين(١) المحيط الهادي(٢)	ب	
	١١٢	١	يرسم الطالب سهم في وسط بحر العرب حتى يصل الى الهند	ج	
لكل حضارة درجة	٤٢	٢	كتابة مجان - مصرفي الموقع الصحيح على الخريطة	أ	ثانيا
	٤٢	١	الغرب	ب	
	٤٢	١	تظليل الهند على الخريطة	ج	



تابع نموذج إجابة امتحان الصف التاسع الأساسي

للعام الدراسي ١٤٣٥/١٤٣٦ هـ - ٢٠١٤/٢٠١٥ م

الفصل الدراسي الثاني - الدور الثاني

المادة: الدراسات الاجتماعية

ثانياً: إجابة الأسئلة المقالية:-

إجابة السؤال الرابع		الدرجة الكلية: (٨) درجات											
الجزئية	المفردة	الإجابة الصحيحة	الدرجة	الصفحة	ملاحظات								
أولاً		 <table border="1"><tr><td>الدولة</td><td>ماليزيا</td></tr><tr><td>اسم المعلم السياحي</td><td>برجا مدينة كوالالمبور (بترو ناس)</td></tr></table>  <table border="1"><tr><td>الدولة</td><td>الصين</td></tr><tr><td>اسم المعلم السياحي</td><td>سور الصين العظيم</td></tr></table>	الدولة	ماليزيا	اسم المعلم السياحي	برجا مدينة كوالالمبور (بترو ناس)	الدولة	الصين	اسم المعلم السياحي	سور الصين العظيم	٢	-٨٨	لكل مفردة نصف درجة
الدولة	ماليزيا												
اسم المعلم السياحي	برجا مدينة كوالالمبور (بترو ناس)												
الدولة	الصين												
اسم المعلم السياحي	سور الصين العظيم												
ثانياً	-	<table border="1"><tr><td>١٩٦١ م</td><td>١٩٤١ م</td><td>١٩٧٨ م</td><td>١٩٧٩ م</td></tr><tr><td>وصل رضا شاه بهلوي الى السلطة في إيران</td><td>تولي السلطنة الشاه محمد رضا شاه بهلوي</td><td>- قيام المظاهرات ضد محمد رضا شاه بهلوي</td><td>قيام الجمهورية الاسلامية الايرانية</td></tr></table>	١٩٦١ م	١٩٤١ م	١٩٧٨ م	١٩٧٩ م	وصل رضا شاه بهلوي الى السلطة في إيران	تولي السلطنة الشاه محمد رضا شاه بهلوي	- قيام المظاهرات ضد محمد رضا شاه بهلوي	قيام الجمهورية الاسلامية الايرانية	٤	١٠٩ ٧٤	لكل مفردة درجة
١٩٦١ م	١٩٤١ م	١٩٧٨ م	١٩٧٩ م										
وصل رضا شاه بهلوي الى السلطة في إيران	تولي السلطنة الشاه محمد رضا شاه بهلوي	- قيام المظاهرات ضد محمد رضا شاه بهلوي	قيام الجمهورية الاسلامية الايرانية										

تابع نموذج إجابة امتحان الصف التاسع الاساسي

للعام الدراسي ١٤٣٥/١٤٣٦ هـ - ٢٠١٤/٢٠١٥ م

الفصل الدراسي الثاني - الدور الثاني

المادة: الدراسات الاجتماعية

ثانياً: إجابة الأسئلة المقالية:-

الدرجة الكلية: (٨) درجات					تابع إجابة السؤال الرابع	
ملاحظات	الصفحة	الدرجة	الإجابة الصحيحة	المفردة	الجزئية	
	١٩	١	$-٢,٧٧٣,٤٧٩$ $٤٣٢,٦٦٤ = ٢,٣٤٠,٨١٥$ من خلال حساب الفرق بين عدد سكان ٢٠١٠ و ٢٠٠٣	أ	ثالثاً	
	١٩	١	٧,٧٧٢ ر.ع	ب		

نهاية نموذج الإجابة