



اسم الطالب / الصف : السادس /

١٦ درجة

السؤال الأول : ضع دائرة حول رمز الإجابة الصحيحة فيما يلي :

١- تسمى المواد الباطنية الذائبة التي تخرج من فوهة البركان وتنساب على السطح :

(أ) القسبة (ب) الصهير (ج) النافورات الحارة (د) الحمم البركانية

٢- يسمى المكان الذي يبدأ منه النهر :

(أ) المصب (ب) الفاصل المائي (ج) المنبع (د) الرافد

٣- الجهاز المستخدم في قياس قوة الزلازل :

(أ) السيزموجراف (ب) الباروجراف (ج) ريختر (د) الترمومتر

٤- مؤسس دولة الاغالبة :

(أ) عبدالرحمن الداخل (ب) إبراهيم بن الاغلب (ج) الجلندي بن مسعود (د) أبو جعفر المنصور

٥- يطلق على الطلبة الذين تعلموا على يد ابو عبيدة في البصرة لنشر المذهب الإباضي اسم :

(أ) طلاب العلم (ب) طلاب الحق (ج) حملة الحق (د) حملة العلم

٦- الطبقة الجوية التي تحتوي على غاز الاوزون

(أ) التروبوسفير (ب) الاستراتوسفير (ج) الميزوسفير (د) التيرموسفير


٧- دائرة العرض التي تقسم الكرة الأرضية إلى قسمين شمالي وجنوبي هي :

(أ) دائرة السرطان (ب) دائرة الجدي (ج) القطب الجنوبي (د) دائرة الاستواء

٨- الصورة التي تشير إلى الاختباء أسفل الأثاث القوي عند حدوث الزلزال هي :



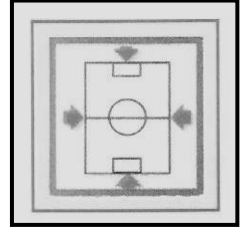
(د)



(ج)



(ب)



(أ)

١- رتب الأحداث التالية من الأحدث الى الأقدم وذلك بوضع الرقم المناسب بين القوسين .

أ/ () تأسيس الإمام جابر بن زيد للمذهب الإباضي .

ب/ () قيام الإمامة الأولى في عمان .

ج/ () إرسال العباسيين حملة عسكرية إلى عمان بقيادة خازم بن خزيمة .

د/ () إرسال عمرو بن العاص إلى أهل عمان لدعوتهم للدخول في الإسلام .

٢- تأمل الخريطة التي أمامك جيدا ثم اجب عن الأسئلة التي تليها :



أ/ ظلل على الخريطة موقع الصحراء الكبرى بالرمز

ب/ أذكر اسم السلسلة الجبلية الموجودة في القارة المشار إليها بالرقم (١) .

ج/ اكتب الرقم الذي يشير إلى القارة التي توجد بها سلسلة جبال روكي (.....)

د/ اكتب الرقم الذي يشير إلى القارة التي توجد بها الصحراء الاسترالية (.....)

٣- فسر العبارات التالية :

أ) خصوبة التربة في المناطق المحيطة بالبركان .

ب) تسمية مدينة نزوى ببيضة الإسلام في فترة الإمامة الثانية بعمان .

٨ درجات

السؤال الثالث : أجب عن الأسئلة التالية :

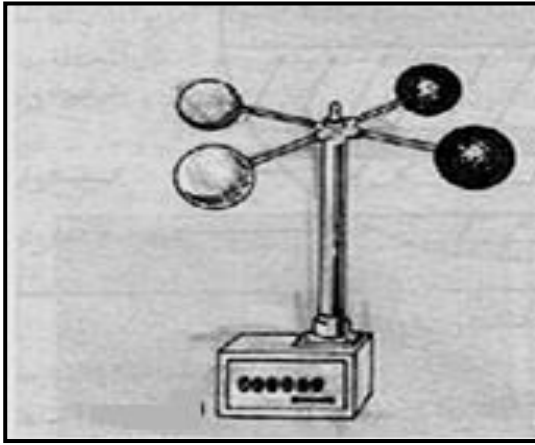
١- قارن بين الكتبان الهلالية والطولية من حيث :

وجه المقارنة	الكتبان الهلالية (البرخان)	الكتبان الطولية (السيف)
انحدار الجوانب		
نوع الرياح التي تشكلها		

٢- اكتب اسم المصطلح الدال على كل عبارة من العبارات التالية بين القوسين :

(أ) [.....] خليط من الغازات التي تحيط بالكرة الأرضية إحاطة تامة .

(ب) [.....] بناء هندسي يقام على مجرى مائي بهدف حجز المياه للاستفادة منها في أغراض متعددة



٣- ادرس الصورة الآتية جيدا ثم اجب عن ما يلي:

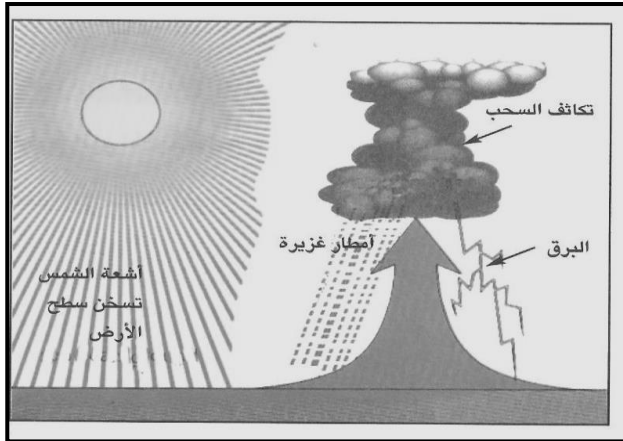
(أ) ما اسم الجهاز الموضح بالصورة .

(ب) ما الهدف من استخدام هذا الجهاز .


السؤال الرابع : أجب عن الأسئلة التالية :

٨ درجات

١- انظر إلى الصور التي أمامك ثم اجب عن الأسئلة التي تليها :



(ب)



(أ)

أ/ اكتب نوع الأمطار حسب الصور :

أ / ب /

(ب) تحدث الأمطار في الشكل (ب) في المناطق : (ضع علامة (√) على الإجابة الصحيحة)

() الاستوائية

() الباردة

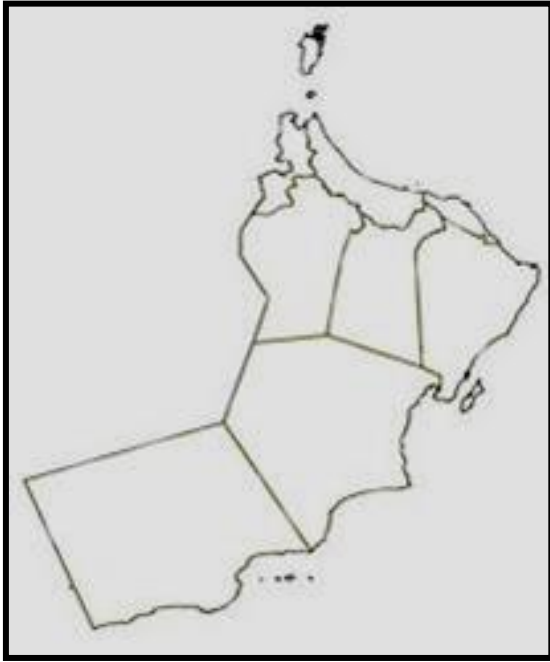
تابع السؤال الرابع : أجب عن الأسئلة التالية :

٢- أذكر اسم الشخصية الدالة على كل عبارة من العبارات التالية :

(أ) صاحب محاولة أول طيران في التاريخ [.....

(ب) أنهى الحكم الفاطمي وأعلن قيام الدولة الأيوبية [.....

٣- تأمل الخريطة التالية ثم اجب عن الأسئلة التي تليها :



أ/ ما اسم الدولة التي تمثلها الخريطة .

.....

ب / اذكر اسم الإعصار الذي تعرضت له هذه

الدولة عام ٢٠٠٧ م .

.....

ج/ المحيط التي تتكون فيه الأعاصير في هذه الدولة :

(ضح علامة (✓) على الإجابة الصحيحة)

() الهندي

() الأطلسي

انتهت الأسئلة، مع أطيب التمنيات بالتوفيق



نموذج إجابة امتحان نهاية الفصل الدراسي الأول - الدور الثاني في مادة الدراسات الاجتماعية للصف السادس
للعام الدراسي ٢٠١٤/٢٠١٥ م

* تنبيه : نموذج الإجابة في صفتين .

إجابة السؤال الأول				
المفردة	الرمز	البديل الصحيح	الدرجة	الصفحة
١	ب	الصهير	٢	٢١
٢	أ	المصب	٢	٣٠
٣	ج	ريختر	٢	١٧
٤	ب	إبراهيم بن الأغلب	٢	٧٥
٥	د	حملة العلم	٢	٦٥
٦	ب	الاستراتوسفير	٢	٩٨
٧	د	دائرة الاستواء	٢	١٠٣
٨	ج		٢	١٩
المجموع			١٦	درجة

إجابة السؤال الثاني				
المفردة	الجزئية	الإجابة الصحيحة	الدرجة	الصفحة
١	أ	٢	١	٦٦-٦٢
	ب	٣	١	
	ج	٤	١	
	د	١	١	
٢	أ	يظل بالرمز على موقع الصحراء الكبرى	نصف درجة	٤٥
	ب	الأنديز	نصف درجة	٢٥
	ج	٤	نصف درجة	٢٥
	د	٣	نصف درجة	
٣	أ	بسبب تحلل المواد البركانية التي تكون تربة غنية بالمعادن (أو ما يفيد المعنى)	١	٢٣
	ب	لكثرة ما فيها من أهل العلم والصلاح (أو ما يفيد المعنى)	١	٦٧
المجموع			٨	درجات



تابع نموذج إجابة امتحان نهاية الفصل الدراسي الأول - الدور الثاني في مادة الدراسات الاجتماعية للصف السادس
للعام الدراسي ٢٠١٤/٢٠١٥ م

إجابة السؤال الثالث					
المفردة	الجزئية	الإجابة الصحيحة		الدرجة	الصفحة
١	وجه المقارنة	الكثبان الهلالية (البرخان)	الكثبان الطولية (السيف)	(٤ درجات) لكل فراغ درجة	٤٧
	انحدار الجوانب	جانب شديد الميل وآخر قليل الميل	جوانب شديدة الميل		
	نوع الرياح التي تشكلها	رياح من اتجاه ثابت ولفترة طويلة	رياح غير منتظمة من حيث اتجاه هبوبها		
٢	أ	الغلاف الجوي		١	٩٤
	ب	السد		١	١٤٠
٣	أ	الأنيمومتر		١	١٠٦
	ب	قياس سرعة الرياح		١	١٠٦
المجموع					٨ درجات

إجابة السؤال الرابع					
المفردة	الجزئية	الإجابة الصحيحة		الدرجة	الصفحة
١	أ	أ- أمطار تضاريسية		١	١١٢-١١١
	ب	ب- أمطار تصاعدية		١	
	ب	(√) الاستوائية		١	١١٢
٢	أ	عباس بن فرناس		١	٥٧
	ب	صلاح الدين الأيوبي		١	٩١
٣	أ	سلطنة عمان		١	١٢٠-١١٩
	ب	إعصار جونو		١	
	ج	(√) الهندي		١	
المجموع					٨ درجات

انتهى النموذج والله ولي التوفيق