



الدرجة 40

امتحان نهاية الفصل الدراسي الأول لمادة الدراسات الاجتماعية للصف الخامس  
للعام الدراسي 2012 / 2013م  
تنبيه: الاسئلة في (5) صفحات  
الإجابة في نفس الورقة  
زمن الإجابة: ساعة ونصف

اسم الطالب :- ..... الصف: .....

أجب عن جميع الاسئلة الآتية

(I6 درجة)

السؤال الأول :-

ضع دائرة حول رمز الإجابة الصحيحة من بين البدائل المعطاة :-

I - الطبقة المفتتة من قشرة الأرض وتتمو فيها النباتات تسمى:

أ- الهضاب      ب- الجبال      ج- التربة      د- التلال

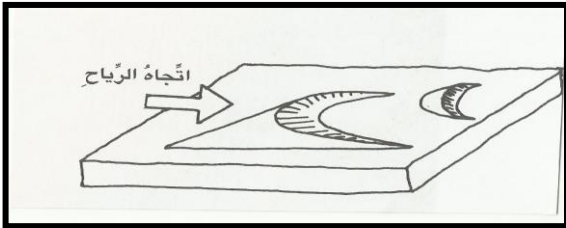
2- تشير الصورة التي أمامك الى نوع من الكتلان الرملية :-

أ - الطولية

ب- الهلالية

ج- النجمية

د- المستعرضة



3- يطلق على المجاري المائية السطحية المؤقتة الجريان مصطلح :

أ- الأنهار      ب- الينابيع      ج- العيون      د- الأودية

4- يرجع سبب انخفاض السكان والمراكز العمرانية في السهول الداخلية إلى :

أ- الجفاف      ب- الرياح      ج- الرطوبة      د- سهولة الانحدار

5- قامت الحبشة على أنقاض مملكة :

أ- سبأ      ب- معين      ج- روما      د- أكسوم

(2)

6- تشكل دالات الأنهار العربية الكبرى سهولا رسوبية ذات مساحة:

أ- صغيرة      ب- ضيقة      ج- واسعة      د- متوسطة

7- يفصل مضيق جبل طارق بين البحر المتوسط والمحيط:

أ- الهادي      ب- الأطلسي      ج- الهندي      د- المتجمد الجنوبي

8- يصنف النبلاء (الأغنياء) في المجتمع البيزنطي بأعلى السلم:

أ- السياسي      ب- الثقافي      ج- الاجتماعي      د- الأدبي

(8 درجات)

السؤال الثاني: أجب عن الاسئلة التالية:

١ عدد اثنين من:

أ - المدن الحديثة التي ظهرت في الوطن العربي بعد اكتشاف النفط والغاز الطبيعي .

---

---

ب- الصناعات التي اشتهر بها الفرس .

---

---

2- علل ما يلي:

أ - انشاء عدد من السدود الكبرى على الأنهار الرئيسية والأدوية .

---

---

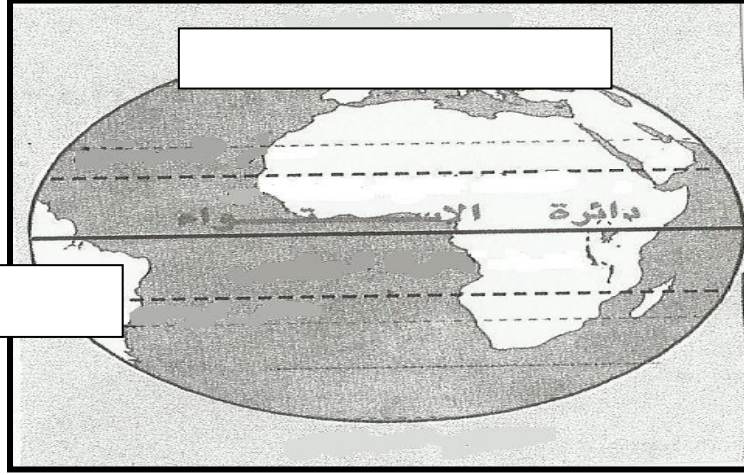
ب- يحتل الشاعر مكانه متميزة في القبيلة .

---

---

(3)

3- الشكل الذي أمامك يوضح دوائر العرض الرئيسة بأدرسه جيداً، ثم أكتب الأجزاء التالية في مكانها الصحيح:  
( القطب الشمالي \_ مدار الجدي )



( 8 درجات )

السؤال الثالث: أجب عن الأسئلة التالية:

I\_ عرف لما يلي :  
أ- المناخ .

ب- ديوان الجند .

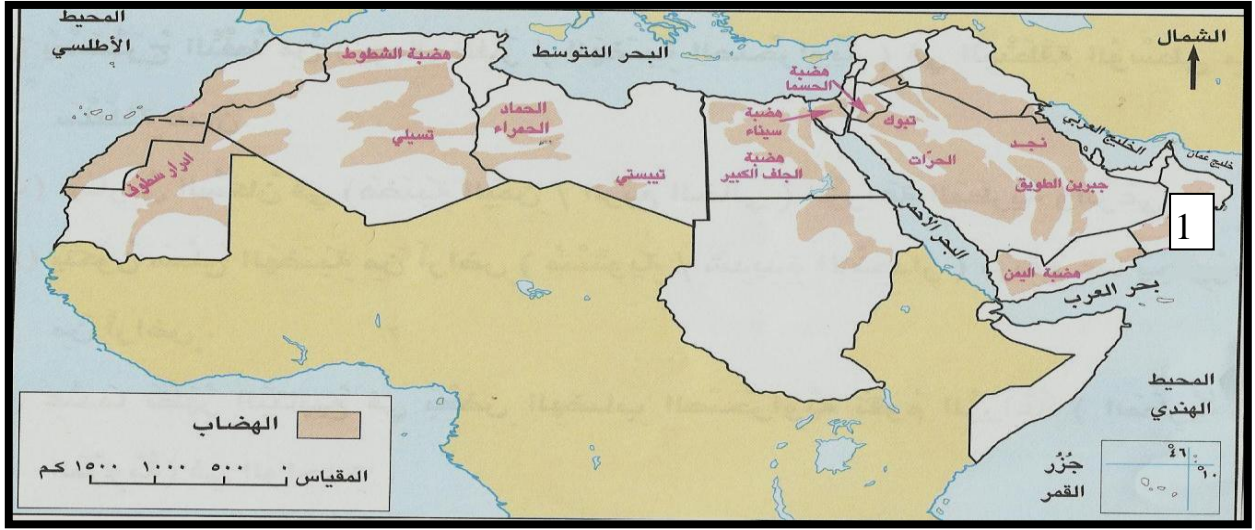
2- صنف في الجدول الذي أمامك الصفات التالية وفق المناخ (الموسمي / الصحراوي) الذي تنتمي إليه :  
(انخفاض درجات الحرارة في الشتاء - يظهر في جبال ظفار - يغلب عليه الجفاف وقلة الأمطار - اعتدال درجات الحرارة في الصيف)

المناخ الموسمي	المناخ الصحراوي	م
		I
		2

يتبع/4

(4)

3- أمامك خريطة الهضاب للوطن العربي ادرسها جيداً، ثم أجب عن الأسئلة التي تليها:



- I- سم الهضبة الموجودة في الدولة المشار إليها في الرقم (I) . ( \_\_\_\_\_ )
- 2- استخرج من الخريطة اثنين من الهضاب الموجودة في قارة إفريقيا .

السؤال الرابع: اجب عن الأسئلة التالية: (8 درجات)

I- اعطي مثالين على مايلي:

أ- الجروف الصخرية الساحلية في الوطن العربي .

ب- المشكلات التي تتعرض لها النباتات الطبيعية في الوطن العربي .

2- باستخدام الأرقام (I/2/3/4) رتب الأحداث التاريخية التالية من الأقدم إلى الأحدث

( ) غزوة الخندق

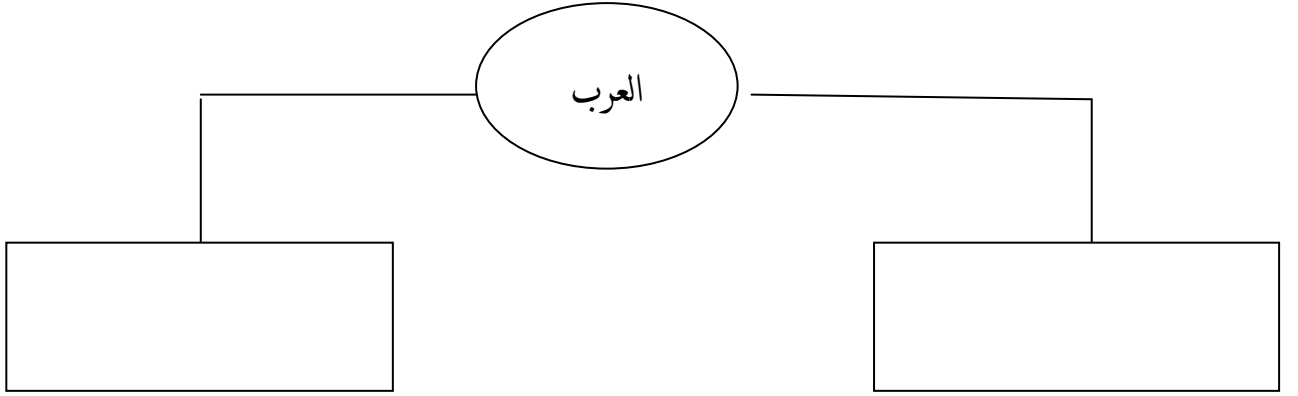
( ) فتح خيبر

( ) غزوة بدر

( ) صلح الحديبية

(5)

3- أدرس الشكل الآتي، الذي يمثل أقسام العرب، ثم أكمل الفراغات بما يناسب :



انتهت الاسئلة مع تمنياتنا لكم بالنجاح والتوفيق،،،



نموذج الإجابة امتحان الصف الخامس للعام الدراسي 2012 / 2013م

الدور الأول - الفصل الدراسي الأول

المادة الدراسات الاجتماعية - الدرجة الكلية 40 درجة

إجابة السؤال الأول: (6 درجات) لكل مفردة درجتان عدد أوراق الإجابة (2)

رقم المفردة	I	2	3	4	5	6	7	8
رمز الإجابة	ج	ب	د	أ	د	ج	ب	ج
الإجابة	التربة	الهلالية	الأودية	الجفاف	أكسوم	واسعة	الأطلسي	الاجتماعي
الصفحة	62	41	58	22	86	27	20	83
الدرجة	2	2	2	2	2	2	2	2

إجابة السؤال الثاني (8 درجات)

المفردة	الإجابة	الدرجة	الصفحة
I	أ- الظهران في المملكة العربية السعودية - الأحمدية في الكويت - هيماء في سلطنة عمان . ب- صناعة الجلود - صناعة السجاد - صناعة الأواني الخزفية . بكتفي بذكر اثنين ولكل درجة	2	52
2	أ- ضبط الفيضانات وحجز المياه وتوفيرها في فترات الجفاف للري بالإضافة إلى تزويد المدن بماء الشرب والتوسع الصناعي . ب- لأنه دافع عن القبيلة بلسانه . بما يفيد المعنى	I	58
3	أ- لأنه دافع عن القبيلة بلسانه . بما يفيد المعنى	I	71
3	أ- لأنه دافع عن القبيلة بلسانه . بما يفيد المعنى	I+I	15

إجابة السؤال الثالث (8 درجات)

الصفحة	الدرجة	الإجابة	المفردة									
44	I	أ- المناخ: متوسط حالة الجو لفترة طويلة قد تكون شهراً أو فصلاً أو سنة أو أكثر بما يفصح المعنى	I									
104	I	ب- ديوان الجند: تسجل فيه أسماء الجنود المقاتلين وتحدد أعطياتهم (رواتبهم) بما يفيد المعنى										
49+54	I+I	<table border="1"> <tr> <td>م</td> <td>المناخ الموسمي</td> <td>المناخ الصحراوي</td> </tr> <tr> <td>I</td> <td>ظهر في جبال ظفار</td> <td>انخفاض درجات الحرارة في الشتاء</td> </tr> <tr> <td>2</td> <td>اعتدال درجات الحرارة في الصيف</td> <td>غلب عليه الجفاف وقلة الأمطار</td> </tr> </table>	م	المناخ الموسمي	المناخ الصحراوي	I	ظهر في جبال ظفار	انخفاض درجات الحرارة في الشتاء	2	اعتدال درجات الحرارة في الصيف	غلب عليه الجفاف وقلة الأمطار	2
م	المناخ الموسمي	المناخ الصحراوي										
I	ظهر في جبال ظفار	انخفاض درجات الحرارة في الشتاء										
2	اعتدال درجات الحرارة في الصيف	غلب عليه الجفاف وقلة الأمطار										
35	I	1- هضاب المنطقة الوسطى والجنوبية .	3									
35	نصف+ نصف	2- هضبة سيناء - هضبة الجلف الكبير - تيبستي - الحماد الحمراء - هضبة الشطوط - تسيلي - أدوار سطوف . يكفي بذكر اثنين ولكل واحدة نصف										

إجابة السؤال الرابع (8 درجات)

الصفحة	الدرجة	الإجابة	المفردة
24+23	نصف+نصف	أ_ رأس مسندم في السلطنة - الساحل السوري - السواحل المغربية يكفي بذكر اثنين ولكل نصف درجة	I
66	نصف+نصف	ب- الحرائق - الرعي الجائر - الزراعة غير المنظمة - قطع الأشجار والشجيرات يكفي بذكر اثنين ولكل نصف درجة	
95+93	I I I I	( 2 ) غزوة الخندق ( 4 ) فتح خيبر ( 1 ) غزوة بدر ( 3 ) صلح الحديبية	2
II	I+I		3

نهاية نموذج الإجابة ،،،

