

بِسْمِ اللَّهِ الرَّحْمَنِ الرَّحِيمِ

" رَبِّهِ أَهْرَافٌ لِي سَدْرِي وَيَسْزِلِي أَفْرِي "



مِنَاطَتُ عُمَانَ  
وَزَارَةُ التَّحْلِيمِ

المديرية العامة للتربية والتعليم لمحافظة الظاهرة  
دائرة التقويم التربوي

امتحان نهاية الفصل الدراسي الأول - الدور الثاني - العام الدراسي ٢٠١٤ / ٢٠١٥ م

الصف: السادس

المادة: الدراسات الاجتماعية

الزمن: ساعة ونصف

الدرجة: ٤٠ درجة

تنبيه:

- الاسئلة في (٥) صفحات .
- الاجابة في نفس الورقة .

رقم السؤال	الدرجة بالأرقام	الدرجة بالحروف	اسم وتوقيع المصحح	ملاحظات
الأول				
الثاني				
الثالث				
الرابع				
المجموع الكلي				

اسم الطالب / .....

الصف / ..... الشعبة / ( )

المدرسة / .....

امتحان نهاية الفصل الدراسي الأول - الدور الثاني - العام الدراسي ٢٠١٤ / ٢٠١٥ م  
الصف : السادس - المادة : الدراسات الاجتماعية.

السؤال الأول: (١٦ درجة)

ضع دائرة حول رمز الإجابة الصحيحة من بين البدائل المعطاة أمامك :

١- الجهاز الذي يستخدم مقياسا خاصا للتعبير عن قوة الزلزال:

أ- البار وجراف                      ب- الأنيمومتر

ج- ريختر                                  د- الترمومتر

٢- يتكون البركان المخروطي إذا كان الصهير فيه لزجاً وتبلغ درجة حرارته:-

أ - ٥٥٠ س                                  ب - ٥٦٠ س

ج - ٥٧٠ س                                  د - ٥٨٠ س

٣- الترتيب الصحيح لعملية التعرية النهرية التي يقوم بها التيار المائي في المجرى النهري هو:

أ- نحت - نقل - ارساب                      ب- نقل - نحت - ارساب

ج-نحت - ارساب - نقل                      د- ارساب - نحت - نقل

٤- عاصمة الدولة الأموية في الأندلس:

أ - قرطبة                                  ب - تاهرت

ج - فاس                                      د - القيروان

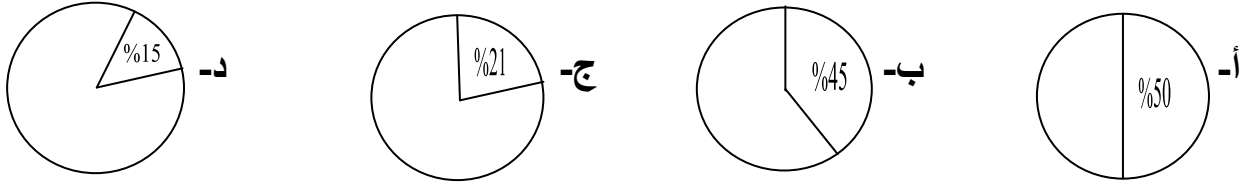
٥- الامام العماني الذي اتصف عهده بالاستقرار وأرسل أسطولا حربيا لتحرير سقطرى من أيدي الأحباش:

أ- عزان بن تميم                              ب- الصلت بن مالك

ج- عبدالملك بن حميد                      د- محمد بن أبي عفان

امتحان نهاية الفصل الدراسي الأول - الدور الثاني - العام الدراسي ٢٠١٤ / ٢٠١٥

٦- الشكل الذي يشير إلى نسبة غاز الأوكسجين من حجم الهواء في الغلاف الجوي:



٧- يشير الرمز المقابل المستخدم في النشرة الجوية في سلطنة عمان الى :

ب- جو غائم

أ- أمطار رعدية

د- جو ممطر

ج- جو غائم جزئيا

٨- الطبقة التي تتميز بالارتفاع الكبير لدرجات الحرارة بسبب تعرضها كليا لأشعة الشمس هي:

ب- الأستراتوسفير

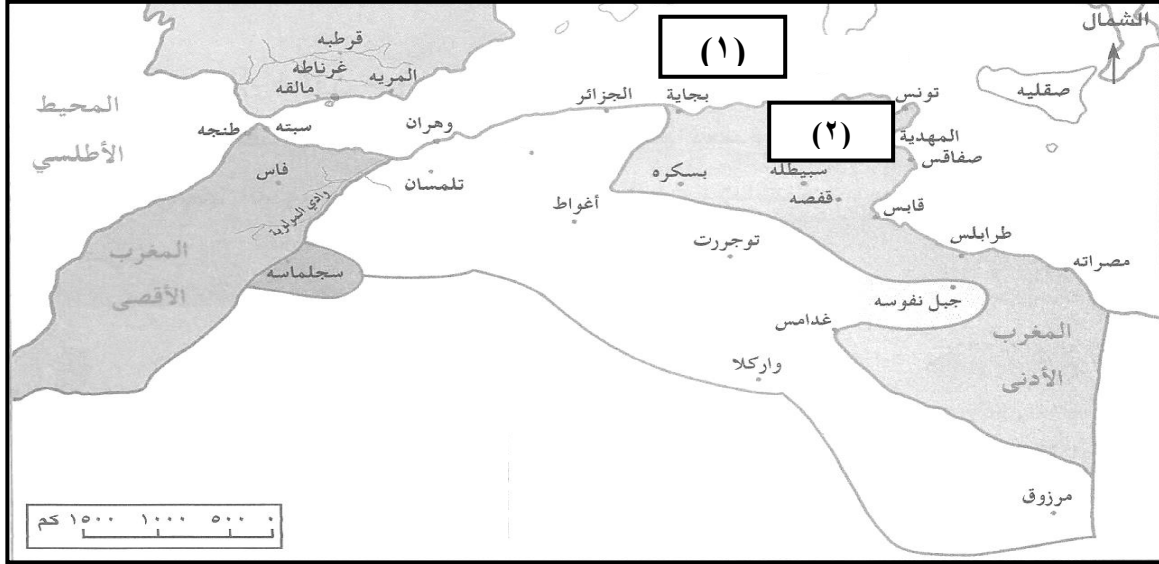
أ- التيرموسفير

د- التروبوسفير

ج- الميزوسفير

السؤال الثاني: (٨ درجات)

١- انظر إلى خريطة الدولة الرستمية والدول المجاورة لها التي أمامك ، وأجب عن الأسئلة التي تليها:



أ- اكتب على الخريطة عاصمة الدولة الرستمية في مكانها الصحيح.

ب- المسطح المائي الذي يشير إليه الرقم (١) هو.....

ج- ظلل على الخريطة المنطقة التي قامت بها دولة الأدارسة.

د- يشير الرقم (٢) في الخريطة إلى عاصمة دولة الأغالبة مدينة.....

٢- عرف كل مما يلي :

أ- الغلاف الصخري :-----

-----

ب- الطقس:-----

-----

امتحان نهاية الفصل الدراسي الأول - الدور الثاني - العام الدراسي ٢٠١٤ / ٢٠١٥

٣- استنتج اثنين من فوائد البراكين .

-----

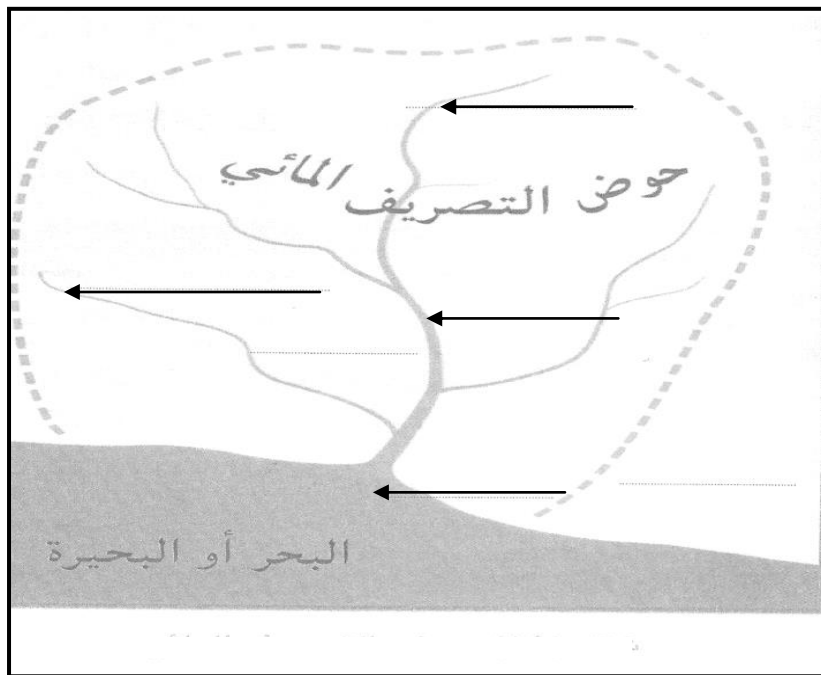
-----

السؤال الثالث: (٨ درجات)

١- انظر الى شكل حوض التصريف

النهري واكتب المصطلحات التالية  
في موقعها الصحيح:

(الرافد - المنبع - المجرى الرئيسي -  
المصب).



٢- علل لما يلي:

أ- أهمية بيعة الإمام الجلندي بن مسعود إماما على عمان.

-----

-----

٣- اذكر اثنين من حملة العلم الى عمان .

-----

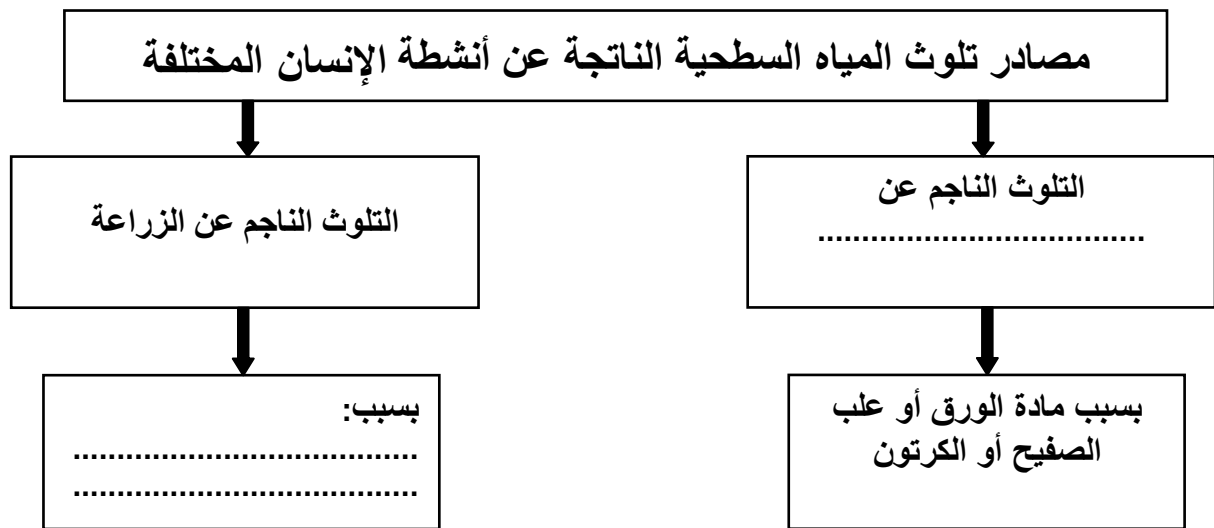
-----

السؤال الرابع : ( ٨ درجات )

١- صنف الأرقام التالية بحسب الجدول أدناه ( ٢١٢ - ١٠٠ - ٣٢ - صفر ) .

النظام الفهرنهايتي	النظام السيليزي	مجال التصنيف
		درجة التجمد
		درجة الغليان

٢- أكمل الشكل التالي بالعبارات المناسبة:



٣ - تتكون الأندلس في الوقت الحاضر من دولتين هما:

(١) .....

(٢) .....

انتهت الأسئلة مع التمنيات للجميع بالتوفيق والنجاح



بِسْمِ اللَّهِ الرَّحْمَنِ الرَّحِيمِ

" رَبِّ اجْعَلْ لِي قَلْبًا عَاقِلًا وَيَسِّرْ لِي أَمْرِي "

مِنَاطِنَةُ عُضْمَانَ  
وَأَذَانَ الرَّبِيعِيَّةِ وَالتَّحْلِيمِ  
المديرية العامة للتربية والتعليم بمحافظة الظاهرة  
دائرة التقويم التربوي

نموذج إجابة امتحان نهاية الفصل الدراسي الأول - الدور الثاني - العام الدراسي ٢٠١٤ / ٢٠١٥ م

الصف: السادس المادة: الدراسات الاجتماعية الزمن: ساعة ونصف الدرجة: ٤٠ درجة

الدرجة	الصفحة	الإجابة																																																		
		<b>إجابة السؤال الأول (١٦ درجة) كل مفردة بدرجتين</b>																																																		
		<table border="1"><thead><tr><th>رقم المفردة</th><th>١</th><th>٢</th><th>٣</th><th>٤</th><th>٥</th><th>٦</th><th>٧</th><th>٨</th><th>المجموع</th></tr></thead><tbody><tr><td>رمز الإجابة الصحيحة</td><td>ج</td><td>ج</td><td>أ</td><td>أ</td><td>ب</td><td>ج</td><td>د</td><td>أ</td><td></td></tr><tr><td></td><td>رختر</td><td>٧٠ س</td><td>ونقل- وارساب</td><td>قرطبة</td><td>بن مالك</td><td>٢١%</td><td>جو ممطر</td><td>الثيرموسفير</td><td></td></tr><tr><td>الدرجة</td><td>٢</td><td>٢</td><td>٢</td><td>٢</td><td>٢</td><td>٢</td><td>٢</td><td>٢</td><td>١٦</td></tr><tr><td>الصفحة</td><td>١٧</td><td>٢١</td><td>٣٢</td><td>٥٢</td><td>٦٨</td><td>٩٤</td><td>١٢٥</td><td>٩٩</td><td></td></tr></tbody></table>	رقم المفردة	١	٢	٣	٤	٥	٦	٧	٨	المجموع	رمز الإجابة الصحيحة	ج	ج	أ	أ	ب	ج	د	أ			رختر	٧٠ س	ونقل- وارساب	قرطبة	بن مالك	٢١%	جو ممطر	الثيرموسفير		الدرجة	٢	٢	٢	٢	٢	٢	٢	٢	١٦	الصفحة	١٧	٢١	٣٢	٥٢	٦٨	٩٤	١٢٥	٩٩	
رقم المفردة	١	٢	٣	٤	٥	٦	٧	٨	المجموع																																											
رمز الإجابة الصحيحة	ج	ج	أ	أ	ب	ج	د	أ																																												
	رختر	٧٠ س	ونقل- وارساب	قرطبة	بن مالك	٢١%	جو ممطر	الثيرموسفير																																												
الدرجة	٢	٢	٢	٢	٢	٢	٢	٢	١٦																																											
الصفحة	١٧	٢١	٣٢	٥٢	٦٨	٩٤	١٢٥	٩٩																																												
		<b>إجابة السؤال الثاني: (٨ درجات)</b>																																																		
١	٧٤	١- خريطة الدولة الرستمية والدول المجاورة لها صفحة ٧٦ :- (لكل مفردة درجه) أ- تاهرت.																																																		
١	٧٦	ب- يشير الرقم (١) في الخريطة الى البحر المتوسط.																																																		
١	٧٨	ج-تظليل المنطقة التي قامت فيها دولة الادارسة في الخريطة (المغرب الأقصى).																																																		
١	٧٨	د-يشير الرقم (٢) الى القيروان.																																																		

الإجابة

٢- عرف كل مما يلي :- ( لكل مفردة درجة )

١ ١٥

١- الغلاف الصخري: الصخور المكونة للقشرة الأرضية .

١ ١٠١

ب- الطقس: حالة الجو بعناصره المختلفة (الحرارة واتجاه الرياح و ونسبة الرطوبة و السحب و والضباب و وحالة البحر و والمد والجزر ) التي ترد في النشرة الجوية وتمثل فترة ٢٤ ساعة.

٢ ٢٣

٣- اثنين من فوائد البراكين:

- تربة غنية بالمعادن وخصبة تصلح للزراعة.
- تحتوي على معادن ثمينة كالذهب والنحاس والنيكل.
- صخورها الصلبة تصلح للبناء ورصف الطرق.
- مصدر للطاقة المتجددة (توليد الكهرباء وتدفئة المباني بالمياه الساخنة ) .
- تعد من مناطق الجذب السياحي.

(يكتفى بذكر اجابتين ولكل مفردة درجة)

إجابة السؤال الثالث: (٨ درجات)

٣١

١- شكل حوض التصريف المائي (الرافد - المنبع - المصب - المجرى الرئيسي )

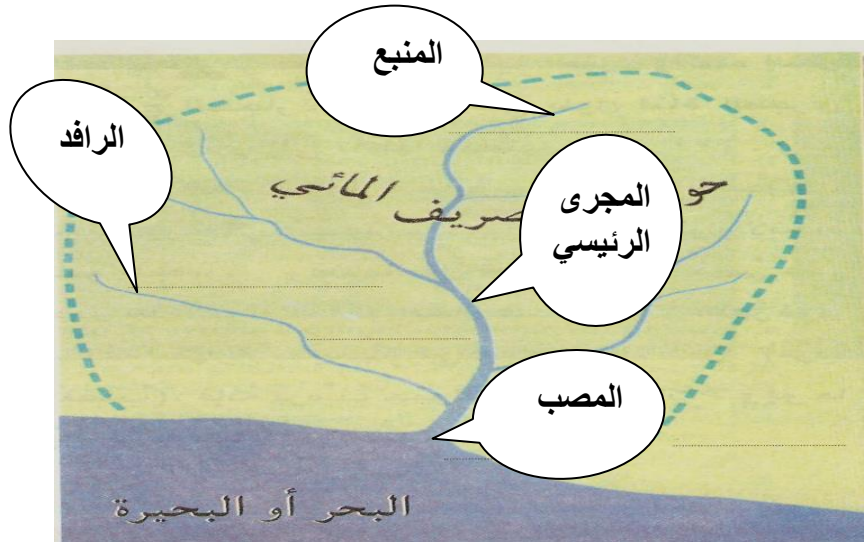
١

( لكل مفردة درجة )

١

١

١



٦٦

٢- يعتبر اول اعلان لاستقلال عمان عن الدولة العباسية.

٢



- ٣- اثنين من حملة العلم الى عمان:  
 - موسى بن أبي جابر الأزكوي.  
 - بشير بن المنذر النزواني.  
 - منير بن النير الريامي.  
 - محمد بن المعلا الكندي.  
 - محبوب بن الرحيل المخزومي.

(يكتفى بذكر اجابتين ولكل مفرده درجة)

السؤال الرابع : (٨ درجات )  
 أ- . ( لكل مفردة درجه )

النظام الفهرنهي	النظام السيليزي	
<u>٣٢</u>	<u>صفر</u>	درجة التجمد
<u>٢١٢</u>	<u>١٠٠</u>	درجة الغليان

- ب- مصادر تلوث المياه السطحية الناتجة عن أنشطة الانسان :- ( لكل مفرده درجه )  
 - النفايات المنزلية الصلبة.  
 - استعمال المبيدات الحشرية والأسمدة العضوية والكيماوية.

ج - اسبانيا  
 - البرتغال

نهاية نموذج الإجابة

إعداد وحدة الدراسات الاجتماعية

