



سلطنة عمان
وزارة التربية والتعليم
المديرية العامة للتربية والتعليم
لمحافظة شمال الباطنة

الدرجة 40

امتحان نهاية الفصل الدراسي الأول لمادة الدراسات الاجتماعية للصف الخامس
للعام الدراسي 2012 / 2013م - الدور الثاني
تنبيه: الاسئلة في (5) صفحات
الإجابة في نفس الورقة
زمن الإجابة: ساعة ونصف

اسم الطالب :- الصف:

أجب عن جميع الاسئلة الآتية

(6 درجات)

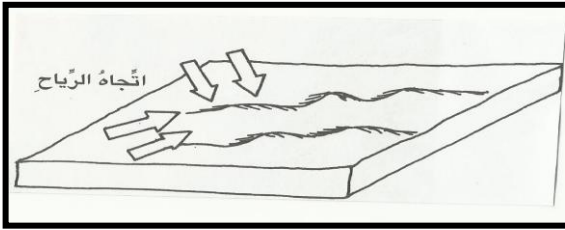
السؤال الأول :-

ضع دائرة حول رمز الإجابة الصحيحة من بين البدائل المعطاة :-

1- أنشئ المسلمون مدينة الفسطاط في :

أ- الجزائر ب- تونس ج- مصر د- المغرب

2 - تشير الصورة التي أمامك إلى نوع الكثبان الرملية :



أ_ الطولية

ب_ المستعرضة

ج_ النجمية

د_ الهلالية

3- من أمثلة الهضاب التي تسقط عليها الأمطار بكميات كبيرة بالوطن العربي هضبة :

أ- سيناء ب- اليمن ج- الحسما د- الشطوط

4- يفصل مضيق جبل طارق بين المحيط الأطلسي والبحر :

أ- الأحمر ب- قزوين ج- العرب د- المتوسط

5- الأحوال الجوية لفترة قصيرة لا تزيد عن 24 ساعة يطلق على :

أ- المناخ ب- الضغط الجوي ج- الطقس د- المنخفض الجوي

(2)

6 - يعتبر أول خليفة للمسلمين بعد الرسول (صلى الله عليه وسلم) :

أ- ابوبكر الصديق ب- عمر بن الخطاب ج- عثمان بن عفان د- علي بن أبي طالب

7- جميع ما يلي أمثلة على المناطق التي تظهر فيها الجروف الصخرية الساحلية في الوطن العربي ماعدا :

أ- رأس مسندم ب- الساحل السوري ج- الساحل المغربي د- دلتا النيل

8- تعتبر من المدن الحديثة التي ظهرت بعد اكتشاف النفط مدينة الأحمد في دولة

أ- الكويت ب- الامارات ج- قطر د- البحرين

(8 درجات)

السؤال الثاني : اجب عن الأسئلة التالية:

I- اذكر اثنين من :

أ- الصناعات التي اشتهر بها الأحباش .

ب- المناطق التي تظهر فيها الكثبان الرملية بسلطنة عمان .

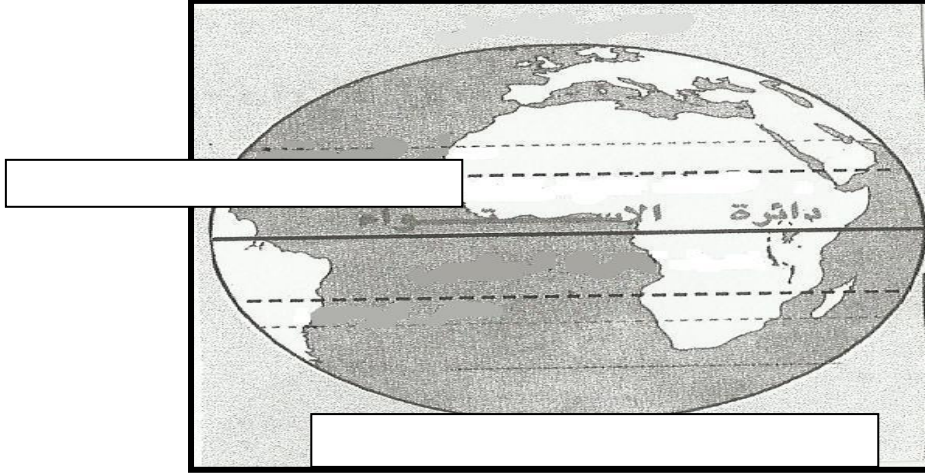
2- فسر ما يلي:

أ- توجه بعض الدول العربية وخاصة دول مجلس التعاون على تحليه مياه البحر بواسطة الغاز الطبيعي والنفط .

ب- يحتل الفارس مكانة متميزة في القبيلة .

(3)

3- الشكل الذي أمامك يوضح دوائر العرض الرئيسة بأدرسه جيداً، ثم أكتب الأجزاء التالية في مكانها الصحيح
(القطب الجنوبي _ مدار السرطان)



(8 درجات)

السؤال الثالث: اجب عن الأسئلة التالية:

١ عرف ما يلي:
أ- الملوحة .

ب- ديوان الخراج .

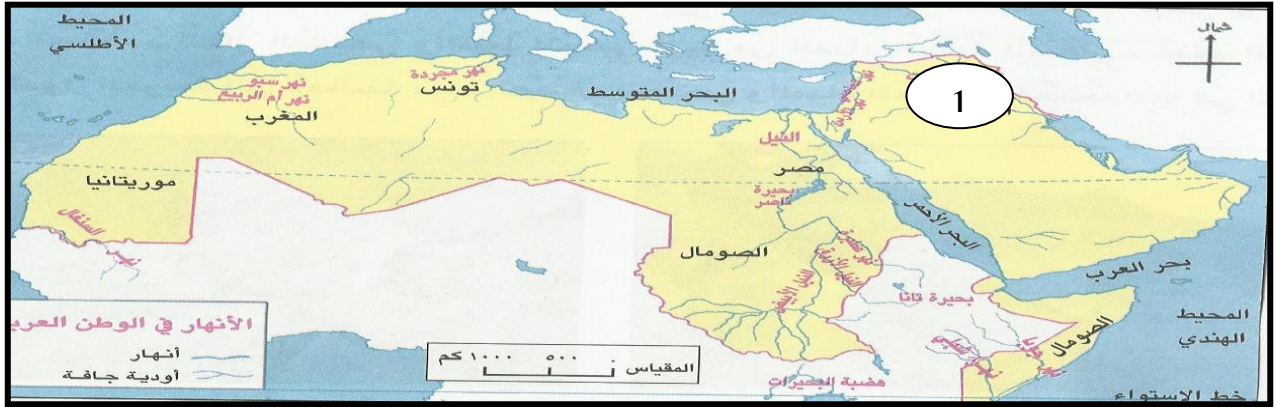
2- صنف في الجدول الذي أمامك الصفات التالية وفق المناخ (الصحراوي/البحر المتوسط) الذي تنتمي إليه:
(مطر ومائل إلى البرودة في الشتاء- يغلب عليه الجفاف وقلة الأمطار- معتدل الحرارة وجاف في الصيف _ انخفاض

درجات الحرارة في الشتاء)

م	الصحراوي	البحر المتوسط
1		
2		

(4)

3- أمامك خريطة الأنهار في الوطن العربي أدرسها جيدا، ثم أجب عن الأسئلة التي تليها:



١ - اسم النهر الموجود في الدولة المشار إليها بالرقم (I) . () .

2- أستخرج من على الخريطة الأنهار الموجودة في شمالي أفريقيا .

(8 درجات)

السؤال الرابع: اجب عن الأسئلة التالية:

I- أعطي مثالين على مايلي:

أ- القبائل التي تنسب إلى العدنانيين .

ب- أشكال الدالات النهرية والسهول الرسوبية .

2- باستخدام الأرقام (4/3/2/I) رتب الأحداث التاريخية الآتية من الأقدم إلى الأحدث:

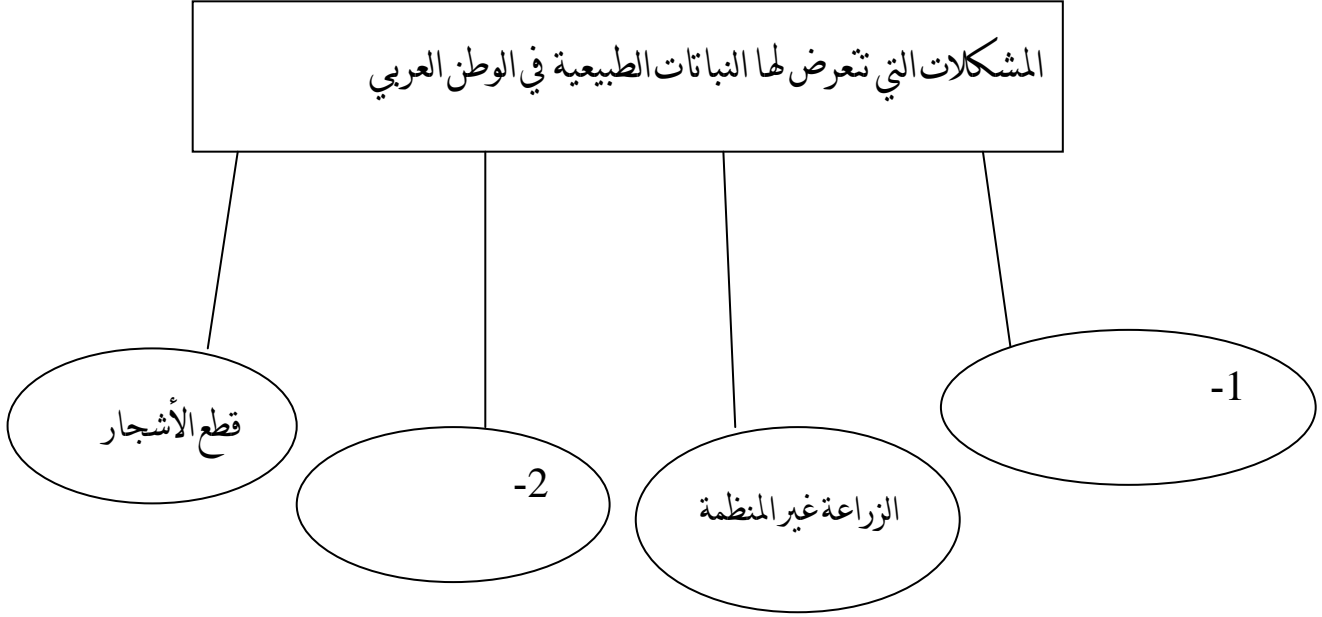
() دخول القبائل العربية للإسلام

() وفاة الرسول (صلى الله عليه وسلم)

() غزوة أحد

() غزوة مؤتة

3- أدرس الشكل الآتي، الذي يوضح بعض المشكلات التي تتعرض لها النباتات الطبيعية في الوطن العربي، ثم أكتب بجوار كل رقم الإجابة الصحيحة.



انتهت الاسئلة مع تمنياتنا لكم بالنجاح والتوفيق ،،،،



نموذج الإجابة امتحان الصف الخامس للعام الدراسي 2011 / 2012م

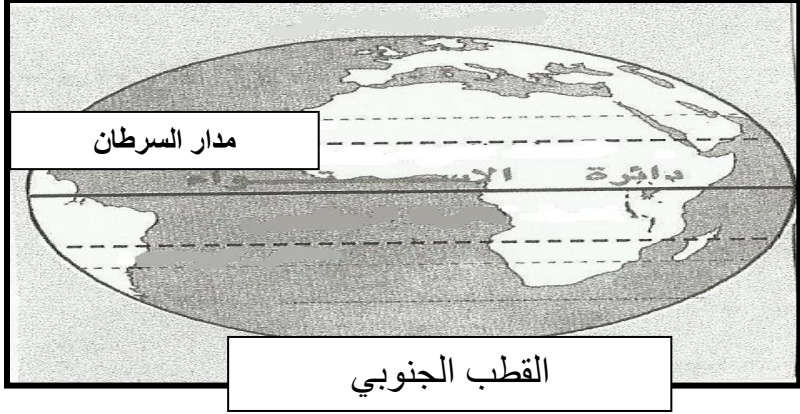
الدور الثاني - الفصل الدراسي الأول

المادة الدراسات الاجتماعية - الدرجة الكلية 40 درجة

إجابة السؤال الأول: (6 درجات) لكل مفردة درجتان عدد أوراق الإجابة (2)

رقم المفردة	I	2	3	4	5	6	7	8
رمز الإجابة	ج	أ	ب	د	ج	أ	د	أ
الإجابة	مصر	الطولية	اليمن	المتوسط	الطقس	أبو بكر الصدق	دلتا النيل	الكويت
الصفحة	102	44	35	20	44	100	27	52
الدرجة	2	2	2	2	2	2	2	2

إجابة السؤال الثاني (8 درجات)

المفردة	الإجابة	الدرجة	الصفحة
I	أ- صناعة أعمال حفر العاج - صناعة إذابة الذهب - صناعة المنسوجات - الخشبية - صناعة الجلدة ب- الربع الخالي - ورمال المنطقة الشرقية . بما نفيده المعنى	I+I	87
2	أ- توفير مزيد من المياه العذبة للسكان . ب- لأنه دافع عن القبيلة بسلاحه .	I	60
3		I+I	71

إجابة السؤال الثالث (8درجات)

المفردة	الإجابة	الدرجة	الصفحة
I	أ-الملوحة: ارتفاع نسبة الأملاح في التربة وهو ما يؤدي إلى موت النباتات . بما يفيد المعنى	I	64
	ب-ديوان الخراج: مهمته تحديد ما يؤخذ على الأراضي الزراعية التي أصبحت تحت سيطرة المسلمين بعد الفتح وكذلك جمعه وطريقة توزيعه . بما يفيد المعنى	I	104
2	التصنيف	I+I	49
		I+I	44
3	I - دجلة والفرات	I	59
	2-(نهر النيل-نهر مجردة-نهر سبو-نهر أم الربيع) يكتفى بذكر واحد	I	59

إجابة السؤال الرابع (8درجات)

المفردة	الإجابة	الدرجة	الصفحة
I	أ-قبائل قريش - بكر - ربيعة - تميم يكتفى بذكر اثنين ولكل نصف درجة	نصف+نصف	II
	ب-الشكل المثلثي (المروحي) _ الشكل الذي يشبه أرجل الطائر . يكتفى بذكر اثنين ولكل نصف درجة	نصف+نصف	28
2	الترتيب	I+I	-95 -93
	(3) دخول القبائل العربية للإسلام	I+I	98-97
	(4) وفاة الرسول (صلى الله عليه وسلم)		
	(1) غزوة أحد		
	(2) غزوة مؤتة		
3	الشكل المشكلات التي تتعرض لها النباتات الطبيعية في الوطن العربي	I I+	66
	1 - الحرائق		
	2-الرعي الجائر		