

بِسْمِ اللَّهِ الرَّحْمَنِ الرَّحِيمِ

" رَبِّ اجْتَنِبْ لِي حَذْرِي وَيَسِّرْ لِي أَمْرِي "



مِنَاطِنَةُ عُمَانَ
وَدَارَةُ التَّرْبِيَةِ وَالتَّحْلِيمِ

المديرية العامة للتربية والتعليم لمحافظة الظاهرة
دائرة التقويم التربوي

امتحان نهاية الفصل الدراسي الثاني - الدور الأول - العام الدراسي ٢٠١٤ / ٢٠١٥ م

الصف: السادس	المادة: الدراسات الاجتماعية	الزمن: ساعة ونصف	الدرجة: ٤٠ درجة
--------------	-----------------------------	------------------	-----------------

تنبيه:

- الاسئلة في (٤) صفحات .
- الاجابة في نفس الورقة .

رقم السؤال	الدرجة بالأرقام	الدرجة بالحروف	اسم وتوقيع المصحح	ملاحظات
الأول				
الثاني				
الثالث				
الرابع				
المجموع الكلي				

اسم الطالب /

الصف / الشعبة / ()

المدرسة /

السؤال الأول: (٦ درجات) :

اختر الإجابة الصحيحة من بين البدائل المعطاة أمامك:

- ١- منطقة محددة جغرافيا بهدف حماية ما تشمل عليه من حيوانات أو نباتات معرضه للإنقراض :-
أ- البيئة
ب- المحمية
ج- التنوع الأحيائي
د- الغابة

- ٢- تغطي الغابات بأنواعها المختلفة من مساحة الأرض ما مقداره :
أ - الخمس
ب - الربع
ج - الثلث
د - النصف



- ٣- الشكل الذي أمامك يشير إلى بيئة الغابات :
أ- المدارية
ب- السافانا
ج- التندرا
د- الموسمية



- ٤- الشكل الذي أمامك يشير إلى إحدى المشكلات والأخطار التي تتعرض لها بيئة الغابات المدارية:
أ- الرعي الجائر
ب- انجراف التربة
ج- الزراعة
د- الاحتطاب

- ٥- الشكل الذي يمثل تكيف النبات الصحراوي بالجذور القصيرة الأفقية :-



ب-



أ-



د-



ج-

تابع السؤال الأول :

٦- أصدر النظام الأساسي للدولة في العام الميلادي :-

أ- ١٩٩٣ م

ب- ١٩٩٤ م

ج- ١٩٩٥ م

٧- النبي الذي عمل في صنع الدروع :-

أ- إدريس

ب - نوح

ج- داود

د- إبراهيم

٨- يشير الشكل الذي أمامك إلى إحدى الواجبات التي تجب عليك

تجاه وطنك:

أ - الدفاع

ب- الرعاية الصحية

ج- التعليم

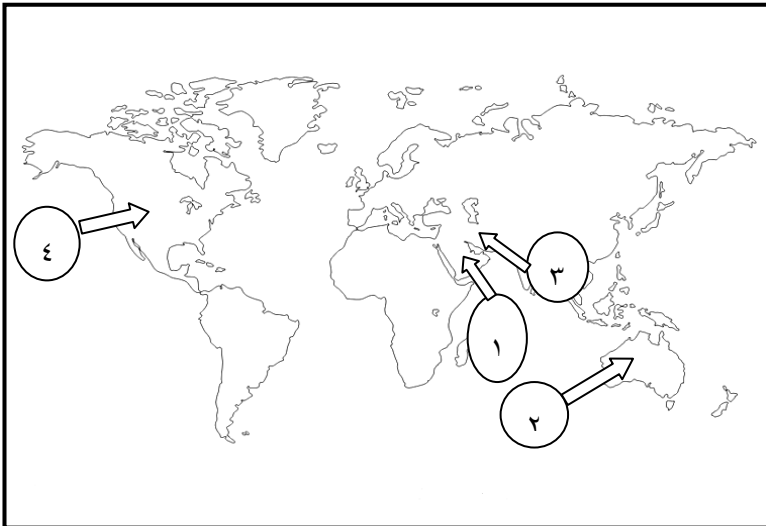
د- المحافظة على الممتلكات



السؤال الثاني: (٨ درجات) :

أ- انظر إلى خريطة الصحاري الحارة ومناطق انجراف التربة في العالم التي أمامك ، وأجب عن الأسئلة التي تليها:-

١- يشير الرقم (١) في الخريطة إلى صحراء



٢- اكتب على الخريطة

(الصحراء الكبرى) في موقعها

الصحيح.

٣- الرقم الذي يشير إلى سلسلة جبال في قارة آسيا تعاني من انجراف التربة في الخريطة هو

٤- ظلل على الخريطة القارة التي تقع بها صحراء اتكاما .

٢- عرف كل مما يلي :-

أ- التنوع الإحيائي :-

تابع : السؤال الثاني :

ب- الوطن :-

٣- عدد اثنين من المشاريع الرائدة لحفز الشباب العماني للعمل في القطاع الخاص .

السؤال الثالث: (٨ درجات) :

أ- علل لما يلي :

١- زيادة نمو النباتات الطبيعية وتنوعها وعظم وكثافتها في الغابات المدارية المطيرة (الاستوائية).

٢- تأكيد تعاليم الإسلام على إعداد المواطن الصالح وضرورة بناء أخلاق الفرد .

ب- صنف العوامل المؤدية إلى انجراف التربة بوضع إشارة (✓) لتدل على نوعها :

العامل	النوع		
	بشري	تضاريسي	مناخي
١-الرياح			
٢-إزالة الغابات			
٣- الأمطار			
٤-ميل السفوح			

ج- للأمانة صور وأشكال عدة . عدد اثنين منها .

السؤال الرابع: (٨ درجات) :

أ- انظر إلى الجدول أمامك الذي يمثل معدلات سقوط الأمطار ودرجات الحرارة الشهرية في محطة ثمرت بالسلطنة . ثم أجب عن الأسئلة التي تليه :-

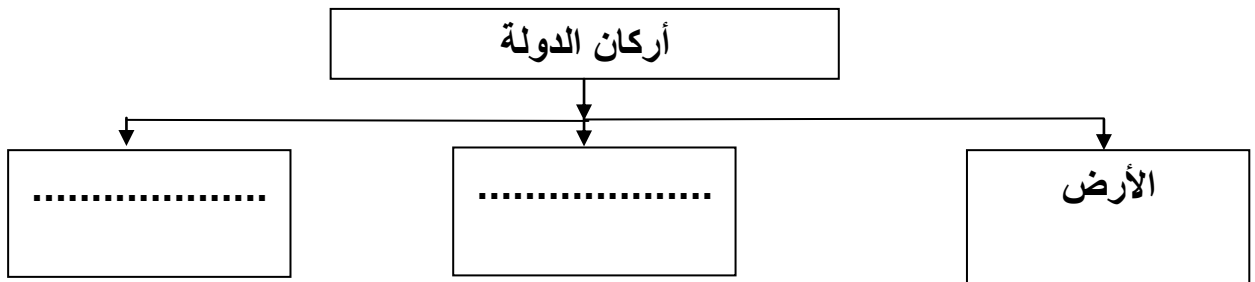
الشهر	يناير	فبراير	مارس	أبريل	مايو	يونيو	يوليو	أغسطس	سبتمبر	أكتوبر	نوفمبر	ديسمبر
درجة الحرارة	٢٦	٢٩	٣٢	٣٦	٣٩	٤٠	٣٨	٣٧	٣٨	٣٥	٣١	٢٧
الأمطار (مليمتر)	٢,٥	٥	١٠	١٥	صفر	٨	صفر	٥	صفر	٢,٥	صفر	٣

١- أي أشهر السنة أعلى درجة حرارة؟

٢- أي أشهر السنة أعلى نسبة سقوط الأمطار؟

٣- الأشهر التي لا تسقط فيها الأمطار

ب-أكمل البيانات المطلوبة حول أركان الدولة :-



ج - اكتب كلمة (مرغوب) أو (غير مرغوب) في المكان المناسب للعبارات الآتية :-

١- صرف معظم الوقت في مشاهدة التلفاز واللعب (.....) .

٢- الالتزام بالهدوء والسكينة أثناء دخول المسجد (.....) .

انتهت الأسئلة مع التمنيات للجميع بالتوفيق والنجاح

سلطنة عمان

وزارة التربية والتعليم


المديرية العامة للتربية والتعليم لمحافظة الظاهرة

دائرة التقويم التربوي

نموذج إجابة امتحان نهاية الفصل الدراسي الثاني - الدور الأول - العام الدراسي ٢٠١٣ / ٢٠١٤ م
الصف : السادس - المادة : الدراسات الاجتماعية الزمن : ساعة ونصف الدرجة : ٤٠ درجة

{ نموذج الإجابة }

إجابة السؤال الأول (١٦ درجة كل مفردة بدرجتين)

رقم الصفحة	الدرجة	رمز الاجابة الصحيحة	رقم المفردة
١٥	٢	المحمية ب	١
١٩	٢	الثلاث ج	٢
٢٦	٢	السافانا ب	٣
٢٨	٢	الاحتطاب د	٤
٣٣	٢	 أ	٥
٥١	٢	١٩٩٦م د	٦
٧٢	٢	داود أ	٧
٥٥	٢	التعليم ج	٨

الدرجة	الصفحة	إجابة السؤال الثاني : (٨ درجات)
		أ- <u>خريطة الصحاري الحارة ومناطق انجراف التربة في العالم :</u>
١	٣٠	١- صحراء شبه الجزيرة العربية .
١	٣٠	٢- كتابة الصحراء الكبرى في قارة افريقيا في موقعها الصحيح .
١	٣٦	٣- الرقم (٣) جبال زاغروس .
١	٣٠	٤- تظليل قارة امريكا الجنوبية .
		ب- <u>عرف كل مما يلي (لكل مفردة درجة)</u>
١	١٦	١- التنوع الإحيائي :- التباين بين الكائنات الحية بما في ذلك النظم البيئية البرية والبحرية والأحياء المائية وكذلك التنوع داخل الأنواع النباتية والحيوانية ، وفيما بين الأنواع والنظم البيئية .
١	٥٠	٢- الوطن :- بقعة الأرض التي ننتمي إليها ، وعاش عليها آباؤنا وأجدادنا ، وستبقى لأبنائنا وأحفادنا من بعدنا .
٢	٧٨	ج- المشاريع الرائدة لحفز الشباب العماني للعمل في القطاع الخاص : ١- صندوق الرفد ٢- مشروع انطلاقة (لكل مفردة درجة)

إجابة السؤال الثالث : (٨ درجات)

أ- علل لما يلي :

١- بسبب ارتفاع درجات الحرارة وكميات الأمطار طوال العام .

١ ١٩

٢- ليحافظ على استقرار حياته وحياة مجتمعه ، وليساعد على تقدمه ورقية .

١ ٥٩

ب- تصنيف العوامل المؤدية إلى انجراف التربة :-

١- الرياح _____ مناخي .

١ ٣٧

و

٢- إزالة الغابات _____ بشري .

١

٣٨

٣- الأمطار _____ مناخي .

١

٣- ميل السفوح _____ تضاريسي .

١

ج- للأمانة صور وأشكال عدة :-

١- اداء ما فرضه الله علينا (الصلاة و الصوم والزكاة)

٢- المحافظة على اسرار الأسرة وأموالها وممتلكاتها .

٢ ٦٢

٣- المحافظة على الخدمات التي تقدمها الدولة لنا .

٤- المحافظة على ما في مدرستنا من أثاث وأجهزة .

٥- المحافظة على الودائع والأمانات وردها لأصحابها .

(يكتفى بذكر اثنين بدرجتين)

إجابة السؤال الرابع (٨ درجات)

أ- الجدول :

- | | | |
|---|----|---|
| ١ | ٣٢ | ١- أشهر السنة أعلى درجة حرارة ----- شهر يونيو . |
| ١ | | ٢- أشهر السنة أعلى نسبة سقوط الأمطار --- شهر أبريل . |
| ٢ | | ٣- الأشهر التي لا تسقط فيها الأمطار --- مايو - يوليو - سبتمبر -
نوفمبر . |

ب- أركان الدولة الأساسية :

- | | | |
|---|----|----------------|
| ١ | ٥٠ | - المواطن . |
| ١ | | - الحكومة . |
| | | ج- السلوكيات . |

- | | | |
|---|----|--|
| ١ | ٦٠ | ١- صرف معظم الوقت في مشاهدة التلفاز واللعب (غير مرغوب) . |
| ١ | | ٢ - الالتزام بالهدوء والسكينة أثناء دخول المسجد (مرغوب) .
(لكل مفردة درجة) |

انتهى نموذج الإجابة