

بِسْمِ اللَّهِ الرَّحْمَنِ الرَّحِيمِ
" رَبِّهِ أَفْرَحُ لِي حَذْرِي وَيَمْنُ لِي أَمْرِي "



مِنَاطَةُ عَمَّانَ
وَأَوَّلَةُ التَّيْمَةِ وَالنَّجْلِيَّةِ
المديرية العامة للتربية والتعليم لمحافظة الظاهرة
دائرة التعمير التربوي

امتحان نهاية الفصل الدراسي الأول - الدور الثاني - العام الدراسي 2015/2014م

الصف: الخامس | المادة: الدراسات الاجتماعية | الزمن: ساعة ونصف | الدرجة: 40 درجة

تنبيه:

- الأسئلة في (5) صفحات .
- الاجابة في نفس الورقة .

رقم السؤال	الدرجة بالأرقام	الدرجة بالحروف	اسم وتوقيع المصحح	ملاحظات
الأول				
الثاني				
الثالث				
الرابع				
المجموع الكلي				

اسم الطالب /

الصف / الشعبة / ()

المدرسة /

السؤال الأول: (16 درجة)

اختر الإجابة الصحيحة من بين البدائل المعطاة بوضع دائرة حول رقم الإجابة الصحيحة :

1- من أنواع السهول في الوطن العربي تسمى (الفيضية) وتتواجد في الأنهار الكبرى هي :

(أ) السهول الرسوبية (ب) السهول الساحلية (ج) السهول الداخلية (د) السهول الداخلية



2-: يشير السهم في الشكل المقابل إلى :

(أ) دائرة الاستواء

(ب) خط غرينتش

(ج) مدار الجدي

(د) مدار السرطان

3- السهل الساحلي المشار إليه بالسهم في الخريطة هو سهل :



(أ) الباطنة

(ب) ظفار

(ج) مسندم

(د) الظاهرة

4- مجاري مائية مؤقتة الجريان تجري بها المياه في فترات سقوط الأمطار :

(أ) الأنهار (ب) الاودية (ج) الخلجان (د) الجروف

5- تعد أول لقاء عسكري بين المسلمين والمشركين وقعت في السنة الثانية للهجرة غزوة :

(أ) غزوة بدر (ب) غزوة أحد (ج) الخندق (د) فتح مكة

6 - أراضي منبسطة قليلة الانحدار ترتفع عما جاورها من أراضي :

(أ) السهول (ب) الهضاب (ج) الجبال (د) السواحل

7- الخليفة الراشدي الذي شهدت خلافته ما يعرف بحركة الردة وتمكن من القضاء عليها هو

(أ) أبو بكر الصديق (ب) عمر بن الخطاب (ج) عثمان بن عفان (د) علي بن أبي طالب

تابع السؤال الأول:

8. - : اسم المضيق المشار اليه بالسهم على الخريطة :



أ - البسفور

ب - باب المندب

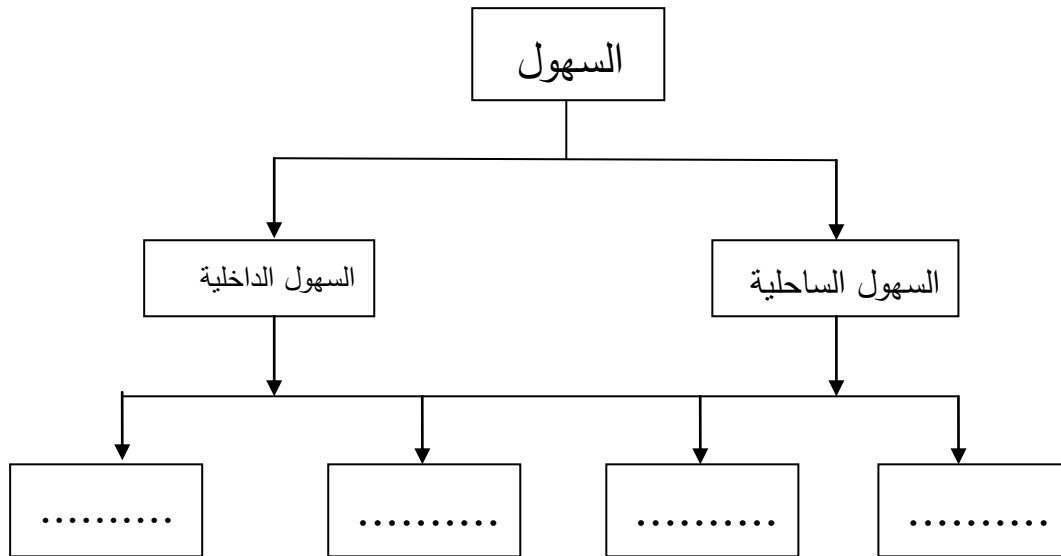
ج - جبل طارق

د - هرمز

السؤال الثاني: (8 درجات)

أ. صنف المعطيات بين القوسين حسب الشكل التالي :

(سهل الجزيرة . سهل الجفارة . سهل تهامة . سهل البطانة)



ب . فسر اختلاف التربة في خصائصها ؟

.....
.....

يتبع ،،،

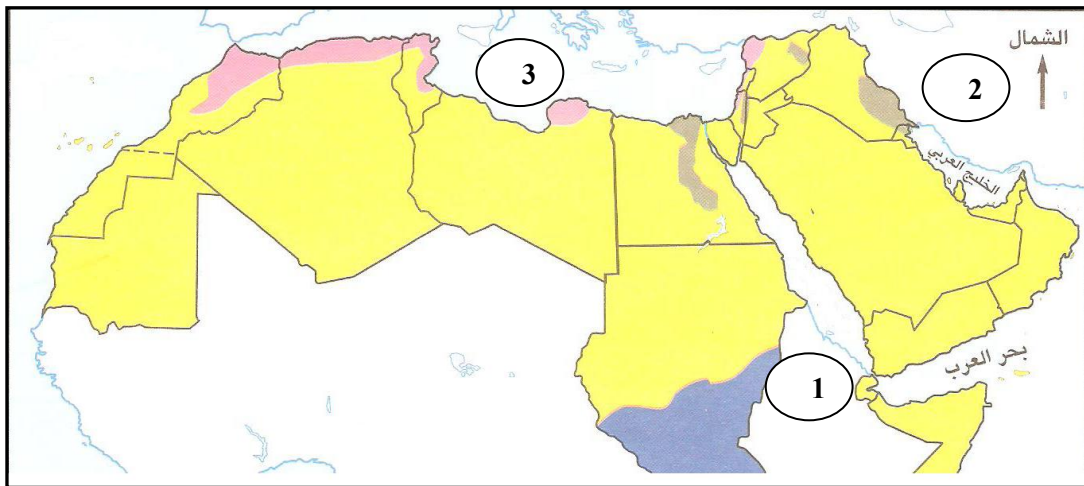
تابع السؤال الثاني :

ج . عرف مفهوم الطقس :

د- ما القارات التي يقع فيها الوطن العربي ؟

السؤال الثالث : (8 درجات)

أ- أدرس الخريطة التالية ثم أجب عن الأسئلة التي تليها ؟



1- سمي المسطح المائي المشار إليه بالرقم (3) ؟

2 - ظلل على الخريطة موقع جبال ظفار ؟

3 - باستخدام الرمز بين القوسين (●) حدد على الخريطة موقع المدينة التي انطلقت منها رسائل

الرسول صلى الله عليه و سلم الى حكام الدول المجاورة ؟

4 - ما الرقم الذي يشير الى الحبشة ؟

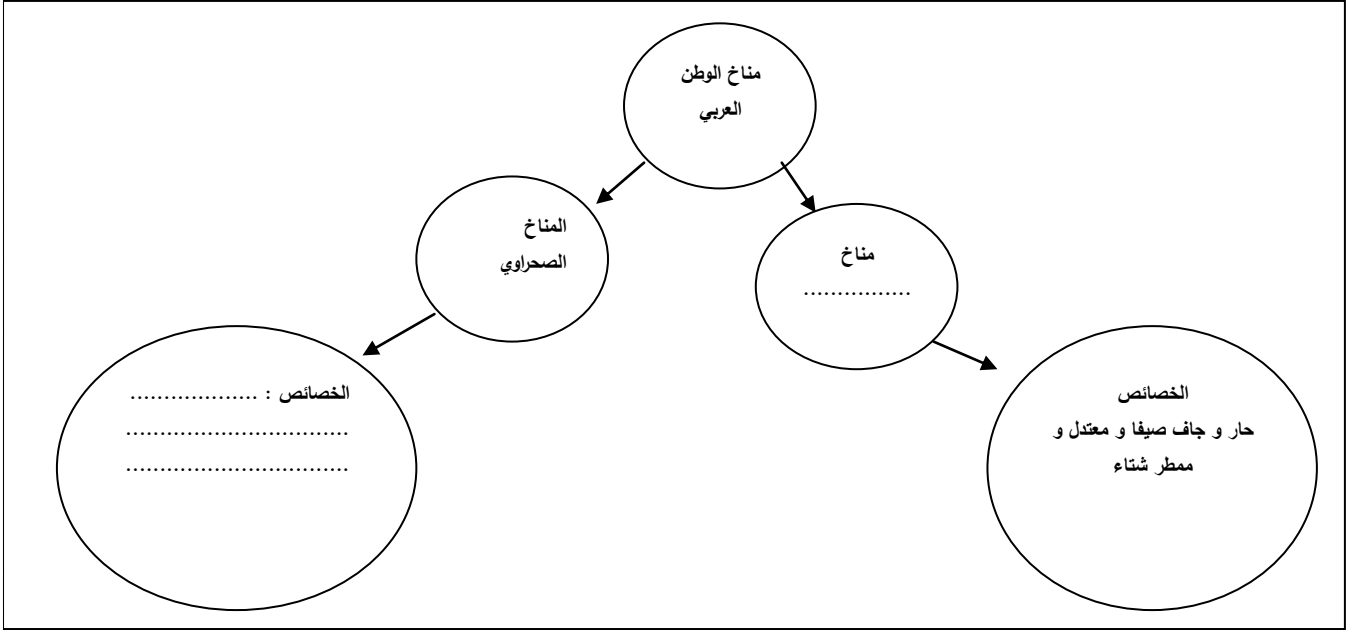
ب- إذكر اثنين من اهم الدواوين التي انشأها الخليفة عمر بن الخطاب ؟

.....1

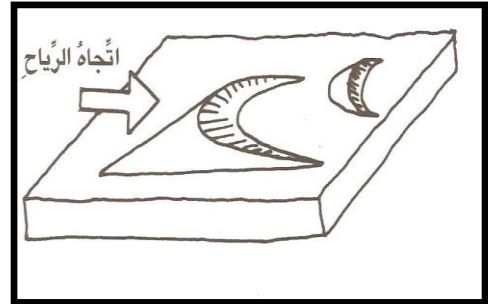
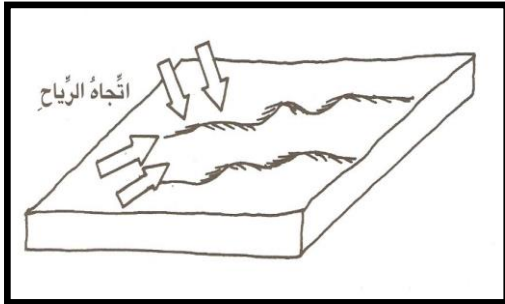
.....2

تابع- السؤال الثالث:

ج- أكمل الشكل التالي؟



د- اكتب أسفل الأشكال الآتية أسماء الكثبان الرملية؟



السؤال الرابع : (8 درجات)

أ - تنقسم الموارد المائية في الوطن العربي إلى نوعان اذكرهما؟

1
2

ب - تتصف الأمطار في المناطق الصحراوية بـ

1

2

تابع السؤال الرابع :

ج . رتب الأحداث التاريخية الآتية ترتيبا تصاعديا

غزوة أحد . فتح مكة . غزوة الأحزاب . عام الوفود

.....1

..... 2

..... 3

.....4

د . إذكر اثنين من أهم شروط صلح الحديبية ؟

.....

.....

، إنتهت الأسئلة مع تمنياتنا للجميع بالتوفيق والنجاح ،،

سلطنة عمان
وزارة التربية والتعليم
المديرية العامة للتربية والتعليم بمحافظة الظاهرة
دائرة التقويم التربوي

نموذج إجابة امتحان نهاية الفصل الدراسي الأول - الدور الثاني - العام الدراسي ٢٠١٤/٢٠١٥م			
الصف: الخامس	المادة: الدراسات الاجتماعية	الزمن: ساعة ونصف	الدرجة: ٤٠ درجة

النموذج في ٤ صفحات

{ نموذج الإجابة }

إجابة السؤال الأول (١٦ درجة) لكل مفردة درجتان

رقم المفردة	١	٢	٣	٤	٥	٦	٧	٨
رمز الإجابة	أ	ب	ج	ب	د	ب	أ	د
الإجابة	السهول الرسوبية	خط غرينتش	سهل الباطنة	الأودية	غزوة بدر	الهضاب	أبو بكر الصديق	هرمز
الدرجة	٢	٢	٢	٢	٢	٢	٢	٢
الصفحة	١٨	١١	١٨	٥٥	٨٨	٣١	٩٥	١٦

م	الإجابة	الدرجة	الصفحة
أ	<pre> graph TD A[السهول] --> B[السهول الداخلية] A --> C[السهول الساحلية] B --> D[سهل البطانة] B --> E[سهل الجزيرة] B --> F[سهل تهامة] B --> G[سهل الجفارة] </pre>	درجتان لكل مفردة نصف درجة	١٨
ب	بسبب اختلاف المواد الصخرية و المواد العضوية التي تدخل في تكوينها	درجتان	٥٩
ج	حالة الجو لفترة زمنية قصيرة لا تتجاوز عدة أيام فقط	درجتان	٤١
د	آسيا و أفريقيا	درجتان	١٠

م	الإجابة	الدرجة	الصفحة
١	<p>١ - البحر المتوسط</p> <p>٢ - الإجابة بتظليل الموقع على الخريطة مع مراعاة إجابة الطالب</p> <p>٣ - الإجابة بتوقيع الرمز على موقع المدينة المنورة في الخريطة مع مراعاة إجابة الطالب</p> <p>٤ - رقم ١</p>	<p>درجتان لكل مفردة نصف درجة</p>	<p>١٦</p> <p>٢٧</p> <p>٩٠</p> <p>٨١</p>
ب	١ - ديوان الجند ٢ - ديوان الخراج	درجتان	٩٧
ج	<p>المناخ في الوطن العربي</p> <p>المناخ الصحراوي</p> <p>المناخ البحر المتوسط</p> <p>الخصائص : ارتفاع شديد في درجات الحرارة صيفا و اثناء النهار و انخفاضها شتاء و أثناء الليل</p> <p>الخصائص حار و جاف صيفا و معتدل و ممطر شتاء</p> <p>مع مراعاة إجابة الطالب</p>	درجتان	٤٦ - ٤١
د	<p>الكثبان الطولية</p> <p>الكثبان الهلالية</p>	درجتان	٣٧

السؤال الرابع (٨) درجات

م	الإجابة	الدرجة	الصفحة
أ	١ - الموارد المائية الجوفية ٢ - الموارد المائية السطحية	درجتان	٥٥
ب	غزيرة و على شكل زخات فجائية و لفترة قصيرة من الزمن مطلوب مفردتين فقط مع مراعاة اجابة الطالب	درجتان	٤٦
ج	١ - غزوة أحد ٢ - غزوة الأحزاب ٣ - فتح مكة ٤ - عام الوفود	درجتان	٩٢ - ٨٨
د	١ - وقف الحرب بين قريش و المسلمين مدة عشر سنوات ٢ - يعيد الرسول صلى الله عليه و سلم من يأتيه مسلما دون إذن وليه ٣ - لا تلتزم قريش بإعادة من يأتيها من عند محمد صلى الله عليه و سلم مرتدا عن الإسلام ٤ - للقبائل العربية حرية التحالف مع قريش أو مع المسلمين ٥ - يرجع الرسول صلى الله عليه و سلم و المسلمون هذا العام دون زيارة البيت الحرام على أن يعودوا في العام القادم مطلوب مفردتين فقط	درجتان	٨٩