

ملاحظة : الإجابة في الورقة نفسها	إمتحان الدور الأول (الفصل الدراسي الأول)	العام الدراسي ٢٠١٢/٢٠١٣ م
تتبيه : الأسئلة في ٥ صفحات	الزمن : ساعة ونصف	المادة / دراسات اجتماعية
الصف : الخامس (.....)	.....	اسم الطالب : .....

السؤال الأول: ضع دائرة حول رمز الإجابة الصحيحة من بين البدائل المعطاة لكل عبارة :

١- يجري نهر النيل في :

(أ) العراق (ب) الصومال (ج) مصر (د) المغرب

٢- مصطلح أطلقه المؤرخون على حالة العرب قبل الاسلام :

(أ) القبيلة (ب) العرب (ج) الفرسان (د) الجاهلية

٣- نوع التربة الأكثر انتشارا في الوطن العربي :

(أ) البحر المتوسط (ب) الرملية الصحراوية (ج) الحشائش السوداء (د) الفيضية

٤- توجد هضبة ثمرية في :

(أ) ليبيا (ب) السعودية (ج) الأردن (د) سلطنة عمان

٥- أعلى قمة جبلية في الوطن العربي جبل :

(أ) العرب (ب) الهرج (ج) طبقال (د) ظفار

٦- احدى القبائل التالية من العدنانيون :

(أ) قريش (ب) الأزدي (ج) الأوس (د) كنده

٧- رحلة أهل مكة قبل الاسلام صيفا الى بلاد :

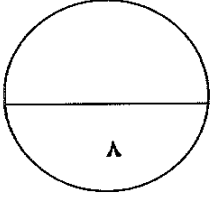
(أ) مصر (ب) العراق (ج) الشام (د) اليمن

٨- تبلغ مساحة شبه الجزيرة العربية حوالي :

(أ) ٣ مليون كم ٢ (ب) ٣٠ مليون كم ٢ (ج) ٣٠٠ مليون كم ٢ (د) ٣٠٠٠ مليون كم ٢

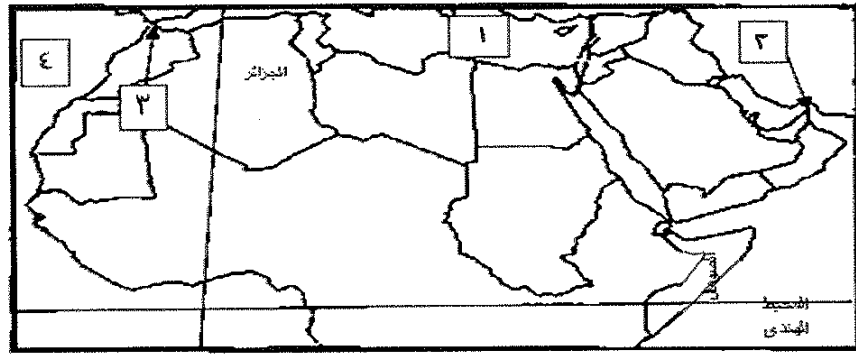
الصفحة ١ من ٥

ملاحظة : الإجابة في الورقة نفسها	إمتحان الدور الأول (الفصل الأول)	العام الدراسي ٢٠١٢/٢٠١٣ م
تنبيه : الأسئلة في ٥ صفحات	الزمن : ساعة ونصف	المادة / دراسات اجتماعية



### السؤال الثاني :

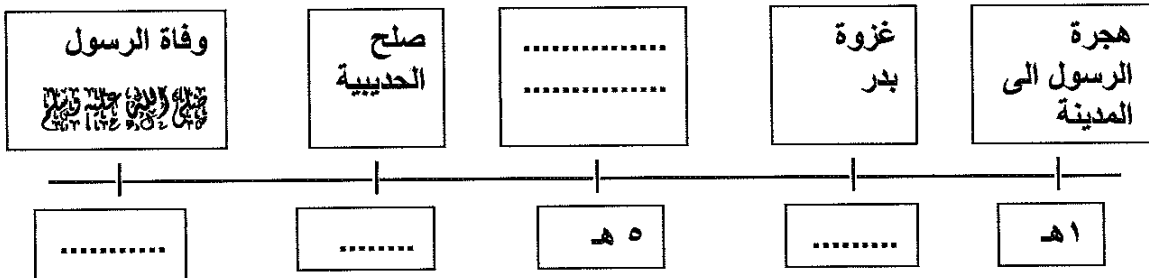
أولاً: تمعن في الخريطة التي أمامك جيداً ، ثم أجب عما يليها من أسئلة :



- (أ) ما اسم خط الطول الرئيسي المار بالجزائر ؟ .....
- (ب) ما اسم دائرة العرض الرئيسية المارة بالصومال ؟ .....
- (ج) أكتب بين القوسين الرقم الذي يشير إليه من الخريطة :

- مضيق هرمز (.....)
- مضيق جبل طارق (.....)
- البحر المتوسط (.....)
- المحيط الأطلسي (.....)

ثانياً: أكمل المسطرة الزمنية التالية :



الى صفحة ٣ ←



الصفحة ٢ من ٥

ملاحظة : الإجابة في الورقة نفسها	إمتحان الدور الأول (الفصل الأول)	العام الدراسي ٢٠١٢/٢٠١٣ م
تنبيه : الأسئلة في ٥ صفحات	الزمن : ساعة ونصف	المادة / دراسات اجتماعية

ثالثا : رتب المناصب التي بين القوسين حسب درجتهم في السلم الاجتماعي للمجتمع البيزنطي :

(( الفلاحون - النبلاء - الصناع - التجار ))

السؤال الثالث: أولا : قارن بين الشكلين الظاهرين في الجدول الآتي :

الشكل		وجه المقارنة
		اسم الشكل
.....	.....	مكان تكونه
.....	السهول الفيضية	عامل تكونه
الرياح	.....	

ثانيا : (١) علل:

أ- كثرة تنقل البدو من مكان لآخر .

.....

ب - هجرة الرسول الكريم من مكة الى المدينة .

.....

الى صفحة ٤

الصفحة ٣ من ٥

ملاحظة : الإجابة في الورقة نفسها	إمتحان الدور الأول (الفصل الأول)	العام الدراسي ٢٠١٢/٢٠١٣ م
تنبيه : الأسئلة في ٥ صفحات	الزمن : ساعة ونصف	المادة / دراسات إجتماعية

(٢) دلل باثنتين من :

أ - الدواوين التي أنشأها الخليفة عمر بن الخطاب .

١- .....  
٢- .....

ب - الدول المحيطة بشبه الجزيرة العربية قبيل الاسلام .

١- .....  
٢- .....

ثالثاً: [ يعاني الوطن العربي من عجز في الموارد المائية .. ]

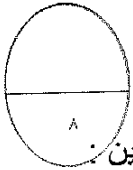
في ضوء العبارة السابقة أجب عما يلي :

أ - ما المقصود بالعجز المائي ؟ .....

ب - اقترح حلولاً لمواجهة العجز المائي في الوطن العربي؟

١- .....  
٢- .....

السؤال الرابع:



أولاً: صنف المسميات الواردة بالجدول الى ظواهرها التضاريسية في الوطن العربي مما بين القوسين :

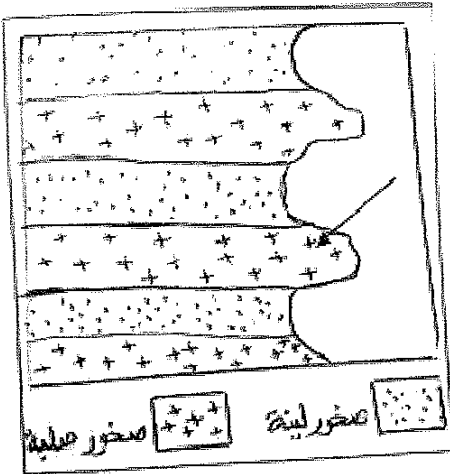
{ هضبه - صحراء - سهول - جبال }

المسمى	الظاهرة التضاريسية المنتمية اليها
الربع الخالي	
حجر عمان	
جدة الحراسيس	
الرافدين	

الصفحة ٤ من ٥

الى صفحه ٥

ملاحظة : الإجابة في الورقة نفسها	إمتحان الدور الأول (الفصل الأول)	العام الدراسي ٢٠١٢/٢٠١٣ م
تنبيه : الأسئلة في ٥ صفحات	الزمن : ساعة ونصف	المادة / دراسات اجتماعية



ثانيا: تمعن الشكل الذي أمامك جيدا ، ثم أجب عن الأسئلة التي

تليه :

أ - سم الشكل التضاريسي المشار اليه بالسهم ؟

.....

ب - ما طبيعة الصخور التي تكون بها الشكل المشار اليه؟

.....

ثالثا:

(١) أكتب نوع المناخ السائد في الأماكن التالية :

أ - جبال ظفار . (.....)

ب - لبنان . (.....)

ج - الصحراء الكبرى (.....)

(٢) عرف المناخ ؟

.....

+++++  
انتهت الأسئلة مع تمنياتنا لكم بالتوفيق والنجاح

الدرجة الكلية  
للامتحان ٤٠  
درجة

نموذج إجابة امتحان الصف الخامس الأساسي  
لمادة الدراسات الاجتماعية

إجابة السؤال الأول : ١٦ درجة

رقم المفردة	١	٢	٣	٤	٥	٦	٧	٨
رمز الإجابة	ج	د	ب	د	ج	أ	ج	أ
الإجابة	مصر	الجاهلية	الرملية الصحراوية	سلطنة عمان	طبقال	قريش	الشام	٣ مليون كم ٢
الدرجة المقدرة	٢	٢	٢	٢	٢	٢	٢	٢
الصفحة	٢٧	٧٠	٦٢	٣٧	٣١	١١	٧٣	١٣

نموذج إجابة

نموذج إجابة امتحان الصف الخامس الأساسي لمادة الدراسات الاجتماعية

اجابة السؤال الثاني : ٨ درجات

أولاً: أربع درجات

الصفحة	الدرجة المقدره	الإجابة الصحيحة	الجزئية
١٦	درجه	خط غرينتش	أ
١٦	درجه	دائرة الاستواء	ب
٢٠	نصف درجه	مضيق هرمز ( ٢ )	ج
	نصف درجه	مضيق جبل طارق ( ٣ )	
	نصف درجه	البحر المتوسط ( ١ )	
	نصف درجه	المحيط الأطلسي ( ٤ )	

ثانياً: درجتان

ملاحظات	الصفحة	الدرجة المقدره	الإجابة الصحيحة	الجزئية
الاجابة ما تحته خط	٩٣	نصف درجه	غزوة بدر ٢هـ	المسطرة الزمنية
	٩٣	نصف درجه	غزوة الخندق ٥هـ	
	٩٤	نصف درجه	صلح الحديبية ٦هـ	
	٩٨	نصف درجه	وفاة الرسول ١١هـ	

ثالثاً : درجتان

الصفحة	الدرجة المقدره	الإجابة الصحيحة	الجزئية
٨٣	نصف درجه	النبلاء	السلم الاجتماعي
	نصف درجه	التجار	
	نصف درجه	الصناع	
	نصف درجه	الفلاحون	

نموذج اجابة

نموذج إجابة امتحان الصف الخامس الأساسي لمادة الدراسات الاجتماعية

اجابة السؤال الثالث: ٨ درجات

أولاً: درجتان

الجزئية	الإجابة الصحيحة	الدرجة المقدرة	الصفحة	الملاحظات
جدول	الدلتا - الكثيب الرملي	نصف / نصف	٤١/٢٨	—
المقارنه	الصحراء	نصف درجه	٤١	
	المياه أو النهر	نصف درجه	٢٨	

ثانياً: ٤ درجات

الجزئية	الإجابة الصحيحة	الدرجة المقدرة	الصفحة	ملاحظات
١	أ - طلباً للماء والمرعى ب - بسبب أذى قريش للمسلمين	درجه درجه	٧١ ٩٠	أي اجابه تفيد المعنى أي اجابه تفيد المعنى
٢	أ - ١- ديوان الجند ٢- ديوان الخراج ب - ١- الفرس ٢- الروم ٣- الحبشه	نصف - نصف نصف - نصف	١٠٤ ٧٨	— يكتفى باثنتين فقط

ثالثاً : درجتان

الجزئية	الإجابة الصحيحة	الدرجة المقدرة	الصفحة	ملاحظات
-	أ - العجز المائي يعني نقص الموارد المائية ب - ١- تحلية مياه البحر ٢- معالجة مياه الصرف الصحي - معالجة المياه العادمة	درجه نصف - نصف	٦٠ ٦٠	— يكتفى بحلين وأي اجابة أخرى يراها المعلم مناسبة

نموذج اجابة



نموذج إجابة امتحان الصف الخامس الأساسي لمادة الدراسات الاجتماعية

إجابة السؤال الرابع : ٨ درجات

أولاً : درجتان

الجزئية	الإجابة الصحيحة	الدرجة المقدره	الصفحة
جدول	صحراء	نصف	٣٩
التصنيف	جبال	نصف	٣١
	هضبه	نصف	٣٧
	سهول	نصف	٢٢

ثانياً : درجتان

الجزئية	الإجابة الصحيحة	الدرجة المقدره	الصفحة
الشكل	أ - الرأس	درجة	٢٤
	ب - صلبه	درجه	٢٤

ثالثاً : أربع درجات

الجزئية	الإجابة الصحيحة	الدرجة المقدره	الصفحة
١	أ - مناخ موسمي	درجة	٥٤
	ب - مناخ البحر المتوسط	درجه	٤٥
	ج - مناخ صحراوي	درجه	٤٩
٢	المناخ : متوسط حالة الجو لفترة طويلة قد تكون شهرا أو فصلا أو سنة أو أكثر	درجة	٤٤

نموذج إجابة

انتهى نموذج الإجابة مع تمنياتنا للجميع بالتوفيق