

بِسْمِ اللَّهِ الرَّحْمَنِ الرَّحِيمِ  
" رَبِّهِ اخْرُجْ لِي حَذْرِي وَيَسِّرْ لِي أَمْرِي "



المديرية العامة للتربية والتعليم لمحافظة الظاهرة  
دائرة التقويم التربوي

امتحان نهاية الفصل الدراسي الثاني - الدور الأول - العام الدراسي ٢٠١٤ / ٢٠١٥ م

الصف : الخامس	المادة : الدراسات الاجتماعية	الزمن : ساعة ونصف	الدرجة : ٤٠
---------------	------------------------------	-------------------	-------------

تنبيه :

- الأسئلة في ( ٦ ) صفحات .
- الاجابة في نفس الورقة .

رقم السؤال	الدرجة بالأرقام	الدرجة بالحروف	اسم المصحح	توقيعه
الأول				
الثاني				
الثالث				
الرابع				
المجموع الكلي				

\*\*\*\*\*

اسم الطالب / .....

الصف / ..... الشعبة ( )

المدرسة / .....

امتحان نهاية الفصل الدراسي الثاني - الدور الأول - العام الدراسي ٢٠١٤ / ٢٠١٥ م

أولاً : الأسئلة الموضوعية : ( ١٦ درجة ) :

السؤال الأول : ضع دائرة حول الرمز الدال على الإجابة الصحيحة من بين البدائل المعطاة :

١- يطلق على الكيس المصنوع من سعف النخيل والذي يعبأ فيه التمر اسم :

( أ ) المسطاح ( ب ) الجراب ( ج ) الجحلة ( د ) الدلو



٢- يشير الشكل المقابل إلى توليد الطاقة الكهربائية من : ←

( أ ) الطاقة الشمسية ( ب ) الغاز ( ج ) النفط ( د ) مياه السدود

٣- بلغ عدد الذين حكموا من الأسرة الأموية.....خليفة :

( أ ) ١٤ ( ب ) ٤١ ( ج ) ١٤٠ ( د ) ٤٢

٤- إحدى الصناعات التالية تعد صناعة تحويلية :

( أ ) استخراج اللؤلؤ ( ب ) استخراج النفط ( ج ) صيد الأسماك ( د ) تعليب الأسماك



٥- بلغت حدود الدولة الأموية إلى الصحراء الكبرى :

( أ ) شرقاً ( ب ) غرباً ( ج ) شمالاً ( د ) جنوباً

تابع امتحان نهاية الفصل الدراسي الثاني - الدور الأول - العام الدراسي ٢٠١٤ / ٢٠١٥ م

### تابع السؤال الأول:

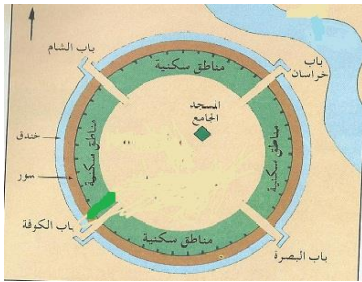
٦- يؤدي استخدام الأدوات التقليدية في الزراعة إلى ظهور مشكلة :

(أ) تدني الانتاج (ب) زيادة الانتاج (ج) التلوث (د) الازدحام

٧ - يتركز السكان على سواحل الخليج العربي بسبب توافر:

(أ) المناخ المعتدل (ب) المياه (ج) النفط والغاز (د) التربة الخصبة

٨ - يؤدي باب خراسان في مدينة بغداد الموضحة في الشكل المقابل إلى نهر:



(أ) الفرات (ب) السند

(ج) دجلة (د) جيحون

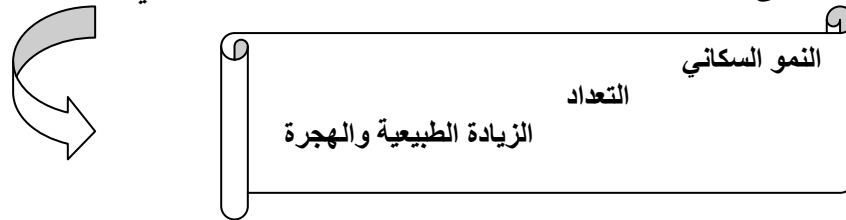
ثانيا : الأسئلة المقالية (٢٤ درجة) :

السؤال الثاني : أجب عن الأسئلة التالية ( ٨ درجات ) :

(أ) ( كان عدد سكان الوطن العربي عام ١٩٥٠م حوالي ٨٣ مليون نسمة ، وأصبح في عام

٢٠١٣م ما يقارب ٣٧٦ مليون نسمة ) .

\* أجب على الأسئلة التالية بالاستعانة بالكلمات الواردة في الشكل .



١- ما العملية التي يتم بها معرفة عدد السكان في أي دولة ؟.....

٢- ما الذي حدث لسكان الوطن العربي خلال هذه الفترة ؟.....

٣- ما السبب في هذا التغيير ؟.....

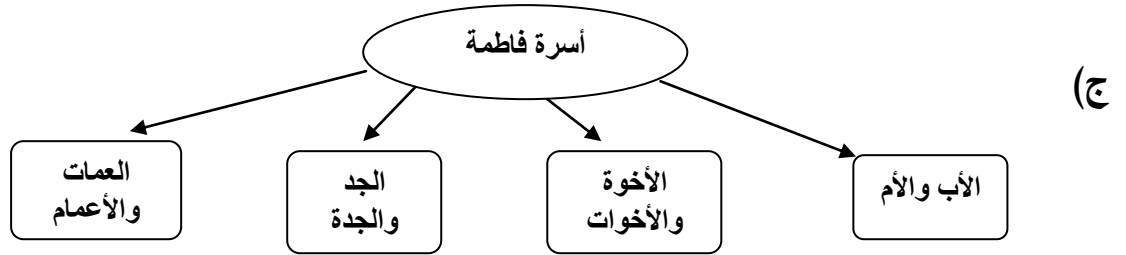
يتبع،،، ٣

تابع امتحان نهاية الفصل الدراسي الثاني - الدور الأول - العام الدراسي ٢٠١٤ / ٢٠١٥ م

تابع السؤال الثاني :

(ب) رتب العصور التاريخية التالية تصاعديا بوضع الأرقام .

- ( ) - الخلافة الأموية.
- ( ) - الخلفاء الراشدين.
- ( ) - الخلافة العباسية.



- تصنف أسرة فاطمة ضمن الأسر .....
- اذكر واحد من أهم حقوق فاطمة على أسرتها.....

السؤال الثالث : أجب عن الأسئلة التالية ( ٨ درجات ) :

(أ) انظر إلى الصور التي أمامك وحدد نوع المشكلة الطبيعية التي تواجه الزراعة العربية :



.....١- .....٢-

٣- وضح أهمية الزراعة في الوطن العربي.

.....

٤- ما المقصود بالأمن الغذائي؟.....

يتبع،،،٤

تابع السؤال الثالث :

(ب) ادرس الخريطة التي أمامك ، ثم أجب عن الأسئلة التي تليها :



١- ارسم على الخريطة خط سير عبدالرحمن الغافقي لفتح بلاد الفرنجة.  
( من الحدود الجنوبية حتى مدينة تور ) .

٢- اكتب على الخريطة اسم المضيق الذي يفصل بين قارتي أفريقيا وأوروبا .

٣- استخرج من الخريطة الاسم القديم للمحيط الأطلسي.....

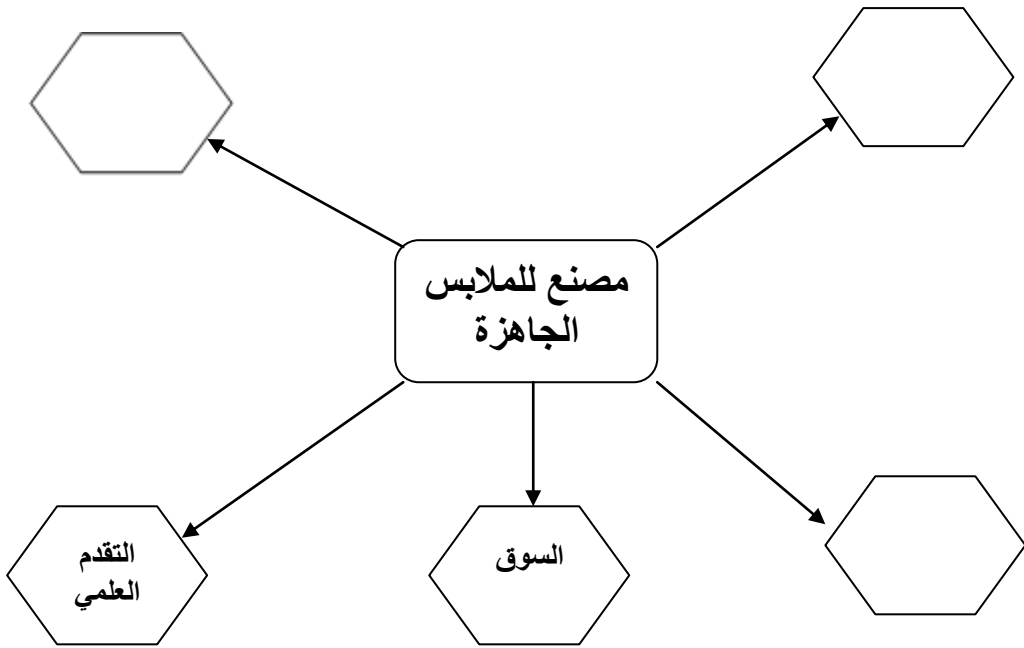
(ج) احسب فترة امتداد الخلافة العباسية .. علما بأنها قامت سنة (١٣٢) هـ وانتهت سنة (٦٥٦) هـ .

.....  
.....

تابع امتحان نهاية الفصل الدراسي الثاني - الدور الأول - العام الدراسي ٢٠١٤ / ٢٠١٥ م

السؤال الرابع : أجب عن الأسئلة التالية ( ٨ درجات ) :

( أ ) أكمل العناصر البشرية المتبقية التي يحتاج إليها المصنع ليبدأ العمل :



( ب ) تميز العصر الأموي باهتمامه بالعمران فأنشأوا العديد من المدن والقصور والمساجد

صنف هذه المعالم حسب المدينة التي توجد فيها:

المدينة	المعالم
	قصر الرصافة
	مسجد قبة الصخرة

تابع امتحان نهاية الفصل الدراسي الثاني - الدور الأول - العام الدراسي ٢٠١٤ / ٢٠١٥ م

تابع السؤال الرابع :

(ج) اقرأ النص التالي ، ثم أجب عن الأسئلة التي تليه :

" تشجع وزارة التنمية الاجتماعية المؤسسات والجمعيات الأهلية والتطوعية على تقديم الخدمات الاجتماعية للمواطنين ، وبتوجيهات من جلالة السلطان المعظم - أمدته الله بالصحة والعافية - تم تخصيص جائزة للأعمال التطوعية بهدف نشر ثقافة العمل التطوعي "



١- ما اسم الجائزة التي يشير إليها الشعار المقابل ؟

.....

٢- استخرج من النص اسم الوزارة التي تشرف على الجائزة .

.....

٣- عبر بكلمات بسيطة أو عبارة شكر أو دعاء عن شعورك بعودة قائد النهضة العمانية الحديثة جلالة السلطان قابوس -حفظه الله ورعاه - إلى أرض الوطن بعد رحلة العلاج التي قضاها في ألمانيا وتكللت بالنجاح - والله الحمد - .

.....  
.....  
.....

،، انتهت الأسئلة مع تمنياتنا للجميع بالتوفيق والنجاح ،،

سلطنة عمان  
وزارة التربية والتعليم  
المديرية العامة للتربية والتعليم لمحافظة الظاهرة  
دائرة التقويم التربوي

{ نموذج الإجابة لامتحان الدراسات الاجتماعية للصف الخامس ٢٠١٤ / ٢٠١٥ م }

السؤال الأول : اختيار من متعدد ١٦ درجة ( لكل مفردة درجتان )

رقم المفردة	الرمز الصحيح	الكلمة الصحيحة	رقم الصفحة	الدرجة
١	ب	الجراب	٩٨	٢
٢	د	مياه السدود	٦٩	٢
٣	أ	١٤	١٠	٢
٤	د	تعليب الأسماك	٦٤	٢
٥	د	جنوبا	٢٣	٢
٦	أ	تدني الانتاج	٥١	٢
٧	ج	النفط والغاز	٤٥	٢
٨	ج	دجلة	٣٠	٢



## نموذج اجابة السؤال الثانى : ( ٨ درجات )

الدرجة	الصفحة	الاجابة
١	٣٨	( أ ) ١-التعداد
١	٤٠	٢- النمو السكاني
١	٤٠	٣- الزيادة الطبيعية والهجرة
٣ درجات لكل اجابة درجة	١٠	( ب ) الترتيب الصحيح : ( ٢ - ١ - ٣ ) الخلفاء الراشدين ١  الخلافة الأموية ٢  الخلافة العباسية ٣
١	٨١	( ج ) ١- الأسرة الكبيرة أو الممتدة .
١	٨٢	٢- الحقوق/ ١- التعليم . ٢- العلاج . ٣- المسكن الآمن . ٤- الحب والعطف . ٥- المأكل والملبس . ٦- التربية . ٧- الاعداد للحياة .
( أو أي إجابة تفيد المعنى )		

يتبع ٢،،،

نموذج اجابة السؤال الثالث : ( ٨ درجات )

الدرجة	الصفحة	الاجابة
١	٥٧	١- انجراف التربة .
١	٥٧	٢- التصحر .
١	٥٤	٣- أهمية الزراعة : - فرص عمل لسكان الريف . - مصدر للغذاء . - توفر مواد خام للصناعة . - مصدر للدخل القومي . (يكتفى بواحد)
١	٥٨	٤- الأمن الغذائي/ القدرة على توفير احتياجات السكان من الغذاء محليا بصورة مستمرة ( أو ما يعطي المعنى) .
		(ب) الخريطة :
١	١٧	١- خط سير الحملة من بداية الحدود إلى تور .
١	١٧	٢- مضيق جبل طارق .
١	١٧	٣- بحر الظلمات .
		(ج) ٦٥٦ - ١٣٢ = ٥٢٤ سنة
١	٢٥	٥٠٠ سنة ٥ قرون ( يكتفى بالنتيجة )

نموذج اجابة السؤال الرابع : ( ٨ درجات )

(أ)

١

٦٣

- رأس المال .

١

٦٣

- وسائل النقل .

١

٦٣

- الأيدي العاملة .

(ب)

١

٢١

١- دمشق .

١

٢٢

٢- القدس أو فلسطين .

(ج)

١

٩٥

١- جائزة السلطان قابوس للعمل التطوعي .

١

٩٥

٢- وزارة التنمية الاجتماعية .

١

٣- أي عبارة شكر أو دعاء / أو ما يؤدي الى المعنى حسب تعبير الطالب .

نهاية النموذج