

سلطنة عمان

وزارة التربية والتعليم

المديرية العامة للتربية والتعليم لمحافظة شمال الشرقية

امتحان الصف الخامس الأساسي للفصل الدراسي الأول من العام الدراسي ١٤٣٤ - ١٤٣٥ هـ / ٢٠١٣ - ٢٠١٤ م

الزمن : ساعة ونصف

المادة : الدراسات الاجتماعية

تنبيه الأسئلة في أربع صفحات والإجابة في نفس ورقة الأسئلة

اسم الطالب :

اجب عن جميع الأسئلة الآتية :-

السؤال الأول ضع دائرة حول رمز الإجابة الصحيحة من بين البدائل المعطاة :- (١٦ درجة)

١- تسقط الامطار الموسمية في فصل :-

(د) الخريف

(ج) الربيع

(أ) الشتاء (ب) الصيف

٢- انتشرت بين الفرس قبيل الاسلام الديانة :-

(د) الاسلام

(ج) اليهودية

(أ) المجوسية (ب) المسيحية

٣- أصغر دولة عربية من حيث المساحة هي :-

(د) البحرين

(ج) قطر

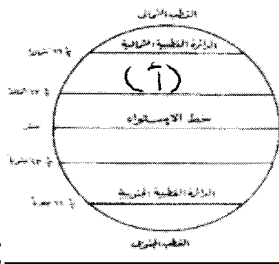
(أ) تونس (ب) لبنان

٤- معظم أهل عمان من :-

(د) بكر

(ج) الازد

(أ) قریش (ب) الاوس



٥- يشير الرمز (أ) في الشكل الذي أمامك الى احدى دوائر العرض التالية

(أ) مدار السرطان (ب) مدار الجدي (ج) الدائرة القطبية الجنوبية (د) الدائرة القطبية الشمالية

٦- من خلال الجدول الذي امامك نلاحظ ان اكثر شهور السنة تساقط في كمية الامطار حسب البيانات التي

سجلت في محطة فهود بسلطنة عمان في شهر :-

الشهر	يناير	فبراير	مارس	ابريل	مايو	يونيو	يوليو	أغسطس	سبتمبر	أكتوبر	نوفمبر	ديسمبر
مليمترا	٥.٧	٧.١	٦.٤	٦.٧	-	-	١.٣	٢.٤	٤	-	-	٠.٧

(د) ديسمبر

(ج) اغسطس

(ب) فبراير

(أ) يناير

٧- المدينة الحجازية التي كانت قبيل الاسلام تخرج منها رحلتان تجاريتان احدهما في الصيف والاخرى في الشتاء هي :-

(أ) المدينة المنورة (ب) الطائف (ج) مكة المكرمة (د) صنعاء

٨- جميع الدول التالية محيطة بشبة الجزيرة العربية قبيل الاسلام ماعدا :-

(أ) الحبشة (ب) الامبراطورية الفارسية (ج) الامبراطورية البيزنطية (د) الامبراطورية الصينية

السؤال الثاني :اجب عن الأسئلة التالية :-

١- عرف المقصود ب: (٢ درجة)

(أ) الطقس :

(ب) السلسلة الجبلية :

٢- علل ما يأتي : (٢ درجة)

(أ) تسمية العرب بهذا الاسم .

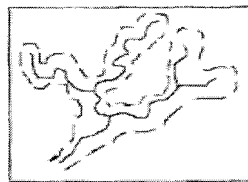
(ب) يعاني الوطن العربي من عجز في الموارد المائية .

٣- (أ) قارن بين الجبال والهضاب من حيث :- (درجتين)


- الشكل - النشاط الاقتصادي

نوع التضاريس	الشكل	النشاط الاقتصادي
الجبال		
الهضاب		

(ب) اكتب اشكال الدالات النهرية التي امامك : (٢ درجة)



(أ)



(ب)

١-

٢-

السؤال الثالث : اجب عن الأسئلة التالية

١- فسر العبارات التالية :- (٣ درجات)

(أ) تزور اعداد كبيرة من سكان دول الخليج العربية صيفا كلا من سوريا ولبنان والاردن وتونس.

(ب) تطورت الحياة في صحراء شبه الجزيرة العربية .

(ج) تعتبر هجرة الرسول صلى الله عليه وسلم الى يثرب حدثا مهما في تاريخ الاسلام .

٢- اقرأ النص التالي ثم اجب عن الأسئلة التي تليه:- (٢ درجة)

(بعد استقرار الرسول صلى الله عليه وسلم في المدينة المنورة بدأ باتخاذ الاجراءات اللازمة لتنظيم الدولة فاشترى مكانا وبنى عليه مسجدا للمسلمين للعبادة وتعليم القراءة والكتابة وتفسير القرآن والاستماع لاحاديث رسول الله صلى الله عليه وسلم ، كما كان المسجد المركز الاداري الذي تصدر منه الاوامر والتوجيهات الى المسلمين)
(أ) وضح اهمية المسجد للمسلمين ؟

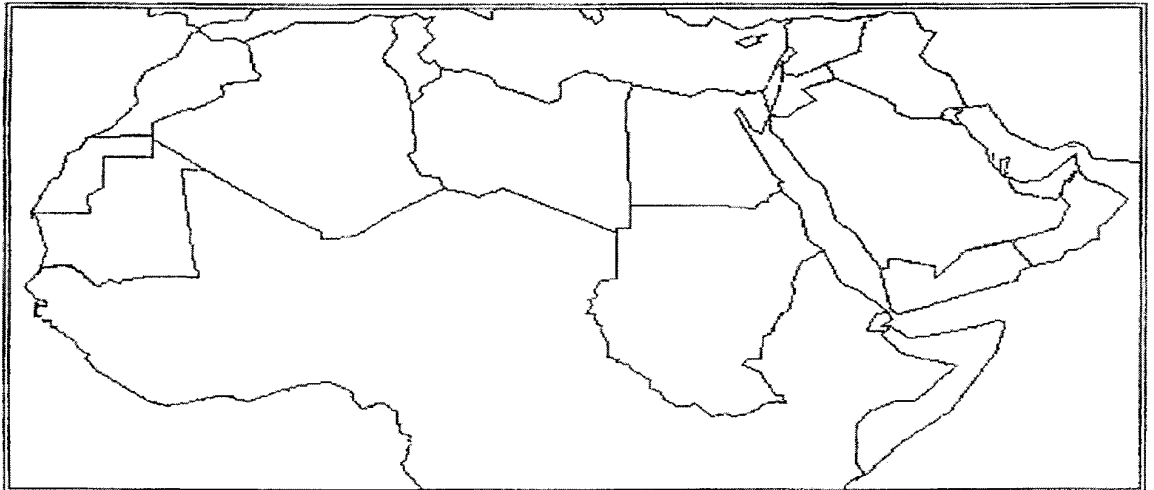
(ب) اذكر اسم اول مسجد بني في الاسلام ؟

٣- أمامك خريطة الوطن العربي حل عليها الأسئلة التالية :- (٣ درجات)

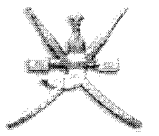
(أ) ارسم خط التجارة البحري من عمان الى شرقي افريقيا .

(ب) ظلل مكان وجود سهل الباطنة .

(ج) اكتب على الخريطة موقع سلسلة جبال الاطلس .



خريطة الوطن العربي



سلطنة عمان
وزارة التربية والتعليم
المديرية العامة للتربية والتعليم لمحافظة شمال الشرقية

نموذج الإجابة لمادة الدراسات الاجتماعية للصف الخامس الأساسي للفصل الدراسي الأول الدور الأول

للعام الدراسي ٢٠١٣/٢٠١٤م

أولا : الأسئلة الموضوعية :-

إجابة السؤال الأول (الاختيار من متعدد)			
الصفحة	الدرجة	البديل الصحيح	المفردة
٥٥	٢	(ب) الصيف	١
٧٩	٢	(أ) المجوسية	٢
١٨	٢	(د) البحرين	٣
١١	٢	(ج) الأزدي	٤
١٥	٢	(أ) مدار السرطان	٥
٥١	٢	(ب) فبراير	٦
٧٣	٢	(ج) مكة المكرمة	٧
٧٨	٢	(د) الامبراطورية الصينية	٨
	١٦ درجة		المجموع

ثانيا : الأسئلة المقالية :

إجابة السؤال الثاني				
الجزئية	المفردة	الإجابة الصحيحة	الدرجة	الصفحة
١: عرف	أ	الاحوال الجوية لفترة قصيرة من الزمن لا تزيد عن ٢٤ ساعة (يوم) .	١	٤٤
	ب	الجبال المتصلة	١	٣١
٢: علل	أ	لفصاحة لسانهم وبيان لغتهم .	١	١٠
	ب	بسبب قلة الامطار وشدة التبخر (أي اجابه في نفس السياق)	١	٥٩
٣: (أ)المقارنة	الشكل للجبال	مرتفعة وذو قمم مدببة وشديدة الانحدار	نصف درجه	٣١
	الشكل للهمضاب	مرتفعة وقممها منبسطة وقليلة الانحدار .	نصف درجه	٣٥
	النشاط الاقتصادي للجبال	الرعي والسياحة .	نصف درجة	٣٣
	النشاط الاقتصادي للهمضاب	الزراعة والرعي .	نصف درجة	٣٥
(ب) أشكال الدالات النهرية	١	الشكل المثالي	١	٢٨
	٢	شكل ارجل الطائر	١	٢٨
المجموع			٨ درجات	

إجابة السؤال الرابع

الدرجة	الصفحة	الإجابة الصحيحة	المفردة	الجزئية
٢	٧١ لكل اجابه صحيحة درجة	الرعي والصيد	البدو	١: خريطة المفاهيم
٢	٧٣ لكل اجابة صحيحة درجة	الزراعة والتجارة	الحضر	
٢	٧٧	كان اغلب العرب يعبدون الاوثان وكان من بينهم من اعتنق الديانات اليهودية والنصرانية كما عرفت طائفة بانها على الحنيفية .		٢ : حياة العرب الدينية قبل الاسلام
١	٦٤	الانجراف - الملوحة - تدهور خصوبة التربة .	أ	٣: من خلال درس التربة والنباتات الطبيعية في الوطن العربي
١	٦٥	المحافظة على النبات الطبيعي - التحريج او زراعة اشجار جديدة محل الاشجار المقطوعة - استخدام الدورة الزراعية	ب	
٨ درجات				المجموع
٤٠ درجة				المجموع الكلي للامتحان

تمت الإجابة

إجابة السؤال الثالث

الجزئية	المفردة	الإجابة الصحيحة	الدرجة	الصفحة
١ :فسر	أ	وذلك بالاصطياف والتمتع بالمناخ اللطيف .	١	٤٧
	ب	نتيجة اكتشاف النفط والغاز الطبيعي والمعادن	١	٥٢
	ج	لان وجد المسلمون فيها بيئة صالحة للدعوة الى الاسلام وتمتعوا في رحابها الامن والاستقرار .	١	٩٠
٢ : استخراج المعلومة من النص	أ	مكان للعبادة - تعليم القراءة والكتابة تفسير القرآن - الاستماع لاحاديث الرسول المركز الاداري للدولة	١	٩٢
	ب	قباة	١	٩٠
٣ : التعامل مع الخرائط	١	رسم خط في البحر من عمان الى شرقي افريقيا	١	٢٠
	٢	تظليل سهل الباطنة	١	٢٧
	٣	كتابة سلسلة جبال الاطلس على الخريطة	١	٣١
المجموع			٨ درجات	