

امتحان نهاية الفصل الدراسي الأول-الدور الأول- العام الدراسي 2013/2014م.

مادة : الدراسات الاجتماعية

الزمن : ساعة ونصف الدرجة الكلية : 40 درجة

الصف : الخامس الأساسي

الاختبار في خمس ورقات والإجابة في نفس الورقة

### أجب عن جميع الأسئلة الآتية:

السؤال الأول: ضع دائرة حول رمز الإجابة الصحيحة من بين البدائل المعطاة:- (16 درجة)

1- يعرف الخطالمشار اليه بالسهم في الشكل الذي أمامك بـ:

أ- الاستواء ب- الجدي

ج- السرطاند- غرينتش

2- تعرف الطبقة المفتته من قشرة الارض والتي تنمو فيها النباتاتبـ:

أ- السهل ب- الجبل

ج- التربة د- الهضبة

3- يطلق محليا على فصل سقوط الأمطار في جبال ظفار في سلطنة عمان :

أ- الربيع ب- الصيف ج- الشتاء د- الخريف

4- تسمى الكثبان الرملية الموضحة في الشكل المقابل :

أ- هلالية ب- الطولية ج- نجميةد- السيفية

5- من المدن الحديثة التي تطورت فيها الحياة بالصحراء بعد اكتشاف النفط والغاز:

أ- هيما ب- نزوى ج- صور د- صحار

6- يمثل الشكل الذي أمامك:

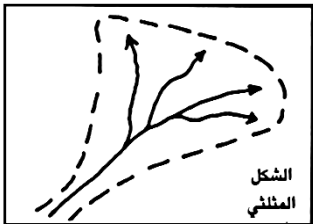
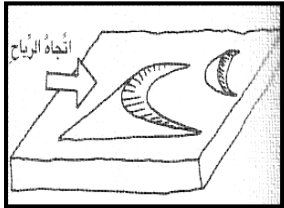
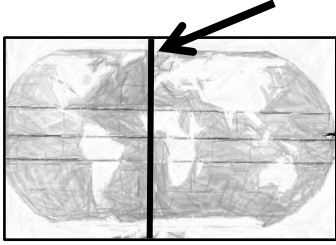
أ - السهل ب - المنبع ج - الدلتا د- الرافد

7- من المدن التجارية المهمة قبل الاسلام،أشتهرت برحلتى الصيف والشتاء:

أ- يثرب ب- مكة ج- الطائف د- تبوك

8- أول من أنشأ الدواوين في الدولة العربية الإسلامية:

أ-أبوبكر الصديق ب- عمر بن الخطاب ج-عثمان بن عفان د- علي بن أبي طالب



السؤال الثاني: أجب عن الاسئلة الآتية:(8درجات)  
(أ)

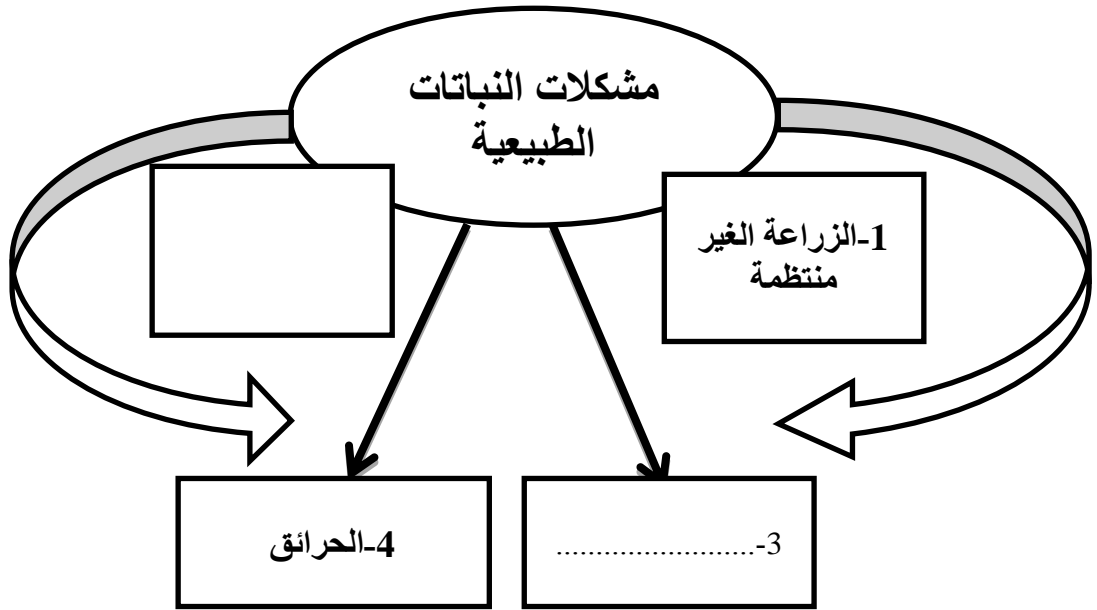
1- علل لما يأتي: اختلاف نوعية النباتات الطبيعية وكثافتها من منطقة لأخرى .

.....  
.....

2- علل لما يأتي: تتأثر السفوح الجبلية بالنحت.

.....  
.....

(ب) أكمل الخريطة الذهنية التي توضح المشكلات التي تتعرض لها النباتات الطبيعية في الوطن العربي :



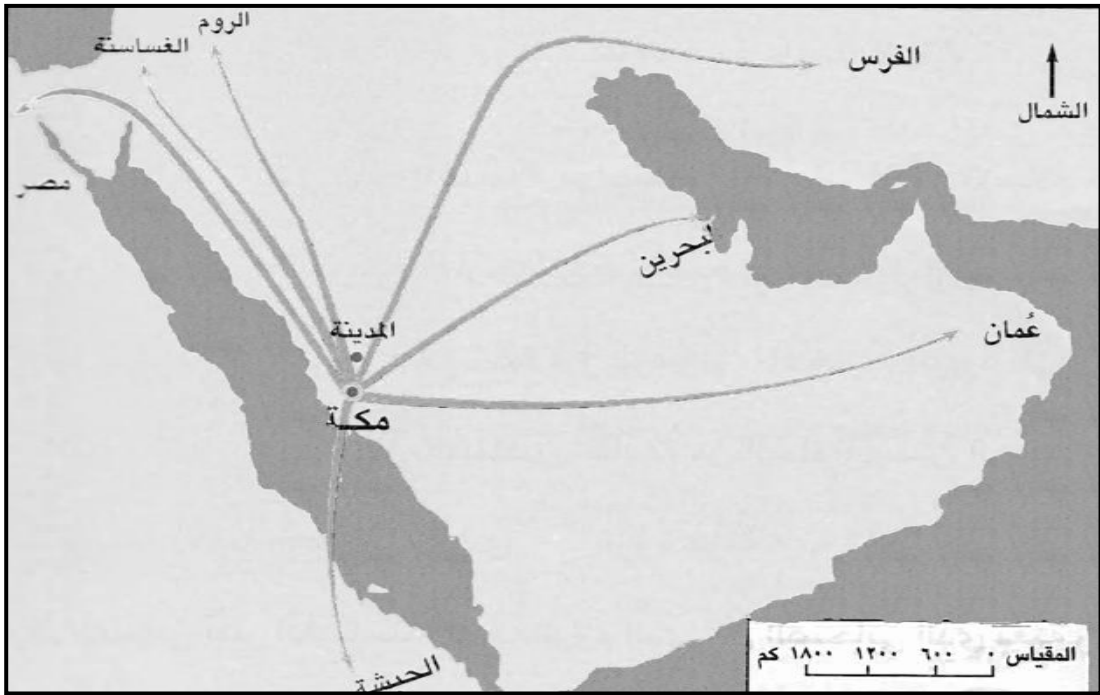
تابع السؤال الثاني:  
(ج) قارن بين دولة الفرس ودولة الأحباش كما في الجدول التالي :

دولة الاحباش	دولة الفرس	أسم الدولة أوجه المقارنة
.....	.....	الديانة
.....	.....	الصناعات التي اشتهرت بها

8

السؤال الثالث: أجب عن الاسئلة الآتية: (8 درجات)

(أ) أنظر الخريطة التي توضح رسائل الرسول الى حكام الدول المجاورة ثم أجب عن الاسئلة التي تليها:



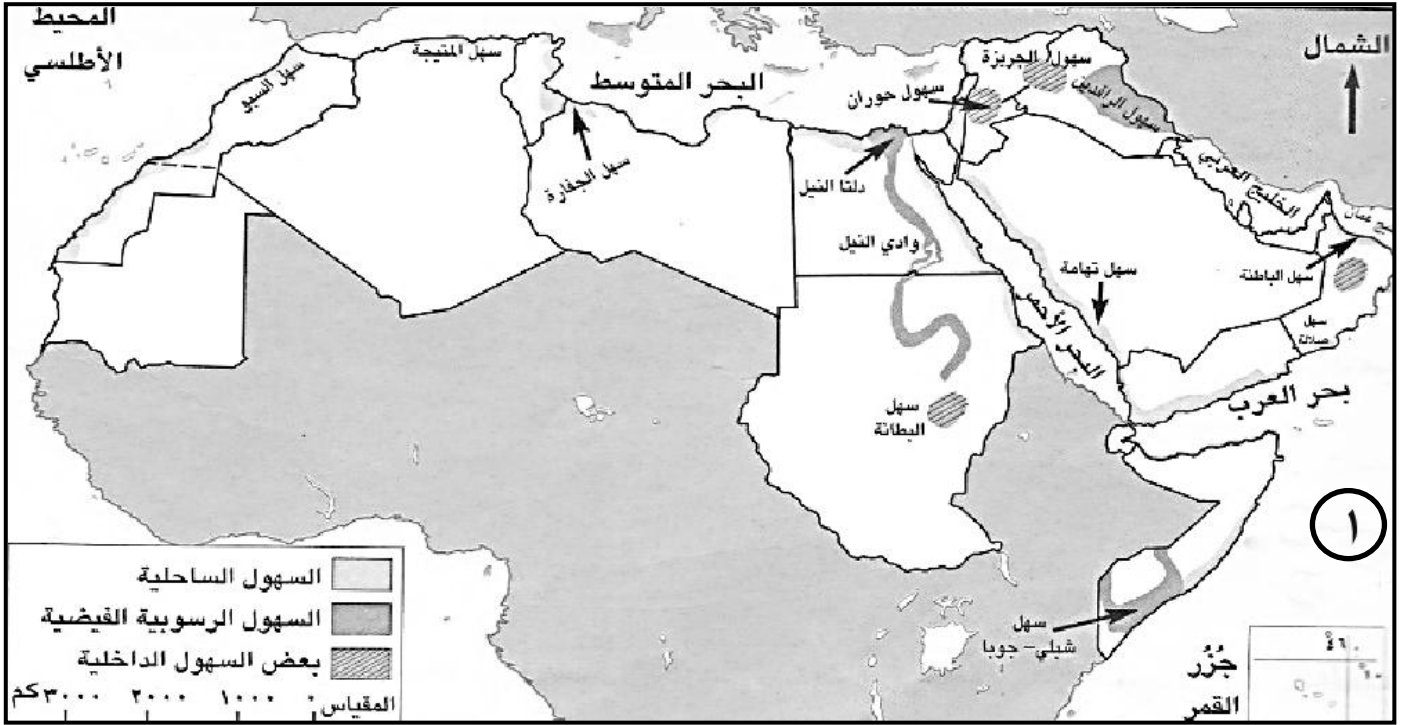
1- أستخرج من الخريطة اثنين من الدول التي أرسل اليها الرسول (صلى الله عليه وسلم) الرسائل لدعوتهم الى الاسلام  
أ .....  
ب .....

2- حدد الدولة التي كان حاكمها يلقب بكسرى وذلك بوضع دائرة عليها.

3- أستخرج من الخريطة المدينة التي أخذها الرسول (صلى الله عليه وسلم) عاصمة للدولة الاسلامية  
.....

تابع: السؤال الثالث:

(ب) أنظر الى خريطة السهول في الوطن العربي، ثم أجب عن الأسئلة التي تليها:



1- مستعينا بالخريطة صنف السهول التالية حسب نوعها في الجدول أدناه(سهول الرافدين- سهول حوران):

.....	- سهول داخلية
.....	- سهول رسوبية فيضيه

2 - فسر استغلال السهول الساحلية منذ القدم في الزراعة .

.....  
.....

3- أستخرج من الخريطة المسطح المائي والمشار اليه بالرقم (1) .....

تابع :امتحان نهاية الفصل الدراسي الاول -الدور الأول -العام الدراسي 2013/2014م.  
مادة : الدراسات الاجتماعية

**السؤال الرابع:** أجب عن الاسئلة الآتية: (8درجات)

أ) يتمثل المناخ الصحراوي في مساحات كبيرة من الوطن العربي. في ضوء هذه العبارة حلل الجدول التالي الذي يوضح درجات الحرارة في محطة فهود.

الشهر	يناير	فبراير	مارس	ابريل	مايو	يونيو	يوليو	أغسطس	سبتمبر	أكتوبر	نوفمبر	ديسمبر
درجة الحرارة(س)	٢٠	٢١	٢٥	٣٠	٣٥	٣٧	٣٧	٣٧	٣٣	٣٠	٢٥	٢١

-1

اعلى درجة حرارة	
اقل درجة حرارة	
أبرد شهور السنة	

-2 ما خصائص المناخ الصحراوي؟

.....  
.....

(ب)

1- انظر إلى الصور التي تبين أنواع من الهضاب ،ثمصنف نوع كل هضبة بكتابتها في الجدول أدناه:



هضبة الحسما



هضبة جدة الجراسيس

هضبة الحسما	هضبة جدة الجراسيس	اسم الهضبة
		نوعها

(ج) أجب عن الأسئلة الآتية:

1- عرف الهضبة.....

.....

2- عرف المناخ

.....  
.....

انتهت الأسئلة مع تمنياتنا لكم بالتوفيق والنجاح

8



المديرية العامة للتربية والتعليم لمحافظة البريمي  
نموذج إجابة امتحان الصف الخامس  
للعام الدراسي 2014/2013م  
الفصل الدراسي الأول ( الدور الأول )

المادة: الدراسات الاجتماعية الدرجة الكلية: ( 40 )  
تبنيه: نموذج الإجابة في (4) صفحات

الدرجة الكلية: ( 16 ) درجة

إجابة السؤال الأول

أولاً: إجابة السؤال الموضوعي:-

رقم المفردة	1	2	3	4	5	6	7	8
رمز الإجابة	د	ج	د	أ	أ	ج	ب	ب
الإجابة	غرينتش	تربة	الخريف	هلالية	هيما	دلتا	مكة	عمر بن الخطاب (رضي الله عنه)
الصفحة	15	62	54	41	52	28	73	103
الدرجة	2	2	2	2	2	2	2	2

ثانياً: الأسئلة المقالية؛ 24(درجة)

اجابة السؤال الثاني (8 درجات)

الصفحة	الدرجة	الإجابة			المفردة	الجزئية
65	درجة	حسب وفرة المياه ونوعية التربة			1	أ
31	درجة	بفعل الحريان السطحي وانجراف التربة			2	
66	درجتان (لكل مفردة درجة)	2- الرعي الجائر 3- قطع الاشجار والشجيرات			-	ب
87	أربع درجات ( لكل مفردة درجة واحدة )	دولة الاحباش	دولة الفرس	أسم الدولة أوجه المقارنة	-	ج
		النصرانية	المجوسية	الديانة		
		حفر العاج- أذابة الذهب- المنسوجات- الصناعات الخشبية والجلدية (يكتفى بواحدة)	الجلود- السجاد الاولاي الخزفية (يكتفى بواحدة)	الصناعات التي اشتهرت بها		

اجابة السؤال الثالث (8 درجات)

الصفحة	الدرجة	الإجابة	المفردة	الجزئية				
96	درجتان لكل مفردة درجة واحدة	عمان- الحبشة- الروم- الغساسنة- مصر- الفرس-البحرين (يكتفى بأثنين)	1	أ				
	درجة	-الفرس	2					
	درجة	-المدينة المنورة	3					
22	درجتان (لكل مفردة درجة)	<table border="1" style="width: 100%; text-align: center;"> <tr> <td>سهول حوران</td> <td>- سهول داخلية</td> </tr> <tr> <td>سهول الرافدين</td> <td>- سهول رسوبية فيضيه</td> </tr> </table>	سهول حوران	- سهول داخلية	سهول الرافدين	- سهول رسوبية فيضيه	1	ب
سهول حوران	- سهول داخلية							
سهول الرافدين	- سهول رسوبية فيضيه							
25	درجة	- نظرا لخصوبة تربتها.	-2					
20	درجة	- المحيط الهندي	-3					



إجابة السؤال الرابع: (8 درجات)

الصفحة	الدرجة	الإجابة	المفردة	الجزئية						
51	ثلاث درجات (لكل مفردة درجة واحدة)	<table border="1"> <tr> <td>37</td> <td>اعلى درجة حرارة</td> </tr> <tr> <td>20</td> <td>اقل درجة حرارة</td> </tr> <tr> <td>يناير</td> <td>أبرد شهور السنة</td> </tr> </table>	37	اعلى درجة حرارة	20	اقل درجة حرارة	يناير	أبرد شهور السنة	-1	أ-
37	اعلى درجة حرارة									
20	اقل درجة حرارة									
يناير	أبرد شهور السنة									
49	درجة	يتميز بارتفاع شديد في درجات الحرارة صيفه وأثناء النهار وانخفاضها شتاء وأثناء الليل ويغلب عليه الجفاف الشديد وقلة الامطار والسحب. (يكتفى بواحدة)	-2							
37	درجتان (لكل مفردة درجة)	<table border="1"> <tr> <td>هضبة الحسما</td> <td>هضبة جدة الجراسيس</td> <td>أسم الهضبة</td> </tr> <tr> <td>رملية</td> <td>حصوية</td> <td>نوعها</td> </tr> </table>	هضبة الحسما	هضبة جدة الجراسيس	أسم الهضبة	رملية	حصوية	نوعها	-	ب-
هضبة الحسما	هضبة جدة الجراسيس	أسم الهضبة								
رملية	حصوية	نوعها								
35	درجة	- الهضبة: أراضي منبسطة (قليلة الانحدار) ترتفع عما يجاورها من أراضي.	-1							
44	درجة	- المناخ: متوسط حالة الجو لفترة طويلة قد تكون شهرا أو فصلا أو سنة أو أكثر.	-2	ج-						