

بِسْمِ اللَّهِ الرَّحْمَنِ الرَّحِيمِ
" رَبِّهِ أَخْرَجَ لِي حَذْرِي وَيَتَزَلِّي أَمْرِي "



المديرية العامة للتربية والتعليم لمحافظة الظاهرة
دائرة التقويم التربوي

امتحان نهاية الفصل الدراسي الثاني . الدور الثاني . العام الدراسي ٢٠١٤/٢٠١٥ م

الدرجة : ٤٠ درجة

الزمن : ساعة ونصف

المادة : الدراسات الاجتماعية

الصف : الثامن

تنبيه :

- الأسئلة في (٦) صفحات .
- الإجابة في نفس الورقة .

رقم السؤال	الدرجة بالأرقام	الدرجة بالحروف	اسم المصحح	توقيعه
السؤال الاول				
السؤال الثاني				
السؤال الثالث				
السؤال الرابع				
المجموع الكلي				

اسم الطالب /

الصف / الشعبة ()

المدرسة /

السؤال الأول : (١٦ درجة)

ضع دائرة على الحرف الدال على الإجابة الصحيحة من بين البدائل المعطاة :

(١) يكون الماء من وزن جسم الإنسان حوالي :

أ (٥٥ %) ب (٦٠ %) ج (٦٥ %) د (٧٠ %)

(٢) من سدود الحماية من الفيضانات في سلطنة عمان سد :

أ (وادي الحواسنة) ب (وادي تنوف) ج (وادي الخوض) د (وادي الجزي)

(٣) يوجد حوض رمال الشرقية في محافظة :


أ (الظاهرة) ب (الداخلية) ج (الباطنة شمال) د (الشرقية جنوب)

(٤) الدولة التي بدأت بجهود الاكتشافات الجغرافية هي :

أ (هولندا) ب (البرتغال) ج (اسبانيا) د (ايطاليا)

(٥) الآلة التي تظهر في الصورة هي :

أ (آلة بذر الحبوب) ب (آلة الغزل)



ج (آلة المحرك البخاري) د (آلة الطباعة)

(٦) يعتبر سوق مطرح من الأسواق التقليدية و يقع في محافظة :

أ (الداخلية) ب (مسقط) ج (الباطنة شمال) د (الظاهرة)

(٧) الصورة التي أمامك تشير إلى أحد الآثار المكتشفة في ولاية :



أ (العامرات)

ب (قريات)

ج (بوشر)

د (مسقط)

تابع السؤال الأول:

٨ (نيابة الجبل الأخضر تتبع ولاية :

أ (نزوى ب (صلالة ج (مسقط د (صحار

السؤال الثاني : (٨ درجات)

اجب عن الأسئلة التالية :

١) الشكل الذي أمامك يمثل أحد أنواع الآبار، أدرسه ثم أجب عما يلي .

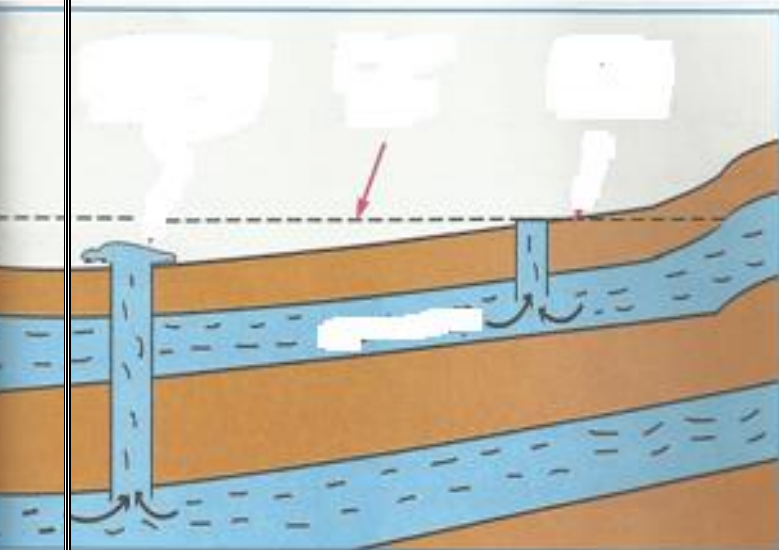
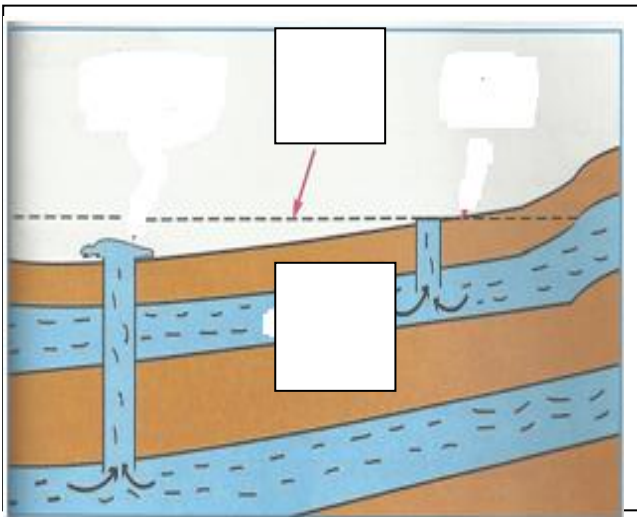
أ. ما نوع الآبار الواضحة في الشكل ؟

ب . اكتب رقم العناصر التالية في

المربع المناسب داخل الشكل:

١. طبقة حاملة للماء

٢ . مستوى الماء الجوفي



٢) اذكر اثنين من مظاهر تملح المياه .

..... ١

..... ٢

(٢)

تابع السؤال الثاني :

٣) قام سالم بالتعاقد مع أحد الشركات لحفر بئر في منزله بدون ترخيص و بشكل سري .

أ . ما رأيك في تصرف سالم ؟.....
.....

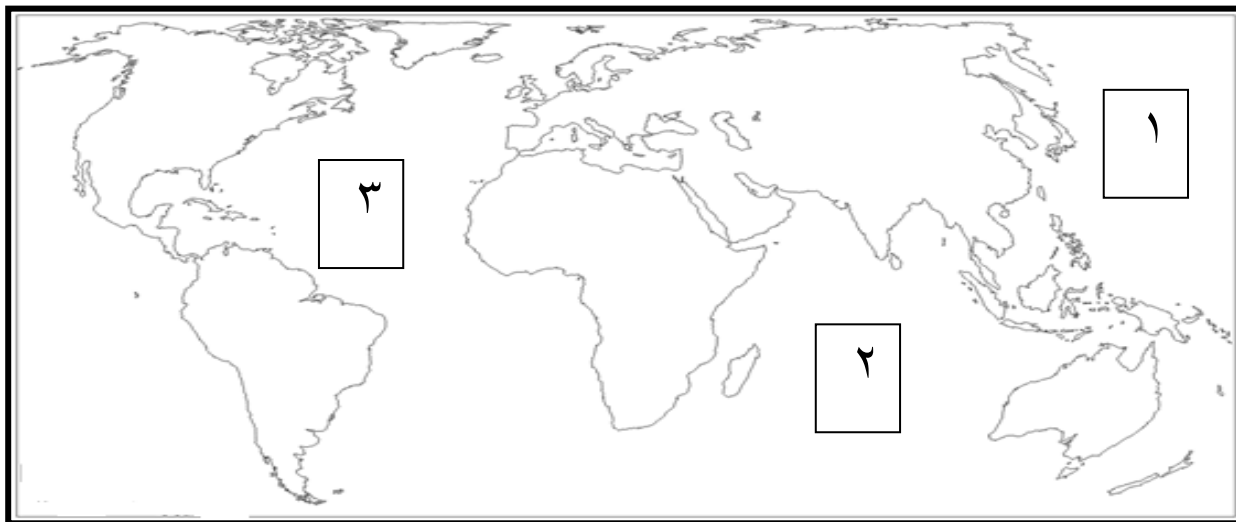
ب . قدم نصيحة له
.....

٤) قارن في الجدول التالي بين الثلج و الجليد من حيث التعريف :

الجليد	الثلج

السؤال الثالث : (٨ درجات) :

١ (أمامك خريطة العالم صماء ، ادرسها جيدا ، ثم أجب عما يلي :



أ) صل بخط بين البرتغال و رأس الرجاء الصالح على الخريطة.
ب) الرقم الدال على المحيط الهندي في الخريطة هو

٢) اذكر نتيجة واحدة لكل مما يلي :

اختراع القطارات و السفن البخارية	توافر معدن الحديد في بريطانيا

يتبع،،،

(٤)

تابع السؤال الثالث :

٣) فسر بدأت النهضة الأوروبية في ايطاليا .

.....
.....

٤) . صنف الشخصيات التالية أسمائهم حسب الدولة التي ينتمون إليها :

(يوحنا جوتنبرغ - هنري الملاح - جاك كارتييه - جيمس واط)

البرتغال	ألمانيا	انجلترا	فرنسا

السؤال الرابع : (٨ درجات)

١) أمامك خريطة سلطنة عمان الإدارية ظل عليها ما يلي :



أ . محافظة ظفار

ب . محافظة الداخلية

تابع السؤال الرابع :

(٢) نالت مدينة صحار الكثير من إنجازات عصر النهضة العمانية في المجال الإقتصادي)
اذكر اثنين منها .

١ -

٢ -

(٣) اقرأ النص التالي :

(تعتبر عين الكسفة من أبرز المعالم السياحية في ولاية الرستاق) اقترح حلاً لتطوير
هذا المعلم من الناحية السياحية .

.....

.....

(٤) بم تفسر ظاهرة النمو السكاني الكبير في محافظة مسقط في السنوات الأخيرة .

.....

.....

.....

انتهت الأسئلة مع تمنياتنا للجميع بالتوفيق والنجاح ،،

سلطنة عمان
وزارة التربية والتعليم
المديرية العامة للتربية والتعليم بمحافظة الظاهرة
دائرة التقويم التربوي

نموذج إجابة امتحان نهاية الفصل الدراسي الثاني - الدور الثاني - العام الدراسي ٢٠١٤/٢٠١٥م

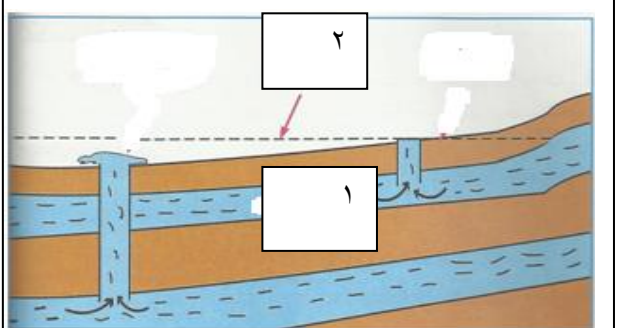
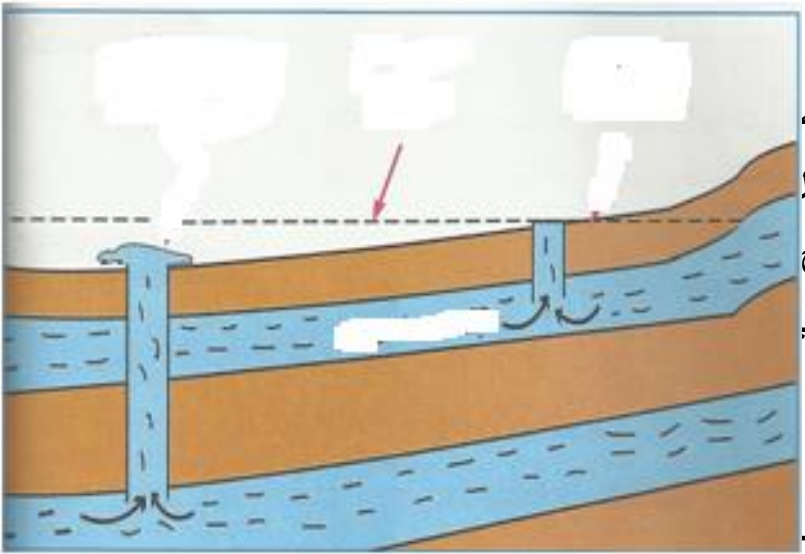
الصف: الثامن | المادة: الدراسات الاجتماعية | الزمن: ساعة ونصف | الدرجة: ٤٠ درجة

النموذج في ٤ صفحات

{ نموذج الإجابة }

إجابة السؤال الأول (٦ درجة) لكل مفردة درجتان

م	رقم المفردة	رمز الإجابة الصحيحة	الإجابة الصحيحة	الدرجة	الصفحة
١	١	ج	٦٥%	٢	١١
٢	٢	د	سد وادي الجزي	٢	٣٠
٣	٣	د	الشرقية جنوب	٢	٣٥
٤	٤	ب	البرتغال	٢	٥٧
٥	٥	أ	آلة بذر الحبوب	٢	٦٣
٦	٦	ب	مسقط	٢	٧٦
٧	٧	ج	بوشر	٢	٧٢
٨	٨	أ	نزوى	٢	٨٣

الصفحة	الدرجة	الإجابة				
٣٤	درجة واحدة ب . درجة لكل مفردة نصف درجة	<p>إجابة السؤال الثاني (٨ درجات)</p> <p>١ -</p> <p>أ - الآبار الإرتوازية</p> <p>ب - كتابة الأرقام في الشكل ١ - طبقة حاملة للماء ٢ - مستوى الماء الجوفي</p> 				
٣٩	درجتان	<p>٢ -</p> <p>١ - تناقص</p> <p>٢ - دخول</p> <p>٣ - تملح (مطلوب)</p>  <p>٣ -</p> <p>أ - تصريف</p>				
٤٢	درجة درجة	<p>ب . انصح بالتنسيق مع الجهات المختصة في هذا الموضوع (مع مراعاة أسلوب إجابة الطالب)</p> <p>٤ -</p>				
١٤	درجتان	<table border="1"> <thead> <tr> <th>الجليد</th> <th>الثلج</th> </tr> </thead> <tbody> <tr> <td>عبارة عن ثلج مترامم فوق بعضه يتميز بصلابته نتيجة انضغاطه</td> <td>هو حالة الماء الجامدة الصلبة و يتساقط الثلج على شكل بلورات نتيجة انخفاض درجة الحرارة إلى ما دون الصفر السيليزي</td> </tr> </tbody> </table>	الجليد	الثلج	عبارة عن ثلج مترامم فوق بعضه يتميز بصلابته نتيجة انضغاطه	هو حالة الماء الجامدة الصلبة و يتساقط الثلج على شكل بلورات نتيجة انخفاض درجة الحرارة إلى ما دون الصفر السيليزي
الجليد	الثلج					
عبارة عن ثلج مترامم فوق بعضه يتميز بصلابته نتيجة انضغاطه	هو حالة الماء الجامدة الصلبة و يتساقط الثلج على شكل بلورات نتيجة انخفاض درجة الحرارة إلى ما دون الصفر السيليزي					

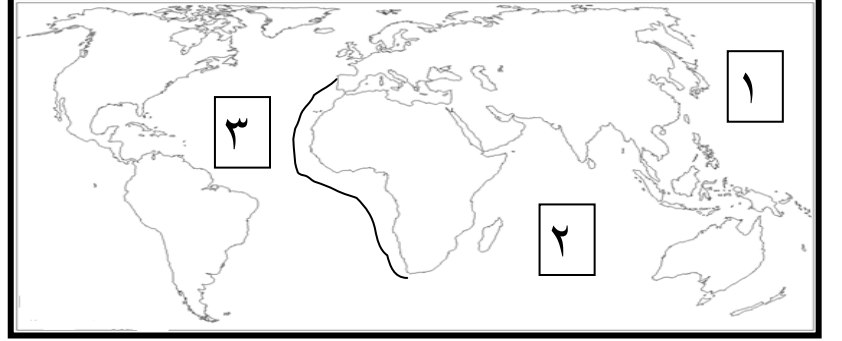
السؤال الثالث : (٨ درجات)

١ .

أ - رسم الخط على الخريطة

٥٣

درجة



٥٣

درجة

ب - ٢

٢ -

٦٦-٦١

درجتان

توافر معدن الحديد في بريطانيا	اختراع القطارات و السفن البخارية
بدء الثورة الصناعية في بريطانيا قبل غيرها و صناعة الآلات من هذا المعدن	مكنت الناس من السفر و نقل البضائع و الآلات بسهولة و يسر برا و بحرا .

(مطلوب نتيجة واحد مع مراعاة إجابة الطالب)

٤٥

درجتان


٣ -
بسبب موقعها التجاري بين أوروبا وقارتي آسيا و أفريقيا ، و تحول الكنيسة في أفكارها نحو التجديد و الانفتاح ، و ظهور طبقة من الأغنياء الذين أسهموا بأموالهم في تشجيع العلوم و الآداب و الفنون و الترجمة
(مع مراعاة إجابة الطالب)

٦٥ - ٤٧

درجتان
(لكل مفردة نصف
درجة)

فرنسا	انجلترا	المانيا	البرتغال
جاك كارتيه	جيمس واط	يوحنا جونتبرغ	هنري الملاح

٤ -

١٠٨ - ٨٤	درجتان	<p>السؤال الرابع : (٨ درجات) ١ - بالتظليل داخل الخريطة</p> 
١٠٤	درجتان	<p>٢ - ١ - ميناء صحار الصناعية ٢ - منطقة صحار الصناعية ٣ - سوق الحرفيين ٤ - محطة الأرصاد الجوية ٥ - محطة توليد الطاقة الكهربائية (مطلوب مفردتين)</p>
٩٨	درجتان	<p>٣ - بناء المنتجعات السياحية - توفير أماكن للاستراحة - توفير محلات تجارية (مع مراعاة إجابة الطالب)</p>
٧٧	درجتان	<p>٤ - بسبب هجرة الكثير من سكان المحافظات المختلفة إليها بقصد العمل في القطاعين العام و الخاص</p>

انتهى النموذج
اعداد / اشراف الدراسات الاجتماعية
٩٩١٤٦٦٢١