

بِسْمِ اللَّهِ الرَّحْمَنِ الرَّحِيمِ  
" رَبِّهِ أَفْرَحُ لِي حَذْرِي وَيَتَزَلِي أَمْرِي "



المديرية العامة للتربية والتعليم لمحافظة الظاهرة  
دائرة التقويم التربوي

امتحان نهاية الفصل الدراسي الثاني . الدور الأول . العام الدراسي ٢٠١٤/٢٠١٥ م

الدرجة : ٤٠ درجة

الزمن : ساعة ونصف

المادة : الدراسات الاجتماعية

الصف : الثامن

تنبيه :

- الأسئلة في ( ٧ ) صفحات .
- الإجابة في نفس الورقة .

رقم السؤال	الدرجة بالأرقام	الدرجة بالحروف	اسم المصحح	توقيعه
السؤال الأول				
السؤال الثاني				
السؤال الثالث				
السؤال الرابع				
المجموع الكلي				

\*\*\*\*\*

اسم الطالب / .....

الصف / ..... الشعبة ( )

المدرسة / .....

السؤال الأول : ( ١٦ درجة )

ضع دائرة على الحرف الدال على الإجابة الصحيحة من بين البدائل المعطاة :

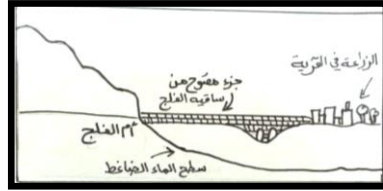
(١) أحواض مائية داخلية محدودة المساحة محاطة باليابس من جميع الجهات :

أ ( ) الأنهار      ب ( ) المستنقعات      ج ( ) البحيرات      د ( ) البحار

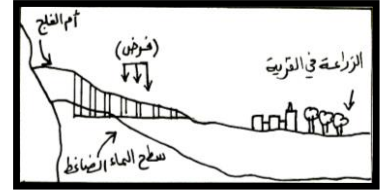
(٢) المحافظة التي يوجد بها مشروع حوض المسرات هي :

أ ( ) الداخلية      ب ( ) الوسطى      ج ( ) البريمي      د ( ) الظاهرة


(٣) الشكل الذي يمثل الفلج الداودي :



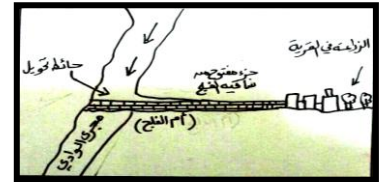
( ب )



( أ )



( د )



( ج )

(٤) العالم الألماني الذي تمكن من صنع أول آلة طباعة تعمل باليد :

أ ( ) يوحنا جوتنبرغ      ب ( ) دانتي      ج ( ) جيمس واظ      د ( ) ليوناردو دافنشي

(٥) بلغ عدد السفن التي أبحر بها ماجلان عام ١٥١٩ م :

أ ( ) ثلاث سفن      ب ( ) أربع سفن      ج ( ) خمس سفن      د ( ) ست سفن

(٦) من الأفلاج التي تقع في ولاية نزوى فلج :

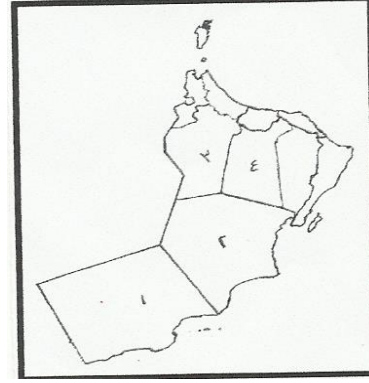
أ ( ) المزارع      ب ( ) دارس      ج ( ) المبعوث      د ( ) الميسر

يتبع ،،،،

( ١ )

تابع السؤال الأول :

٧) تقع مدينة صلالة في المحافظة المشار إليها بالرقم :



- أ ( ١ )  
ب ( ٢ )  
ج ( ٣ )  
د ( ٤ )


٨) نيابة الحوقين تتبع ولاية :

- أ ( العوابي )      ب ( الرستاق )      ج ( السوق )      د ( المصنعة )

السؤال الثاني : ( ٨ درجات ) :

أجب عن الأسئلة التالية :

١) الشكل الذي أمامك يوضح إحدى طرق استغلال الثروات المائية ، أدرسه ، ثم أجب



عما يلي .:

أ) ما طريقة استغلال الثروات المائية

التي يوضحها الشكل:.....

ب) اكتب رقم العناصر في المربع المناسب

داخل الشكل:

- ١- الدواليب المائية .      ٢- سد مائي .

(٢)

- ٢ ( اقرأ العبارة التالية ، ثم أجب عما يليها من أسئلة :
- ( يمتلك أحمد مزرعة في ولاية صحار منذ عام ١٩٧٣ م ، وفي عام ١٩٩٣ م لاحظ تناقص في المياه الجوفية العذبة، وأصبحت المياه غير صالحة للاستخدام البشري ) .

الأسئلة :

أ . ما المشكلة التي تعاني منها مزرعة أحمد ؟

.....

ب . برأيك ، ما سبب هذه المشكلة ؟

.....

.....

٣ ( علل: يعد النقل البحري أرخص أنواع النقل و أكثرها اقتصادا .

.....

.....

٤ ( اذكر اثنين من أشكال خروج المياه الجوفية إلى سطح الارض .

..... ١-

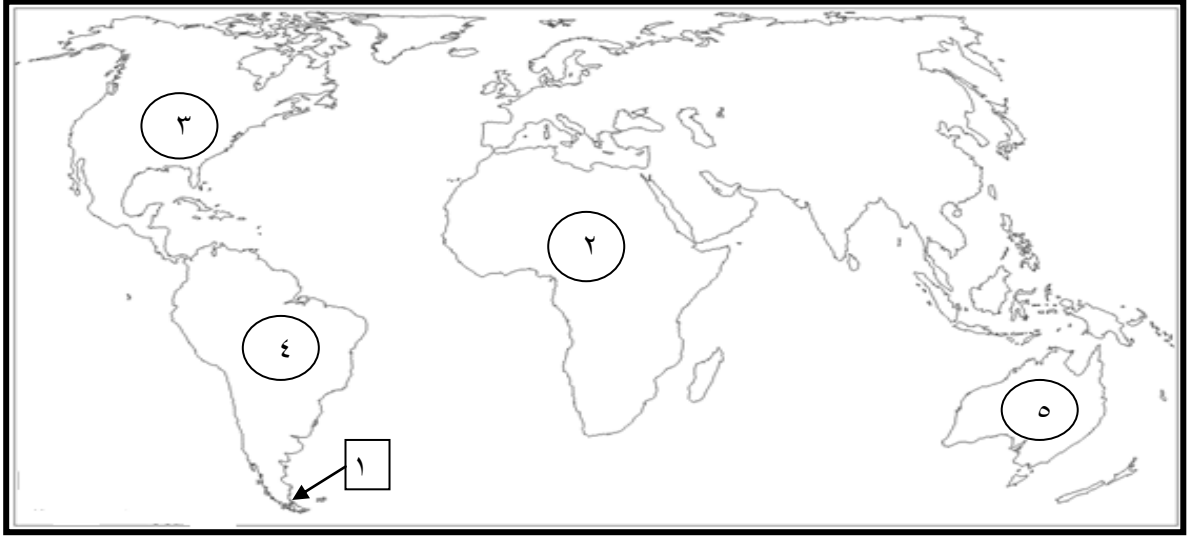
..... ٢-

(٣)

يتبع ،،،،،

السؤال الثالث ( ٨ درجات ) :

(١) أمامك خريطة العالم ادرسها جيدا ، ثم أجب عما يلي :



أ ( رقم القارة التي توجه إليها البحار الفرنسي جاك كارتية..... )

ب ( ما اسم المضيق المشار إليه بالرقم (١) ؟ )

٢) فسر: ظهور طبقة من الأغنياء في إيطاليا كان سببا من أسباب انطلاق النهضة الأوروبية منها .

.....  
.....

(٤)

يتبع ،،،،،

تابع : السؤال الثالث :

٣) صنف العبارات التالية إلى أسباب و نتائج للاكتشافات الجغرافية .  
( البحث عن طرق تجارية جديدة - إثبات كروية الارض . التنافس لزيادة الأراضي المملوكة  
الاطلاع على ثقافات حضارات أخرى )

الأسباب	النتائج
.....	.....
.....	.....
.....	.....

٤) عرف المصطلحات التالية :-

أ) العصور الوسطى:.....

.....

ب) الحلج:.....

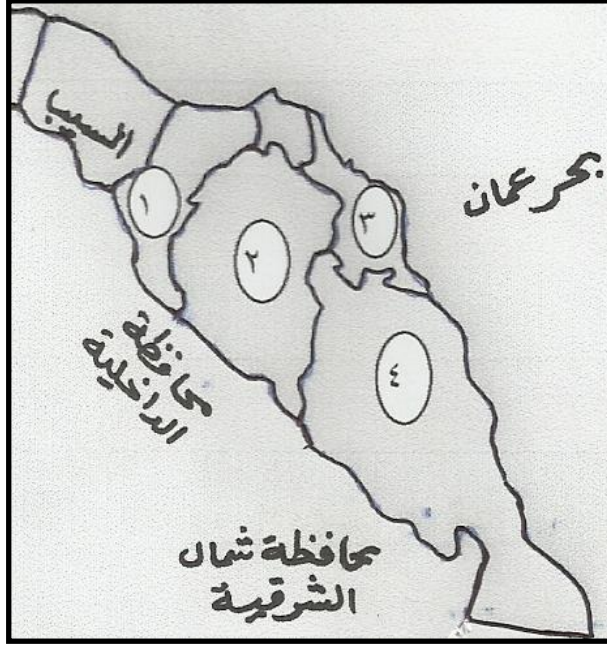
.....

(٥)

يتبع ،،،،،

السؤال الرابع ( ٨ درجات )

(١) أمامك خريطة محافظة مسقط ادرسها جيدا ، ثم اكتب بين القوسين رقم الولاية الدال على موقعها في الخريطة .



- أ . مسقط ( )  
ب . قريات ( )  
ج . العامرات ( )  
د . بوشر ( )

(٢) اقرأ العبارة التالية، ثم أجب عما يليها :

( لقد كانت نزوى معقل القادة و العظماء ، و موئل العلماء و الفقهاء ، و مرتادي الشعر و الأدباء ، فأعظم بها من مدينة لها في قلوب العمانيين منزلة عالية ) .

أ . من قائل العبارة السابقة؟ .....

.....

ب . في أي مناسبة قال هذه العبارة ؟

.....

تابع السؤال الرابع :

٣) صحح ما تحته خط في العبارة التالية :

( أجمعت المعاجم العربية و اليونانية على أن الرستاق اسم روماني معرب ، و يعني المنطقة القوية و المحصنة ) .

.....

.....

٤) اذكر موقعين من المواقع السياحية في صلالة .

.....

.....

،، انتهت الأسئلة مع تمنياتنا للجميع بالتوفيق والنجاح ،،



سلطنة عمان  
وزارة التربية والتعليم  
المديرية العامة للتربية والتعليم بمحافظة الظاهرة  
دائرة التقويم التربوي

نموذج إجابة امتحان نهاية الفصل الدراسي الثاني - الدور الأول - العام الدراسي ٢٠١٤/٢٠١٥ م


الصف: الثامن | المادة: الدراسات الاجتماعية | الزمن: ساعة ونصف | الدرجة: ٤٠ درجة

النموذج في ٤ صفحات

{ نموذج الإجابة }

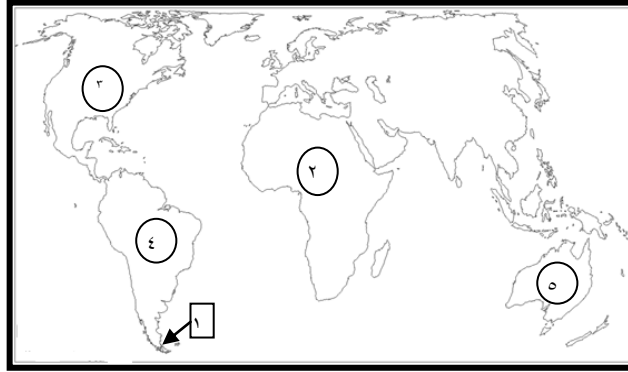
إجابة السؤال الأول ((١٦ درجة)) لكل مفردة درجتان

م	رقم المفردة	رمز الإجابة الصحيحة	الإجابة الصحيحة	الدرجة	الصفحة
١	١	ج	البحيرات	٢	١٥
٢	٢	د	الظاهرة	٢	٣٥
٣	٣	أ		٢	٣٢
٤	٤	أ	يوحنا جوتنبرغ	٢	٤٧
٥	٥	ج	خمس سفن	٢	٥٩
٦	٦	ب	فلج دارس	٢	٨٨
٧	١	أ	١	٢	١٠٨
٨	٨	ب	الرستاق	٢	٩٥

الصفحة	الدرجة	الإجابة
		<p><u>إجابة السؤال الثاني ( ٨ درجات )</u></p> <p>١ -</p> <p>أ- إنتاج الطاقة الكهربائية من السدود .</p> <p>ب -</p> <p>١ - الدواليب المائية .</p> <p>٢ - سد مائي .</p> <p>٢ -</p> <p>أ - المشكلة مشكلة تملح المياه .</p> <p>ب - السبب استخدام مضخات الديزل و اتباع الطرق التقليدية في الري . ( مع مراعاة اجابة الطالب )</p> <p>٣ - نظرا للكميات الكبيرة من البضائع التي يتم نقلها بواسطته من مكان لآخر .</p> <p>كما أن خطوط الملاحة حرة و لا تحتاج الى صيانة .</p> <p>٤ . ١ - الينابيع .</p> <p>٢ - النافورات الحارة .</p> <p>٣ - الآبار الارتوازية .</p> <p>( مطلوب مفردتين فقط )</p>
٢١	أ- درجة واحدة ب- درجة واحدة لكل مفردة نصف درجة	
٣٨	درجة واحدة درجة واحدة	
٢٢	درجتان	
١٦	درجتان	

اجابة السؤال الثالث ( ٨ درجات):

١. أ. ٣



ب. مضيق ماجلان .

٥٣

درجة واحدة

٥٣

درجة واحدة

٤٥

درجتان

٢ . لأنهم اسهموا بأموالهم في تشجيع العلوم و الآداب و الفنون و الترجمة.

٣ .

الأسباب	النتائج
البحث عن طرق تجارية جديدة . التنافس لزيادة الأراضي المملوكة.	إثبات كروية الأرض. الإطلاع على ثقافات حضارات أخرى.

٥٥ - الاسباب  
٦٦ - النتائج

درجتان - لكل  
مفردة نصف درجة

٤. أ - العصور الوسطى : هي المرحلة التاريخية التي تقع في الفترة من نهاية القرن الخامس

الميلادي حتى فتح القسطنطينية عام ١٤٥٣م و من ابرز ملامحها سيطرة الكنيسة الكاثوليكية و

قيام النظام الإقطاعي أساسا للحياة الاقتصادية و الاجتماعية في أوروبا .

٤٦

درجة واحدة

٦٤

درجة واحدة

ب - الحلج : ندف القطن أي فصل البذر عن المادة القطنية .

اجابة السؤال الرابع ( ٨ درجات):



- ١ - مسقط ( ٣ )
- قريات ( ٤ )
- العامرات ( ٢ )
- بوشهر ( ١ )

درجتان لكل مفردة  
نصف درجة

٧١

٨٥

درجة واحدة

درجة واحدة

٢ -  
أ - صاحب الجلالة السلطان قابوس بن سعيد المعظم - حفظه الله و يرحاه -

ب - المناسبة الاحتفال بالعيد الوطني الرابع والعشرين المجيد ( ١٩٩٤ م ) .

٩٧

درجتان

٣ - الفارسية - فارسي

١١٤ - ١٣٣

درجتان

٤ - الاضرحة الدينية و المناطق الاثرية - الجبال الخضراء ( جبل وادي نحيز، و جبل حمير، و جبل أتين ) و السهول الفسيحة ( سهل أتين و سهل صحنوت ) و الاودية الجميلة ( وادي جرزيز و وادي صحنوت ) و العيون المائية ( عين حمران و عين جرزيز و عين صحنوت ) و الشواطئ الخلابة ( شاطئ المغسيل و شاطئ ريسوت و شاطئ صلالة ) .  
(مطلوب مفردتين مع مراعاة اجابة الطالب)

انتهى النموذج

اعداد / اشراف الدراسات الاجتماعية

٩٩١٤٦٦٢١