



المديرية العامة للتربية والتعليم لمحافظة الظاهرة
دائرة التقويم التربوي

امتحان نهاية الفصل الدراسي الأول - الدور الثاني - العام الدراسي 2015/2014م

الصف : التاسع	المادة : الدراسات الاجتماعية	الزمن : ساعة ونصف	الدرجة : 40 درجة
---------------	------------------------------	-------------------	------------------

تنبيه :

- الأسئلة في (6) صفحات .
- الاجابة في نفس الورقة .

رقم السؤال	الدرجة بالأرقام	الدرجة بالحروف	اسم المصحح	توقيعه
1				
2				
3				
4				
المجموع الكلي				

اسم الطالب /

الصف / الشعبة ()

المدرسة /

امتحان نهاية الفصل الدراسي الأول - الدور الثاني - العام الدراسي 2015/2014م

السؤال الأول: ضع دائرة حول رمز الإجابة الصحيحة فيما يلي : (16 درجة)

1- أراد محمد إجراء مسح الخصوبة في مجتمعه ،الطريقة الأفضل للحصول على هذه البيانات السكانية :

- (أ) التعداد
(ب) سجلات المدارس
(ج) التسجيل الحيوي
(د) المسوحات بالعينة

2- يدرس سعيد في الصف الحادي عشر ويبلغ عمره 17سنة ،فحسب البنية العمرية للسكان يصنف سعيد في فئة :

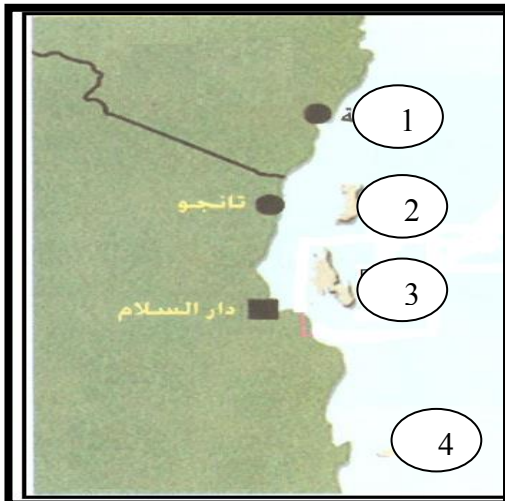
- (أ) صغار السن
(ب) الشباب
(ج) كبار السن
(د) الفئة المعالة

3- تصنف الكثافة السكانية التي تتجاوز 800 نسمة/كم²:

- (أ) منخفضة
(ب) متوسطة
(ج) مرتفعة
(د) مرتفعة جدا

4- أقصى امتداد ناحية الجنوب للنفوذ العماني في الساحل الشرقي الأفريقي :

- (أ) مقديشو
(ب) زنجبار
(ج) رأس دلجادو
(د) أعالي الكونغو



5- الرقم الصحيح الذي يشير إلى موقع جزيرة مافيا:

- (أ) 1
(ب) 2
(ج) 3
(د) 4

امتحان نهاية الفصل الدراسي الأول - الدور الثاني - العام الدراسي 2015/2014م

تابع السؤال الأول:

6- السفينة العمانية التي ذهبت إلى نيويورك عام 1840م :

(أ) فكتوريا (ب) الفلك

(ج) سلطنة (د) صحار

7- تقع سلطنة عمان من شبه الجزيرة العربية في جهة:

(أ) الجنوب الغربي (ب) الجنوب الشرقي

(ج) الشمال الغربي (د) الشمال الشرقي

8- يوجد مقر منظمة اليونسكو في:

(أ) جنيف (ب) لندن

(ج) نيويورك (د) باريس

السؤال الثاني : أجب عن الاسئلة التالية : (8 درجات)

1- أمامك مجموعة من الشخصيات العمانية ساهمت في ترسيخ الوجود العماني في شرقي إفريقيا، ضع الشخصية المناسبة في الجدول التالي في مكانها الصحيح

- محيي الدين القحطاني - الشيخ حسن الفارسي

- سليمان بن حمد البوسعيدي - حميد بن محمد المرجبي

م	اسم الشخصية	أهم أعماله
1	أحد أبرز قضاة زنجبار
2	أسس أمانة إسلامية عربية في أعالي الكونغو
3	عينه السيد سعيد بن سلطان رئيساً للوزراء
4	أسند إليه إدارة مجموعة من السفن الحربية

امتحان نهاية الفصل الدراسي الأول - الدور الثاني - العام الدراسي 2014/2015م

تابع السؤال الثاني:

2- ما نتيجة كل من:

أ) التقدم في مكافحة الأمراض والأوبئة في الدول المتقدمة

ب) تأسيس المطبعة السلطانية في زنجبار

3- استبدل بالعبارات التالية الاسم أو المصطلح الدال على كل منها

أ) أصبح سلطاناً على عمان عام 1856م

ب) حركة الأفراد من مكان إلى آخر

السؤال الثالث: أجب عن الأسئلة التالية : (8 درجات)

1- أمامك جدول عدد سكان سلطنة عمان حسب تعداد 2010م ، ثم أجب عن الأسئلة

التي تليها:

عدد السكان	المساحة كم ²	المحافظة
775,878	3500	مسقط
772,590	12500	الباطنة

أ- أحسب الكثافة السكانية في محافظة الباطنة

ب- فسر زيادة الكثافة السكانية في محافظة مسقط؟

.....
.....

امتحان نهاية الفصل الدراسي الأول - الدور الثاني - العام الدراسي 2015/2014م

تابع السؤال الثالث :

2- بلغ عدد حوادث المرور في السلطنة عام 2004م (9460 حادثاً مرورياً) ،توفي نتيجة ذلك (637 أشخاص) ،وأصيب (6636 شخصاً)بجروح ،إضافة إلى ذلك فقد بلغ إجمالي الوفيات في السلطنة نحو (11597 شخصاً) وقد بلغ عدد سكان السلطنة في تلك السنة (1,980,000 نسمة).

في ضوء ذلك أجب عن الآتي:

أ- احسب معدل الوفيات

ب- برأيك ما الأسباب الرئيسية لحوادث المرور؟

3- عرف ما يلي:

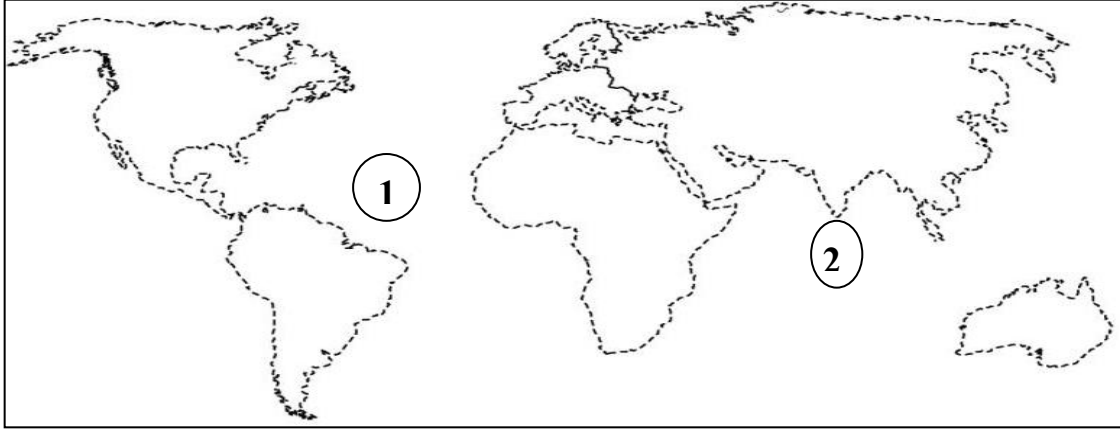
أ) الزيادة الطبيعية

ب) أمد الحياة

امتحان نهاية الفصل الدراسي الأول - الدور الثاني - العام الدراسي 2015/2014م

السؤال الرابع: أجب عن الأسئلة التالية : (8 درجات) :

1- أدرس الخريطة التالية، ثم أجب عن الأسئلة التي تأتي بعدها .



أ- اسم المحيط المشار إليه بالرقم (1) في الخريطة هي المحيط.....

ب_ الدولة المشار إليه بالرقم (2) هو.....

ج- وقع على الخريطة القارات التي يقع فيها العالم الإسلامي؟

2- اذكر اختصاصاً واحداً لكل من:

(أ) صندوق الأمم المتحدة لرعاية الطفولة

.....

(ب) الفاو.....

(ج) مجلس الأمن الدولي.....

3- علل ما يلي:

(أ) منح جلالة السلطان قابوس جائزة السلام الدولية عام 1998م

.....

.....

(ب) زيادة نسبة النوع في محافظة الوسطى بالسلطنة

.....

.....

انتهت الأسئلة مع التمنيات للجميع بالنجاح



بِسْمِ اللَّهِ الرَّحْمَنِ الرَّحِيمِ

" رَبِّ اجْعَلْ لِي قَلْبًا عَاقِلًا وَيَسِّرْ لِي أَمْرِي "

مِنَاطِنَةُ عُثْمَانَ
وَأَذَانَ الرَّبِيعِ وَالتَّحْلِيمِ
المديرية العامة للتربية والتعليم بمحافظة الظاهرة
دائرة التقويم التربوي

نموذج إجابة امتحان نهاية الفصل الدراسي الأول - الدور الثاني العام الدراسي 2015/2014م

الصف : التاسع	المادة : الدراسات الاجتماعية	الزمن : ساعة ونصف	الدرجة : 40 درجة
---------------	------------------------------	-------------------	------------------

إجابة السؤال الأول : (16 درجة لكل مفردة درجتان)


رقم المفردة	1	2	3	4	5	6	7	8
رمز الإجابة	د	ب	د	ج	ج	ج	ب	د
الإجابة	المسوحات بالعينه	الشباب	مرتفعة جداً	رأس دلجادو	4	سلطانة	الجنوب الشرقي	باريس
الدرجة	2	2	2	2	2	2	2	2
الصفحة	13	15	32	46	49	44	70	82

م	الإجابة	الدرجة	الصفحة															
1	<table border="1"> <thead> <tr> <th>م</th> <th>اسم الشخصية</th> <th>أهم أعماله</th> </tr> </thead> <tbody> <tr> <td>1</td> <td>محيي الدين القحطاني</td> <td>أحد ابرز قضاة زنجبار</td> </tr> <tr> <td>2</td> <td>حميد بن محمد المرجبي</td> <td>أسس أمارة إسلامية عربية في أعالي الكونغو</td> </tr> <tr> <td>3</td> <td>سليمان بن حمد البوسعيدي</td> <td>عينه السيد سعيد بن سلطان رئيساً للوزراء</td> </tr> <tr> <td>4</td> <td>الشيخ حسن الفارسي</td> <td>أسند إليه إدارة مجموعة من السفن الحربية</td> </tr> </tbody> </table>	م	اسم الشخصية	أهم أعماله	1	محيي الدين القحطاني	أحد ابرز قضاة زنجبار	2	حميد بن محمد المرجبي	أسس أمارة إسلامية عربية في أعالي الكونغو	3	سليمان بن حمد البوسعيدي	عينه السيد سعيد بن سلطان رئيساً للوزراء	4	الشيخ حسن الفارسي	أسند إليه إدارة مجموعة من السفن الحربية	4 درجات لكل شخصية درجة واحدة	48
		م	اسم الشخصية	أهم أعماله														
		1	محيي الدين القحطاني	أحد ابرز قضاة زنجبار														
		2	حميد بن محمد المرجبي	أسس أمارة إسلامية عربية في أعالي الكونغو														
		3	سليمان بن حمد البوسعيدي	عينه السيد سعيد بن سلطان رئيساً للوزراء														
4	الشيخ حسن الفارسي	أسند إليه إدارة مجموعة من السفن الحربية																
53																		
47																		
44																		
-2	<p>أ - ارتفاع أمد الحياة .</p> <p>ب- نشر العشرات من الكتب العمانية ونشر الثقافة العربية الإسلامية وظهرت أكثر من صحيفة منها الفلق والنهضة والإصلاح.</p>	1	21															
		1	56															
-3	<p>أ- السيد ثويني بن سعيد</p> <p>ب- الهجرة</p>	1	62															
		1	28															

إجابة السؤال الثالث : (8 درجات)

م	الإجابة	الدرجة	الصفحة
-1	<p>أ- الكثافة السكانية في محافظة الباطنة = $772,590$ 12500 $61,8$ نسمة لكل كم2 =</p>	2	36
	<p>ب- بسبب هجرة السكان إليها لتوفر الخدمات في هذه المحافظة .</p>	1	36
-2	<p>أ- عدد الوفيات = $\frac{\text{عدد الوفيات في سنة}}{\text{عدد السكان}} \times 1000$</p> <p>= $1000 \times \frac{11597}{\text{عدد السكان}} = 5,85$ في الألف</p> <p>1,980,000</p>	1	29
	<p>ب- الإهمال- السرعة الزائدة -التجاوز الخاطئ -مفاجئات الطريق- عدم الالتزام بقواعد المرور أو <u>(ما يشير إلى المعنى)</u>.</p>	1	29
-3	<p>أ- الزيادة الطبيعية= عدد المواليد - عدد الوفيات.</p>	1	28
	<p>ب- أمد الحياة: عدد السنوات المتوقع أن يعيشها الإنسان.</p>	1	21

إجابة السؤال الرابع: (8 درجات)

الصفحة	الدرجة	الإجابة	م
71	1 1 1	 <p>أ- المحيط الأطلسي ب- الهند ج- آسيا- إفريقيا- أوروبا (يكتفي بذكر قارتين)</p>	-1
85	1	<p>أ- تخفيض نسبة وفيات الأمهات والأطفال دون الخامسة- الحد من سوء التغذية – توفير التعليم- تخفيض نسبة الأمية- تحسين حماية الأطفال (يكتفي فقط باختصاص واحد)</p>	-2
84	1	<p>ب- دراسة ظروف الزراعة والتغذية في العالم والعمل على رفع مستوى التغذية وزيادة مصادر الإنتاج ونشر المعلومات الصحية ووسائل حفظ المنتجات الزراعية . (يكتفي فقط باختصاص واحد)</p>	
86	1	<p>ج- حفظ الأمن والسلام- استخدام القوة لإعادة السلم بين الدول (يكتفي فقط باختصاص واحد)</p>	
88	1		
17	1	<p>ا- تقديرا لدور جلالتة في إرساء السلام العالمي. ب- بسبب هجرة الذكور للعمل في شركات النفط والغاز في هذه المحافظة.</p>	-3

” نهاية نموذج الإجابة ”

إعداد وحدة إشراف الدراسات الاجتماعية
99457172