



المديرية العامة للتربية والتعليم لمحافظة الظاهرة
دائرة التقويم التربوي

امتحان نهاية الفصل الدراسي الثاني - الدور الأول - العام الدراسي 2015/2014 م

الصف : التاسع	المادة : الدراسات الاجتماعية	الزمن : ساعة ونصف	الدرجة : 40 درجة
---------------	------------------------------	-------------------	------------------

تنبيه :

- الأسئلة في (7) صفحات .
- الاجابة في نفس الورقة .

رقم السؤال	الدرجة بالأرقام	الدرجة بالحروف	اسم المصحح	توقيعه
1				
2				
3				
4				
المجموع الكلي				

اسم الطالب /

الصف / الشعبة ()

المدرسة /

السؤال الأول: (16 درجة)

ضع دائرة حول رمز الإجابة الصحيحة فيما يلي :

1- أكثر الأمراض الوراثية انتشاراً في السلطنة مرض :

- (أ) السرطان
(ب) الإيدز
(ج) فقر الدم المنجلي
(د) السكري

2- مجموع السكان الذين هم في سن العمل سواء كانوا يعملون أو يبحثون عن عمل يقصد به :

- (أ) القوى العاملة
(ب) مستوى الدخل
(ج) الموارد البشرية
(د) التنمية البشرية

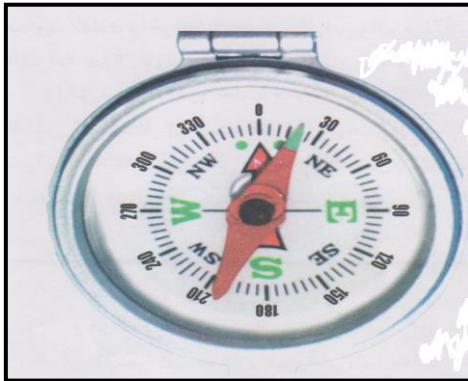
3- حسب الدراسات التي أجرتها الأمم المتحدة على الدول النامية أنه إذا زاد متوسط التعليم بمعدل 6 سنوات فإن معدل النمو الاقتصادي للدولة يزداد بنسبة:

- (أ) 5,5%
(ب) 39%
(ج) 50,5%
(د) 80%

4- كانت من أهم قطع الأسطول العماني وقد أرسلت الى ميناء نيويورك عام 1840م بقيادة أحمد بن النعمان :

- (أ) الرحماني
(ب) فكتوريا
(ج) صحار
(د) سلطنة

5- الأداة التي يستخدمها المعلم على السفينة في رحلته البحرية والواضحة في الشكل :



- (أ) الإسطرلاب
(ب) الرهمانج
(ج) القنديل
(د) البوصلة

يتبع،،،

امتحان نهاية الفصل الدراسي الثاني للصف التاسع - الدور الأول - العام الدراسي 2014/2015 م

تابع السؤال الأول:

6- العام الميلادي الذي أعيدت فيه المستعمرة البرتغالية (مكاو) الى الحكم الصيني :

(ب) 1999م

(أ) 1997م

(د) 2003م

(ج) 2001م

7- يشير الشكل الذي أمامك إلى نوع من أشهر السفن العربية حتى الآن من حيث

حجمه وسرعته وسعته :



(ب) البغلة

(أ) السنبوق

(د) البدن

(ج) البوم


8- المعلم الحضاري الواضح في الصورة التي أمامك :

(أ) بوابة مدينة نيودلهي

(ب) معبد صيني

(ج) معبد ياباني

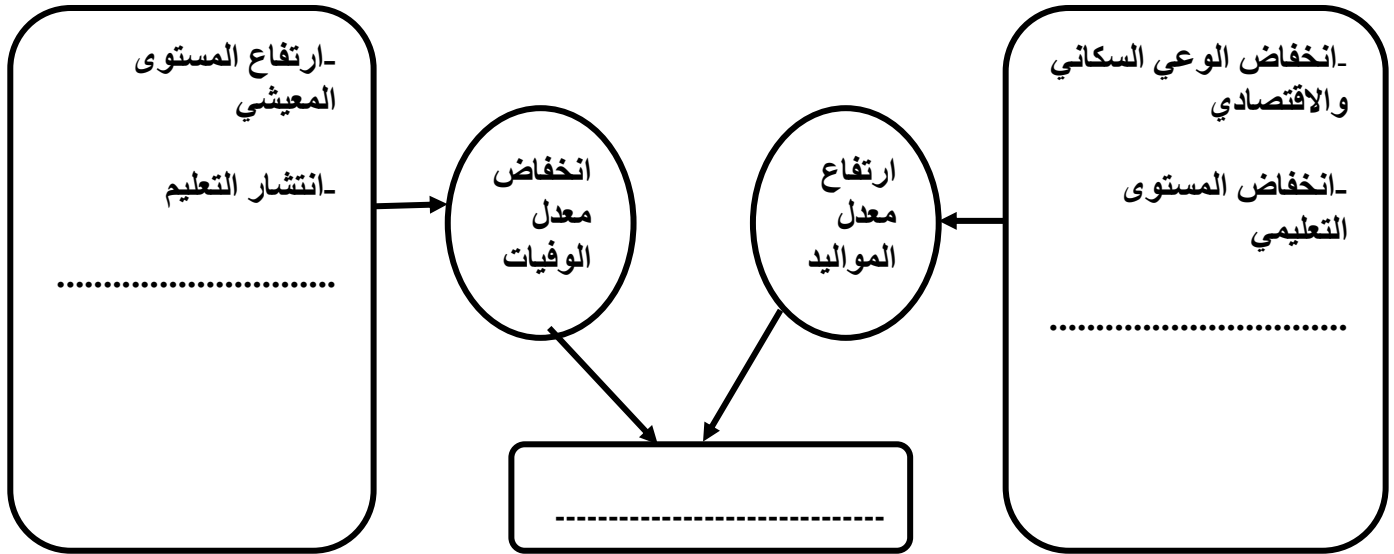
(د) إحدى البوابات في سور الصين العظيم



يتبع،،،

السؤال الثاني : أجب عن الأسئلة التالية : (8 درجات)

1- ادرس الشكل التالي ، ثم أكمل الفراغات المطلوبة:



2- أمامك جدول مستقبلي لمساهمة القطاعات الاقتصادية الأساسية في الناتج المحلي ، ادرسه جيدا ثم أجب عن الأسئلة التي تليها:

القطاع الاقتصادي	١٩٩٩م	٢٠٢٠م
النفط	٣٨,٣%	٩,٠%
الغاز	١,١%	١٠,٠%
الزراعة والأسماك	٢,٦%	٥,١%
الصناعة	٤,٢%	١٥,٠%
التجارة	١١,٨%	١٦,٠%

1- ما القطاع الاقتصادي الأعلى في الناتج المحلي لعام 1999م؟

2- بم تفسر التخطيط لخفض مساهمة النفط في الناتج المحلي لعام 2020م.

3- رتب القطاعات الاقتصادية تنازلياً من الأكثر الى الأقل مساهمة في الناتج المحلي

عام 2020م؟

يتبع،،،

امتحان نهاية الفصل الدراسي الثاني للصف التاسع - الدور الأول - العام الدراسي 2014/2015 م

تابع السؤال الثاني:

3- عرف الفرقاطة :

السؤال الثالث: أجب عن الأسئلة التالية : (8 درجات)

1- ادرس الخريطة التالية ، ثم أجب عن الأسئلة التي تليها:



أ- أكتب على الخريطة المسطحات المائية التالية

- المحيط الهندي - البحر المتوسط

ب- اسم الجزيرة المشار إليها بالرقم (1) -----

ج- وقع على الخريطة ميناء جوادر الذي كان محطة للسفن والتجار بين الخليج

العربي وساحل المليبار وكجرات .

يتبع،،،

امتحان نهاية الفصل الدراسي الثاني للصف التاسع - الدور الأول - العام الدراسي 2015/2014 م

تابع السؤال الثالث:

2- عندما وصل الآريون إلى الهند نحو 1500 ق.م أوجدوا نظام الطبقة في المجتمع الهندي .

أمامك طبقات المجتمع الهندي ولكنها غير مرتبة. حاول أن ترتبها ترتيباً صحيحاً كما فعل الآريون .

" الفرسان المحاربون - المزارعون والصناع - العبيد والخدم - المنبوذون - الكهنة والملوك "

- 1-
2-
3-
4-
5-

3- علل لما يلي:

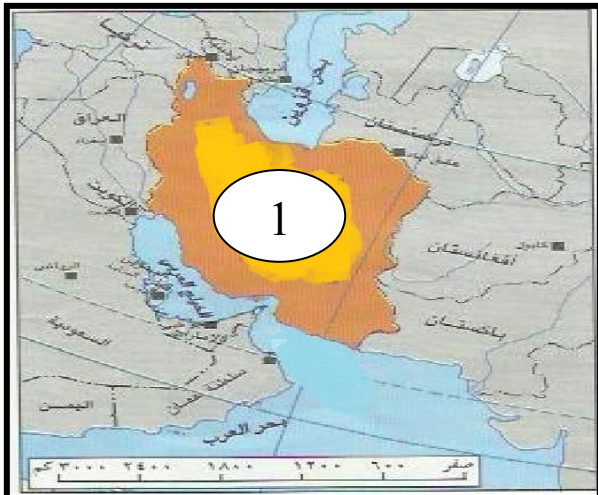
أ- كثرت وتعددت الطرق والموانئ التجارية البحرية في منطقة المحيط الهندي .

ب- ارتبط توجه العمانيين نحو البحر منذ القدم .

السؤال الرابع: (8 درجات)

أجب عن الأسئلة التالية :

1- ادرس الخريطة التي أمامك ثم أكمل البطاقة التعريفية لهذه الدولة :



1- اسم هذه الدولة المشار إليها بالرقم (1)

2- اللغة الرسمية لها

3- العاصمة

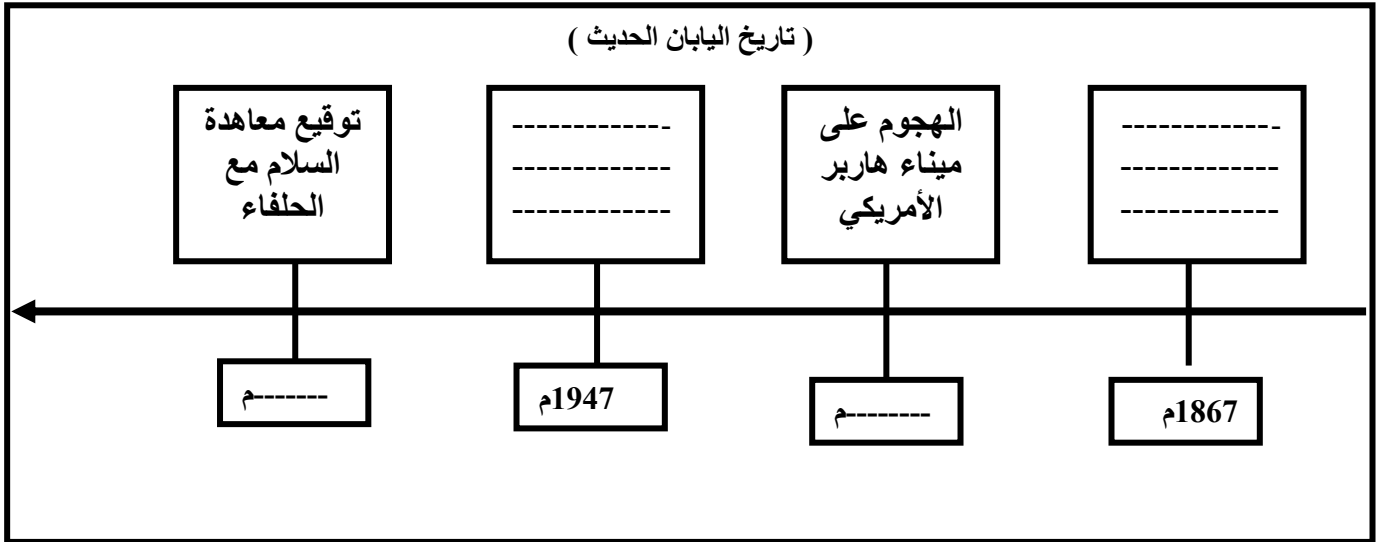
4- العملة

يتبع،،،

امتحان نهاية الفصل الدراسي الثاني للصف التاسع - الدور الأول - العام الدراسي 2014/2015 م

تابع السؤال الرابع:

2- أكمل بيانات المخطط الزمني التالي:



3- اذكر سبباً واحداً لكل مما يلي:

أ- وصول البرتغاليين الى ملقا.

ب- تزايد الاهتمام الهولندي والبريطاني لماليزيا بعد سيطرة البرتغاليين عليها

عام 1511م.

انتهت الأسئلة مع التمنيات للجميع بالنجاح



بِسْمِ اللَّهِ الرَّحْمَنِ الرَّحِيمِ

" رَبِّ اجْعَلْ لِي قَلْبًا عَاقِلًا " رَبِّ اجْعَلْ لِي قَلْبًا عَاقِلًا " رَبِّ اجْعَلْ لِي قَلْبًا عَاقِلًا "

مِنَاطِنَا عَمَّانَ
وَأَوَّلَ النَّبِيِّينَ وَالْحَكِيمِينَ
المديرية العامة للتربية والتعليم محافظة الظاهرة
دائرة التقويم التربوي


نموذج إجابة امتحان نهاية الفصل الدراسي الثاني - الدور الأول العام الدراسي 2015/2014م

الصف : التاسع	المادة : الدراسات الاجتماعية	الزمن : ساعة ونصف	الدرجة : 40 درجة
---------------	------------------------------	-------------------	------------------

إجابة السؤال الأول : (16 درجة لكل مفردة درجتان)

رقم المفردة	1	2	3	4	5	6	7	8
رمز الإجابة	ج	أ	ب	د	د	ب	ج	أ
الإجابة	فقر الدم المنجلي	القوى العاملة	39%	سلطنة	البوصلة	1999م	البوم	بوابة مدينة نيودلهي
الدرجة	2	2	2	2	2	2	2	2
الصفحة	25	28	30	48	66	92	63	83

م	الإجابة	الدرجة	الصفحة
-1		3 درجات لكل تكملة درجة	11
-2	<p>1- قطاع النفط .</p> <p>2- لإيجاد اقتصاد وطني متطور وقائم على قاعدة إنتاجية متنوعة تعتمد بشكل أساسي على مصادر وموارد متجددة وتتسم بكفاية عالية وتتفاعل مع الاقتصاد العالمي .</p> <p>3- 1- قطاع التجارة . 2- قطاع الصناعة . 3- قطاع الغاز .</p> <p>4- قطاع النفط . 5- قطاع الزراعة والأسماك .</p>	1 1 2	34-33
-3	<p>الفرقاطة: سفينة حربية صغيرة الحجم سريعة تستخدم للمناورة.</p>	1	34

الصفحة	الدرجة	الإجابة	م
54	ثلاث درجات ونصف درجة واحدة للبحر المتوسط. درجة واحدة للمحيط الهندي. نصف درجة لمدغشقر درجة لميناء جوادر		-1
80	درجتان ونصف لكل واحدة نصف درجة	<p>الترتيب الصحيح للطبقات الاجتماعية للهند:</p> <p>1- الكهنة والملوك 2- الفرسان والمحاربون 3- المزارعون والصناع 4- العبيد والخدم 5- المنبوذون</p>	-2
51	1	أ- بسبب كثرة ثروات المحيط الهندي وتنوعها وشدة الطلب عليها.	-3
41-40	1	ب- بسبب الجفاف يسود معظم أراضي السلطنة- تحيط المياه بالسلطنة من ثلاث جهات- وقوع السلطنة بين مناطق مناخية متباينة- صلاحية الملاحة في السواحل العمانية- حركة التيارات البحرية والرياح الموسمية ساعدت العمانيين على ركوب البحر . <u>"يكتفى بواحدة فقط"</u>	

م

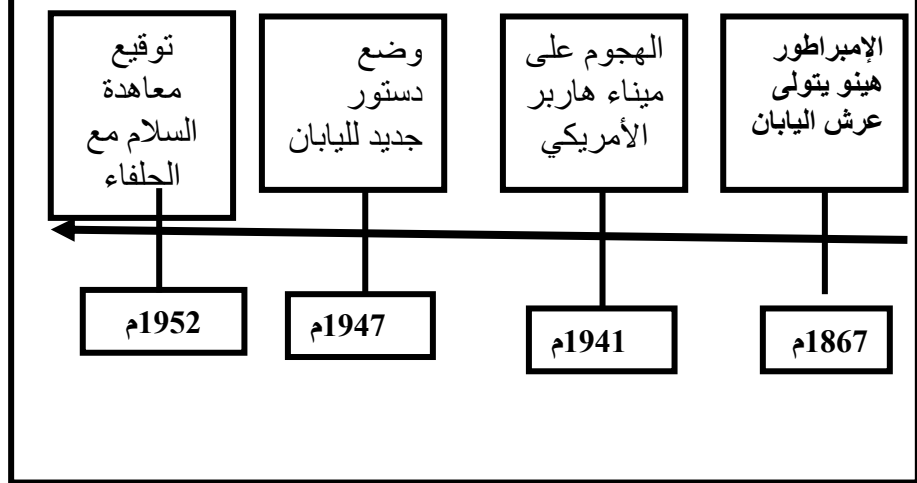
إجابة السؤال الرابع: (8 درجات)

- 1
- 1- اسم الدولة :إيران
 - 2- اللغة: الفارسية
 - 3- العاصمة: طهران
 - 4- العملة : الريال

72 درجتان
لكل واحدة
نصف درجة

4درجات
لكل تكملة درجة
واحدة

(تاريخ اليابان الحديث)



107 1 أ/بهدف السيطرة على تجارتها الغنية-موقعها الإستراتيجي -3

"يكتفي بسبب واحد فقط"

107 1 ب/ نجاح زراعة المطاط والذي أصبح له قيمة اقتصادية كبيرة- الغابات الغنية بأخشاب الأبنوس والصنديل والساج.

"يكتفي بسبب واحد فقط"

” نهاية نموذج الإجابة ”

إعداد وحدة إشراف الدراسات الاجتماعية
99457172