



الاسم :
الصف :

سلطنة عمان
وزارة التربية و التعليم
المديرية العامة للتربية و التعليم بمحافظة ظفار

امتحان نهاية الفصل الدراسي الأول للصف السادس الأساسي/العام
للعام الدراسي 2014-2015م

المادة : الدراسات الاجتماعية زمن الاجابة : ساعة و نصف درجة الامتحان (40)

تنبيه الاسئلة في (4) صفحات الاجابة في نفس الورقة

السؤال الاول : ضع دائرة حول رمز الاجابة الصحيحة من بين البدائل المعطاة :

16

1- تم بناء الجامع الأزهر في عهد الدولة :

(أ) الأموية (ب) العباسية (ج) الرستمية (د) الفاطمية

2- عندما ترى وأنت تمر في الصحراء مائدة صحراوية تستنتج أنها تكونت بفعل:

(أ) الأنهار (ب) الرياح (ج) الجليد (د) الامواج

3- الغلاف الذي يعد المنظم الرئيسي لدرجة الحرارة على سطح الارض هو :

(أ) المائي (ب) الجوي (ج) الصخري (د) الحيوي


4 - المقياس المستخدم لقياس قوة الزلازل هو:

السيزموجراف (ب) الترمومتر (ج) الانيمومتر (د) ريختر

5- مؤسس المذهب الاباضي هو :

أ - مازن بن غضوية (ب) الجلندی بن مسعود (ج) جابر بن زيد (د) عمرو بن العاص

6- الشكل الدال على ان الجو غائم جزئيا هو :

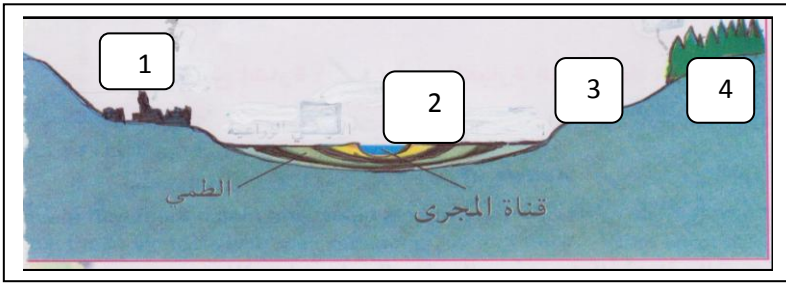


د

ج

ب

أ



7- الرقم الذي يدل على السهل الفيضي هو :

1(أ) 2 (ب) 3 (ج) 4 (د)

8- إذا جاء سالم يصف لك حالة الطقس بأنه غائم ممطر في الساعات القادمة فإنه يعبر عن:

(أ) يوم (ب) شهر (ج) فصل (د) سنة

السؤال الثاني : أجب عن الاسئلة الاتية :

8

أولاً: عرف ما يلي:

أ - الزلزال.

ب - الغلاف المائي.

ثانياً: علل لما يأتي :

أ - اختلاف السواحل في أشكالها من مكان لآخر على سطح الأرض؟.

ب - تحترق الشهب والنيازك المندفعة من الفضاء نحو الأرض في طبقة الميزوسفير؟

ثالثاً- قارن بين كلا من الدولة الأموية في الأندلس والدولة الرستمية في الجدول التالي من حيث :

الدولة الرستمية	الدولة الأموية بالأندلس	أوجه المقارنة
		المؤسس
		العاصمة

السؤال الثالث :

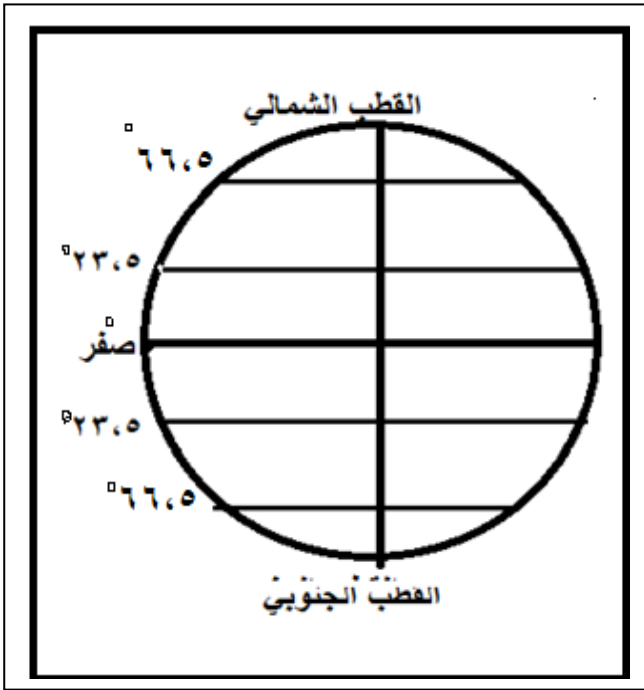
أولاً- أجب عن الأسئلة الآتية :
أ - فسر سبب حدوث الرياح ؟.

ب- كيف نتغلب علي مشكلة تآكل الشواطئ؟

ثانياً:

أ- وضح تسمية نزوى ببيضة الإسلام ؟

ب -من خلال دراسة الشكل الذي إمامك :



1 - استنتج اسم المنطقة الحرارية التي تمر بها درجة العرض 30 شمالاً ؟

2 - وضح بالرسم مسار الأشعة العمودية على الشكل الذي إمامك.

ثالثاً- اوجد حلاً لمشكلة فيضانات الأنهار ؟

السؤال الرابع : اجب عن الاسئلة الاتية :

8

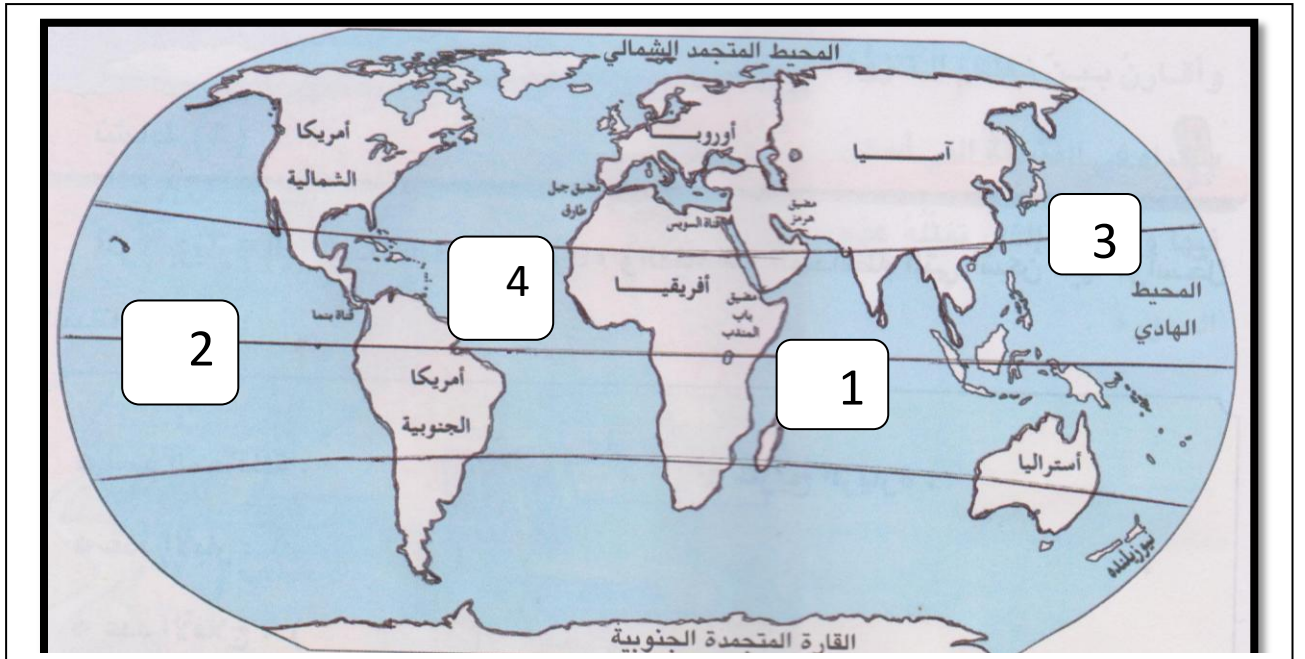
أولاً: أ- بين علاقة الإنسان بأغلفة النظام الأرضي ؟

ثانياً: أ- بماذا تميز عصر الأمام الصلت بن مالك ؟

ب- الشكل الناتج عن تفريغ كهفين متعاكسين بفعل النحت البحري هو(.....)

ثالثاً: أ- (كانت عمان طوال العهد الأموي تتبع البصرة) ددل على ذلك؟؟

ب- باستخدام الخريطة التي إمامك اجب عن الاسئلة التالية :



1-الرقم الذي يشير إلى موقع المحيط الهندي هو (.....)


1 - في اي جهة من العالم تزيد نسبة المسطحات المائية ؟

3-حدد على الخريطة المغرب الأقصى.

انتهت الأسئلة تمنياتنا بالتوفيق

**نموذج اجابة الامتحان النهائي الصف السادس للتعليم الاساسي
لمادة الدراسات الاجتماعية للعام الدراسي 2014-2015م**

اجابة السؤال الاول : 16 درجة لكل مفردة درجتان فقط

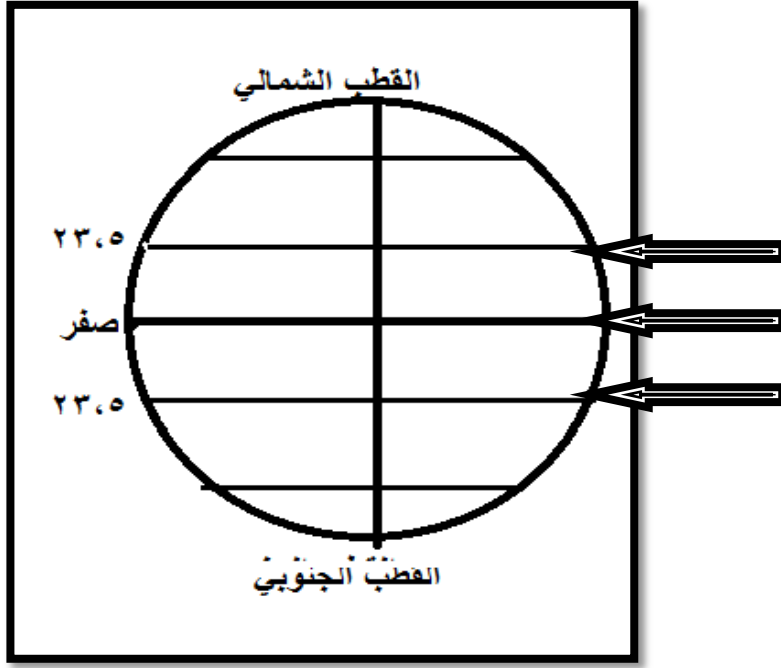
رقم السؤال	الإجابة	رمز الإجابة الصحيحة	الدرجة	رقم الصفحة
1	الفاطمية	د	2	86
2	الرياح	ب	2	46
3	المائي	أ	2	129
4	ريختر	د	2	17
5	جابر بن زيد	ج	2	63
6		ج	2	125
7	2	ب	2	38
8	يوم	أ	2	101

ثانيا : الاسئلة المقالية :

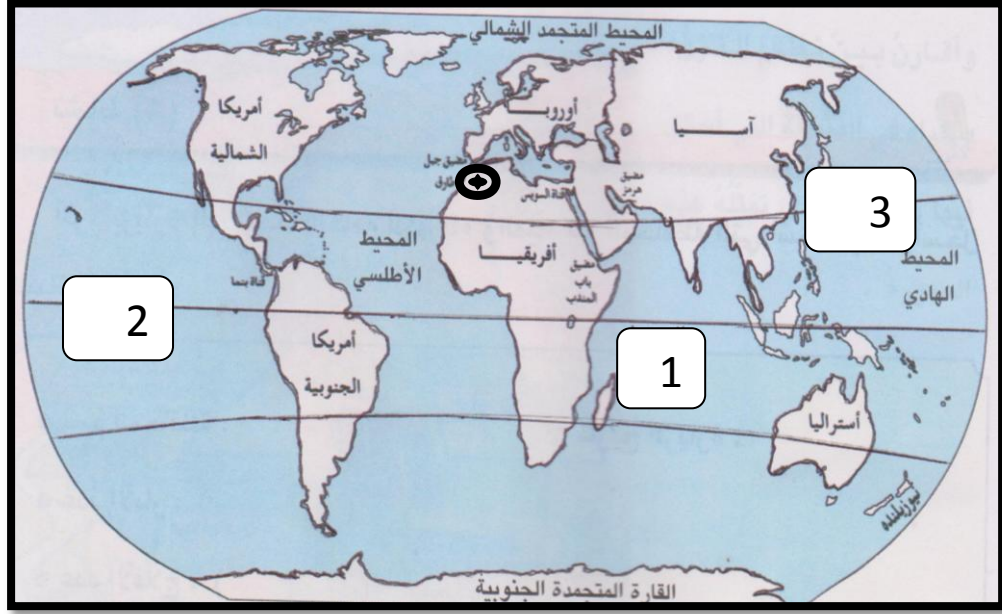
السؤال الثاني : (8) درجات فقط

رقم المفردة	الإجابة	الدرجة	الصفحة									
أولاً- أ	هزات أرضية سريعة قصيرة متتالية تضرب سطح الأرض بسبب تصادم الصفائح الأرضية .	درجة	16									
أولاً - ب	هو الغلاف الذي يشمل الماء في حالاته الثلاث: الغازية والسائلة والصلبة	درجة	128									
ثانياً: أ	بسبب تباين الصخور التي تتكون منها/واختلاف تأثير فعل الأمواج وما ينتج عنها من عمليات نحت وإرساب.	درجتان	39									
ب	بسبب الاحتكاك الشديد بالغلاف الجوي .	درجتان	99									
ثالثاً:	<table border="1" style="width: 100%; border-collapse: collapse;"> <thead> <tr> <th>أوجه المقارنة</th> <th>الدولة الأموية بالأندلس</th> <th>الدولة الرستمية</th> </tr> </thead> <tbody> <tr> <td>المؤسس</td> <td>عبدالرحمن الداخل</td> <td>عبدالرحمن بن رستم</td> </tr> <tr> <td>العاصمة</td> <td>قرطبة</td> <td>تاهرت</td> </tr> </tbody> </table>	أوجه المقارنة	الدولة الأموية بالأندلس	الدولة الرستمية	المؤسس	عبدالرحمن الداخل	عبدالرحمن بن رستم	العاصمة	قرطبة	تاهرت	درجتان لكل مفردة نصف درجة	74-54
أوجه المقارنة	الدولة الأموية بالأندلس	الدولة الرستمية										
المؤسس	عبدالرحمن الداخل	عبدالرحمن بن رستم										
العاصمة	قرطبة	تاهرت										

السؤال الثالث : (8) درجات فقط

رقم المفردة	الإجابة	الدرجة	الصفحة
أولاً: أ	بسبب اختلاف مناطق الضغط الجوي على الكرة الأرضية	درجتان	106
ب	- وضع فرشاة حجرية لحماية الشواطئ - وضع كتل حجرية صلبة لإنشاء كواسر الأمواج (يكتفي بذكر حلا واحدا فقط)	درجة	44 : 43
ثانياً: أ	لكثرة العلماء والفقهاء وأهل الصلاح	درجتان	67
ثانياً: ب-1	المعتدلة الشمالية	درجة	103
ب-2		درجة	102
3 - ب	بناء السدود	درجة	140

السؤال الرابع : (8 درجات فقط)

رقم المفردة	الإجابة	الدرجة	الصفحة
أولاً:	علاقة تفاعل حيث استغل الإنسان الموارد الطبيعية لتلبية احتياجاته من الغذاء والصناعة والطاقة	درجتان	12
ثانياً: أ	اتصف عهده بالاستقرار - أرسل أسطولاً حربياً لتحرير جزيرة سقطرى من يد الأحباش	درجة	68
ب	القتطرة أو القوس	درجة	41
ثالثاً: أ	الوالي الذي يحكم البصرة كان يحكم عمان أيضاً وذلك لأنهما مرتبطتان بالطريق البحري عبر مياه الخليج العربي.	درجتان	64
ثالثاً: ب		131	131
1	(1)	نصف درجة	131
2	النصف الجنوبي من الكرة الأرضية	نصف درجة	131
3	التحديد في الخريطة	درجة	50

انتهى نموذج الاجابة