



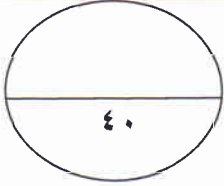
المادة : الدراسات الاجتماعية

الدور : الأول

الزمن : ساعتان

اسم الطالب : ..... الصف : الخامس /

المدرسة : .....



ملاحظة : الامتحان في ( ٤ ) صفحات . \* الإجابة في الورقة نفسها .

أجب عن جميع الأسئلة التالية:

السؤال الأول: اختر الإجابة الصحيحة من بين البدائل المعطاة فيما يأتي:

١- العملة العربية التي ظهرت أيام الدولة الأموية سنة ٧٧ هـ:

أ . الدينار ب . الدرهم ج . الفلس د . القرش

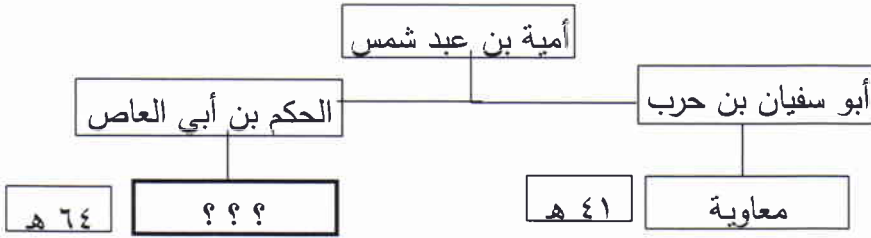
٢- الخليفة الأموي الذي حكم في الفترة التي يشير إليها الجزء من مخطط شجرة نسب الأمويين:

أ- عمر

ب- مروان

ج- عبد الملك

د- يزيد



٣ . نقل علوم الأمم الأخرى إلى اللغة العربية يسمى:

أ . الترجمة ب . التعليم ج . التفسير د . التطوير

٤ . يظهر تأثير الإسلام في تخطيط المدن العربية من خلال توسط إحدى الإنشاءات التالية للمدينة:

أ . المزارع ب . القلاع ج . المساكن د . المسجد

٥ . الفرق بين معدل المواليد والوفيات هو تعريف لمفهوم :

أ . الزيادة الطبيعية ب . الزيادة غير الطبيعية ج . النمو السكاني د . النقص الطبيعي

٦ . تحسب الكثافة السكانية من خلال قسمة عدد السكان على:

أ . المواليد ب . المساحة ج . الوفيات د . الدخل

٧ . توضح الصورة مشكلة طبيعية تواجهها الزراعة هي:

أ . تملح ب . جفاف

ج . انجراف د . تصحر



٨ . سؤال العماني لضيفه عن أخباره يسمى :

أ . امتحان ب . ضيافة ج . مناشدة د . مناقشة

تابع امتحان نهاية الفصل الدراسي الثاني للصف الخامس في مادة الدراسات الاجتماعية  
للعام الدراسي ٢٠١١/٢٠١٢م

**السؤال الثاني :-** أجب عن الأسئلة الآتية :

١- صنف المعلومات التالية في الجدول الموضح أمامك:

( خوارزم - بلاد السند - بخارى - ملتان - إفريقية - سمرقند )

القائد الأموي	عقبة بن نافع	قتيبة بن مسلم	محمد بن القاسم
المنطقة التي فتحها			

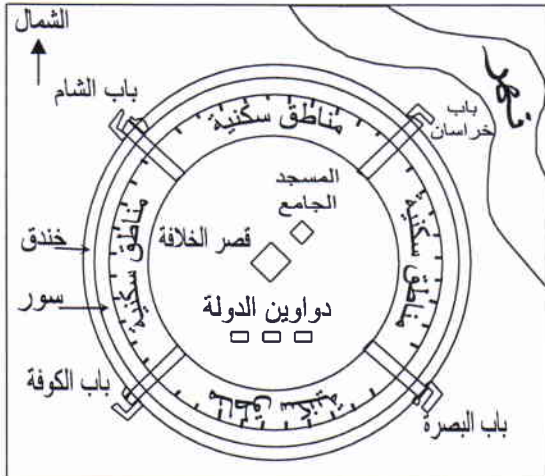
٢. أجب عما يأتي:

أ- اكتب في الجدول أمام الحدث المناسب: ( العصر العباسي الأول - العصر العباسي الثاني) فيما يأتي:

الأحداث	العصر العباسي
تقلد جعفر البرمكي منصب الوزارة	
امتد من سنة ١٣٢هـ وإلى ٢٣٢هـ	
استمرت الخلافة العباسية خلاله أربعة قرون	
بناء مدينة بغداد سنة ١٤٥هـ	

ب- علل لما يأتي: واجهت الدولة الأموية في دمشق صعوبات في إدارة الدولة.

٣- انظر إلى مخطط المدينة العربية الذي أمامك وأجب عن الأسئلة التالية:



أ- ما اسم المدينة العربية التي يمثلها المخطط؟

ب- ما الأجزاء التي تمثل حماية للمدينة من الأعداء؟

ج- في أي جهة من الجهات الأربع تقع دواوين الدولة؟

د- ما اسم النهر الذي يظهر في المخطط؟

**السؤال الثالث :**

١ . اكتب الحالات السكانية ( المواليد والوفيات - الزواج والطلاق - المهاجرون ) أمام الجهة المسؤولة عنها في سلطنة عمان .

الحالات السكانية	الجهة الحكومية
	وزارة العدل
	وزارة القوى العاملة + شرطة عمان السلطانية
	وزارة الصحة + شرطة عمان السلطانية

٢- ( ما تزال المدينة العربية تشهد هجرات مستمرة من الريف إلى المدينة )  
ابحث عن الحلول المناسبة التي تساعد على التقليل من مشكلة الهجرة من الريف من بين العناصر التالية:

الحلول المناسبة للتقليل من مشكلة الهجرة:

.....

.....

.....

.....

- توزيع أراضي سكنية بالمدينة.
- توافر المراكز الصحية والمدارس والطرق.
- تطوير المراعي.
- معاقبة المهاجرين من الريف.
- رفع مستوى الخدمات.
- توافر فرص العمل.
- بناء الأكواخ البسيطة.

٣- صنف المعالم السياحية ( الأهرامات - المسجد الحرام - مقبرة بات ) حسب موقعها في الجدول التالي:

المعالم السياحية	الدولة
	عمان
	مصر
	السعودية

تابع امتحان نهاية الفصل الدراسي الثاني للصف الخامس في مادة الدراسات الاجتماعية  
للعام الدراسي ٢٠١١/٢٠١٢م

**السؤال الرابع :**

١ . اذكر اسم المادة الخام التي تدخل في الصناعات التالية:

أ- البلاستيك

ب- المنسوجات (الملابس)

ج- الزجاج

د- المندوس

٢- عرّف ما يأتي:

أ- العمل الاجتماعي:

ب- الجراب:

أ- .....

ب- .....

ج- .....

د- .....

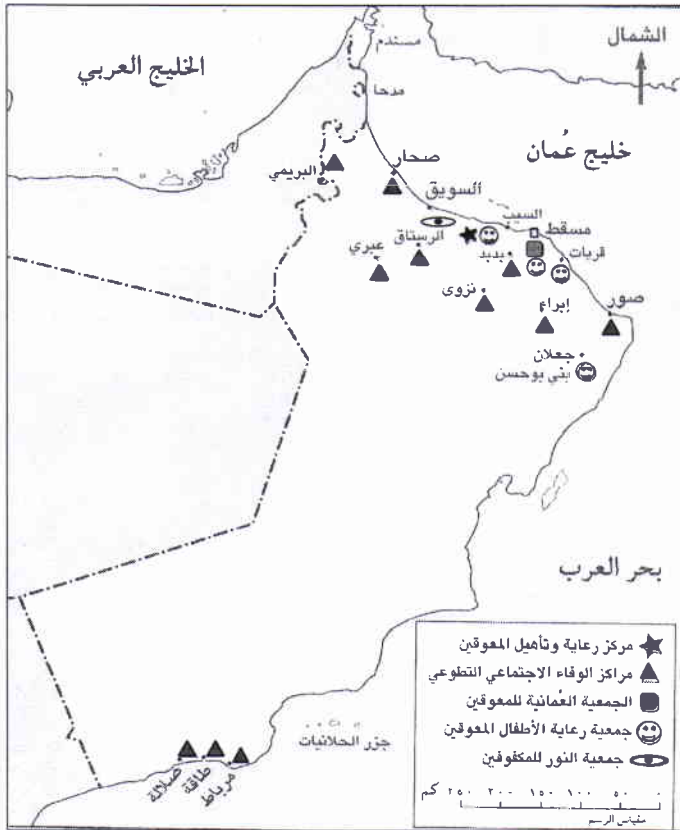
٣- ادرس الخريطة التالية ثم اجب عن الأسئلة الآتية :

أ- ما أكثر مؤسسات رعاية المعوقين انتشارا في السلطنة؟

ب- كم عدد جمعيات رعاية الأطفال المعوقين؟

ج- ما اسم الجمعية التي تخدم من يعانون من إعاقة بصرية؟

د- في أي محافظة توجد الجمعية العمانية للمعوقين؟



انتهت الأسئلة مع الدعاء للجميع بالنجاح