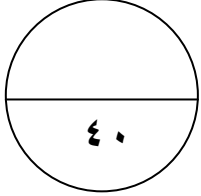




المادة : الدراسات الاجتماعية الاختبار في (٤ صفحات) الزمن : ساعتان

اسم الطالب: الصف: ٥ / _____ المدرسة:

ملاحظة : الامتحان في (٤) صفحات . * الإجابة في نفس الورقة .
أجب عن جميع الأسئلة التالية:

السؤال الأول: اختر الإجابة الصحيحة من بين البدائل المعطاة فيما يأتي:

- ١- اسم الجد الذي يلتقي عنده نسب الرسول الكريم ونسب بني أمية:
 - أ . أمية بن عبد شمس
 - ب . هاشم بن عبدمناف
 - ج . عبدمناف بن قصي
 - د . عبدالمطلب بن هاشم
- ٢- الذي يقوم بجمع أموال الدولة وحفظها يسمى ديوان:
 - أ . الزكاة
 - ب . الصدقات
 - ج . الضرائب
 - د . الخراج
- ٣ . لقراءة القرآن وفهم معانيه حرص المسلمون على تعلم:
 - أ . التفسير
 - ب . الرياضيات
 - ج . اللغة العربية
 - د . التاريخ
- ٤ . يزدحم السكان في الدول العربية في:
 - أ . الأرياف
 - ب . المدن
 - ج . القرى
 - د . البادية
- ٥ . يميل سكان الوطن العربي للتركز في مناطق:
 - أ . الجبال الوعرة
 - ب . السهول الرسوبية
 - ج . الصحاري الرملية
 - د . الصحاري الجافة
- ٦ . تخلو مساحات كبيرة من الوطن العربي نتيجة:
 - أ . شدة الحرارة
 - ب . توافر النفط
 - ج . خصوبة التربة
 - د . سقوط الأمطار
- ٧ . المادة الخام التي نحتاجها لصناعة الزجاج:
 - أ . الطين
 - ب . الرمل
 - ج . الرخام
 - د . الأخشاب
- ٨ . تسمى الأسرة المتكونة من الجد والجدة والأب والأم وأولادهما أسرة:
 - أ . بسيطة
 - ب . محافظة
 - ج . مجتمعة
 - د . ممتدة

السؤال الثاني:- أجب عن الأسئلة الآتية:

- ١- صنف الخلفاء التالية أسماؤهم إلى خلفاء أمويين وخلفاء عباسيين في الجدول التالي:
(المعتصم - عمر بن عبدالعزيز - عبدالمالك بن مروان - هارون الرشيد - المأمون - معاوية بن أبي سفيان)

| الدولة | أسماء الخلفاء |
|----------|---------------|
| الأموية | |
| العباسية | |

يتبع ص ٢ <<<

تابع امتحان الدور الثاني - الفصل الدراسي الثاني - للعام الدراسي ٢٠١١/٢٠١٢ م - الصف الخامس
لمادة الدراسات الاجتماعية

تابع السؤال الثاني :-

٢- أكمل الجدول التالي:

| | |
|--------------|---------------------------------|
| اسم الديوان | وظيفة الديوان |
| ديوان الخراج | |
| | النظر في شكاوي المظلومين |
| ديوان الزمام | |
| | تأمين إيصال الرسائل إلى أصحابها |

٣- ميّز بين المشكلة والحل من بين العناصر التالية:

- * تزايد معدلات التلوث ()
- * ارتفاع الكثافة السكانية ()
- * توافر فرص العمل ()
- * المحافظة على نظافة البيئة ()
- * عدم كفاية الإسكان ()
- * ارتفاع مستوى الخدمات ()

السؤال الثالث / أجب عن الأسئلة التالية:

١- رتب الأعمال المرتبطة بتعاون أفراد المجتمع العماني في مواسم الحصاد:

- نقل التمور إلى المسطاح. (٣)
- تعبئة التمر في الجراب. ()
- الأولاد والنساء يجمعون التمور في مكان واحد. ()
- جني التمور من أعلى النخلة. ()
- فرز التمور الصالحة من غير الصالحة. ()

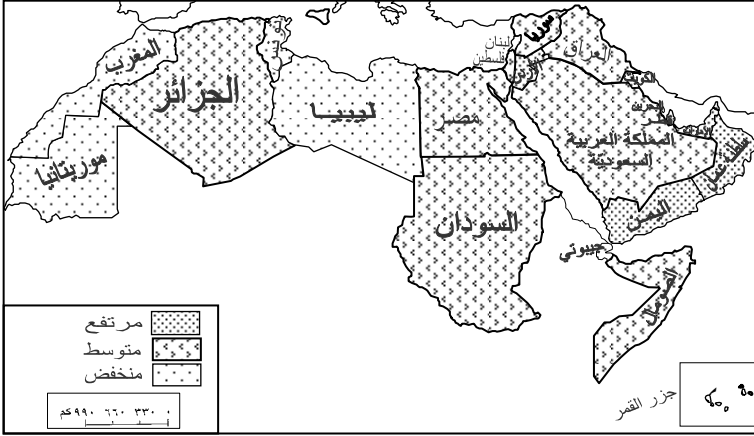
يتبع ص ٣ <<<

تابع امتحان الدور الثاني- الفصل الدراسي الثاني- للعام الدراسي ٢٠١١/٢٠١٢ م- الصف الخامس
لمادة الدراسات الاجتماعية

تابع/ السؤال الثالث:

٢- انظر إلى خريطة الوطن العربي

ثم أجب عن الأسئلة التالية:



أ- اكتب بين القوسين أقل من أو أكبر من أو يساوي:

- النمو السكاني في سلطنة عمان () النمو السكاني في السعودية
- النمو السكاني في موريتانيا () النمو السكاني في السودان
- النمو السكاني في العراق ومصر () النمو السكاني في السعودية والجزائر.

ب - أعط مثالا على دولة واحدة نموها السكان يكون: مرتفع - منخفض

الإجابة:

٣- أمامك الأشكال التالية والتي تمثل استخدامات الطاقة.


اكتب أمام كل شكل نوع الطاقة (طاقة متجددة - طاقة غير متجددة)




(.....)



(.....)



(.....)



(.....)

يتبع ص ٤ <<<

السؤال الرابع :

١- عرّف ما يأتي:

أ- السياحة. الإجابة:

ب- الطاقة. الإجابة:

٢- اكتب في الجدول الجهة التي تقوم بالعمل الاجتماعي (المدرسة - الأسرة):

| الجهة المنفذة | العمل الاجتماعي |
|---------------|--------------------------|
| | إقامة المعسكرات الكشفية |
| | تنظيم المحاضرات والندوات |
| | مساعدة الأقارب والجيران |
| | المشاركة في أسبوع المرور |
| | التوعية الصحية والإرشاد |
| | زيارة المرضى من الأقارب |

٣- (ما تزال المدينة العربية تشهد هجرات مستمرة من الريف إلى المدينة)

اختر الحلول المناسبة التي تقلل من مشكلة الهجرة من بين العناصر التالية:

- رفع مستوى الخدمات.

- توافر المراكز الصحية والمدارس والطرق.

- نقص المسطحات الخضراء والحدائق.

- بناء المساكن الاجتماعية.

- معاقبة المهاجرين من الريف.

الحلول المناسبة للتقليل من مشكلة الهجرة:

.....
.....

انتهت الأسئلة مع التمنيات للجميع بالنجاح