

سلطنة عمان

وزارة التربية والتعليم

امتحان الصف الخامس للفصل الدراسي الثاني من العام الدراسي ١٤٣٣-١٤٣٤ هـ ٢٠١٢/٢٠١٣ م .. الدور: الأول

المادة : الدراسات الاجتماعية

الزمن : ساعة ونصف.

تنبيه: الأسئلة في 4 صفحات، والإجابة في نفس ورقة الأسئلة

السؤال الأول: ضع دائرة حول رمز الإجابة الصحيحة من بين البدائل المعطاة:

١- القائد الأموي الذي تمكن من فتح بلاد ما وراء النهر(بخارى، سمرقند، وحوارزم) :

(أ) طارق بن زياد (ب) محمد بن القاسم (ج) موسى بن نصير (د) قتيبة بن مسلم

٢- من المدن الحديثة التي ظهرت في سلطنة عمان بالقرب من حقول النفط:

(أ) مسقط (ب) صور (ج) بركاء (د) هيماء

٣- تعتمد الزراعة على مياه نهر النيل في كل من:

(أ) العراق والسودان (ب) السودان والصومال (ج) مصر والسودان (د) مصر والعراق

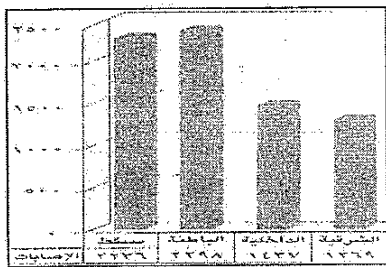
٤- يُعد ابن سينا أشهر علماء العصر العباسي، ومن مؤلفاته:

(أ) القانون (ب) أصول الكيمياء (ج) حساب الجبر والمقابلة (د) الآثار الباقية عن القرون الخالية

٥- تعتبر من الصناعات التقليدية في الوطن العربي:

(أ) الحاسوب (ب) السيارة (ج) المنطوس (د) الهاتف

٦- يشير المخطط البياني الذي أمامك إلى إحصائية حوادث المرور في بعض مناطق ومحافظات السلطنة عام ٢٠٠٠ وكانت أعلاها في:



(أ) الشرقية (ب) الداخلية

(ج) الباطنة (د) مسقط

٧- المسجد الأقصى من الشواهد الأثرية الدالة على العمارة الأموية، ويقع في:

(أ) تونس (ب) فلسطين (ج) الأردن (د) العراق

٨- كل مما يأتي يعد من أنواع الطاقة الغير متجددة عدا :


(أ) النفط (ب) الفحم الحجري (ج) الغاز الطبيعي (د) الرياح

تابع الورقة الامتحانية للصف الخامس للفصل الدراسي الثاني لمادة الدراسات الاجتماعية
للعام الدراسي ١٤٣٣-١٤٣٤هـ / ٢٠١٢-٢٠١٣م _ الدور الأول

السؤال الثاني :

أولاً: أ) أنقل أرقام الحوادث الآتية في أماكنها الصحيحة على المسطرة الزمنية التي أمامك.

١- بناء مدينة بغداد ٢- تأسيس الدولة الأموية ٣- قيام الدولة العباسية ٤- انتصار المسلمين على القوط في معركة شريش



ب) علل: "إقبال المسلمين من غير العرب على تعلم اللغة العربية؟"

ثانياً: وزع الوظائف الآتية حسب الديوان الذي يختص بها في الجدول الذي أمامك:

- توصيل الرسائل - جمع أموال الدولة - تسجيل أسماء أفراد الجيش - تدقيق الحسابات

ديوان الزمام	ديوان الخراج	ديوان التجند	ديوان البريد

ثالثاً: "يتوزع السكان في الوطن العربي بشكل غير منتظم، ويعود ذلك إلى تأثير عدة عوامل طبيعية وأخرى بشرية" في ضوء هذه العبارة

أجب عما يأتي:

١- فسر العبارة التي تحتها خط.

٢- أذكر العوامل الطبيعية والبشرية التي تؤثر في التوزيع السكاني في الوطن العربي:

العوامل الطبيعية.....

العوامل البشرية.....

السؤال الثالث: أولاً: أكتب المصطلح الدال على العبارات التالية:

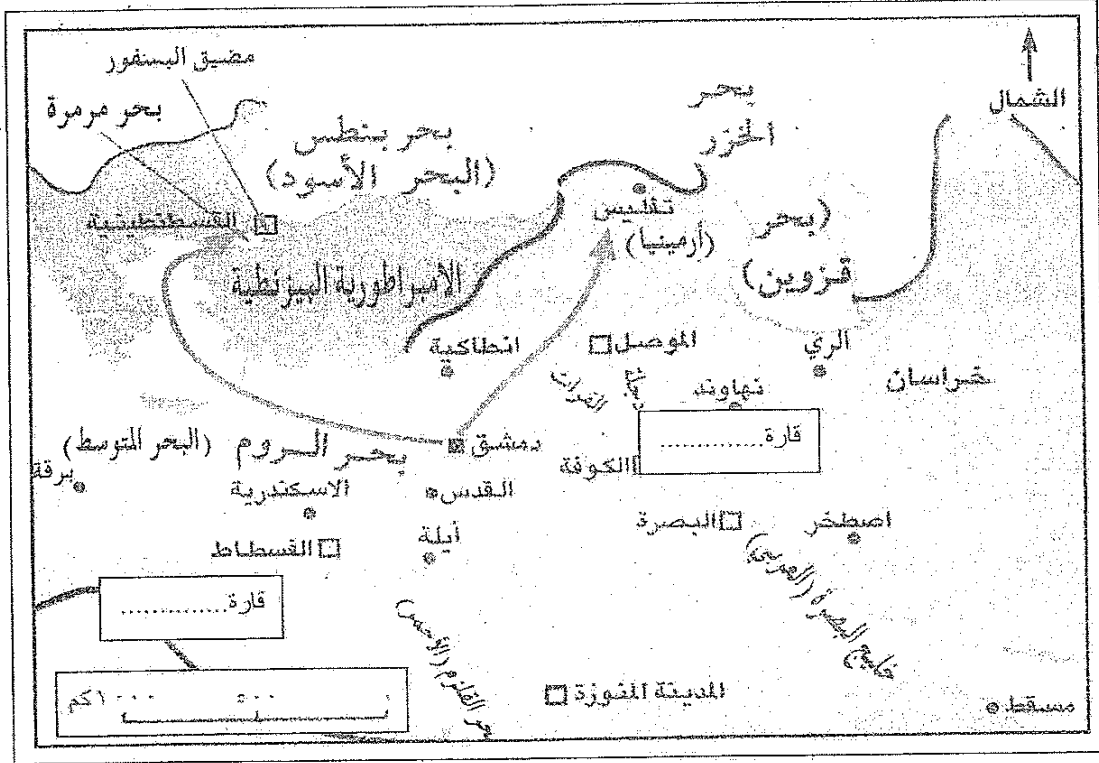
١- مجموعة من الأفراد يؤدون أعمالاً ضمن قواعد وقوانين محددة.

٢- كيس مصنوع من سعف النخيل مستطيل الشكل يُعبأ فيه التمر.

تابع الورقة الامتحانية للصف الخامس للفصل الدراسي الثاني لمادة الدراسات الاجتماعية

للعام الدراسي ١٤٣٣-١٤٣٤هـ / ٢٠١٢-٢٠١٣م _ الدور الأول

تابع السؤال الثالث: ثانياً: أمامك خريطة الفتوحات الإسلامية في شمالي الجزيرة العربية ، ادرسها جيداً ثم أجب عن الأسئلة التي تليها:

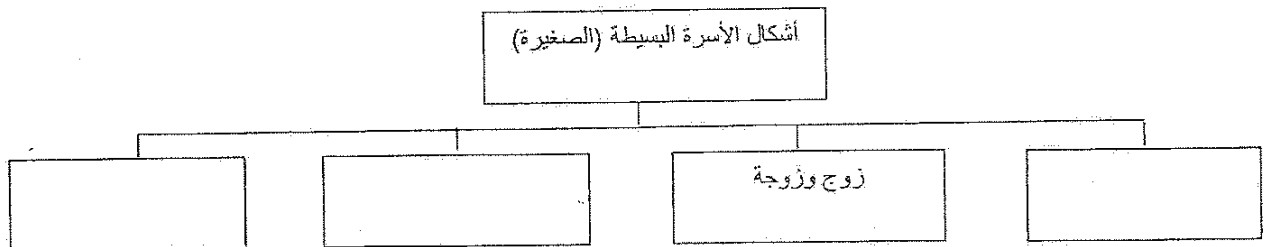


١- أكتب كلاً من قارة أفريقيا وآسيا في مكانيهما الصحيحين على الخريطة.

٢- سمّ المضيق الذي تقع عليه مدينة القسطنطينية.

٣- في أي جهة يقع البحر المتوسط (بحر الروم) بالنسبة لمدينة القسطنطينية؟

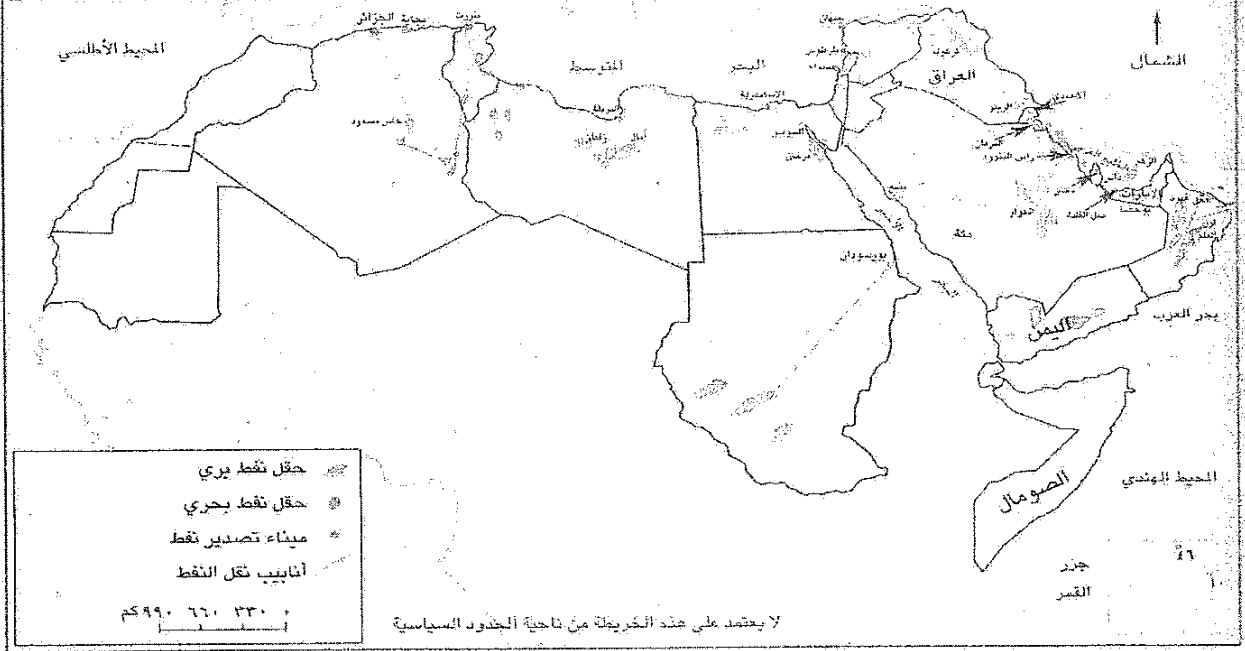
ثالثاً: أكتب في الشكل الآتي أشكال الأسرة البسيطة:



تابع الورقة الامتحانية للصف الخامس للفصل الدراسي الثاني لمادة الدراسات الاجتماعية

للعام الدراسي ١٤٣٣-١٤٣٤هـ / ٢٠١٢-٢٠١٣ م _ الدور الأول

السؤال الرابع: أولاً: أنظر خريطة توزيع النفط في الوطن العربي، ثم أجب عن الأسئلة التي تليها:



- ١- ما الدولة التي يوجد بها حقل الغوار النفطي؟
- ٢- أذكر اثنين من حقول النفط في ليبيا
- ٣- ما المسطح المائي الذي يقع عليه ميناء بنزرت؟

ثانياً: قارن بين الريف والمدينة من حيث أبرز مشكلات كل منهما، في الجدول الآتي:

مشكلات الريف	مشكلات المدينة

ثالثاً: صف الصناعات الآتية إلى صناعات استخراجية وأخرى تحويلية حسب الجدول التالي:

(صيد الأسماك - الاسمنت - تعليب الخضار - صناعة الأثاث - الملابس - قطع الأخشاب)

صناعات استخراجية	صناعات تحويلية

انتهت الأسئلة مع التمنيات بالتوفيق والنجاح

سلطنة عمان

وزارة التربية والتعليم

نموذج الإجابة للصف الخامس للفصل الدراسي الثاني لمادة الدراسات الاجتماعية
للعام الدراسي ١٤٣٣-١٤٣٤هـ / ٢٠١٢-٢٠١٣م _ الدور الأول

إجابة السؤال الأول: (١٢ درجة) موزعة وفق الجدول التالي:

رقم المفردة	رمز الإجابة الصحيحة	الإجابة الصحيحة	الدرجة	رقم الصفحة
١	د	قتيبة بن مسلم	٢	١٢
٢	د	هريما	٢	٦٤
٣	ج	مصر والسودان	٢	٦٩
٤	أ	القانون	٢	٣٩
٥	ج	المتدوس	٢	٧٤
٦	ج	الباطلة	٢	١١١
٧	ب	فلسطين	٢	٢٣
٨	د	الرياح	٢	٨٠

إجابة السؤال الثاني: (٨ درجات) موزعة كالتالي:

أولاً: ثلاث درجات، موزعة كالتالي:

الجزئية	الإجابة الصحيحة	الدرجة	الصفحة
أ	١هـ، (٢) هـ٩٢، (٤) هـ١٣٢، (٣) هـ١٤٥، (١)	٢	١٧-١٠ ٢٧ ٣٤
ب	حاجتهم إلى قراءة القرآن الكريم وفهم معانيه	١	٣٩

ثانياً: درجتان موزعة وفق الجدول الآتي:

الجزئية	الإجابة الصحيحة	الدرجة	الصفحة
ديوان الزمام	تدقيق الحسابات	نصف	٢٢
ديوان الخراج	جمع أموال الدولة	نصف	٢١
ديوان الجند	تسجيل أسماء أفراد الجيش	نصف	٢١
ديوان البريد	توصيل الرسائل	نصف	٢١

ثالثاً: درجتان موزعة وفق الجدول الآتي:

الجزئية	الإجابة الصحيحة	الدرجة	الصفحة
١	وجود مناطق مزدهرة بالسكان ومناطق قليلة السكان، ومناطق أخرى خالية من السكان	١	٥٠
٢	الطبيعية: المناخ- أشكال السطح- الموارد الطبيعية (أو ما يقيد المعنى) درجة البشرية: الحرفة السائدة- الهجرة- الخدمات. (أو ما يقيد المعنى) درجة ملاحظة: يكفي بعامل طبيعي، وعامل بشري.	٢	٥٢

إجابة السؤال الثالث: ٨ درجات موزعة كالتالي:

أولاً: درجتان موزعة كالتالي:

الجزئية	الإجابة الصحيحة	الدرجة	الصفحة
١	المؤسسة	١	١٠٦
٢	الجراب	١	١١٨

يتبع ص...٢

تابع نموذج الإجابة للصف الخامس للفصل الدراسي الثاني لمادة الدراسات الاجتماعية

للعام الدراسي ١٤٣٣-١٤٣٤هـ / ٢٠١٢-٢٠١٣م - الدور الأول

تابع إجابة السؤال الثالث:

تانياً: ٣ درجات، موزعة وفق الجدول التالي:

الصفحة	الدرجة	الإجابة الصحيحة	الجزئية
١٤	١ لكل نصف درجة		١
١٤	١		٢ السفور
١٤	١		٣ الجنوب

ثالثاً: ٣ درجات موزعة وفق الجدول التالي:

الصفحة	الدرجة	الإجابة الصحيحة	الجزئية
٩٦	١	زوج وزوجة أو لادهما	
	١	أب بمفرده مع أولاده	
	١	أم بمفردها مع أولادها	

إجابة السؤال الرابع: ودرجاته (٨) موزعة كالآتي:

أولاً: ٣ درجات ، وفق الجدول التالي:

الصفحة	الدرجة	الإجابة الصحيحة	الجزئية
٨٣	١	السعودية	١
٨٣	١	أمل - زليطن (لكل نصف درجة)	٢
٨٣	١	البحر المتوسط	٣

ثانياً: درجتان، موزعة وفق الجدول التالي:

الصفحة	الدرجة	الإجابة الصحيحة	الجزئية
٥٩	١	تدني الانتاجية الزراعية/انخفاض التاجية العمل/التصحر (أو ما يقيد المعنى) ملاحظة: يكتب بالتثنية	الريف
٥٥	١	نقص المسطحات الخضراء - عدم كفاية الإسكان - التلوث نقص الخدمات - الاختناقات المرورية - الأزدحام (أو ما يقيد المعنى) ملاحظة: يكتب بالتثنية	المدينة

ثالثاً: ٣ درجات موزعة وفق الجدول التالي:

الصفحة	الدرجة	الإجابة الصحيحة	الجزئية
٧٨	١	صيد الأسماك - قطع الأخشاب (لكل نصف درجة)	استخراجية
٧٨	٢	تعليب الخضار - صناعة الأثاث - الملابس - الاسمنت (لكل نصف درجة)	تحويلية

نهاية النموذج