

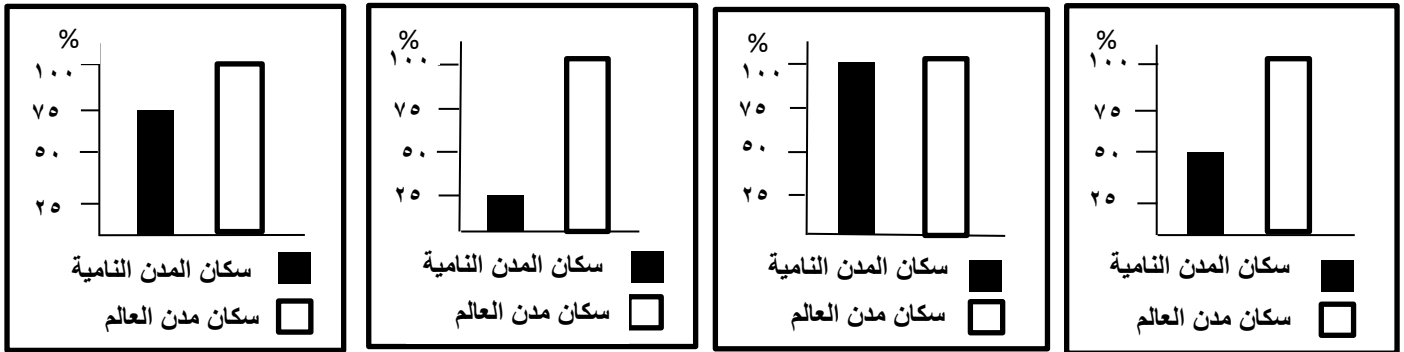
امتحان نهاية الفصل الدراسي الثاني لمادة الدراسات الاجتماعية للصف السابع للعام الدراسي (٢٠١٤ - ٢٠١٥ م)

الدور: الأول	الزمن : ساعة ونصف	تنبيه : الأسئلة في (٥) صفحات
اسم الطالب /	الصف /	

السؤال الأول: اختر الإجابة الصحيحة من بين البدائل المعطاة : (١٦ درجة)

- (١) النتيجة المترتبة على اختراع المحراث :
أ- الجمع والانتقاط
ب- الاستقرار في تجمعات
ج- ظهور المدن التجارية

(٢) الشكل البياني الذي يوضح نسبة سكان مدن الدول النامية بالنسبة لسكان المدن في العالم :



د -

ج -

ب -

أ -

(٣) المدينة الأسرع نموا في العالم هي :

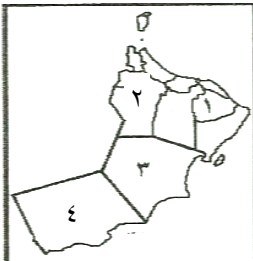
- أ - نيويورك ب- طوكيو ج- مكسيكو سيتي د- ساوباولو

(٤) يعود الفضل في اكتشاف النجم القطبي إلى الحضارة :

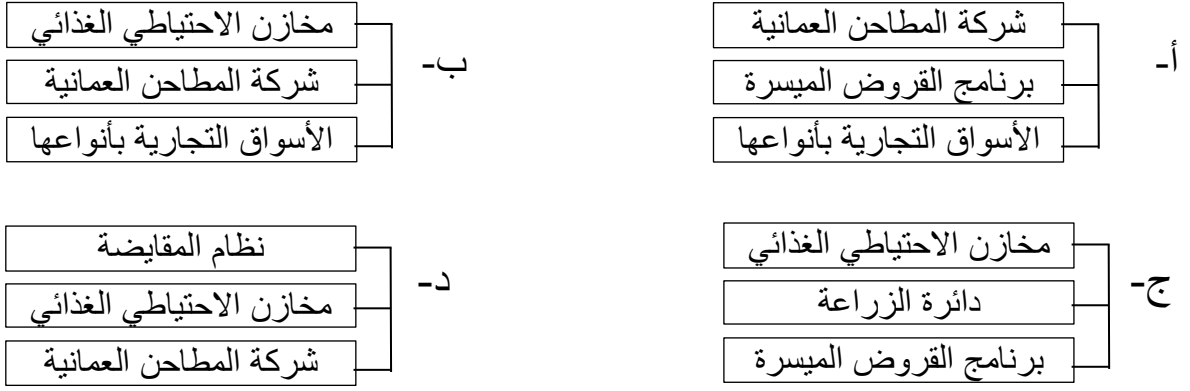
- أ- الأمورية ب- الكنعانية ج- الفينيقية د- العمورية

(٥) الرقم الدال على المحافظة التي عقدت فيها ندوة التصحر عام ٢٠٠٢م :

- أ- ١ ب- ٢ ج- ٣ د- ٤



٦) تساهم عملية الإنتاج والاستيراد من الخارج في توفير المواد الغذائية الأساسية في السلطنة من خلال دور :



٧) تعرضت الدولة البابلية الثانية في ظل حكم الملوك الضعاف لـ :

أ- غزو الفرس ب- غزو الهكسوس ج- غزو الأراميين د- غزو الكنعانيين



٨) يمثل الشكل المقابل تاج :

أ- مصر العليا ب- مصر الوسطى
ج- الموحد د- مصر السفلى

(٨ درجات)

السؤال الثاني :

أولاً: عرف المفاهيم التالية :

١- التراجع الحضري

.....

٢- الكتابة المسمارية

.....

ثانياً : اجب عما يلي :

١- قارن بين كل من مجال التخطيط والمساحة و مجال الإسكان الاجتماعي من حيث ما يلي :

وجه المقارنة	مجال التخطيط والمساحة	مجال الإسكان الاجتماعي
الخدمات التي تقدمها الحكومة	- -	- -

٢- فسر (يواجه سكان المدن الكبرى في الدول النامية صعوبة الحصول على المياه الصالحة للشرب)

.....
.....

ثالثا :

١- صنف الملوك التالية اسمائهم (احمس - حتشبسوت - خفرع - اشوربانيبال - نارام سن - حمورابي)
وفقا للمنجزات الحضارية التالية :

اسم الملك	المنجزات
	جمع علوم البابليين وحفظها في مكتبة نينوى
	أمر بنحت تمثال ابو الهول
	وصول قواته الى السواحل الشرقية لشبه الجزيرة العربية
	اصدر قوانين خلدت اسمه في التاريخ
	تمكن من طرد الهكسوس بمساعدة أمراء طيبة
	إرسال حملة تجارية الى بلاد بونت

(٨ درجات)

السؤال الثالث :

أولا : أجب عما يلي :

١- اذكر اثنين من اهمية الطرق بالنسبة للإنسان والدولة :

.....
.....

٢- عدد خصائص الريف .

.....
.....

ثانيا : ١- اذكر نتيجة واحدة لكل من :

أ- سيطرة الأموريين على الطرق التجارية التي تمر بمدينتهم ماري .

.....

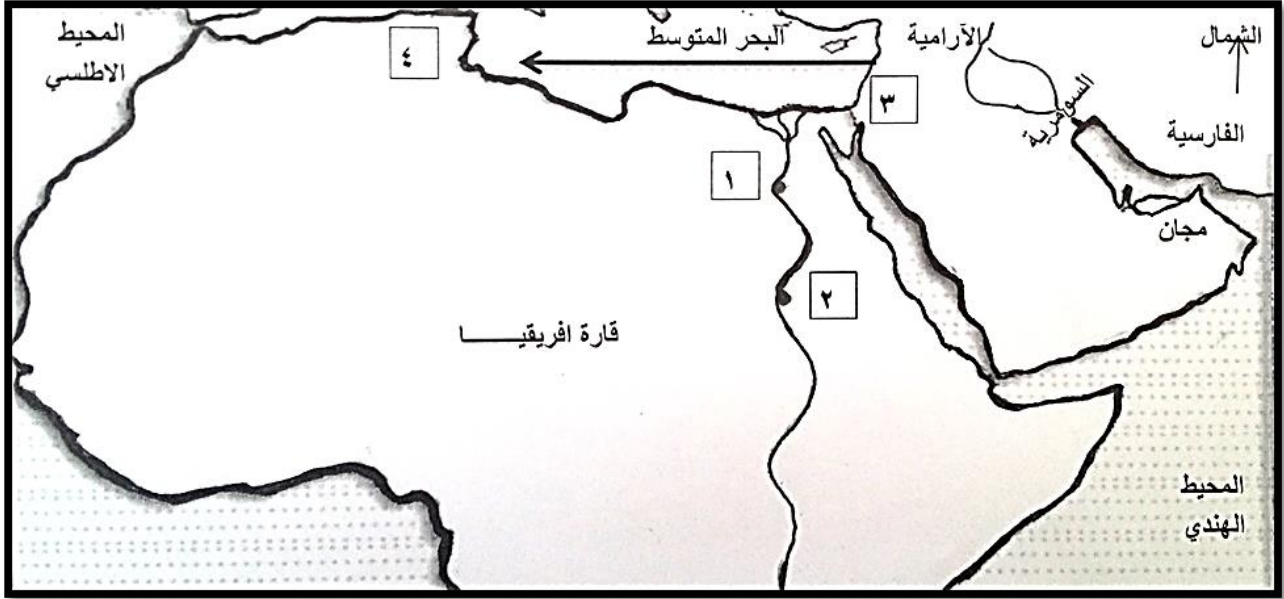
ب- ازدحام الطرق بالسيارات في المدن الكبرى من الناحية الاقتصادية .

.....

ج- الهجرة من الريف الى المدن .

.....

ثالثا : ١- امامك خريطة الوطن العربي ادرسها جيدا ثم أجب عن الأسئلة التي تليها :



- أ- استخرج من الخريطة حضارة قامت في بلاد الرافدين
- ب- الرقم الدال على عاصمة الحضارة المصرية في الوجه البحري
- ج- الرقم الدال على موقع معركة مجدو
- د- من خلال السهم الوارد في الخريطة ما الجهة الجغرافية للامتداد الفينيقي

(٨ درجات)


السؤال الرابع :

أولا : أجب عما يلي :


١- اذكر اثنين من الأعمال المعمارية للملك رمسيس الثاني .

.....
.....

٢- اكتب اسفل الصور التالية اسم المعلم الحضاري الدال عليها :



ب-

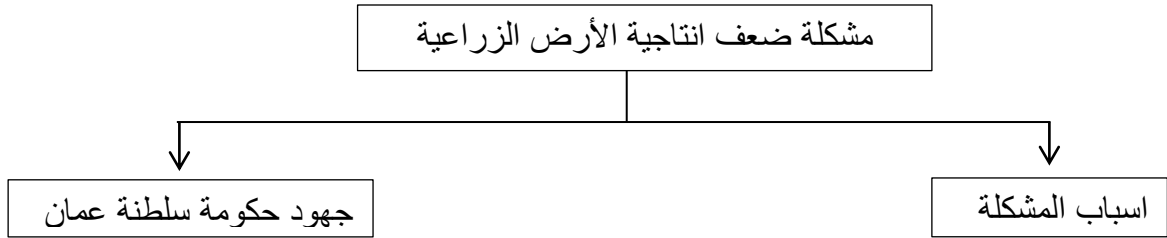


أ-

ثانياً :

١- ما المقصود بالتنمية الريفية

٢- يواجه الريف في الدول النامية بعض المشكلات الاقتصادية في ضوء ذلك اكمل خريطة المفاهيم التالية :



أ-
ب-

أ-
ب-

ثالثاً :

١- ما العوامل الطبيعية التي جعلت من الفينيقيين أول أمة بحرية في التاريخ . (يكتفى بذكر عامل واحد)

.....

٢- كيف كانت نهاية الدولة الآرامية في بلاد الشام ؟

.....
.....

(انتهت الاسئلة مع الدعاء للجميع بالتوفيق والنجاح)

نموذج اجابة امتحان نهاية الفصل الدراسي الثاني لمادة الدراسات الاجتماعية بمحافظة شمال الشرقية

للعام الدراسي (٢٠١٤-٢٠١٥)

الصف / سابع	الدور / الأول	الدرجة / ٤٠	تتبيه النموذج في (٣) صفحات
-------------	---------------	-------------	------------------------------

السؤال الأول (١٦ درجة لكل مفردة درجتان)

المفردة	١	٢	٣	٤	٥	٦	٧	٨
الرمز	ب	أ	د	ج	د	ب	أ	د
الاجابة	الاستقرار في تجمعات	التمثيل البياني %٥٠	ساوباولو	الفينيقية	رقم ٤	شكل (ب)	غزو الفرس	مصر السفلى
الصفحة	١٢	٢٣	٢٥	٦٧	٢٢	٣٠	٥٩	٤٠
الدرجة	٢	٢	٢	٢	٢	٢	٢	٢

(٨ درجات)

السؤال الثاني :

المفردة	الإجابة	الدرجة	الصفحة
اولا	١-التراجع الحضري : الهجرة العكسية من المدينة الى الريف ١- الكتابة المسمارية : هي الكتابة على الواح من الطين قبل ان تجف باستخدام أداة من العظم او الخيزران تشبه المسمار	درجة درجة	ص٢٣- ص٥٣-
ثانيا	١- وجه المقارنة الخدمات التي تقدمها الحكومة ١- وضع المخططات السكنية ٢- توزيع الأراضي السكنية على المواطنين ٢- بسبب ضعف شبكات المياه وشمولها لأجزاء صغيرة من المدن - وضعف خدمات الصرف الصحي مما يؤدي الى فيضانها لا سيما عند سقوط الأمطار (يكتفي بذكر واحد)	درجتان لكل جزئية نصف درجة درجة	ص٣٠- ص٣١- ص٢٨-
ثالثا	المنجزات جمع علوم البابليين وحفظها في مكتبة نينوى أمر بنحت تمثال ابو الهول وصول قواته الى السواحل الشرقية لشبه الجزيرة العربية اصدر قوانين خلدت اسمه في التاريخ تمكن من طرد الهكسوس بمساعدة أمراء طيبة إرسال حملة تجارية الى بلاد بونت	ثلاث درجات لكل مفردة نصف درجة	من ص٣٨- الى ص٥٩-

		السؤال الثالث	
		(٨ درجات)	
المفردة	الإجابة	الدرجة	الصفحة
اولا	<p>١- تربط بين التجمعات السكانية بالمدن – تربط مواقع الإنتاج بأسواق الاستهلاك والتصدير- تعد مؤشرا على التحضر في الدولة – ربط الدولة بالدول المجاورة . (يكتفى بذكر اثنين)</p> <p>٢- توافر الإمكانيات الطبيعية للإنتاج الزراعي – توافر بعض الخامات الزراعية والحيوانية المستخدمة في الصناعة – انتشار نمط الأسرة الكبيرة – انتشار الأسر الكبيرة والممتدة – قوة العلاقات الأسرية بين أفراد المجتمع الريفي (يكتفى بذكر اثنين)</p>	<p>درجة لكل نصف</p> <p>درجتان لكل درجة</p>	<p>ص ٣٥-</p> <p>ص ١٤-</p>
ثانيا	<p>أ- جلبت عليهم الأخطار و عرضتهم للاحتلال من قبل الأكاديين والبابليين والفراعنة (يكتفى بنتيجة واحدة)</p> <p>ب- ضياع ساعات العمل – تأخر نقل الركاب (يكتفى بنتيجة واحدة)</p> <p>ج- عرقلة تنمية القطاع الزراعي بسبب فقد الريف للكثير من القوى العاملة وبالتالي يقل الانتاج ودخل الفرد في الريف – انتقال أكثر الأشخاص المتميزين والطموحين من الريف – تغير نمط الأسرة من أسرة كبيرة الى صغيرة – التحول من العمل الزراعي الى أعمال مهنية أخرى – الضغط على الخدمات العامة في المدن (يكتفى بنتيجة واحدة)</p>	<p>درجة</p> <p>درجة</p> <p>درجة</p>	<p>ص ٦٣-</p> <p>ص ٢٩-</p> <p>ص ١٨-</p>
ثالثا	<p>أ- السومرية</p> <p>ب- ١</p> <p>ج- ٣</p> <p>د- الغربية</p>	<p>درجتين لكل نصف</p>	

المفردة	الإجابة	الدرجة	الصفحة
اولا	<p>١- نحت معبدين في الصخر عند أبو سنبل جنوبي مصر - أتم بهو الأعمدة في معبد الكرنك - أقام عدد كبير من المسلات - التماثيل الضخمة - شيد عاصمة جديدة لمصر شرقي الدلتا (يكتفى بذكر اثنين)</p> <p>٢- أ- اهرامات الجيزة ب- بوابة عشتا</p>	درجتين درجة لكل نصف	ص٤٩- ص٤٣- ص٥٩-
ثانيا	<p>١- التنمية الريفية : هي خطط يتم تصميمها بهدف تطوير الحياة الاقتصادية والاجتماعية لمجموعة معينة من الناس في المناطق الريفية .</p> <p>٢- (اسباب المشكلة) :</p> <p>قلة الأمطار - هجرة السكان لهذه المهنة والعمل بمهن اخرى في المدن او القرى .</p> <p>(جهود حكومة سلطنة عمان) :</p> <p>دعم القطاع الزراعي تلافيا لحدوث اي مشكلة - تقديم الدعم للمزارعين المتمثل في اجهزة الري - تقديم البذور والشتلات - تقديم الإرشاد الزراعي - وضع برامج لمكافحة الآفات الزراعية - تنفيذ ندوات تخدم القطاع الزراعي .</p> <p>(يكتفى بذكر اثنين - او اي جهود مناسبة قامت بها الحكومة وتعالج المشكلة يذكرها الطالب)</p>	درجة لكل نصف درجة لكل نصف	ص١٨- ص٢٢-
ثالثا	<p>١- بسبب جبال لبنان التي كانت تعيق التجارة مع داخل سوريا - وفرة الأخشاب بها ساعدتهم على صناعة السفن التي عبروا بها البحر .</p> <p>٢- ضعفت نتيجة للحروب المستمرة بين ممالكها المتعددة وسقطت بسيطرة الأنباط على الأردن والآشوريين على دمشق</p>	درجة لكل نصف درجة	ص٦٦- ص٦٥-

--	--	--	--