



سلطنة عمان
وزارة التربية والتعليم
المديرية العامة للتربية والتعليم
لمحافظة شمال الباطنة

امتحان مادة الدراسات الاجتماعية الصف الثامن
الفصل الدراسي الأول / الدور الأول

للعام الدراسي ١٤٣٣/١٤٣٤ هـ - ٢٠١٢/٢٠١٣ م

اسم الطالب : الصف :

الزمن : ساعة ونصف

المادة : الدراسات الاجتماعية

تنبيه : الأسئلة في اربع صفحات

(الإجابة في نفس الورقة)

أجب عن جميع الأسئلة الآتية :

السؤال الأول : ضع دائرة حول رمز الإجابة الصحيحة من بين البدائل المعطاه :-

(١) بويع الإمام أحمد بن سعيد في العام الميلادي :

(أ) ١٧٤٤ (ب) ١٧٥٤ (ج) ١٧٦٤ (د) ١٧٧٤

(٢) يُعد السيد سعيد بن سلطان أول من ادخل إلى زنجبار زراعة :

(أ) الجوافة (ب) المانجو (ج) القرنفل (د) المطاط

(٣) سفينة عمانية زارت ميناء مرسيليا الفرنسي عام ١٨٤٩م:

(أ) فكتوريا (ب) شاه علم (ج) ليفربول (د) كارولين

(٤) تيار بحري يعتبر من التيارات الدافئة :

(أ) الكناري (ب) الخليج (ج) بنجويلا (د) بيرو

(٥) يتضمن الباب السابع من النظام الأساسي للدولة :

(أ) مجلس عمان (ب) رئيس الدولة (ج) الأحكام العامة (د) المبادئ الموجهة

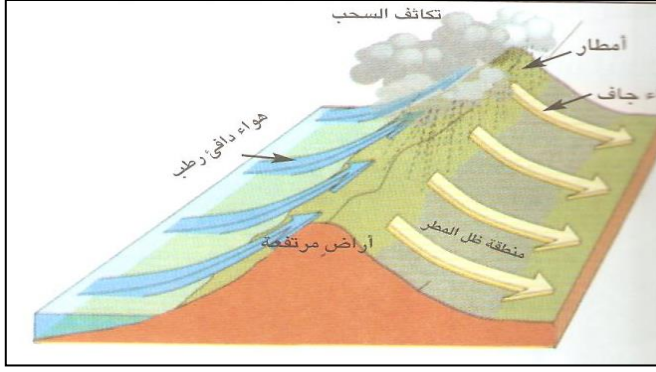
(٦) يشترط في المرشح لعضوية مجلس الشورى أن لا يقل سنه عن :

(أ) ٢٥ سنة (ب) ٣٠ سنة (ج) ٣٥ سنة (د) ٤٠ سنة



(٧) من خلال الخريطة التي أمامك نستنتج أن القارة الوحيدة التي لا تظهر فيها صحاري هي قارة :

(أ) أوروبا (ب) آسيا (ج) أستراليا (د) أفريقيا

تابع السؤال الأول :

٨) يبين الشكل الذي أمامك أمطار :

- أ) إعصارية (ب) تصاعدية (ج) تضاريسية (د) منخفضات

السؤال الثاني :

أ) عرف المقصود بكلٍ من :
١- المدى الحراري

.....
.....

٢- التنظيم الإداري

.....
.....

ب) رتب الأحداث التالية من الأقدم إلى الأحدث :
(تشكيل مجلس الدولة / تشكيل مجلس الشورى / صدور النظام الأساسي للدولة)

- ١-
٢-
٣-

ج) " حرص السيد سعيد بن سلطان في عهده على إقامة علاقات سياسية واقتصادية مع بريطانيا "
دلل على ذلك.

.....
.....
.....
.....

السؤال الثالث :

أ) أذكر أهم خصائص المناخ في الإقليم الاستوائي .

.....
.....
.....
.....

تابع السؤال الثالث :

(ب) ماذا تستنتج من مقولة صاحب الجلالة السلطان قابوس المعظم
" إن الإنسان هو أداة التنمية وصانعها وهو إلى جانب ذلك هدفها وغايتها " ؟

.....

.....

.....

.....

(ج) أمامك خريطة لأحد الأقاليم المناخية في العالم ادرسها جيدا ثم أجب عن ما يلي :



١ - سم الإقليم المناخي المبين في الخريطة .

.....

٢ - في أي جهة من قارة أمريكا الشمالية يظهر هذا المناخ ؟

.....

٣ - أين يظهر هذا المناخ في سلطنة عمان ؟

.....

٤ - ما سبب سقوط الأمطار شتاءً في هذا الإقليم ؟

.....

.....

السؤال الرابع :

أ) انظر إلى الصورة التي أمامك ومن خلالها بين أهمية الجولات السلطانية السامية التي يقوم بها جلالة السلطان قابوس المعظم لولايات ومحافظات السلطنة .

.....

.....

.....

.....

.....

ب) صف قوة الأسطول العماني في عهد السيد سعيد بن سلطان .

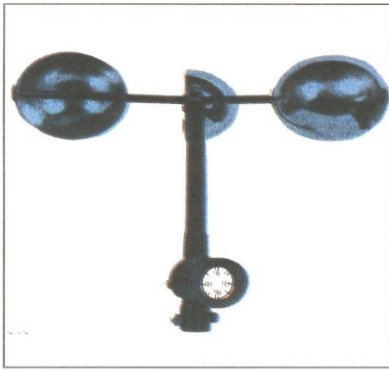
.....

.....


.....

.....

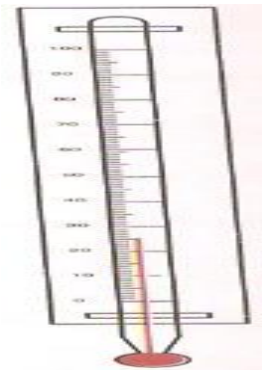
ج) أمامك صور لمجموعة من الأجهزة أدرسها جيداً و أجب عما يلي :



٣



٢



١

١- ما اسم الجهاز المشار إليه بالرقم (١) ؟

٢- قارن بين كل من الجهاز المشار إليه بالرقم (٢) و الجهاز المشار إليه بالرقم (٣) من حيث الاستخدام .

.....

.....

.....

انتهت الأسئلة مع تمنياتنا لكم بالنجاح والتوفيق،،،