



سلطنة عمان

وزارة التربية والتعليم

الديرة العامة للتعليم العالي والبحث العلمي

امتحان الصف الخامس

للعام الدراسي ١٤٣٦/١٤٣٧هـ - ٢٠١٥/٢٠١٦م

الفصل الدراسي الأول - الدور الأول

عدد الصفحات : ٦ صفحات

المادة : الدراسات الاجتماعية

* الإجابة في الورقة نفسها

زمن الإجابة : ساعة ونصف

اسم الطالب	
المدرسة	الشعبة

(التوقيع بالاسم)		الدرجة بالحروف بالأحمر	الدرجة بالأرقام بالأحمر	السؤال
المصحح (بالأخضر)	المصحح (بالأحمر)			
				1
				2
				3
				4
				5
				6
	مراجعة الجمع والتشطيب (بالأزرق)	جمعه (بالأحمر)		المجموع الكلي

يعتمد ،،،

المعلم الأول

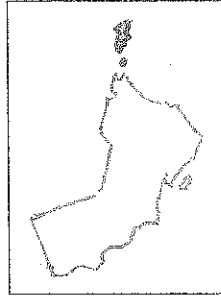
تعليمات وضوابط التقدم للامتحان

- ١- الحضور إلى قاعة الامتحان قبل ربع ساعة من بدء الامتحان .
- ٢- يمنع إدخال الكتب الدراسية أو الكراسات أو المذكرات داخل قاعة الامتحان ، كما يمنع إدخال الهواتف المحمولة أو أي شيء له علاقة بالامتحان .
- ٣- التقيد بالزي الرسمي (الدشداشة البيضاء والكمة للطلاب والمصر للدارسين ، والزي المدرسي للطالبات واللباس العماني للدارسات ، ويمنع النقاب داخل قاعة الامتحان .
- ٤- لا يسمح للمتقدم المتأخر عن موعد بداية الامتحان بالدخول إلا إذا كان التأخير بعذر قاهر يقبله مدير المدرسة وفي حدود ربع ساعة .
- ٥- ضرورة التأكد من عدد أوراق الأسئلة قبل البدء بالإجابة .
- ٦- استخدام قلم الحبر (الأزرق ، الأسود) للإجابة عن الأسئلة مع عدم استخدام

(المزبل)

السؤال الأول : ضع دائرة حول رمز الإجابة الصحيحة لكل مفردة من المفردات التالية :

١٦



١- الدولة التي تمثلها الخريطة المقابلة :

- أ- السعودية
ب - الجزائر
ج - عمان
د - السودان

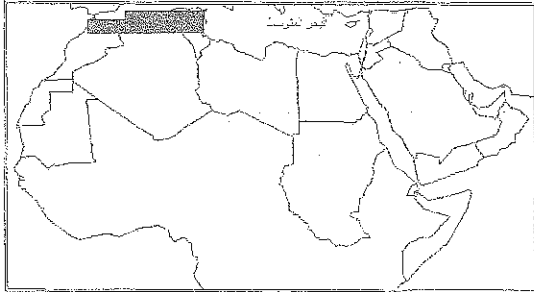
٢ - تقع صحراء السبعين في دولة :

- أ- السعودية
ب - الامارات
ج- عمان
د - اليمن

٣- العام الهجري الذي حدثت فيه غزوة مؤتة:

- أ - ٧
ب - ٨
ج - ٩
د - ١٠

٤- المناخ السائد في المنطقة المظللة على الخريطة هو :




- أ- الموسمي
ب - المتوسطي
ج - القطبي
د - الصحراوي

٥- أول خليفة للمسلمين بعد وفاة الرسول صلى الله عليه وسلم هو :

- أ- أبو بكر الصديق
ب - عمر بن الخطاب
ج - عثمان بن عفان
د - علي بن ابي طالب

٦ - المشكلة التي تتعرض لها النباتات الطبيعية في الشكل المقابل هي:



- أ- انجراف التربة
ب - الرعي الجائر
ج- قطع الأشجار
د- الزراعة غير المنظمة

٧- تصنف هضبة الحسا في الأردن من الهضاب :

أ- الحجرية ب- الحصوية ج- الرملية د- الحجرية الرملية

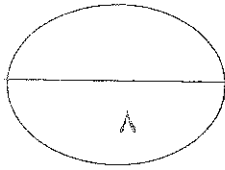
٨- يطلق على المجاري المائية مؤقتة الجريان اسم:

أ- الأودية ب- الأفلاج ج- الآبار د- العيون

السؤال الثاني :

أولا : عرف المفاهيم التالية :

١ / ديوان الجند:



٢ / الجروف الصخرية :

ثانيا :

١ / اذكر دليلا على اتصال العرب بمملكة اكسوم

٢ / وضح تأثير اكتشاف النفط والغاز الطبيعي على حياة الصحراء في الوطن العربي .

ثالثا: أ/- صنف الحكام حسب الدول التي حكموها :

(عبد وجيفر ابني الجلندي - هرقل - المنذر الغساني - المقوقس)

اسم الدولة	الغساسنة	الروم	مصر	عمان
اسم الحاكم				

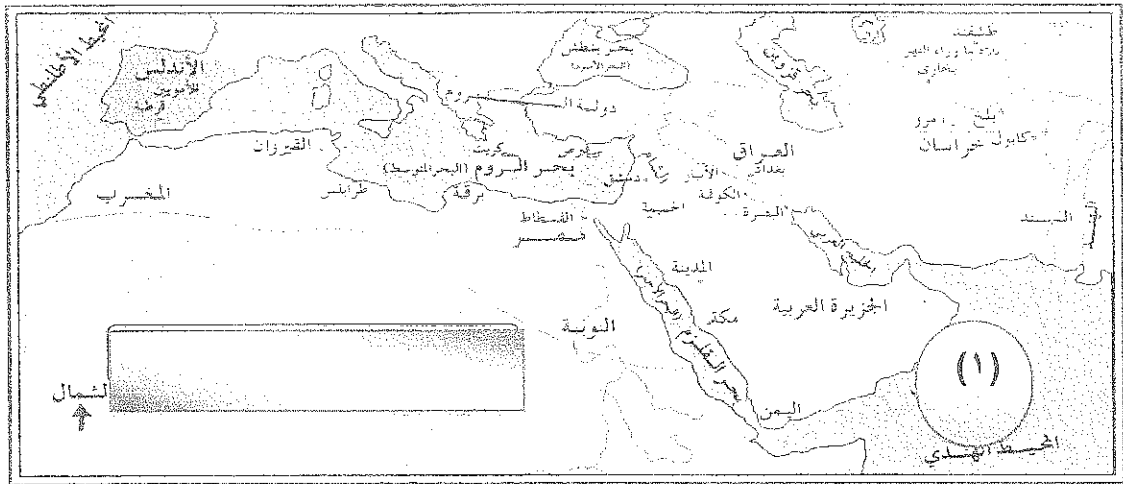
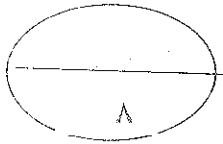
ب - اذكر اثنين لكلا من :

١/ مشكلات التربة

٢/ شروط صلح الحديبية

السؤال الثالث :

أولا : من خلال الخريطة التي أمامك .. أجب عن الأسئلة التالية :



١/ اسم المسطح المائي المشار اليه بالرقم (١)

٢/ عاصمة الدولة الاسلامية في عهد الرسول صلى الله عليه وسلم :

٣/ استخرج من الخريطة واحدة من الأمصار التي ظهرت في عهد الخلفاء الراشدين

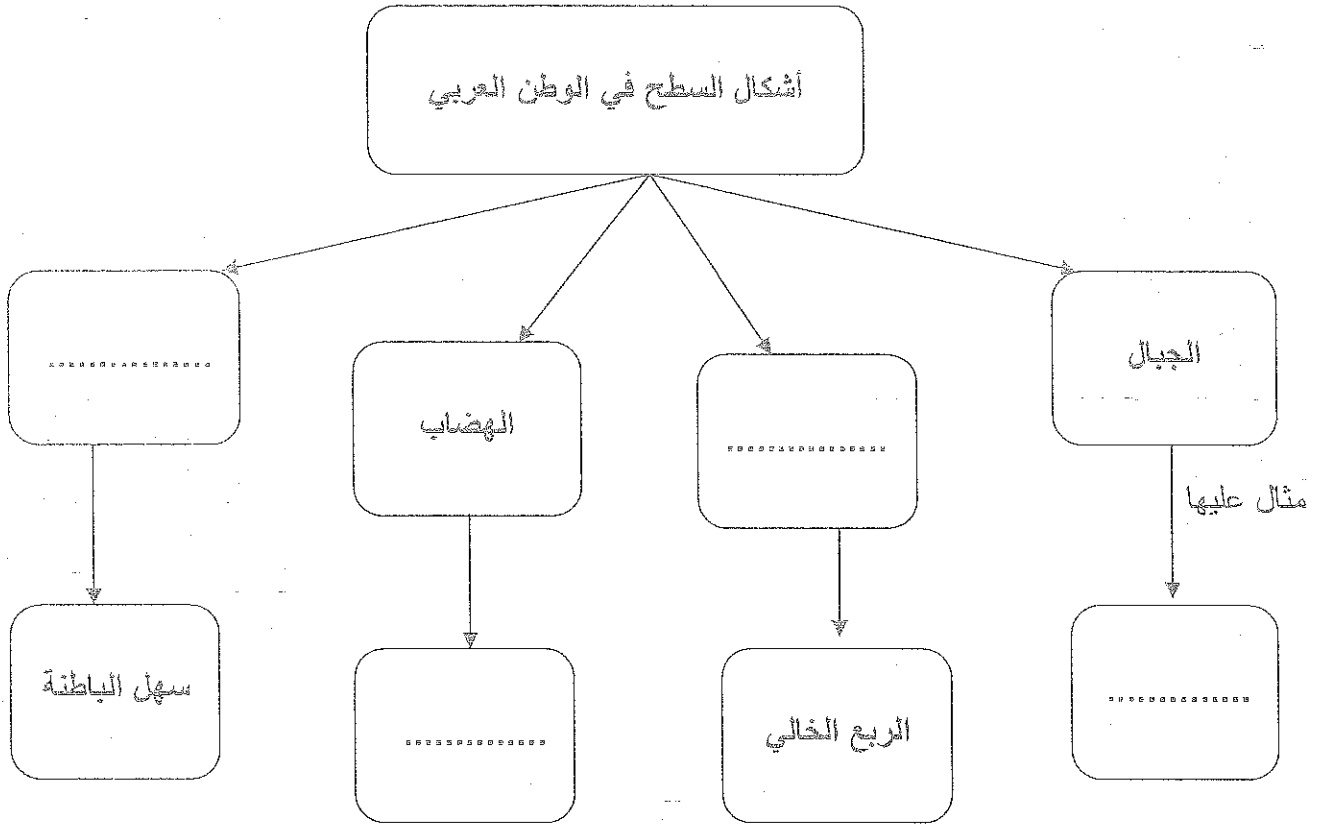
٤/ الدولة التي يمر بها نهر النيل

٥/ وقع على الخريطة :

أ- نهر بجلة .

ب- مضيق هرمز

ثانيا / أكمل المخطط الآتي :

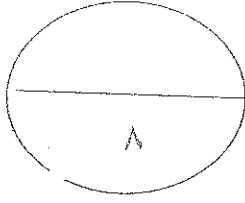


ثالثا / :

١ - بم تفسر: انشاء السدود على الأنهار والأودية في الوطن العربي .

٢ - اعلل : اختلاف نوعية النباتات وكثافتها في الوطن العربي .

ب/ ما النتائج المترتبة على سقوط كميات غزيرة من الامطار على الصحاري في فترات زمنية قصيرة .



السؤال الرابع :

أولاً :

أ/ قارن بين السهول الساحلية والسهول الفيضية (الرسوبية) من حيث :

وجه المقارنة	السهول الساحلية	السهول الفيضية (الرسوبية)
طريقة تكونها		
مثال لكل منها		

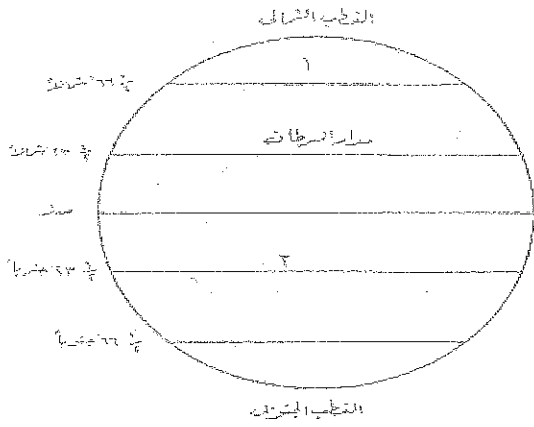
ب / بعد استقرار الرسول صلى الله عليه وسلم في المدينة المنورة بدأ باتخاذ الإجراءات اللازمة لتنظيم الدولة ، فاشترى مكانا وبنى عليه مسجدا للمسلمين .

من خلال الفقرة السابقة ...أجب عن الأسئلة التالية :

١- بين أهمية المسجد بالنسبة للمسلمين في عهد الرسول صلى الله عليه وسلم .

٢- ما اسم أول مسجد بني في الاسلام .

ثانياً:



أ / ادرس الشكل التالي ثم اجب عن الاسئلة التي تليه:


١) اسم الدائرة المشار اليها بالرقم (١)

٢) اسم المدار المشار اليه بالرقم (٢)

ب - ما اسم الدائرة التي تقسم الكرة الأرضية الى قسم شمالي وجنوبي .

.....

٢ / ارسم شكلاً يوضح الكثبان الرملية مع توضيح اتجاه الرياح.



ثالثاً:

اقترح حلاً واحداً للمشكلات التالية:

أ - العجز المائي

ب - زحف الرمال

انتهت الاسئلة مع تمنياتنا لكم بالتوفيق

النموذج في ٥ صفحات

اجابة السؤال الأول : ٦ درجة

رقم المفردة	١	٢	٣	٤	٥	٦	٧	٨
رمز الاجابة	ج	د	ب	ب	أ	ج	ج	أ
الصفحة	١٥ ص	٣٥ ص	٩٠ ص	٤٢ ص	٩٤ ص	٦٣ ص	٣٣ ص	٥٥ ص
الاجابة	عمان	اليمن	٨	المتوسطي	أبو بكر الصديق	قطع الأشجار	رملية	الأودية
الدرجة	٢	٢	٢	٢	٢	٢	٢	٢

اجابة السؤال الثاني : ٨ درجات

أولاً : درجتان

الجزئية	الاجابة الصحيحة	الدرجة المقدره	الصفحة
١	ديوان تسجل فيه أسماء الجنود المقاتلين وتحدد أعطياتهم (رواتبهم)	درجة واحدة	٩٨
٢	جبال صخرية عالية إما قريبة من البحر أو ملاصقة له / الحافة الصخرية المواجهة للبحر مباشرة	درجة واحدة	٢٠

ثانيا: درجتان

الصفحة	الدرجة المقدرة	الاجابة الصحيحة	الجزئية
٨١	درجة واحدة	وجود الكثير من الكلمات العربية في لغتهم / ممارسة التجارة مع شبه الجزيرة العربية (يكتفى بواحدة فقط)	١
٤٩	درجة واحدة	بعد اكتشاف النفط والغاز الطبيعي والمعادن ظهرت مدن حديثة في الصحراء مثل الظهران في السعودية / الاحمدى في الكويت / هيماء في سلطنة عمان (يكتفى بذكر مدينة واحدة)	٢

ثالثا : درجتان ..الصفحة ٩١

اسم الدولة	الغساسنة	الروم	مصر	عمان
اسم الحاكم	المنذر الغساني	هرقل	المقوقس	جيفر وعبد ابني الجندي

ب/ درجتان

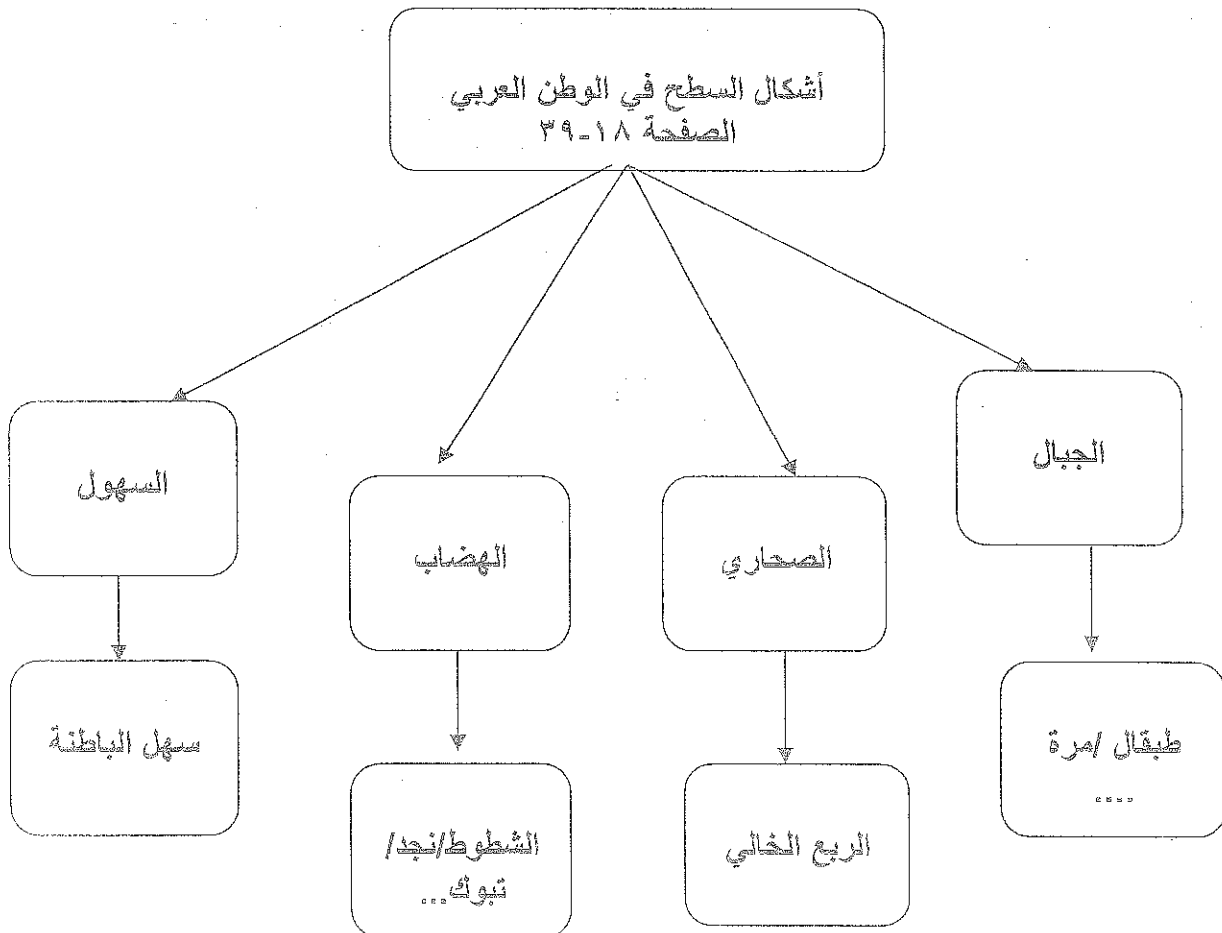
الصفحة	الدرجة المقدرة	الاجابة الصحيحة	الجزئية
٦١	درجة لكل مفردة نصف درجة	الملوحة / الانجراف / تدهور خصوبة التربة (يكتفى بذكر اثنتين)	١
٨٩	درجة	وقف الحرب بين قريش والمسلمين مدة عشر سنوات / يعيد الرسول من يأتيه مسلما بدون اذن وليه/ لا تلتزم قريش بمن يأتيها من عند محمد مرتدا عن الاسلام / للقبائل العربية حرية التحالف مع قريش أو مع المسلمين / يرجع الرسول والمسلمون دون زيارة البيت الحرام والعودة في العام القادم (يكتفى بذكر اثنتين)	٢

اجابة السؤال الثالث: ٨ درجات

أولاً: ٣ درجات

الصفحة	الدرجة المقدرة	الاجابة الصحيحة	الجزئية
٨١	درجتان	بحر العرب	١
٨٦	لكل مفردة نصف درجة	المدينة المنورة	٢
٩٦		القساط/ البصرة / الكوفة (يكتفى بواحدة فقط)	٣
٥٦		مصر	٤
٥٦	درجة	تحديد نهر دجلة	٥
١٦	لكل مفردة نصف درجة	مضيق هرمز على الخريطة	

ثانياً: درجتان (لكل مفردة نصف درجة)



ثالثًا: ٣ درجات

الصفحة	الدرجة المقدره	الاجابة الصحيحة	الجزئية
٥٥	درجة (لكل مفردة نصف درجة) (درجة)	- ضبط الفيضانات/حجز المياه وتوفيرها لفترات الجفاف/تزويد المدن بماء الشرب والتوسع الصناعي(يكتفى بذكر اثنتين)	١
٦٢	درجة (لكل مفردة نصف درجة) (درجة)	أ - وفرة المياه - نوعية التربة - الحرارة	٢
٤٦	درجة (لكل مفردة نصف درجة) (درجة)	ب - تكون السيول والادوية الجارفة / الفيضانات المدمرة أحيانا	

اجابة السؤال الرابع: ٨ درجات

أولا : درجتان ..الصفحة ١٨-٢٤

وجه المقارنة	السهول الساحلية	السهول الفيضية (الرسوبية)
طريقة تكونها	تتكون من مواد حصوية أو رملية ترسبها البحار والادوية أو من الطمي ترسبه الأنهار	يقوم النهر بحمل كميات من الرمل والطيني ويلقي به عند المصب / رواسب الأنهار
مثال لكل منها	الجفارة - السبو - تهامة- سهل الباطنة - سهل صلالةص ١٨ (يكتفى بواحد)	دلتا نهر النيل - شبلي -جوبا - دجلة - الفرات (يكتفى بواحد)

ب/ درجة ونصف

الصفحة	الدرجة المقدره	الاجابة الصحيحة	الجزئية
٨٧	درجة لكل مفردة نصف درجة	العبادة - تعليم القراءة والكتابة - تفسير القرآن - استماع أحاديث الرسول (يكتفى بذكر اثنتين)	١
	نصف درجة	قباء	٢

ثانيا: درجتان ونصف

الصفحة	الدرجة المقدره	الاجابة الصحيحة	الجزئية
١٣	درجة لكل مفردة نصف درجة	١- الدائرة القطبية الشمالية ٢- مدار الجدي	أ
	نصف درجة	دائرة الاستواء	ب
٣٧	درجة (نصف درجة للرسم ونصف درجة لتحديد اتجاه الرياح)	رسم الكتيب الهلالي	٢

ثالثا / درجتان

الصفحة	الدرجة المقدره	الاجابة الصحيحة	الجزئية
٥٧	درجة لكل مفردة نصف درجة	تحلية مياه البحر - معالجة مياه الصرف الصحي والمياه العادمة	أ
٣٩	درجة لكل مفردة نصف درجة	التشجير (الحزام الأخضر) - مصدات من الحجارة	ب

نهاية نموذج الاجابة