



امتحان الصف الخامس
للعام الدراسي ١٤٣٦/١٤٣٧ هـ - ٢٠١٥/٢٠١٦ م
الفصل الدراسي الأول - الدور الأول

- المادة: الدراسات الاجتماعية
- زمن الإجابة: ساعة ونصف
- عدد صفحات اسئلة الامتحان: (٤).
- الإجابة في الورقة نفسها.

اسم الطالب	
المدرسة	
الصف	

السؤال	الدرجة بالأرقام (بالأحمر)		الدرجة بالحروف (بالأحمر)	(التوقيع بالاسم)	
	آحاد	عشرات		المصحح (بالأحمر)	المدقق (بالأخضر)
١					
٢					
٣					
٤					
المجموع			جمعه (بالأحمر)	مراجعة الجمع والتشطيب (بالأزرق)	
المجموع الكلي					

امتحان الصف الخامس

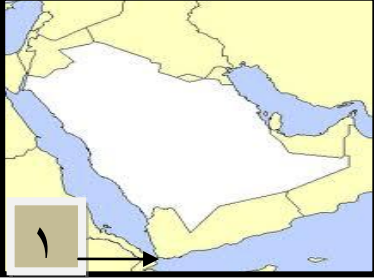
للعام الدراسي ١٤٣٦/١٤٣٧هـ - ٢٠١٥/٢٠١٦م

الفصل الدراسي الأول - الدور الأول

المادة: الدراسات الاجتماعية

أجب عن جميع الأسئلة الآتية

السؤال الأول: ضع دائرة حول رمز الإجابة الصحيحة لكل مفردة من المفردات الآتية:



١- يربط المضيق المشار إليه بالرقم (١) في الخريطة المقابلة بين :

أ- البحر الأحمر والبحر المتوسط .

ب- بحر العرب والبحر الأحمر.

ج- البحر الأسود والبحر المتوسط.

د- بحر العرب والبحر الأسود.

٢- النشاط الاقتصادي الذي يحتل المرتبة الأولى في الإمبراطورية البيزنطية:

أ- الزراعة. ب- التجارة. ج- الصناعة. د- السياحة.

٣- توجد الصحراء الكبرى في شمالي قارة:

أ- آسيا. ب- أستراليا. ج- أفريقيا. د- أوروبا.

٤- المحصول الذي تسود زراعته في الجبل الأخضر يتمثل في:




ب-



أ-



د-



ج-

٥- تمثل هضبة الحسما في الأردن نموذجا للهضاب:

أ- الحصوية. ب- الرملية. ج- الحجرية. د- متقطعة بالأودية.

٦- الغزوة التي عرفت بغزوة الأحزاب:

أ- حنين. ب- بدر. ج- أحد. د- الخندق.

٧- واجه الفلاح راشد صعوبة في ممارسة الزراعة في المنطقة الساحلية بسبب:

أ- الانجراف. ب- الملوحة. ج- الرعي الجائر. د- خصوبة التربة.

٨- العبارة الوصفية التي تناسب خصائص مناخ البحر المتوسط :

أ	حار جاف صيفا ومعتدل ممطر شتاء.
ب	يغلب عليه الجفاف الشديد وقلة الأمطار.
ج	تعتدل درجة الحرارة وتسقط أمطاره صيفا.
د	تكون أمطاره غزيرة وفجائية ولفترة قصيرة.

(٢)

امتحان الصف الخامس

للعام الدراسي ١٤٣٦/١٤٣٧ هـ - ٢٠١٥/٢٠١٦ م

الفصل الدراسي الأول - الدور الأول

المادة: الدراسات الاجتماعية

السؤال الثاني:

أولاً: أجب عن الأسئلة الآتية:

أ- أكتب المصطلح المناسب للمفاهيم المدرجة في الجدول الآتي:

المصطلح	المفهوم
.....	النباتات التي تنمو على سطح الأرض من تلقاء نفسها.
.....	مجري مائية سطحية مؤقتة الجريان.

ب- رتب الأحداث التاريخية الآتية من الأقدم إلى الأحدث باستخدام تسلسل الأرقام (١، ٢، ٣، ٤) :

(...) الهجرة النبوية من مكة المكرمة إلى يثرب.

(...) غزوة مؤتة.

(...) المؤاخاة بين المهاجرين والأنصار.

(...) عام الوفود.

ثانياً: علل ما يأتي:

أ- تجذب محافظة ظفار الزوار إليها صيفا من داخل السلطنة وخارجها.

ب- كثرة تنقل البدو من مكان إلى آخر.

ثالثاً: هل يمارس السكان في مناطق الهضاب الزراعة والرعي؟

نعم
لا

أختر الإجابة الصحيحة بوضع علامة (✓)

فسر ذلك ؟

.....

السؤال الثالث :

أولاً: اعط مثالا واحدا على كل من:

أ- الكثبان الرملية في سلطنة عمان.

.....

ب- أشكال الدالات النهرية في الوطن العربي.

.....

ثانياً: صنف العبارات التالية على كلا من السهول والجبال في الوطن العربي:

- تزداد الأمطار وتنخفض بها درجات الحرارة في فصل الشتاء.

- يتركز بها معظم السكان والأنشطة الاقتصادية.

- تصعب بها ممارسة الزراعة ويحل محلها الرعي وأحيانا السياحة.

السهول في الوطن العربي	الجبال في الوطن العربي
.....
.....
.....

(٣)

امتحان الصف الخامس

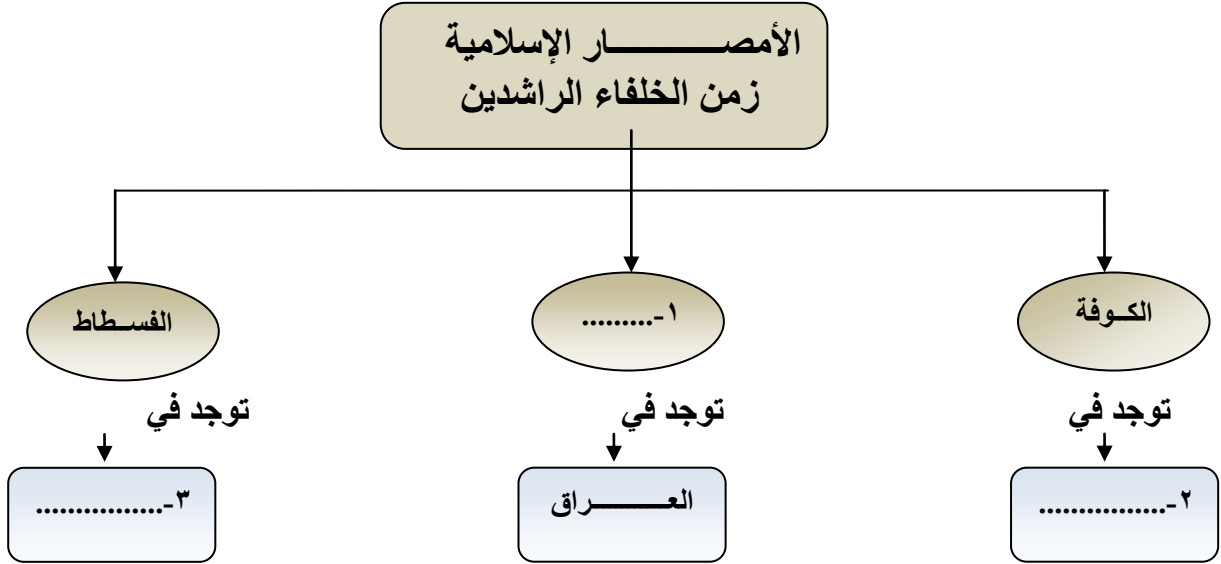
للعام الدراسي ١٤٣٦/١٤٣٧ هـ - ٢٠١٥/٢٠١٦ م

الفصل الدراسي الأول - الدور الأول

المادة: الدراسات الاجتماعية

تابع: السؤال الثالث:

ثالثاً: أكمل تصميم الخريطة الذهنية للأمصـار الإسلامية زمن الخلفاء الراشدين:



السؤال الرابع :

أولاً: أجب عن الأسئلة الآتية:

أ- قارن بين خطوط الطول ودوائر العرض من حيث المفهوم والعدد:

وجه المقارنة	المفهوم	العدد
خطوط الطول
دوائر العرض

ب- انسب الأعمال التالية إلى أصحابها من الخلفاء الراشدين بوضع علامة (√)

العمل	الخلفاء الراشدين
أنشأ الدواوين في الدولة الإسلامية	أبو بكر الصديق
القضاء على حركة الردة	عمر بن الخطاب
تعيين القضاة والولاة في البلاد المفتوحة	

(٤)

امتحان الصف الخامس

للعام الدراسي ١٤٣٦/١٤٣٧ هـ - ٢٠١٥/٢٠١٦ م

الفصل الدراسي الأول - الدور الأول

المادة: الدراسات الاجتماعية

تابع السؤال الرابع :

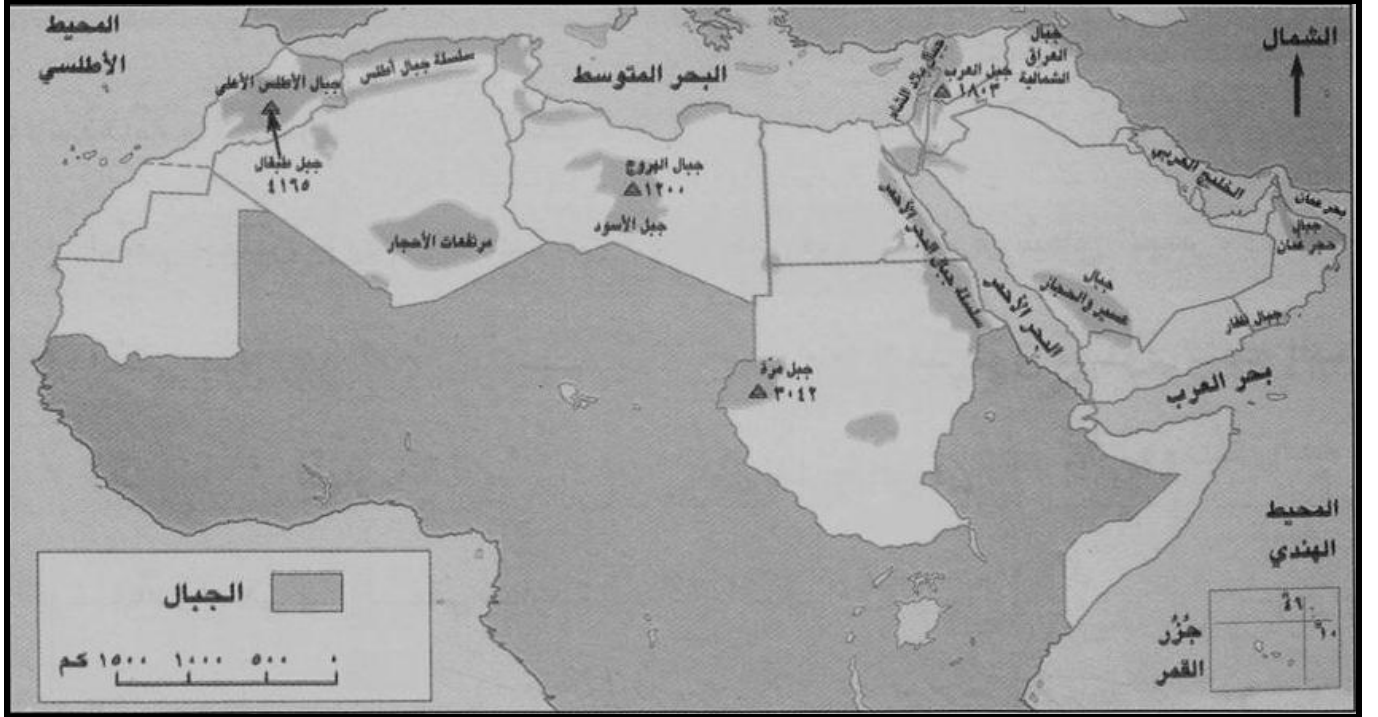
ثانياً: الصورة التي أمامك تمثل أهم وأشهر السدود التي بنيت قبل الإسلام في بلاد العرب. تأملها جيداً وأجب عما يليها من أسئلة:



١- ما اسم السد الذي بني في بلاد اليمن قديماً ؟

٢- ما الهدف من بناءه ؟

ثالثاً: أمامك خريطة الجبال في الوطن العربي أدرسها جيداً ثم أجب عما يليها من أسئلة:



١- ما السلسلة الجبلية الممتدة بين مصر والسودان.

٢- استخرج من الخريطة أعلى جبال الوطن العربي.

٣- ضع دائرة على الجبال التي توجد في جنوب عمان.

انتهت الأسئلة، مع تمنياتنا لكم بالتوفيق والنجاح.



المديرية العامة للتربية والتعليم

بمحافظة الشرقية جنوب

نموذج إجابة الامتحان النهائي لمادة الدراسات الاجتماعية للصف الخامس

للعام الدراسي ١٤٣٦/١٤٣٧ هـ - ٢٠١٥/٢٠١٦ م

الدور الأول - الفصل الدراسي الأول

• الدرجة الكلية ٤٠ درجة

• المادة: الدراسات الاجتماعية .

• تنبيه: الإجابة في (٤) صفحات.

أولاً:- إجابة السؤال الموضوعي

الدرجة الكلية ١٦ درجة		إجابة السؤال الأول لكل مفردة درجتان	
الصفحة	الدرجة	البديل الصحيح	المفردة
١٦	درجتان	(ب) بحر العرب والبحر الأحمر	١
٨٠	درجتان	(أ) الزراعة	٢
٣٥	درجتان	(ج) أفريقيا	٣
٤٥	درجتان	(د) الرمان	٤
٣٣	درجتان	(ب) الرملية	٥
٨٨	درجتان	(د) الخندق	٦
٦١	درجتان	(ب) الملوحة	٧
٤١	درجتان	(أ) حار جاف صيفا ومعتدل ممطر شتاء	٨

مجموع الدرجات ٢ × ٨ = ١٦ درجة

يتبع ص ٢

(٢)

تابع نموذج إجابة الامتحان النهائي لمادة الدراسات الاجتماعية للصف الخامس

للعام الدراسي ١٤٣٦/١٤٣٧ هـ - ٢٠١٥/٢٠١٦ م

الدور الأول - الفصل الدراسي الأول

إجابة السؤال الثاني : الدرجة الكلية ٨ درجات

الصفحة	الدرجة	الإجابة الصحيحة		المفردة	الجزئية
٦٢ ٥٥	٢ لكل مفهوم درجة واحدة	المفهوم	المصطلح	أ	أولاً
		النباتات التي تنمو على سطح الأرض من تلقاء نفسها .	النباتات الطبيعية		
		مجاري مائية سطحية مؤقتة الجريان	الأودية		
٩٠-٨٨	٢ لكل ترتيب صحيح نصف درجة	(١) الهجرة النبوية من مكة المكرمة إلى يثرب. (٣) غزوة مؤتة. (٢) المؤاخاة بين المهاجرين والأنصار. (٤) عام الوفود.		ب	
٥٣	١	بسبب توفر المناظر الطبيعية الخلابة والمناخ اللطيف (يكتفى بذكر تعليل واحد)		(أ)	ثانياً
٦٨	١	طلباً للماء والمرعى.		(ب)	
٣١	١ ١	بسبب سقوط كميات كبيرة من الأمطار عليها.		نعم <input checked="" type="checkbox"/>	ثالثاً

(٣)

تابع نموذج إجابة الامتحان النهائي لمادة الدراسات الاجتماعية للصف الخامس

للعام الدراسي ١٤٣٦/١٤٣٧ هـ - ٢٠١٥/٢٠١٦ م

الدور الأول - الفصل الدراسي الأول

إجابة السؤال الثالث		الدرجة الكلية ٨ درجات							
الجزئية	المفردة	الإجابة الصحيحة	الدرجة						
أولا	أ	- الربع الخالي - رمال الشرقية - رملة آل وهيبية <u>(يكتفى بذكر مثال واحد)</u>	١						
	ب	- الشكل المثلثي (المروحي) - شكل أرجل الطائر <u>(يكتفى بذكر مثال واحد)</u>	١						
ثانيا		<table border="1"><thead><tr><th>السهول في الوطن العربي</th><th>الجبال في الوطن العربي</th></tr></thead><tbody><tr><td>- يتركز بها معظم السكان والأنشطة الاقتصادية.</td><td>- تزداد بها الأمطار وتنخفض درجات الحرارة في فصل الشتاء.</td></tr><tr><td></td><td>- تصعب بها ممارسة الزراعة ويحل محلها الرعي وأحيانا السياحة.</td></tr></tbody></table>	السهول في الوطن العربي	الجبال في الوطن العربي	- يتركز بها معظم السكان والأنشطة الاقتصادية.	- تزداد بها الأمطار وتنخفض درجات الحرارة في فصل الشتاء.		- تصعب بها ممارسة الزراعة ويحل محلها الرعي وأحيانا السياحة.	٣ لكل درجة
السهول في الوطن العربي	الجبال في الوطن العربي								
- يتركز بها معظم السكان والأنشطة الاقتصادية.	- تزداد بها الأمطار وتنخفض درجات الحرارة في فصل الشتاء.								
	- تصعب بها ممارسة الزراعة ويحل محلها الرعي وأحيانا السياحة.								
ثالثا	١ ٢ ٣	الخريطة الذهنية : - البصرة - العراق - مصر	٣ لكل مفردة درجة						
			١٨ ٢٧-٢٨						
			٩٦						

(٤)

تابع نموذج إجابة الامتحان النهائي لمادة الدراسات الاجتماعية للصف الخامس

للعام الدراسي ١٤٣٦/١٤٣٧ هـ - ٢٠١٥/٢٠١٦ م

الدور الأول - الفصل الدراسي الأول

الدرجة الكلية ٨ درجات

إجابة السؤال الرابع

الجزئية	المفردة	الإجابة الصحيحة	الدرجة	الصفحة
أولاً	أ	<u>خطوط الطول:</u> المفهوم : عبارة عن أنصاف دوائر - العدد ٣٦٠ خط <u>دوائر العرض:</u> المفهوم : عبارة عن دوائر مكتملة - العدد ١٨٠ دائرة	٢ لكل نصف درجة	١٢
	ب	١- أنشأ الدواوين في الدولة الإسلامية (عمر بن الخطاب) ٢- القضاء على حركة الردة (أبو بكر الصديق) ٣- تعيين القضاة والولاة في البلاد المفتوحة (عمر بن الخطاب)	درجة ونصف (لكل نصف درجة)	٩٤-٩٧
ثانياً		١- سد مأرب ٢- لحفظ المياه وري المزروعات	١ نصف درجة	٧٠
ثالثاً	١ ٢ ٣	سلسلة جبال البحر الأحمر جبل طبقال ٤١٦٥ متر <u>يضع الطالب دائرة على جبال ظفار في جنوب عمان على الخريطة</u>	٣ لكل مفردة درجة	٢٧ ٢٧ ٢٧

انتهت الإجابة