

الامتحان النهائي للصف الثامن للفصل الدراسي الأول/الدور الثاني للعام الدراسي ٢٠١٤-٢٠١٥ م

المادة: الدراسات الاجتماعية الزمن: ساعة ونصف

الدرجة الكلية: (٤٠) درجة تنبيه: الأسئلة في (٥) صفحات

اسم الطالب/ة: الشعبة:

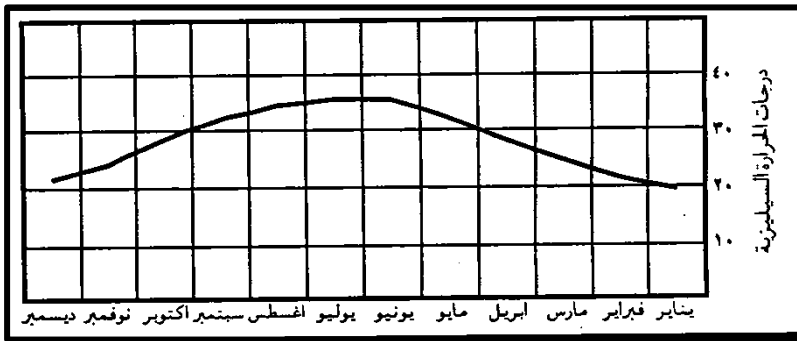
أجب عن جميع الأسئلة الآتية

السؤال الأول: ضع دائرة حول رمز الإجابة الصحيحة من بين البدائل المعطاة:

(١) السلطان العُماني الذي بنى قصر العجائب في زنجبار:

(أ) أحمد بن سعيد (ب) سلطان بن أحمد (ج) سعيد بن سلطان (د) برغش بن سعيد

(٢) الشهر الذي سُجلت فيه أقل درجة حرارة في مدينة مسقط حسب الشكل المقابل:



(أ) يناير

(ب) مايو

(ج) سبتمبر

(د) ديسمبر

(٣) رياح محلية تهب على بعض المناطق الساحلية من سلطنة عُمان تعرف باسم:

(أ) الخماسين (ب) الكوس (ج) الطوز (د) السموم

(٤) يتم اختيار أعضاء مجلس الشورى عن طريق:

(أ) الانتخاب (ب) التزكية (ج) التعيين (د) مرسوم سلطاني

(٥) العام الميلادي الذي تولى فيه حضرة صاحب الجلالة السلطان قابوس مقاليد الحكم في البلاد:

(أ) ١٩٧٠ (ب) ١٩٧٢ (ج) ١٩٧٤ (د) ١٩٧٦

(٢)

المادة: الدراسات الاجتماعية الصف: الثامن الفصل الدراسي: الأول- الدور: الثاني العام الدراسي: ٢٠١٤-٢٠١٥ م

تابع- السؤال الأول:

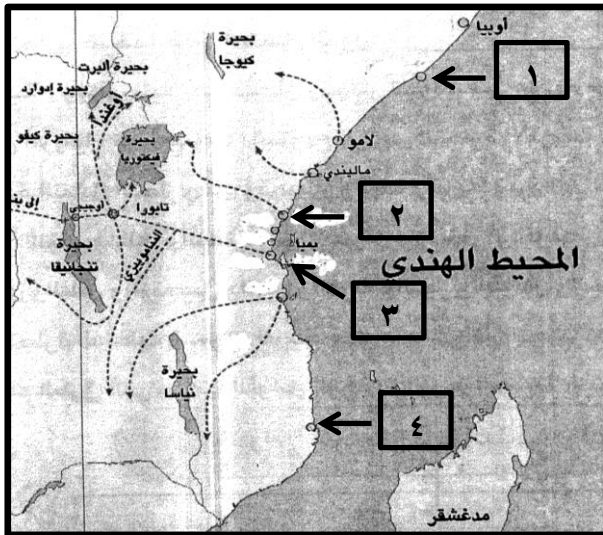
٦) سفينة عُمانية تمكنت من تحرير مدينة البصرة من الفرس في عام ١٧٧٥م:

- (أ) سلطنة (ب) فكتوريا (ج) الرحماني (د) كارولين

٧) المفهوم الذي يُطلق على "تجمع كبير في قطرات صغيرة من الماء المتطايرة في الجو بالقرب من سطح الأرض":

- (أ) الندى (ب) الضباب (ج) السحب (د) المطر

٨) الرقم الذي يشير إلى المدينة التي اتخذها السيد سعيد بن سلطان عاصمة ثانية لدولته، وفقاً للخريطة التي



أمامك:

(أ) ١

(ب) ٢

(ج) ٣

(د) ٤

١٦

السؤال الثاني:

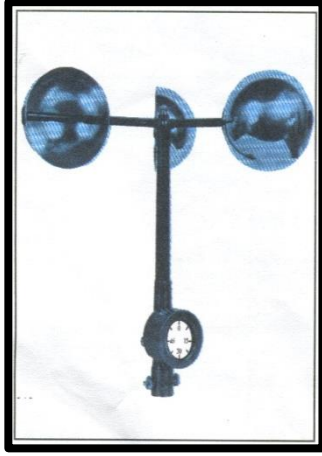
٩) عرّف كلاً من:

(أ) الطقس:


(ب) الضغط الجوي:

تابع - السؤال الثاني:

١٠ أمامك صور لبعض الأجهزة المستخدمة لقياس بعض العناصر المناخية أدرسها جيداً، ثم أجب عن الأسئلة الآتية:



(٢)



(١)

أ) ما اسم الجهاز المشار إليه بالرقم (٢)؟

ب) قارن بين صورة الجهاز المشار إليه بالرقم (١) والجهاز المشار إليه بالرقم (٢) من حيث الاستخدام.

_____	الصورة رقم (١)
_____	الصورة رقم (٢)

١١ رتب المجالس الآتية من الأقدم إلى الأحداث حسب الفترة الزمنية لتشكيلها:

(مجلس الشورى - مجلس الدولة - المجلس الاستشاري)

- ١- _____
- ٢- _____
- ٣- _____

(٤)

المادة: الدراسات الاجتماعية الصف: الثامن الفصل الدراسي: الأول- الدور: الثاني العام الدراسي: ٢٠١٤-٢٠١٥ م

السؤال الثالث:

(١٢) صنف المواد الآتية الواردة في الباب الثالث من النظام الأساسي للدولة وفقاً للجدول أمامك:
(الجنسية - الدفاع عن الوطن - المحافظة على الأموال العامة - المساواة)

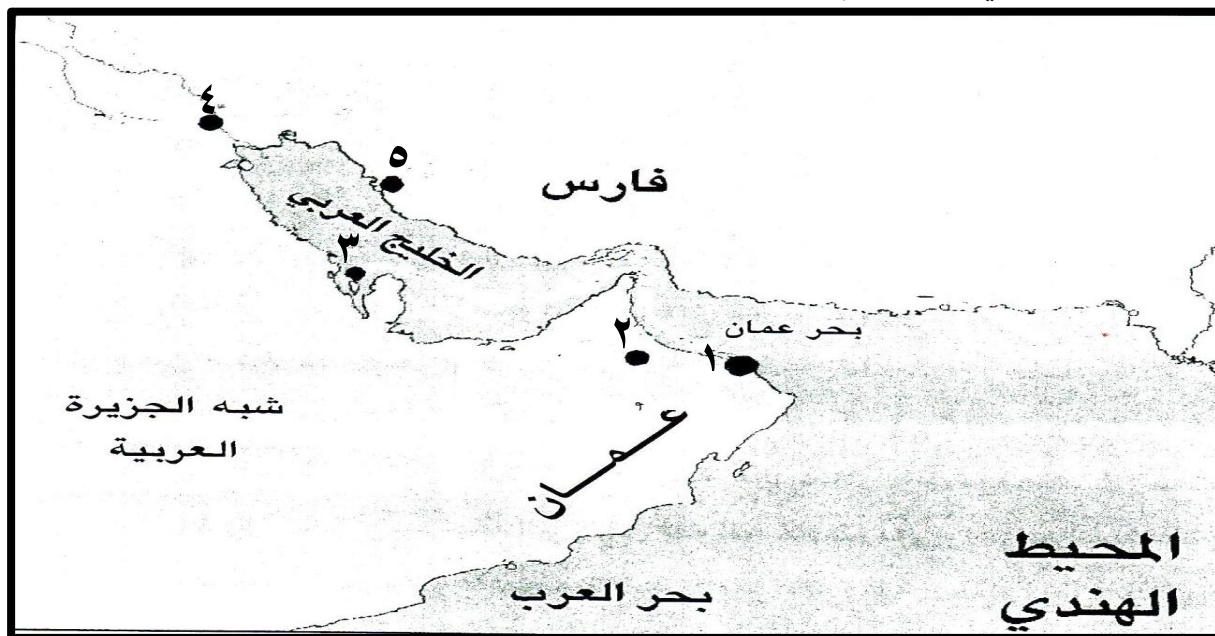
الواجبات	الحقوق
_____	_____
_____	_____

(١٣) أذكر اثنين من:

١- أنواع الأمطار بحسب طريقة صعود بخار الماء.

٢- الأعمال التي قام بها الإمام أحمد بن سعيد لتثبيت أركان دولته.

(١٤) ادرس الخريطة التي أمامك، ثم أجب عن الأسئلة الآتية:



(أ) ما الرقم الذي يشير إلى المدينة التي أصبحت عاصمةً للسلطان حمد بن سعيد؟

(ب) علل: استجد أهل المنطقة المشار إليها بالرقم (٣) بالسيد سلطان بن أحمد.

(٥)

المادة: الدراسات الاجتماعية الصف: الثامن الفصل الدراسي: الأول- الدور: الثاني العام الدراسي: ٢٠١٤-٢٠١٥ م

السؤال الرابع:

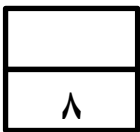
١٥) قارن بين الإقليم الموسمي وإقليم البحر المتوسط حسب الجدول الآتي:

إقليم البحر المتوسط	الإقليم الموسمي	نوع الإقليم مجال المقارنة
_____	_____	الامتداد (شمال وجنوب دائرة الاستواء)
_____	_____	المنطقة التي تتأثر بهذا النوع من المناخ في السلطنة

١٦) صف قوة الاسطول العُماني في عهد السيد سعيد بن سلطان.

١٧) "يمثل نهج الشورى وجهاً حضارياً بارزاً لمسيرة النهضة العُمانية الحديثة"

في ضوء ذلك بين أهمية الشورى في حياة المواطن العُماني.



انتهت الأسئلة، مع الأمنيات لكم بالنجاح والتفوق

عدد أوراق الإجابة (٣)



المديرية العامة للتربية والتعليم لمحافظة شمال الباطنة

[نموذج إجابة امتحان الصف الثامن لمادة الدراسات الاجتماعية]
العام الدراسي ٢٠١٤ / ٢٠١٥ م - الفصل الدراسي الأول / الدور الثاني

الدرجة الكلية ٤٠ درجة

$$١٦ = ٢ \times ٨$$

إجابة السؤال الأول: ١٦ درجة

رقم المفردة	١	٢	٣	٤	٥	٦	٧	٨
رمز الإجابة	د	أ	ب	أ	أ	ج	ب	ج
الإجابة	برغش بن سعيد	يناير	الكوس	الانتخاب	١٩٧٠	الرحماني	الضباب	٣
الوحدة	الثانية	الأولى	الأولى	الثالثة	الثالثة	الثانية	الأولى	الثانية
الصفحة	٦٩	٢٦	٤١	٩٦	٨١	٥٦	٣٨	٧٤ - ٦٦
الدرجة	٢	٢	٢	٢	٢	٢	٢	٢

إجابة السؤال الثاني: ٨ درجات

الجزئية	الإجابة	الدرجة	الصفحة	الوحدة
٩	أ) الطقس : حالة الجو في ظواهره المختلفة (حرارة - ضغط جوي - رطوبة - رياح) في مكان معين خلال فترة زمنية قصيرة . ب) الضغط الجوي : هو وزن عمود الهواء فوق نقطة معينة (السنتيمتر المربع الواحد) على سطح الأرض .	١ ١	١٢ ٢٨	الأولى
١٠	أ) الرقم (٢) جهاز الانيمومتر ب)	١ ١ ١	٣١ ٢٥ ٣١	الأولى
١١	١- المجلس الاستشاري ٢- مجلس الشورى ٣- مجلس الدولة (لكل مفردة درجة)	٣	٩٦	الثالثة

إجابة السؤال الثالث: ٨ درجات

الوحدة	الصفحة	الدرجة	الإجابة	الجزئية						
الثالثة	٩١	٢	<table border="1"> <tr> <td>الواجبات</td> <td>الحقوق</td> </tr> <tr> <td>المحافظة على الأموال العامة</td> <td>الجنسية</td> </tr> <tr> <td>الدفاع عن الوطن</td> <td>المساواة</td> </tr> </table> <p>(لكل مفردة نصف درجة فقط)</p>	الواجبات	الحقوق	المحافظة على الأموال العامة	الجنسية	الدفاع عن الوطن	المساواة	١٢
الواجبات	الحقوق									
المحافظة على الأموال العامة	الجنسية									
الدفاع عن الوطن	المساواة									
الأولى	٣٩	٢	<p>(أ)</p> <ul style="list-style-type: none"> - الأمطار التضاريسية - الأمطار التصاعدية - الأمطار الإعصارية <p>(يكتفى بذكر اثنين لكل مفردة درجة)</p>	١٣						
الثانية	٥٥	٢	<p>(ب)</p> <ul style="list-style-type: none"> - أتخذ الرستاق عاصمة له . - أوجد رجال الشرطة فكفل ذلك الأمن والاستقرار لرعاياه . - أنشأ جيشاً ثابتاً ومدرباً ، وأسطولاً بحرياً قوياً . - أرسى القواعد الإدارية والقضائية في البلاد . - شجع التجارة مع الهند وشرقي أفريقيا . - أهتم بالنواحي العمرانية فشيّد الحصون والمساجد <p>(يكتفى بذكر اثنين لكل مفردة درجة)</p>							
الثانية	٥٧	١	<p>أ- <input type="text" value="١"/></p>	١٤						
الثانية	٥٨	١	<p>ب- لنجدتهم من الغزو الفارسي .</p> <p>(لكل مفردة درجة)</p>							

إجابة السؤال الرابع : ٨ درجات

الوحدة	الصفحة	الدرجة	الإجابة	الجزئية									
الأولى	٤٦ ٤٨	٤	<table border="1"> <thead> <tr> <th>الإقليم الموسمي</th> <th>إقليم البحر المتوسط</th> <th>نوع الإقليم مجال المقارنة</th> </tr> </thead> <tbody> <tr> <td>بين دائرتي عرض (٠٨ - ٠١٨) شمال درجة الاستواء وجنوبها</td> <td>بين دائرتي عرض (٠٣٠ - ٠٤٠) شمال درجة الاستواء وجنوبها</td> <td>الامتداد</td> </tr> <tr> <td>محافظة ظفار</td> <td>الجبل الأخضر</td> <td>المنطقة التي تتأثر بهذا النوع من المناخ في السلطنة</td> </tr> </tbody> </table> <p>(لكل مجال مقارنة درجة فقط)</p>	الإقليم الموسمي	إقليم البحر المتوسط	نوع الإقليم مجال المقارنة	بين دائرتي عرض (٠٨ - ٠١٨) شمال درجة الاستواء وجنوبها	بين دائرتي عرض (٠٣٠ - ٠٤٠) شمال درجة الاستواء وجنوبها	الامتداد	محافظة ظفار	الجبل الأخضر	المنطقة التي تتأثر بهذا النوع من المناخ في السلطنة	١٥
			الإقليم الموسمي	إقليم البحر المتوسط	نوع الإقليم مجال المقارنة								
			بين دائرتي عرض (٠٨ - ٠١٨) شمال درجة الاستواء وجنوبها	بين دائرتي عرض (٠٣٠ - ٠٤٠) شمال درجة الاستواء وجنوبها	الامتداد								
محافظة ظفار	الجبل الأخضر	المنطقة التي تتأثر بهذا النوع من المناخ في السلطنة											
الثانية	٦٣	٢	<p>وصف الأسطول العماني في عهده بالقوة ، حيث يتكون من مائة سفينة متعددة الحمولة مزود كل منها ما بين عشرة مدافع إلى أربعة وسبعين مدافعاً بالإضافة إلى مئات المراكب التجارية الصغيرة .</p>	١٦									
الثالثة	٩٤	٢	<p>من خلال الشورى والمشاورة يمكن تحقيق الآتي :</p> <ul style="list-style-type: none"> - التفاهم والثقة والحوار بين الناس . - المشاركة في تطوير المجتمع العماني في مختلف الجوانب والمجالات . - طرح الموضوعات والاحتياجات الضرورية للمواطنين ومناقشتها ورفع التوصيات . - تقديم المقترحات المناسبة في العديد من الموضوعات التي تهم المواطن والمجتمع العماني . - ترسيخ وعي المواطنين بأهمية الشورى ، والتعاون في تحقيقها . - أو ما يفيد المعنى ضمن السياق السابق. <p>(يكتفى بذكر اثنين لكل مفردة درجة)</p>	١٧									

*** انتهى نموذج الإجابة ***