



سلطنة عُمان
وزارة التربية والتعليم
المديرية العامة للتربية والتعليم لمحافظة ظفار

المدرسة :

امتحان نهاية الفصل الدراسي للصف التاسع للتعليم (الأساسي/العام)
للعام الدراسي ١٤٣٦/١٤٣٧ هـ - ٢٠١٥/٢٠١٦ م
الفصل الدراسي الأول - الدور

- زمن الإجابة: ساعة ونصف
- درجة الامتحان: ٤٠ درجة

- المادة: الدراسات الاجتماعية
- تنبيه: الأسئلة في (٤) صفحات.

اسم الطالب : : الصف :

رقم السؤال	الدرجة الفعلية	الدرجة بالأرقام	الدرجة بالأحرف	توقيع المصحح	توقيع المراجع
السؤال الأول	١٦				
السؤال الثاني	٨				
السؤال الثالث	٨				
السؤال الرابع	٨				
مجموع الدرجات	٤٠ درجة				

أجب عن جميع الأسئلة الآتيةالسؤال الأول: (١٦ درجة)ضع دائرة حول رمز الإجابة الصحيحة لكل مفردة من المفردات الآتية:

(١) الدراسة المتمثلة في المواليد والوفيات والهجرة وتوزع السكان ببيان مناطق الاكتظاظ السكاني والمناطق التي يقل فيها عدد السكان تندرج ضمن:

- (أ) نمو السكان (ب) إعالة السكان (ج) هرم السكان (د) تعداد السكان

(٢) السفينة العمانية التي ذهبت إلى نيويورك عام ١٨٤٠م هي السفينة:

- (أ) الرحماني (ب) سلطنة (ج) الفلك (د) فكتوريا

(٣) من مراحل الانتقال السكاني التي تنتمي إليها البرازيل المرحلة:

- (أ) الأولى (ب) الثانية (ج) الثالثة (د) الرابعة

(٤) كانت الدولة العمانية في عهد السيد سعيد بن سلطان دولة ملاحية كبيرة يمتد نفوذها من سواحل عُمان إلى الساحل الشرقي لأفريقيا عند جزيرتي زنجبار و:

- (أ) ممباسا (ب) مويرا (ج) بمبا (د) ماهوندا

(٥) جميع ما يلي من المصادر الثانوية للبيانات السكانية ماعدا:

- (أ) سجلات المؤسسات الحكومية (ب) سجل الأحوال المدنية (ج) سجلات المدارس (د) سجلات المؤسسات الأهلية

(٦) نشأت منظمة المؤتمر الإسلامي بعد قيام المتطرفين اليهود بحرق المسجد الأقصى في أغسطس عام:

- (أ) ١٩٦٣م (ب) ١٩٦٥م (ج) ١٩٦٧م (د) ١٩٦٩م

(٧) في أواخر عام ٢٠٠٤م قدمت السلطنة مساعدات للمتضررين جراء الزلزال والمد البحري الذي أعقبه تسونامي في:

- (أ) جنوب شرق آسيا (ب) جنوب غرب آسيا (ج) شمال شرق آسيا (د) شمال غرب آسيا

(٨) الرقم الذي يشير إلى المدينة التي كانت مع زنجبار من أهم مراكز إنتاج الأخشاب في شرقي أفريقيا هو:

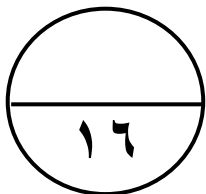


(ب) ٢

(أ) ١

(د) ٤

(ج) ٣



السؤال الثاني: (٨ درجات)

أولاً: أجب عن الأسئلة الآتية:

- (أ) صنف الأعمال التالية حسب مهام كل منظمة في الجدول الذي أمامك :
- ١- نشر الوعي من أجل حماية مياه الشرب من التلوث. ٣- نشر معلومات التغذية الصحية ووسائل حفظ المنتجات الغذائية.
 - ٢- تعميم حماية الأمومة والاهتمام بمكافحة عمالة الاطفال. ٤- تعزيز التفاهم بين الأمم وتنشيط التربية ونشر الثقافة العالمية.

المنظمة	العمل / المهام
اليونيسكو (UNESCO)
منظمة الصحة العالمية (WHO)
الفاو (FAO)
منظمة العمل الدولية (I.L.O)

(ب) أحسب الكثافة السكانية لدولة ما إذا علمت بأن مساحتها (٢ ٨٩,٣٤٢ كم) وكانت تقديرات عدد السكان في سنة ٢٠١٣م نحو (٦,٤٣٣,٠٠٠) نسمة.

.....

.....

.....

ثانياً: بم تفسر: كان الطريق الشمالي لتجارة القوافل العربية في شرقي أفريقيا محفوظاً بالمخاطر.

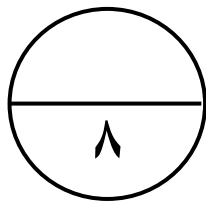
.....

.....

ثالثاً: أدرس الخريطة التي أمامك ثم أجب عن الأسئلة الآتية:



- استخرج من الخريطة دولة تنتسب إلى رابطة الدول المطلة على المحيط الهندي
- اسم المحيط المشار إليه بالرقم (٢)
- اسم الدولة المشار إليها بالرقم (٣)



السؤال الثالث: (٨ درجات)

أولاً:

(أ) ما المقصود بـ : بنية السكان .

.....

.....

(ب) بين أهمية تحول المراكز التجارية العربية المؤقتة إلى مراكز استقرار دائم في سواحل أفريقيا الشرقية .

.....

.....

ثانياً:

(أ) أذكر نتيجة واحدة ترتبت على : انضمام السلطنة لمشروع شبكة المدارس المنتسبة لليونسكو .

.....

.....

(ب) علل : منح جلالة السلطان قابوس بن سعيد المعظم جائزة السلام الدولية عام ١٩٩٨م.

.....

.....

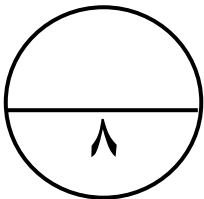
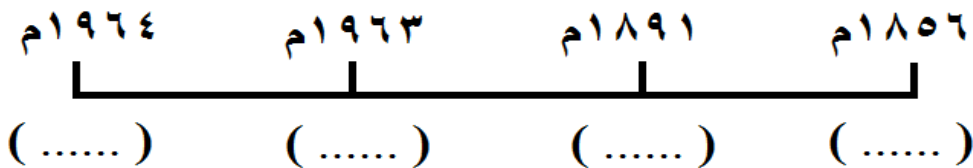
ثالثاً:

(أ) صنف السلع الآتية (الأخشاب ، العاج ، التوابل ، العنبر) والتي جلبها التجار العُمانيون إلى أسواقهم من حيث مصدرها.

المصدر	السلع
شرقي أفريقيا	
الهند والصين	

(ب) أنقل أرقام الحوادث التالية في أماكنها الصحيحة على المسطرة الزمنية التي أمامك :

- ١ . إعلان بريطانيا الحماية على زنجبار . ٣ . إعلان اتحاد زنجبار مع تنجانيقا .
- ٢ . حصول زنجبار على استقلالها . ٤ . وفاة السيد سعيد بن سلطان وانقسمت دولته بين اثنين من أبنائه .



السؤال الرابع : (٨ درجات)

(يعد النمو السكاني في العالم من أبرز الظواهر السكانية المميزة لهذا العصر، حيث يمثل تحدياً مهماً للعالم، ولاسيما الدول النامية التي يتكاثر سكانها بمعدل كبير يزيد على معدل التنمية الاقتصادية بها وعلى إمكانات توفير الغذاء لسكانها في ظل الظروف الراهنة ...) .
في ضوء هذه العبارة أجب عن الآتي :
أولاً: (أ) ما المقصود بالنمو السكاني .

.....

(ب) علل : ارتفاع معدلات المواليد بين المجتمعات الزراعية في حين تنخفض عند المجتمعات الصناعية.

.....

ثانياً: (أ) أرسم هرم سكاني موضحاً عليه البنية النوعية والبنية العمرية .

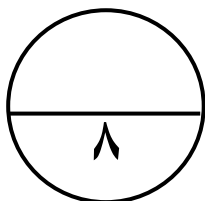
ثالثاً : أدرس الجدول الذي أمامك الذي يبين معدلات المواليد والوفيات لدول مختلفة من العالم حسب بيانات ثم أجب عن الأسئلة الآتية :

(أ) أحسب الزيادة الطبيعية لسلطنة عُمان ؟

الدولة	معدل المواليد الخام بالألف	معدل الوفيات الخام بالألف
سلطنة عُمان	٤٣	٥
الإمارات العربية	٢٤	٢
مصر العربية	٢٦	٦
سوريا	٣٣	٦
الجزائر	٢٩	٦
السويد	١٠	١١
فرنسا	١٣	٩
ألمانيا	٩	١٠

(ب) بين المشكلات التي تواجهها الدول التي تلاحظ فيها نمواً سكانياً مرتفعاً ؟

.....
.....
.....
.....
.....
.....



انتهت الأسئلة مع تمنياتنا لكم بالتوفيق والنجاح،،



سلطنة عُمان
وزارة التربية والتعليم
المديرية العامة للتربية والتعليم لمحافظة ظفار

نموذج إجابة امتحان نهاية الفصل الدراسي للصف التاسع للتعليم (الأساسي/العام)
للعام الدراسي ١٤٣٦/١٤٣٧ هـ - ٢٠١٥/٢٠١٦ م
الفصل الدراسي الأول - الدور

المادة: الدراسات الاجتماعية
الدرجة الكلية: ٤٠ درجة
تنبيه: الإجابة في أربع صفحات

إجابة السؤال الأول :- موضوعي ١٦ درجة (كل مفردة درجتان).

رقم المفردة	الحرف الدال على الإجابة	الإجابة الصحيحة	الدرجة	الصفحة
١	أ	نموالساكان	درجتان	١٠
٢	ب	سلطانة	درجتان	٤٤
٣	ج	الثالثة	درجتان	٢٥
٤	ج	بمبا	درجتان	٤١
٥	ب	سجل الأحوال المدنية	درجتان	١١
٦	د	١٩٦٩	درجتان	٧٥
٧	أ	جنوب شرق آسيا	درجتان	٧٦
٨	أ	١	درجتان	٥٤

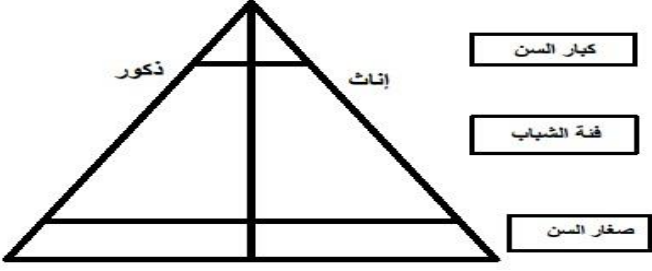
إجابة السؤال الثاني :- مقالي ٨ درجة (يتكون من ٣ جزئيات)

إجابة السؤال الثاني															
الصفحة	الدرجة	الإجابة الصحيحة		المفردة	الجزئية										
٨٤- ٨٢	٢	<table border="1"> <thead> <tr> <th>العمل / المهام</th> <th>المنظمة</th> </tr> </thead> <tbody> <tr> <td>تعزيز التفاهم بين الأمم وتنشيط التربية ونشر الثقافة العالمية</td> <td>اليونيسكو (UNESCO)</td> </tr> <tr> <td>نشر الوعي من أجل حماية مياه الشرب من التلوث</td> <td>منظمة الصحة العالمية (WHO)</td> </tr> <tr> <td>نشر معلومات التغذية الصحية ووسائل حفظ المنتجات الغذائية</td> <td>الفاو (FAO)</td> </tr> <tr> <td>تعميم حماية الأمومة والاهتمام بمكافحة عمالة الاطفال</td> <td>منظمة العمل الدولية (I.L.O)</td> </tr> </tbody> </table>		العمل / المهام	المنظمة	تعزيز التفاهم بين الأمم وتنشيط التربية ونشر الثقافة العالمية	اليونيسكو (UNESCO)	نشر الوعي من أجل حماية مياه الشرب من التلوث	منظمة الصحة العالمية (WHO)	نشر معلومات التغذية الصحية ووسائل حفظ المنتجات الغذائية	الفاو (FAO)	تعميم حماية الأمومة والاهتمام بمكافحة عمالة الاطفال	منظمة العمل الدولية (I.L.O)	أ	أولاً
العمل / المهام	المنظمة														
تعزيز التفاهم بين الأمم وتنشيط التربية ونشر الثقافة العالمية	اليونيسكو (UNESCO)														
نشر الوعي من أجل حماية مياه الشرب من التلوث	منظمة الصحة العالمية (WHO)														
نشر معلومات التغذية الصحية ووسائل حفظ المنتجات الغذائية	الفاو (FAO)														
تعميم حماية الأمومة والاهتمام بمكافحة عمالة الاطفال	منظمة العمل الدولية (I.L.O)														
٣٢	٢	الكثافة السكانية للدولة في سنة ٢٠١٣ م: $\frac{6433000}{89342} = 72 \text{ نسمة في كم}^2 \text{ (تقريباً)}$		ب											
٥٢	١	بسبب تعرض القوافل التي تتراد هذا الطريق لهجمات قبائل الماساي.		أ	ثانياً										
٧٩	١	١- يذكر إحدى الدول التالية: سلطنة عُمان، موريشيوس، الهند، جنوب أفريقيا،		الخريطة	ثالثاً										
٨١	١	أستراليا، سنغافورة، كينيا													
٨١	١	٢- المحيط الهندي ٣- أستراليا													
٨ درجات		المجموع													

إجابة السؤال الثالث :- مقالي ٨ درجة (يتكون من ٣ جزئيات) .

إجابة السؤال الثالث											
الصفحة	الدرجة	الإجابة الصحيحة	المفردة	الجزئية							
١٥	١	بنية السكان :دراسة بنية السكان من حيث التركيب العمري والنوعيوالاقتصادي والاجتماعي .	أ	أولاً							
٥٠	١	- تكمن أهمية تحول المراكز التجارية العربية المؤقتة إلى مراكز استقرار دائم تخدم التبادل التجاري والمصالح السياسية للعمانيين في سواحل أفريقيا الشرقية .	ب								
٨٣	١	نتيجة إنضمام السلطنة لمشروع شبكة المدارس المنتسبة لليونيسكو: - زيادة المعرفة بمشكلات العالم ، ودعم التعاون الدولي ، وتنمية التفاهم بين شعوب العالم ، وتنمية القدرة على الاتصال بالآخرين والتحاور معهم .	أ	ثانياً							
٨٨	١	تقديرأ لدور جلالته في إرساء السلام العالمي.	ب								
٥٤-٥٣	٢	<table border="1" style="width: 100%; text-align: center;"> <thead> <tr> <th>السلع</th> <th>المصدر</th> </tr> </thead> <tbody> <tr> <td>الأخشاب ، العنبر</td> <td>شرقي أفريقيا</td> </tr> <tr> <td>العاج ، التوابل</td> <td>الهند والصين</td> </tr> </tbody> </table>	السلع	المصدر	الأخشاب ، العنبر	شرقي أفريقيا	العاج ، التوابل	الهند والصين	أ	ثالثاً	
السلع	المصدر										
الأخشاب ، العنبر	شرقي أفريقيا										
العاج ، التوابل	الهند والصين										
- ٦٢ ٦٣	٢	<table border="1" style="width: 100%; text-align: center;"> <tbody> <tr> <td>١٨٥٦م</td> <td>١٨٩١م</td> <td>١٩٦٣م</td> <td>١٩٦٤م</td> </tr> <tr> <td>(٤)</td> <td>(١)</td> <td>(٢)</td> <td>(٣)</td> </tr> </tbody> </table>	١٨٥٦م	١٨٩١م	١٩٦٣م	١٩٦٤م	(٤)	(١)	(٢)	(٣)	ب
١٨٥٦م	١٨٩١م	١٩٦٣م	١٩٦٤م								
(٤)	(١)	(٢)	(٣)								
٨ درجات		المجموع									

مقالي ٨ درجات (لكل مفردة درجتان) **إجابة السؤال الرابع :-**

إجابة السؤال الرابع				
الصفحة	الدرجة	الإجابة الصحيحة	المفردة	الجزئية
٢٧	١	النمو السكاني : زيادة أعداد السكان من سنة لأخرى نتيجة زيادة عدد المواليد وانخفاض عدد الوفيات والهجرة.	أ	أولاً
٢٨	٢	ارتفاع معدلات المواليد بين المجتمعات الزراعية <u>التي تحتاج إلى اليد العاملة</u> في حين تنخفض عند المجتمعات الصناعية <u>التي تعتمد على الآلة</u> .	ب	
٢٣	٣ (يعطى درجتان على البنية العمرية ودرجة واحدة على البنية النوعية)		أ	ثانياً
٣٠	١	الزيادة الطبيعية = عدد المواليد - عدد الوفيات ٤٣ - ٥ = ٣٨ نسمة	أ	
٣٠	١	الضغط على الخدمات والموارد وزيادة فئات الباحثين عن عمل .	ب	ثالثاً
٨ درجات		المجموع		

نهاية نموذج الإجابة