

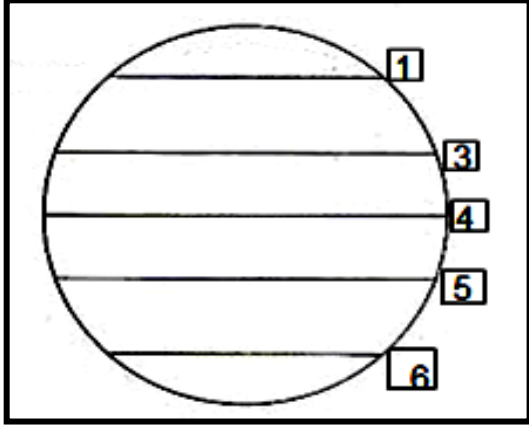
السؤال الأول : ضع دائرة حول الرمز الدال على الإجابة الصحيحة من بين البدائل المعطاة:

١- يقع سد مأرب في دولة:

- أ- المغرب
ب- مصر
ج- اليمن
د- البحرين

٢- الخط المشار إليه بالرقم (4) يمثل دائرة :

- أ- الجدي
ب- الاستواء
ج- السرطان
د- غرينتش

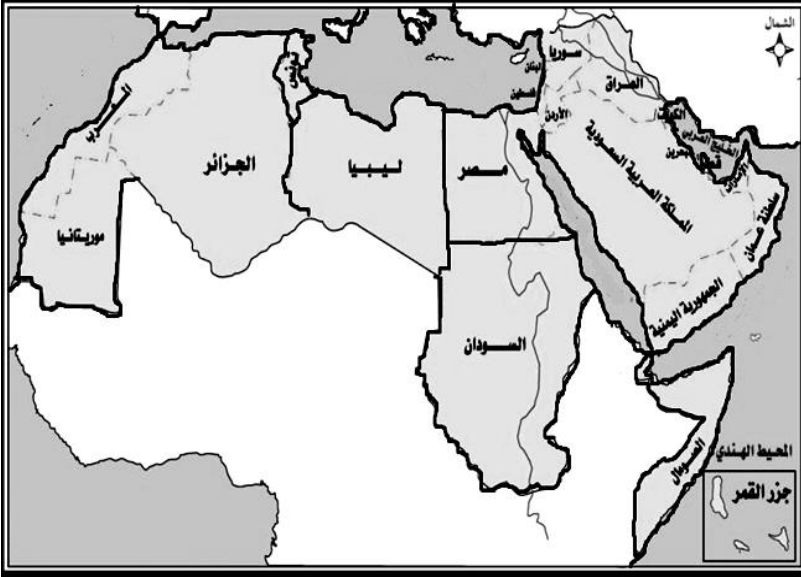


٣- كان اختيار قادة وكبار الموظفين في الدولة البيزنطية من طبقة :

- أ- الفلاحون
ب- التجار
ج- الصناع
د- النبلاء

٤- الدولة التي تقع على الحدود الغربية لمصر هي :

- أ- السعودية
ب- السودان
ج- ليبيا
د- الأردن



٥- تسمى المنطقة المحصورة بين الجبال والبحار :

- أ- الهضاب
ب- الصحاري
ج- الانهار
د- السهول

٦- من وجهة نظرك، ترجع أهمية الموقع الجغرافي للوطن العربي في العصر الحديث إلى:

- أ- الطرق البرية
ب- اكتشاف النفط
ج- الطرق البحرية
د- الموارد المائية

٧- إلتقى المسلمين بالمشركين في السنة الثانية للهجرة في غزوة :

- أ- بدر
ب- أحد
ج- تبوك
د- مؤتة

٨- نستنتج من جدول درجات الحرارة والامطار الشهرية في (عين صالح) بالجزائر :

| الشهر | يناير | فبرا | مار | ابريل | مايو | يونيو | يوليو | اغسط | سبتمبر | اكتوبر | نوفمبر | ديسم |
|--------------|-------|------|-----|-------|------|-------|-------|------|--------|--------|--------|------|
| درجة الحرارة | ٢٠ | ٢٤ | ٢٧ | ٣٠ | ٣٤ | ٣٨ | ٣٧ | ٣٦ | ٣٤ | ٣١ | ٢٥ | ٢٢ |
| الامطار | ٠٠ | ٠٠ | ٠٠ | ٠.٥ | ١ | ١.٥ | ٠.٠ | ٢ | ١ | ٠.٠ | ٠.٠ | ٠.٠ |

أ - ارتفاع درجات الحرارة وكثرة الامطار
 ب- قلة درجات الحرارة وكثرة الامطار
 ج- ارتفاع درجات الحرارة وقلة الامطار
 د- قلة درجات الحرارة وقلة الامطار

السؤال الثاني : اجب عما يلي

أولاً:

أ - عرف : الملوحة ؟

.....

ب - رتب الأحداث التاريخية التالية من الأقدم إلى الأحدث باستخدام الأرقام (١،٢،٣،٤)

() صلح الحديبية .

() غزوة أحد.

() وفاة الرسول صل الله عليه وسلم.

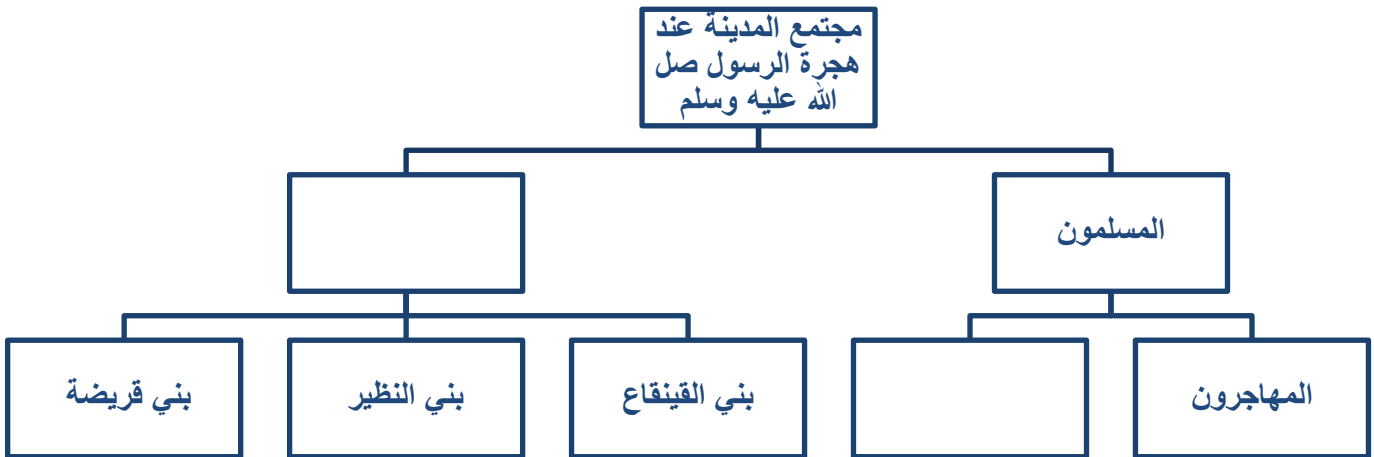
() فتح مكة .

ثانياً:

أ - تنقسم الموارد المائية في الوطن العربي إلى نوعان اذكرهما ؟

(١) (٢)

ب- أكمل المخطط المعرفي التالي:



ثالثاً:

ما الأهمية الاقتصادية للهضاب التالية :

١- هضبة اليمن :


٢- هضاب محافظة الوسطى :

السؤال الثالث:- اجب عما يلي

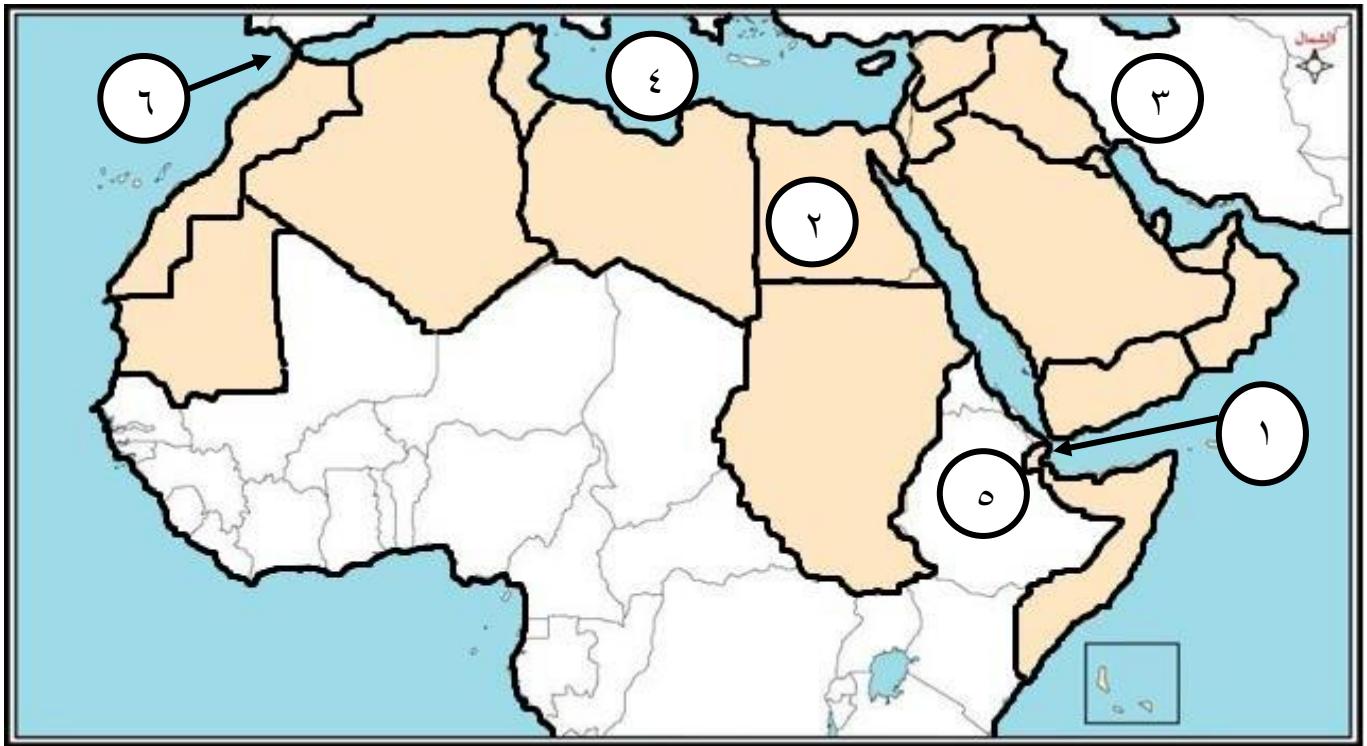
أولاً:

أ - ما اسم المشكلة الظاهرة بالصورة .

ب - اقترح حلاً لهذه المشكلة .



ثانياً: أمامك خريطة الوطن العربي ادرسها جيداً ثم أجب عن الاسئلة التالية:



- أ- اسم المسطح المائي المشار إليه بالرقم (٤).....
 ب- دولة الأحباش مشار إليها بالرقم (.....)
 ج- ضلل جبال حجر عمان .
 د- مضيق جبل طارق مشار إليها بالسهم رقم (.....)

ثالثاً: قارن بين كل من الإمبراطورية الرومانية ودولة الأحباش حسب الجدول التالي:

| دولة الأحباش | الإمبراطورية الرومانية | وجه المقارنة |
|--------------|------------------------|-----------------------------------|
| | | اسم الدولة حالياً |
| | | الأنشطة الاقتصادية التي يمارسونها |

السؤال الرابع: أجب عما يلي:

أولاً: أ- ما النتائج المترتبة على سقوط أمطار غزيرة في بعض الأحيان على بعض الصحاري ؟

ب- ماذا تتوقع أن يحدث لو زاد عدد القبائل المرتدة عن الاسلام ولم يقم سيدنا أبوبكر الصديق بالتصدي لها؟

ثانياً: أ- بم تفسر:

١- اهتمام عرب البوادي باقتناء الخيل.

٢- صعوبة ممارسة الانسان للزراعة على سفوح المناطق الجبلية .

ثالثاً: أ- صنف المناخات التالية (مناخ صحراوي - مناخ موسمي - مناخ البحر المتوسط) بما يناسبها من خصائص مناخية في الجدول .

| اسم الإقليم المناخي | اسم الإقليم المناخي |
|---------------------|--|
| | تتأثر المناطق الواقعة به بالرياح الموسمية الجنوبية الغربية |
| | حار جاف صيفاً ومعتدل ممطر شتاء |
| | تتركز حول مدار السرطان ويتميز بارتفاع شديد في درجات الحرارة صيفاً ونهاراً وانخفاضها بشكل واضح في فصل الشتاء وليلاً |

ب- عدد أهم المشكلات التي تتعرض لها التربة في الوطن العربي . (يكتفي بإثتان فقط)

(١) (٢)

انتهت الاسئلة مع تمنياتنا لكم بالتوفيق والنجاح



سلطنة عمان
وزارة التربية والتعليم
المديرية العامة للتربية والتعليم لمحافظة ظفار

نموذج إجابة امتحان نهاية الفصل الدراسي للصف الخامس للتعليم (الأساسي/العام)

للعام الدراسي ١٤٣٦هـ/١٤٣٧هـ - ٢٠١٥/٢٠١٦م

الدور - الفصل الأول

تنبيه: نموذج الإجابة في ثلاث صفحات

الدرجة الكلية : ٤٠ درجة

المادة: الدراسات الاجتماعية

أولاً: الأسئلة الموضوعية

| إجابة السؤال الأول | | | | |
|--------------------|---------------|--------|--------|---------------------------|
| المفردة | البديل الصحيح | الدرجة | الصفحة | |
| ١ | ج | ٢ | ٧٠ | اليمن |
| ٢ | ب | ٢ | ١٣ | الاستواء |
| ٣ | د | ٢ | ٧٩ | النبلاء |
| ٤ | ج | ٢ | ١٥ | ليبيا |
| ٥ | د | ٢ | ١٩ | السهول |
| ٦ | ب | ٢ | ١٦ | أكتشاف النفط |
| ٧ | أ | ٢ | ٨٨ | بدر |
| ٨ | ج | ٢ | ٤٨ | ارتفاع درجات وقلة الامطار |
| المجموع | | ١٦ | | |

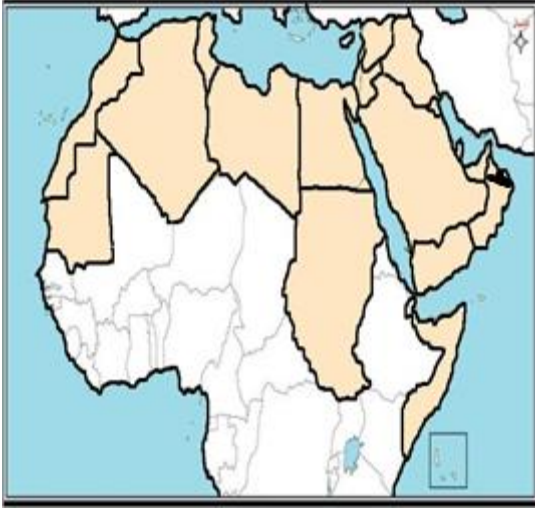
ثانياً: الأسئلة المقالية:-

اجابة السؤال الثاني

| الجزئية | المفردة | الاجابة الصحيحة | الدرجة | الصفحة | |
|---------|---------|--|--------|--------|----|
| أولاً | أ | ارتفاع نسبة الأملاح في التربة وهو ما يؤدي إلى موت النباتات | ٢ | ٦١ | |
| | ب | (١) غزوة أحد | | ٢ | ٨٨ |
| | | (٢) صلح الحديبية | | ٨٩ | |
| | | (٣) فتح مكة | | ٩١ | |
| | | (٤) وفاة الرسول صل الله عليه وسلم (لكل إجابة نصف درجة) | ٢ | ٩٢ | |
| ثانياً | أ | الموارد المائية السطحية -- الموارد المائية الجوفية (لكل إجابة نصف درجة) | ١ | ٥٥ | |
| | ب | الأنصار - اليهود (لكل إجابة نصف درجة) | ١ | ٨٦ | |

| | | | | |
|-------------|---|---|---|--------|
| ٣١ | ٢ | هضبة اليمن : الزراعة والرعي بسبب الامطار هضاب محافظة الوسطى : الزراعة واستخراج النفط في الوقت الحاضر (لكل اجابة درجة) | أ | ثالثاً |
| ٨ درجات فقط | | المجموع | | |

اجابة السؤال الثالث

| الصفحة | الدرجة | الاجابة الصحيحة | المفردة | الجزئية | |
|--------|--------|---|------------------------------|---------|--------|
| ٣٩ | ١ | - زحف الرمال | أ | أولاً | |
| ٣٩ | ١ | - زراعة الاشجار (مصدات الرياح) - استغلال الارض وعمل المنشآت والمسكن أو بما يفيد المعنى (يكتفي بذكر واحدة فقط) | ب | | |
| ١٣ | ١ | أ- البحر المتوسط | ج- | ثانياً | |
| ٨١ | ١ | ب- (٥) | | | |
| ٢٧ | ١ |  | | | |
| ١٦ | ١ | د- (٦) | | | |
| ٧٨ | ٢ | إثيوبيا | ايطاليا | أ | ثالثاً |
| ٨٠ | | الزراعة- حفر العاج - إذابة الذهب | الزراعة - التجارة - الصناعات | | |
| ٨١ | | أعمال المنسوجات - الصناعات الخشبية والجلدية | الحرفية | | |

| | | | | |
|-------------|--|--|--|--|
| ٨٢ | | الانشطة الاقتصادية يكتفي بذكر واحد فقط (لكل إجابة نصف درجة) | | |
| ٨ درجات فقط | | المجموع | | |

اجابة السؤال الرابع

| الصفحة | الدرجة | الاجابة الصحيحة | المفردة | الجزئية | | | | | | |
|--------------------|---|--|----------------|--|--------------------|--------------------------------|-----------------|---|---|--------|
| ٤٦ | ١ | تكون السيول والأودية والفيضانات المدمرة | أ | أولاً | | | | | | |
| ٩٥ | ١ | سيوثر على وحدة المسلمين - تهديد الوحدة الاسلامية - قلة عدد المسلمين - عدم انتشار الاسلام (مايفيد المعنى) | ب | | | | | | | |
| ٦٨ | ١ | لأن عليها يقاتل الفرسان وبواسطتها يتم الصيد | أ | ثانياً | | | | | | |
| ٢٨ | ١ | بسبب شدة الانحدار | ب | | | | | | | |
| ٥١ ٤١ ٤٦ | ٣ | <table border="1"> <tr> <td>المناخ الموسمي</td> <td>تتأثر المناطق الواقعة به بالرياح الموسمية الجنوبية الغربية</td> </tr> <tr> <td>مناخ البحر المتوسط</td> <td>حار جاف صيفاً ومعتدل ممطر شتاء</td> </tr> <tr> <td>المناخ الصحراوي</td> <td>تتركز حول مدار السرطان ويتميز بارتفاع شديد في درجات الحرارة صيفا ونهاراً وانخفاضها بشكل واضح في فصل الشتاء وليلاً</td> </tr> </table> <p>(لكل إجابة درجة)</p> | المناخ الموسمي | تتأثر المناطق الواقعة به بالرياح الموسمية الجنوبية الغربية | مناخ البحر المتوسط | حار جاف صيفاً ومعتدل ممطر شتاء | المناخ الصحراوي | تتركز حول مدار السرطان ويتميز بارتفاع شديد في درجات الحرارة صيفا ونهاراً وانخفاضها بشكل واضح في فصل الشتاء وليلاً | أ | ثالثاً |
| المناخ الموسمي | تتأثر المناطق الواقعة به بالرياح الموسمية الجنوبية الغربية | | | | | | | | | |
| مناخ البحر المتوسط | حار جاف صيفاً ومعتدل ممطر شتاء | | | | | | | | | |
| المناخ الصحراوي | تتركز حول مدار السرطان ويتميز بارتفاع شديد في درجات الحرارة صيفا ونهاراً وانخفاضها بشكل واضح في فصل الشتاء وليلاً | | | | | | | | | |
| ٦١ | ١ | انجراف التربة - فقدان خصوبتها - زيادة الملوحة فيها | ب | | | | | | | |
| ٨ درجات فقط | | المجموع | | | | | | | | |

أنتهى نموذج الإجابة،