

# الإجابة في نفس الورقة



يرجى قراءة التعليمات المدرجة


امتحان مادة الدراسات الاجتماعية للصف الثامن الأساسي  
للعام الدراسي ١٤٣٦/١٤٣٧ هـ — ٢٠١٥ / ٢٠١٦ م  
الدور الأول - الفصل الدراسي الأول

• تنبيه: الأسئلة في (٧) صفحات. • الزمن : ساعة ونصف.

## أجب عن جميع الأسئلة الآتية

السؤال الأول: ضع دائرة حول رمز الإجابة الصحيحة من بين البدائل المعطاة :


١- الشكل الذي يمثل المصدر الرئيس لحرارة الأرض :



د.



ج.



ب.



أ.

٢- المدينة التي شهدت بدء الرصد الجوي المنتظم في سلطنة عمان عام ١٩٤٢م :

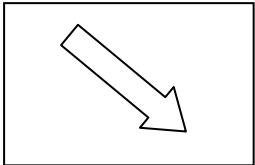
د. صحار

ج. نزوى

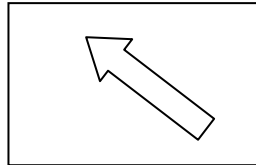
ب. صلالة

أ. مسقط


٣- السهم الذي يشير إلى الاتجاه الصحيح لحركة الرياح التجارية في النصف الجنوبي من الكرة الأرضية :



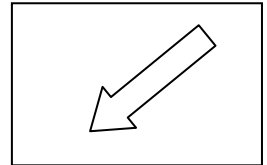
د.



ج.

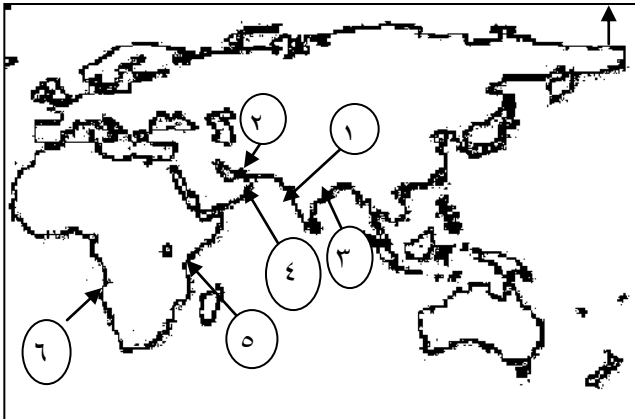


ب.



أ.

٤- الأرقام التي تشير إلى السواحل التي امتدت إليها الإمبراطورية العمانية في عهد السيد سعيد بن سلطان في الخريطة المقابلة :



ب. (٥، ٤، ٢)

أ. (٣، ٢، ١)

د. (٥، ٤، ٣)

ج. (٦، ٥، ٤)

( ٢ )

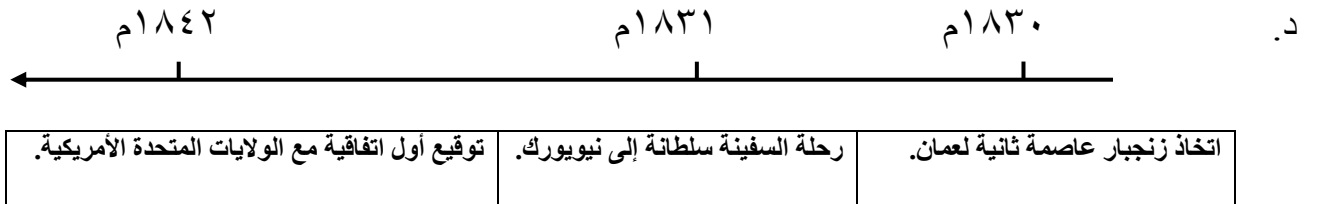
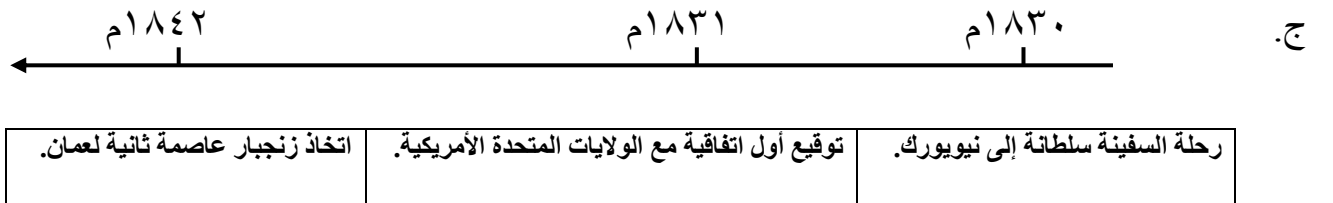
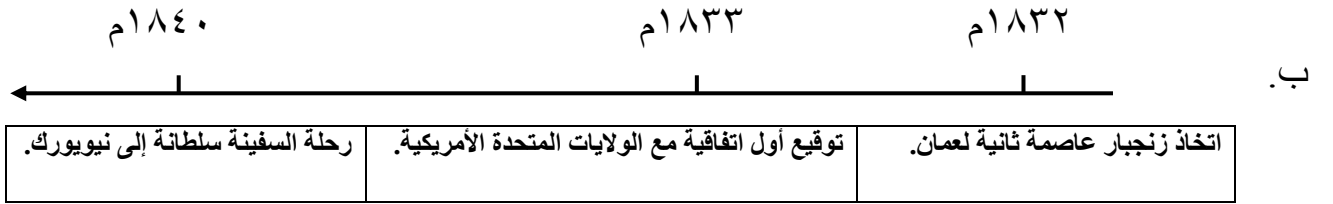
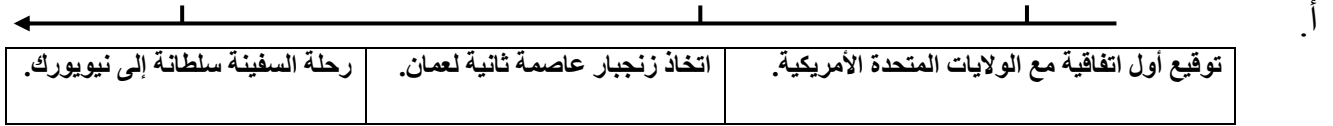
تابع امتحان مادة الدراسات الاجتماعية للصف الثامن الأساسي  
للعام الدراسي ١٤٣٦/١٤٣٧ هـ — ٢٠١٥ / ٢٠١٦ م  
الدور الأول – الفصل الدراسي الأول

تابع السؤال الأول: ضع دائرة حول رمز الإجابة الصحيحة من بين البدائل المعطاة :



- ٥- السيد الذي بنا القصر الظاهر في الصورة امامك :  
أ. سعيد بن سلطان.  
ب. سلطان بن أحمد.  
ج. برغش بن سعيد.  
د. حمد بن سعيد.

٦. المسطرة الزمنية الصحيحة التي تمثل تطور العلاقات العمانية الدولية في عهد السيد سعيد بن سلطان :



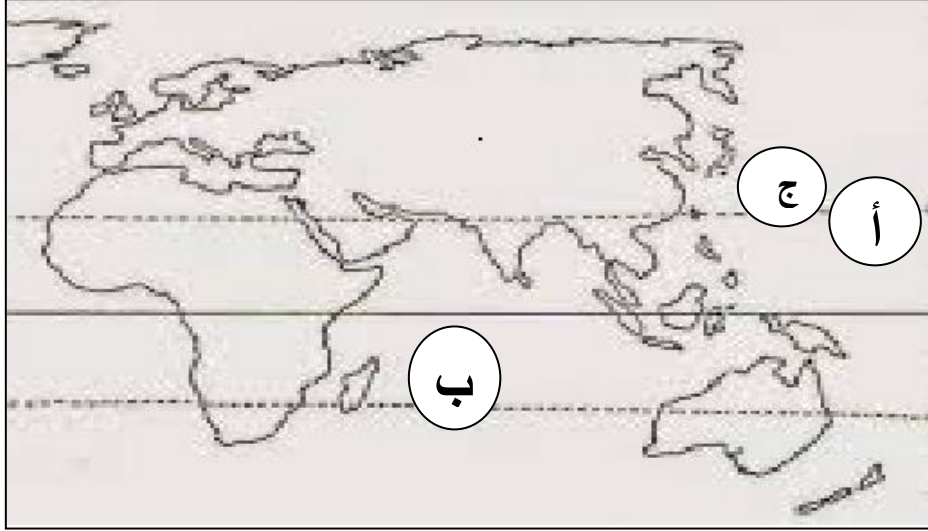
٧. عدد الأبواب التي يتكون منها النظام الأساسي للدولة في سلطنة عمان :

- أ. ٤      ب. ٥      ج. ٦      د. ٧  
٨. العمر بالسنوات الذي يشترط للشخصية المترشحة لعضوية مجلس الشورى أن لا يقل عن :  
أ. ٣٠      ب. ٤٠      ج. ٥٠      د. ٦٠

( ٣ )  
تابع امتحان مادة الدراسات الاجتماعية للصف الثامن الأساسي  
للعام الدراسي ١٤٣٦/١٤٣٧ هـ — ٢٠١٥ / ٢٠١٦ م  
الدور الأول – الفصل الدراسي الأول

**السؤال الثاني :**

أولاً : أمامك خريطة النصف الشرقي من الكرة الأرضية . ادرسها ثم أجب على ما يأتي .



١ . ارسم حركة الرياح الموسمية الصيفية والشتوية في قارة آسيا مراعيًا اتجاهاتها على الخريطة أمامك مستخدماً الرمز الآتيين:

← الرياح الموسمية الصيفية .  
- - - - - ← الرياح الموسمية الشتوية .

٢ . علل : نشأة الأعاصير المدارية في المنطقة المشار إليها بالرمز ج ؟

.....  
.....

٣ . ما نوع الضغط الجوي نظرياً في المنطقتين أ و ب؟

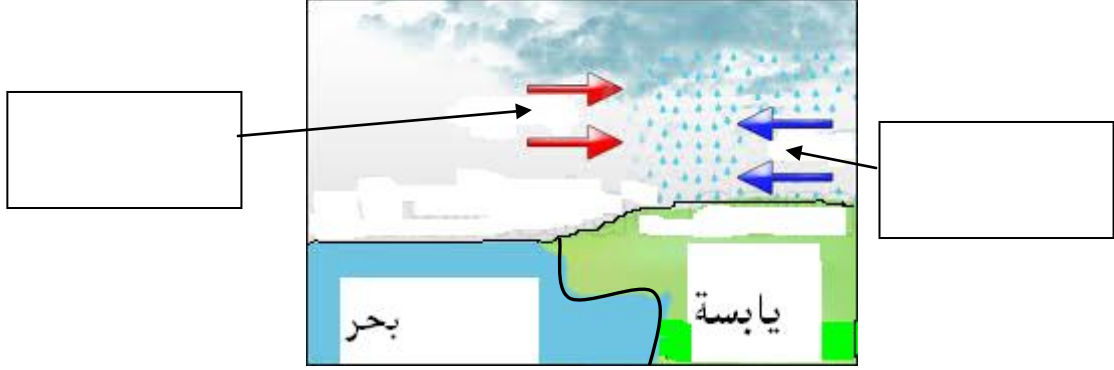
	أ
	ب

(٤)

تابع امتحان مادة الدراسات الاجتماعية للصف الثامن الأساسي  
للعام الدراسي ١٤٣٦/١٤٣٧ هـ — ٢٠١٥ / ٢٠١٦ م  
الدور الأول - الفصل الدراسي الأول

تابع السؤال الثاني :

ثانيا : ١ - ادرس الشكل الذي أمامك ثم أجب عن السؤالين الآتيين:



أ . ما نوع المطر الذي يمثله الشكل ؟

ب . اكتب نوع الهواء دافئ رطب / بارد جاف في المربع الذي يمثل كلا منهما على الشكل .

٢ - خرج محمد بسيارته من نخل باتجاه بركاء في الصباح الباكر وعند قرية الواسط توقف بسبب انخفاض مدى الرؤية نتيجة تكاثف بخار الماء قريبا من سطح الأرض ثم ما لبث أن تلاشى فتابع محمد طريقه إلى نزوى وفي الساعة الواحدة مساء احتجبت الشمس ونزل المطر وهو في قرية فرق .  
ما نوع التكاثف الذي حدث أثناء تواجد محمد في القريتين؟

الواسط:.....  
فرق:.....

ثالثا: صنف الصحاري الآتية وفق موقعها من الكرة الأرضية في الجدول التالي .

( بتجونيا - جوبي - سونوران - كلهاري )

صحاري تقع في نصف الكرة الجنوبي	صحاري تقع في نصف الكرة الشمالي

(٥)

تابع امتحان مادة الدراسات الاجتماعية للصف الثامن الأساسي  
للعام الدراسي ١٤٣٦/١٤٣٧ هـ — ٢٠١٥ / ٢٠١٦ م  
الدور الأول – الفصل الدراسي الأول

**السؤال الثالث :**

أولاً: مرت عمان بظروف سياسية صعبة قبيل ظهور دولة البوسعيد. في ضوء هذه العبارة اجب على  
السؤالين الآتيين:

١- اذكر اثنين من مظاهر الضعف السياسي في تلك الفترة .

.....

.....

٢ - سم الشخصية التي تمكنت من إعادة الوحدة الوطنية إلى عمان آنذاك .

.....

ثانياً : ١- دلل على : أ. العلاقة الطيبة بين حاكم بنجلور (سيبوا صاحب ) والإمام أحمد بن سعيد.

.....

ب. تعزيز النفوذ العماني في منطقة الخليج العربي في عهد السيد سلطان بن أحمد.

.....

٢ - عرف مفهوم الجمرک.

.....

.....

ثالثاً: أمامك بطاقة تعريفية بسلطنة عمان. ادرسها ثم أكمل البيانات الناقصة فيها .

اسم الدولة :	سلطنة عمان
اللغة الرسمية :	.....
العاصمة:	.....
الديانة الرسمية :	.....
نظام الحكم :	.....
اسس الحكم	العدل / الشورى / المساواه

(٦)

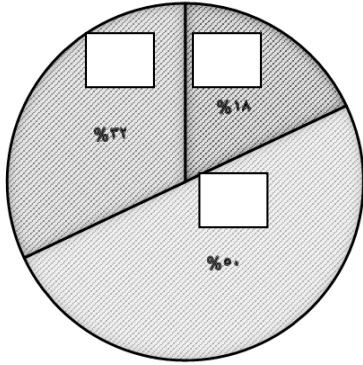
تابع امتحان مادة الدراسات الاجتماعية للصف الثامن الأساسي  
للعام الدراسي ١٤٣٦/١٤٣٧ هـ — ٢٠١٥ / ٢٠١٦ م  
الدور الأول - الفصل الدراسي الأول

**السؤال الرابع :**

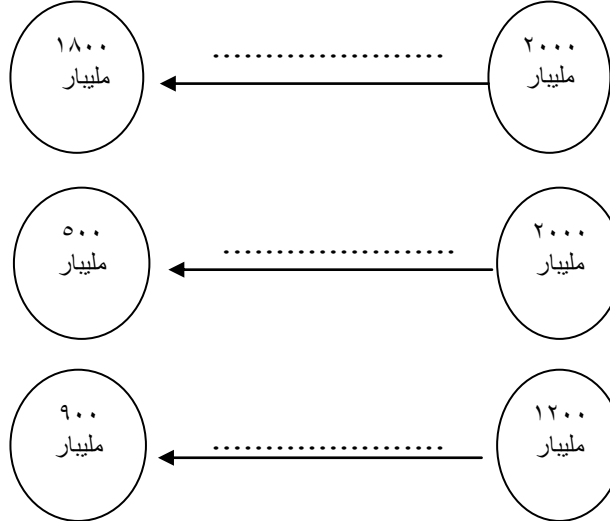
أولاً : ١ - أمامك قطاع عرضي يوضح الأشعة الشمسية الممتصة والمنعكسة. ادرسه ثم وزع عليه أرقام العبارات الآتية حسب ما يناسبها في القطاع.

- ١- أشعة ممتصة بواسطة الغبار والسحب.
- ٢- أشعة يمتصها سطح الأرض.
- ٣- أشعة منعكسة.

الإشعة الشمسية الممتصة والمنعكسة



٢ - اكتب على الأشكال الآتية قوة الرياح ( خفيفة / متوسطة / شديدة ) التي تناسب كلا منها .



ثانياً : كانت النهضة المباركة بداية لتنظيم العلاقات والمصالح الإدارية بين الناس في سلطنة عمان. في ضوء العبارة أجب عن السؤالين الآتيين:  
١ - عرف التنظيم الإداري .

٢ - اذكر المجلسين اللذين يتكون منهما مجلس عمان .

(٧)

تابع امتحان مادة الدراسات الاجتماعية للصف الثامن الأساسي  
للعام الدراسي ١٤٣٦/١٤٣٧ هـ — ٢٠١٥ / ٢٠١٦ م  
الدور الأول – الفصل الدراسي الأول

ثالثاً: مستعينا بجدول الرطوبة التالي احسب الرطوبة النسبية لمنطقة ما إذا علمت أن حرارة الترمومتر الجاف ٤٥ درجة سيليزية وحرارة الترمومتر المبلل ٣٥ درجة سيليزية. موضحاً إجابتك بالخطوات الحسابية .

.....

.....

.....

.....

.....

.....

.....

الفرق بين قراءتي الترمومترين الجاف والمبلل.															قراءة الترمومتر
١٥	١٤	١٣	١٢	١١	١٠	٩	٨	٧	٦	٥	٤	٣	٢	١	حرارة الجاف
٣٤	٣٧	٤٠	٤٤	٤٨	٥٢	٥٦	٦٠	٦٤	٦٩	٧٣	٧٨	٨٣	٨٩	٩٤	٤٧
٣٣	٣٦	٤٠	٤٣	٤٧	٥١	٥٥	٥٩	٦٤	٦٨	٧٣	٧٨	٨٣	٨٩	٩٤	٤٦
٣٢	٣٥	٣٩	٤٢	٤٦	٥٠	٥٤	٥٩	٦٣	٦٨	٧٣	٧٨	٨٣	٨٨	٩٤	٤٥
٣١	٣٤	٣٨	٤٢	٤٦	٥٠	٥٤	٥٨	٦٣	٦٨	٧٢	٧٨	٨٣	٨٨	٩٤	٤٤
٣٠	٣٣	٣٧	٤١	٤٥	٤٩	٥٣	٥٨	٦٢	٦٧	٧٢	٧٧	٨٣	٨٨	٩٤	٤٣

انتهت الأسئلة مع تمنياتنا لكم بالتوفيق والنجاح


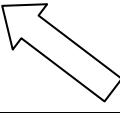
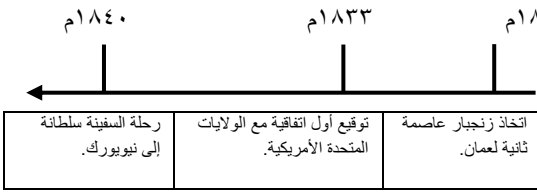
سلطنة عمان

وزارة التربية والتعليم

نموذج الإجابة للصف الثامن للفصل الدراسي الأول لمادة الدراسات الاجتماعية

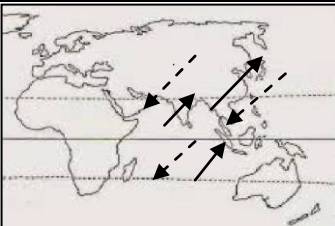
للعام الدراسي ١٤٣٦-١٤٣٧هـ / ٢٠١٥-٢٠١٦م \_ الدور الأول

إجابة السؤال الأول: (١٦ درجة) موزعة وفق الجدول التالي:

رقم الصفحة	الدرجة	الإجابة الصحيحة	رمز الإجابة الصحيحة	رقم المفردة
٢١	٢		د	١
١٨	٢	صلالة	ب	٢
٣٢	٢		ج	٣
٦١	٢	(٥، ٤، ٢)	ب	٤
٦٩	٢	سعيد بن سلطان	أ	٥
٧٦- ٧٤	٢	 <p>١٨٢٢م      ١٨٣٣م      ١٨٤٠م</p> <p>اتخاذ زنجبار عاصمة ثانية لعمان. توقيع أول اتفاقية مع الولايات المتحدة الأمريكية. رحلة السفينة سلطنة إلى نيويورك.</p>	ب	٦
٨٦	٢	٧	د	٧
٩٦	٢	٣٠	أ	٨

إجابة السؤال الثاني: (٨ درجات) موزعة كالتالي:

أولاً: ثلاث درجات، موزعة كالتالي:

الصفحة	الدرجة	الإجابة الصحيحة	الجزئية
٣٣	١ لكل نصف درجة.	 <p>ملاحظة: لا يشترط تعدد الأسهم لتحديد اتجاه الرياح عند التصحيح.</p>	أ
٣٦	١	نتيجة التقاء الهواء البارد مع الهواء الدافئ / الانخفاض الشديد للضغط الجوي. يكتفى بتعليل واحد.	ب
٢٨	١ لكل نصف درجة.	أ. ضغط مرتفع. ب. ضغط مرتفع.	ج

يتبع ٢/



نموذج الإجابة للصف الثامن للفصل الدراسي الأول لمادة الدراسات الاجتماعية  
للعام الدراسي ١٤٣٦-١٤٣٧هـ / ٢٠١٥-٢٠١٦م \_ الدور الأول

تابع إجابة السؤال الثاني :

ثانياً: ثلاث درجات موزعة كالتالي:

الصفحة	الدرجة	الإجابة الصحيحة	الجزئية
٤٠	١	أ. إعصاري/ جبهي / أمطار المنخفضات. ( يكتفى بإجابة واحدة)	١
	١ لكل نصف درجة.		

الصفحة	الدرجة	الإجابة الصحيحة	الجزئية
٣٨	١	الضباب/ Fog ( يكتفى بواحدة )	٢
٣٩	لكل نصف درجة.	السحب / الغيوم/ المزن. / Clouds ( يكتفى بواحدة )	

ثالثاً: درجتان موزعة كالتالي:

الصفحة	الدرجة	الإجابة الصحيحة	الجزئية						
٤٥	٢ لكل نصف درجة.	<table border="1"> <tr> <td>صحاري تقع في نصف الكرة الجنوبي</td> <td>صحاري تقع في نصف الكرة الشمالي</td> </tr> <tr> <td>بتجونيا</td> <td>جوبي</td> </tr> <tr> <td>كلهاري</td> <td>سونوران</td> </tr> </table>	صحاري تقع في نصف الكرة الجنوبي	صحاري تقع في نصف الكرة الشمالي	بتجونيا	جوبي	كلهاري	سونوران	-
صحاري تقع في نصف الكرة الجنوبي	صحاري تقع في نصف الكرة الشمالي								
بتجونيا	جوبي								
كلهاري	سونوران								

إجابة السؤال الثالث: ٨ درجات موزعة كالتالي:

أولاً: ثلاث درجات موزعة كالتالي:

الصفحة	الدرجة	الإجابة الصحيحة	الجزئية
٥٤	٢ لكل درجة.	التنافس على الإمامة/ اختلاف آراء أهل الحل والعقد حول من يتولى الإمامة / الغزو الفارسي أو الأطماع الخارجية/ التفكك والانقسام / الفتن والضعف السياسي. ( يكتفى بإثنين )	١
٥٥	١	الإمام أحمد بن سعيد.	٢

ثانياً: ثلاث درجات موزعة كالتالي:

الصفحة	الدرجة	الإجابة الصحيحة	الجزئية
٧٢	١	أ. إرسال الإمام احمد بن سعيد حملة تأديبية للقضاء على القراصنة/إرسال سيبوا صاحب هدية ثمينة إلى الإمام أحمد بن سعيد.(يكتفى بواحدة)	١
٥٨	١	ب. إخضاع جزيرتي قشم وهرمز / ضم بندر عباس وجواهر وشهباز/ حماية السفن التجارية في الخليج العربي / مساندة أهل البحرين ضد الغزو الفارسي. ( يكتفى بواحدة)	
٦٥	١	جهاز إداري يتولى فرض الرسوم وتحصيلها على البضائع الواردة إلى موانئ الدولة من الدول الأخرى.	٢

نموذج الإجابة للصف الثامن للفصل الدراسي الأول لمادة الدراسات الاجتماعية

للعام الدراسي ١٤٣٦-١٤٣٧هـ / ٢٠١٥-٢٠١٦م \_ الدور الأول

تابع إجابة السؤال الثالث:

ثالثاً : درجتان موزعة كالتالي:

الصفحة	الدرجة	الإجابة الصحيحة	الجزئية								
٨٦	٢ لكل نصف درجة.	<table border="1"> <tr> <td>العربية</td> <td>اللغة الرسمية</td> </tr> <tr> <td>مسقط</td> <td>العاصمة</td> </tr> <tr> <td>الإسلام</td> <td>الديانة الرسمية</td> </tr> <tr> <td>سلطاني</td> <td>نظام الحكم</td> </tr> </table>	العربية	اللغة الرسمية	مسقط	العاصمة	الإسلام	الديانة الرسمية	سلطاني	نظام الحكم	-
العربية	اللغة الرسمية										
مسقط	العاصمة										
الإسلام	الديانة الرسمية										
سلطاني	نظام الحكم										

إجابة السؤال الرابع: ودرجاته (٨) موزعة كالتالي:

أولاً: ثلاث درجات موزعة كالتالي:

الصفحة	الدرجة	الإجابة الصحيحة	الجزئية
٢٣	١,٥ لكل نصف درجة.	<p>الإشعة الشمسية المنعكسة والمعكسة</p>	١
٣١/٢٨	١,٥ لكل نصف درجة.		٢

ثانياً: ثلاث درجات، موزعة كالتالي:

الصفحة	الدرجة	الإجابة الصحيحة	الجزئية
٨١	١	القواعد والأسس والقوانين الموضوعية لتنظيم الأعمال والعلاقات وتحديد الحقوق والواجبات في مختلف مجالات حياة الإنسان.	١
٩٥	٢ لكل درجة.	- مجلس الدولة . - مجلس الشورى.	٢

ثالثاً: درجتان موزعة كالتالي:

الصفحة	الدرجة	الإجابة الصحيحة	الجزئية
٣٧	١	الخطوة الأولى : ٤٥-٣٥ = ١٠	-
	١	الخطوة الثانية: استخراج الرطوبة النسبية من الجدول الملحق ( ٥٠ )	-

نهاية النموذج