



امتحان نهاية الفصل الدراسي الأول للصف الثامن  
للعام الدراسي ١٤٣٦/١٤٣٧ هـ - ٢٠١٥ / ٢٠١٦ م  
الدور الأول

- المادة: العلوم
- زمن الإجابة: ساعة ونصف
- تنبيه: - الأسئلة في ( ٦ ) صفحات.
- أجب عن جميع الأسئلة مع توضيح خطوات الحل في الأسئلة المقالية.

الاسم: .....

الصف: ..... الشعبة: (.....)

أولاً: الأسئلة الموضوعية:

السؤال الأول:

ضع دائرة حول الحرف الدال على الإجابة الصحيحة من بين البدائل المعطاة للمفردات (١ - ٨) الآتية:

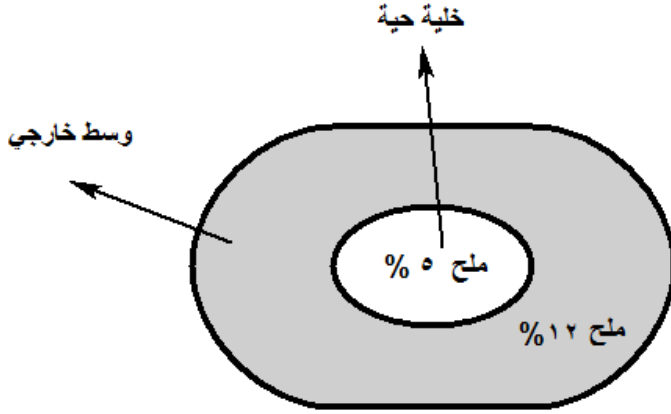
١- قام رجل بعمل حمية غذائية ذات جرعة كبيرة من الألياف المهمة، ما الآثار المتوقعة لهذه الحمية؟

- أ) عسر الهضم.
- ب) إثارة جدار القولون.
- ج) تنظيف جدار الجهاز الهضمي.
- د) تستغرق الأمعاء الغليظة والقولون وقتاً أطول في عملها.

٢- من السهل جدا التفريق بين خلية نباتية وخليه حيوانية وذلك من خلال تراكيب كل منهما. ما التصنيف الصحيح من الخيارات الآتية الذي يعبر عن ذلك؟

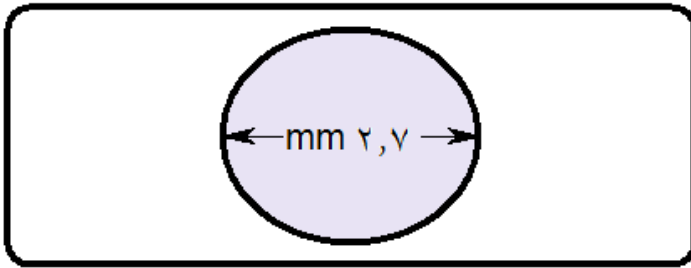
الخيارات	جدار الخلية	الفجوة العصارية	غشاء الخلية
أ	الخلية الحيوانية فقط	الخلية النباتية والحيوانية	الخلية النباتية فقط
ب	الخلية النباتية فقط	الخلية النباتية فقط	الخلية النباتية والحيوانية
ج	الخلية النباتية فقط	الخلية النباتية فقط	الخلية الحيوانية فقط
د	الخلية النباتية والحيوانية	الخلية لحيوانية فقط	الخلية النباتية والحيوانية

تابع السؤال الأول:



٣- تم وضع خلية حية في وسط خارجي كما بالشكل المقابل، ماذا نتوقع أن يحدث للخلية الحية؟

- (أ) تمتلئ  
(ب) تنكمش  
(ج) تبقى ثابتة  
(د) تنفجر

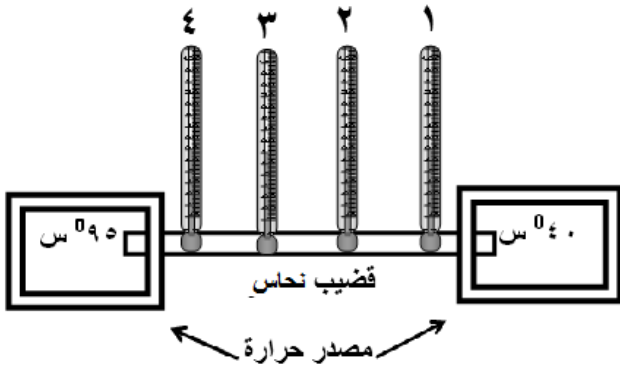


4- الشكل المقابل يوضح عينة من شريحة رطبة لخلايا البصل موضوعة تحت عدسة مجهر ضوئي، إذا كان حجم الخلية الواحدة في مجال قطر الرؤية يساوي (٠,٣ mm). ما العدد الكلي للأجسام في قطر مجال الرؤية؟

- (أ) ٠,١١ (ب) ٠,٨١ (ج) ٩ (د) ٩٠

٥- ما إسم الدرجة التي تبدأ عندها المادة في التحول من الحالة الغازية الى الحالة السائلة؟

- (أ) الانصهار (ب) الغليان (ج) التكثف (د) التجمد



٦- يمثل الشكل المقابل تجربة تم خلالها توصيل قضيب من النحاس بمصدرين للحرارة في نفس الوقت ، أي مما يأتي يصف قراءة درجة حرارة الثرمومترات في لحظة بدء التجربة؟

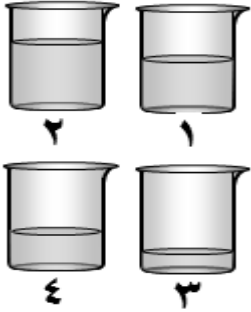
(أ)  $٤ > ٣ > ٢ > ١$

(ب)  $١ > ٢ > ٣ > ٤$

(ج)  $٤ < ١ < ٢ < ٣$

(د)  $٤ = ٣ = ٢ = ١$

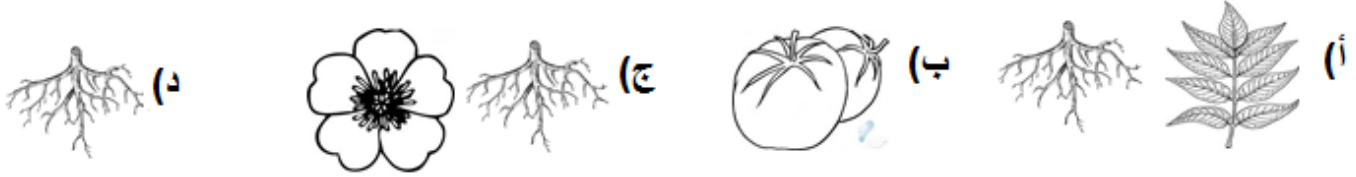
**تابع السؤال الأول:**



٧- تحتوي الكؤوس الأربعة في الشكل المقابل على كميات مختلفة من الماء عند نفس درجة الحرارة (٢٥°س) ، أي من هذه الكؤوس عند تسخينها جميعا بنفس المصدر تستغرق زمن أقل لتصبح درجة الحرارة (٨٠°س) ؟  
أ) ١      ب) ٢      ج) ٣      د) ٤

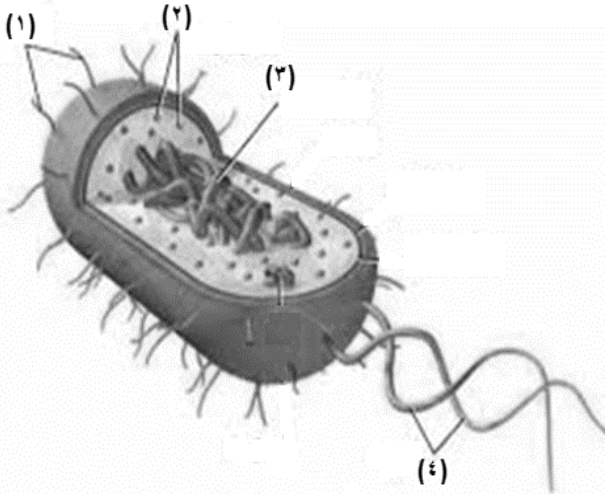


٨- بالنظر الى معدل NPK المكتوب على السماد الصناعي المقابل ، أي الصور الآتية مناسبة لوضعها كملصق عليه ؟



**ثانيا: الأسئلة المقالية:**

**السؤال الثاني:**



أ- الشكل المقابل يوضح تراكيب البكتيريا، ادرسه جيدا ثم أجب عن الآتي:  
١- أكتب أرقام التراكيب التي تشترك في الوظيفة.

.....  
.....

٢- ما رقم التركيب الذي يأتي بديلا عن النواة؟

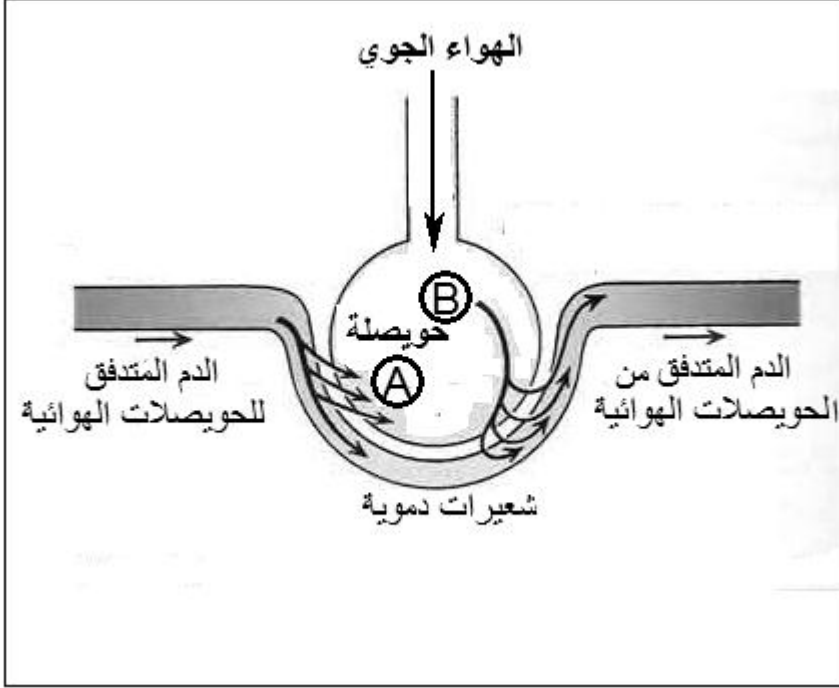
.....

٣- علل : للبكتيريا القدرة على حماية نفسها من كريات الدم البيضاء ؟

.....

## تابع السؤال الثاني :

ب- يوضح الشكل الآتي عملية التبادل الغازي بين الحويصلات الهوائية والشعيرات الدموية.



(١) ما الأجهزة التي ينتمي إليها كل من:

- الحويصلة: .....

- الشعيرات الدموية: .....

(٢) ما الغازات التي يمثلها كل من:

- الرمز (A): .....

- الرمز (B): .....

(٣) ما الغاز الذي يكون أكثر تركيزاً في هواء الزفير (A أم B)؟ ولماذا؟

.....

(ج)

١- فسر ما يأتي :

(أ) ثبات درجة الحرارة أثناء عملية الغليان .

.....

(ب) إرتداء ملابس بيضاء في فصل الصيف .

.....

٢- وضح المقصود بدرجة الحرارة .

.....

امتحان نهاية الفصل الدراسي الاول للصف الثامن  
للعام الدراسي ١٤٣٦/١٤٣٧ هـ — ٢٠١٥ / ٢٠١٦ م  
امتحان مادة: العلوم

## السؤال الثالث:

الطول (سم)		المادة
صفر <sup>0</sup> س	١٠٠ <sup>0</sup> س	
٨٠	٨٠,١١	فولاذ
٨٠	٨٠,٢٣	ألومنيوم
٨٠	٨٠,١٧	نحاس
٨٠	٨٠,٢٩	رصاص

أ) يبين الجدول المقابل أطوالاً لمواد صلبة مختلفة تم رفع درجة حرارتها من (صفر<sup>0</sup>س) إلى (١٠٠<sup>0</sup>س) ،  
تمعن جيداً في الجدول ثم أجب عن الأسئلة الآتية :  
١- أي المواد يُفضل استخدامها في إنشاء الجسور ؟ لماذا؟

.....  
.....

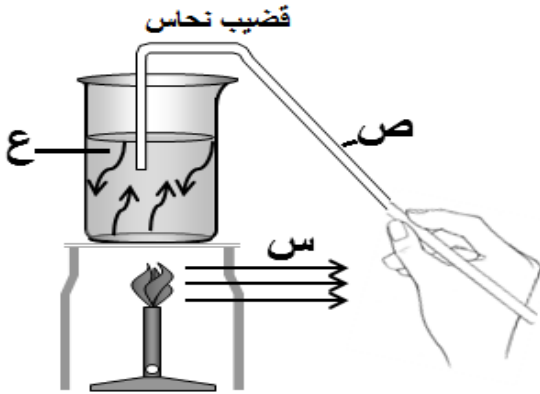
٢- ما المادة الأكثر انكماشاً عندما تبرد ؟

.....

٣- ما المادة التي جزيئاتها أكثر تماسكاً ؟

.....

ب) يمثل الشكل المقابل عملية تسخين وعاء به ماء بواسطة لهب :



١- حدد طرق انتقال الحرارة لليد من خلال (س و ص).

س : .....

ص : .....

٢- ما طريقة انتقال الحرارة عند (ع) ؟

.....

٣- أي من هذه الطرق تم توظيفها في مباني القلاع والحصون والتي تجعلنا نشعر بجو بارد داخلها ؟

.....

٤- أي من هذه الطرق تنتقل بها الطاقة الحرارية عبر الفضاء ؟

.....

امتحان نهاية الفصل الدراسي الاول للصف الثامن  
للعام الدراسي ١٤٣٦/١٤٣٧ هـ — ٢٠١٥ / ٢٠١٦ م  
امتحان مادة: العلوم

تابع السؤال الثالث:

ج) يتضمن الجدول الآتي مجموعة من المواد ، ادرسه جيدا ثم أجب عن الأسئلة التي تليه :

بروتينات	NaCl	كربوهيدرات
كالسيوم	HNO <sub>3</sub>	حديد

١- أكتب وظيفة واحدة لعنصري الكالسيوم والحديد في جسم الانسان؟

الكالسيوم .....

الحديد .....

٢- المواد العضوية في الجدول هي ..... و .....

٣- ما هي الايونات الناتجة من تفكك مركبي NaCl و HNO<sub>3</sub> في الماء؟

NaCl : .....

HNO<sub>3</sub> : .....

انتهت الأسئلة مع تمنياتنا لكم بالتوفيق والنجاح



المديرية العامة للتربية والتعليم بمحافظة جنوب الباطنة  
نموذج إجابة امتحان نهاية الفصل الدراسي الأول للصف الثامن  
للعام الدراسي ١٤٣٦/١٤٣٧ هـ - ٢٠١٥ / ٢٠١٦ م  
الدور الأول

الدرجة الكلية: ٤٠ درجة

المادة: العلوم  
تنبيه: نموذج الإجابة في (3) صفحات

أولاً: إجابة السؤال الموضوعي:

المخرج التعليمي	الدرجة	البديل الصحيح	المفردة
٢,٨,١ و	٢	(ج) تنظيف جدار الجهاز الهضمي.	١
١,٨,١ و	٢	ب   الخلية النباتية فقط   الخلية النباتية فقط   الخلية النباتية والحيوانية	٢
١,٨,١ ح	٢	(ب) تنكمش	٣
١,٨,٦ م	٢	(ج) ٩	٤
١,٨,٤ هـ	٢	(ج) التكتف	٥
١,٨,٤ ج	٢	(أ) $٤ > ٣ > ٢ > ١$	٦
١,٨,٤ أ	٢	(ج) ٣	٧
١,٨,٥ م	٢	(د) 	٨
١٦		المجموع	

(٢)  
 تابع نموذج إجابة امتحان نهاية الفصل الدراسي الأول للصف الثامن  
 للعام الدراسي ١٤٣٦/١٤٣٧ هـ - ٢٠١٥ / ٢٠١٦ م  
 الدور الأول  
 المادة: العلوم

ثانياً: إجابة الأسئلة المقالية:

الدرجة الكلية: ١٢ درجة		السؤال الثاني		
المخرج التعليمي	الدرجة	الإجابة الصحيحة	المفردة	الجزئية
٦،٨،١ ب، ج	١	(١)، (٤)	١	أ
	١	(٣)	٢	
	١	لوجود الكبسولة	٣	
١،٨،١ ب	١	الحوصلة: الجهاز التنفسي	١	ب
	١	الشعيرات الدموية: الجهاز الدوري		
	١	- الرمز (A): ثاني أكسيد الكربون الرمز (B): الاكسجين	٢	
	١	غاز (A) ثاني أكسيد الكربون لان الجسم يتخلص منه في عملية الزفير.	٣	
١،٨،٤ هـ	١	بسبب استهلاك الطاقة الحرارية في اضعاف القوى الكهرومغناطيسية بين جزيئات المادة.	أ	ج
١،٨،٤ د	١	لان الملابس البيضاء تعكس معظم الطاقة الحرارية الممتصة.	ب	
١،٨،٤ أ	١	مقياس لمتوسط طاقة حركة جزيئات المادة	٢	



(٣)

نموذج إجابة امتحان نهاية الفصل الدراسي الأول للصف الثامن  
للعام الدراسي ١٤٣٦/١٤٣٧ هـ – ٢٠١٥ / ٢٠١٦ م  
الدور الأول  
المادة: العلوم

السؤال الثالث		الدرجة الكلية: ١٢ درجة	
الجزئية	المفردة	الإجابة الصحيحة	الدرجة
أ	١	الفولاذ ، لأن تمدده أقل عند تعرضه للحرارة.	١/٢+١/٢
	٢	رصاص	١
	٣	فولاذ	١
ب	١	س: الإشعاع الحراري ص: التوصيل الحراري	١/٢ ١/٢
	٢	الحمل الحراري	١/٢
	٣	ع أو الحمل الحراري	١
	٤	الإشعاع	١/٢
ج	١	الكالسيوم:- تكوين العظام والأسنان – يساعد غشاء الخلية على أداء وظيفته.(يكتفى بواحدة فقط). الحديد:- يدخل في تكوين خلايا الدم الحمراء.	١ ١
	٢	كربوهيدرات و بروتينات	٢
	٣	$\text{Na}^+$ , $\text{Cl}^-$ :NaCl (لكل أيون مع شحنته الصحيحة نصف درجة) $\text{H}^+$ , $\text{NO}_3^-$ :HNO <sub>3</sub> (لكل أيون مع شحنته الصحيحة نصف درجة)	١ ١

انتهى نموذج الإجابة