



المديرية العامة للتربية والتعليم لمحافظة الظاهرة  
دائرة التكوين التربوي

امتحان نهاية الفصل الدراسي الأول . الدور الأول . العام الدراسي ٢٠١٥ / ٢٠١٦ م

الصفحة : التاسع	المادة : الدراسات الاجتماعية	الزمن : ساعة ونصف	الدرجة : ٤٠ درجة
-----------------	------------------------------	-------------------	------------------

تنبيه :

- الأسئلة في ( ٥ ) صفحات .
- الاجابة في نفس الورقة .

رقم السؤال	الدرجة بالأرقام	الدرجة بالحروف	اسم وتوقيع المصحح	ملاحظات
الأول				
الثاني				
الثالث				
الرابع				
المجموع الكلي				

\*\*\*\*\*

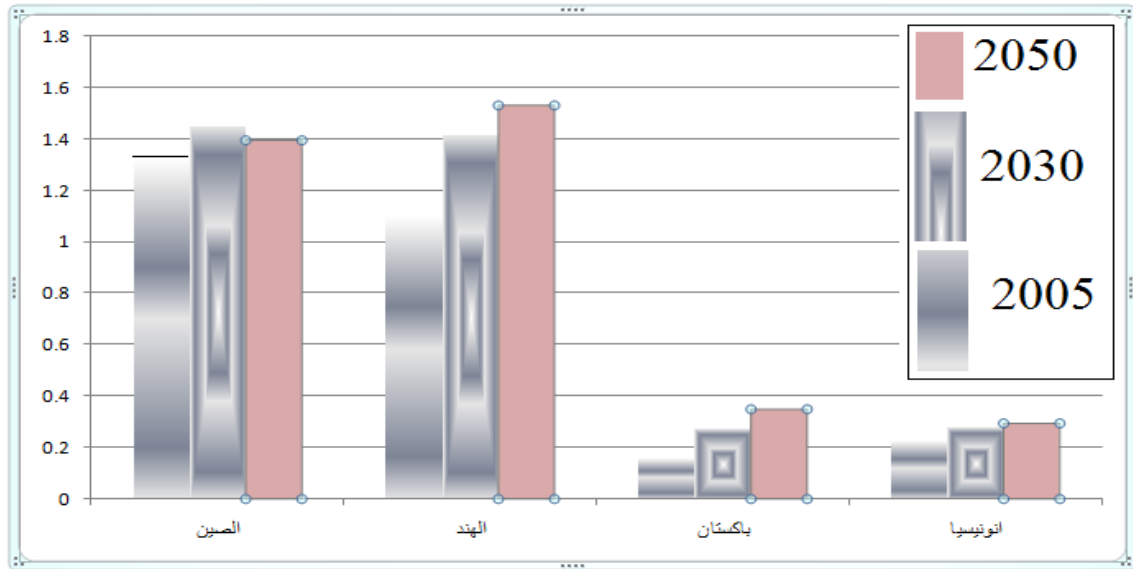
اسم الطالب / .....

الصف / ..... الشعبة / ( )

المدرسة / .....

١- تقع الفئة المنتجة داخل المجتمع في سن ما بين:  
أ- من المولد - ١٥ سنة ب- ١٥ - ٦٤ سنة ج- ٦٥ - ٨٠ سنة د- من ٨٠ - ٩٥ سنة

٢- الترتيب التنازلي المتوقع لسكان الدول الظاهرة في الشكل لعام ٢٠٥٠م:



- أ- الصين- الهند - اندونيسيا - باكستان.  
ب- الهند - الصين - باكستان - اندونيسيا.  
ج- اندونيسيا - باكستان - الصين - الهند.  
د- باكستان- اندونيسيا - الهند - الصين.

٣- بلغت الهجرة الداخلة لإحدى الدول ١٥٥٠ نسمة والهجرة الخارجة لنفس الدولة ٥٦٠ نسمة ،  
فإن صافي الهجرة لهذه الدولة يساوي :

- أ- ٩٦٠ نسمة ب- ٩٩٠ نسمة ج- ٢١١٠ نسمة د- ٢٢١٠ نسمة

٤- يشير السهم المشار إليه بالرقم (١) إلى احد المراكز التجارية العمانية في عهد السيد سعيد بن سلطان:



- أ- كلكتا ب- جوا  
ج- مدراس د- كراتشي

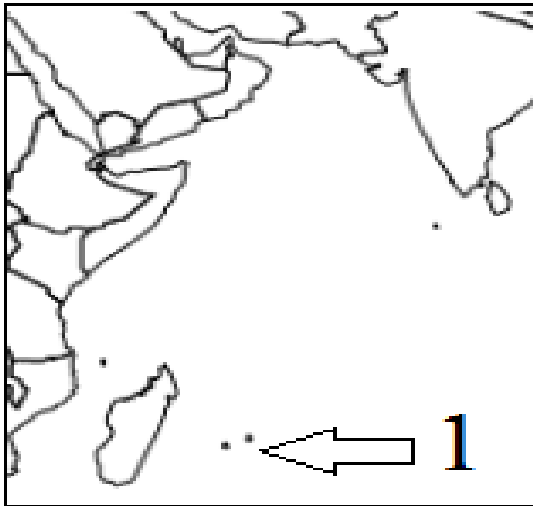
٥- "الأول في الحرب ، الأول في السلم والأول في قلوب أهل بلده ، فهو نموذج للحاكم الذي تفخر به إي دولة في العالم .. سلام على روحه " هذا النص مأخوذ من كتاب أقاليم البحيرات للكاتب ريتشارد بيرتون ، الحاكم الذي يقصده الكاتب هو :

أ- ماجد بن سعيد      ب- تركي بن سعيد      ج- أحمد بن سعيد      د- سعيد بن سلطان

٦- أنظمت سلطنة عمان إلى منظمة المؤتمر الإسلامي عام :

أ- ١٩٦٩م      ب- ١٩٧٠م      ج- ١٩٧١م      د- ١٩٧٢م

٧- الجزيرة المشار إليها بالرقم (١) في الخريطة التي أمامك هي :



ب- زنجبار

أ- سيشل

د- بمبا

ج- موريشيوس

٨- الاسم المختصر الذي يطلق على منظمة الأمم المتحدة للأغذية والزراعة :

د- ILO

ج- FAO

ب- UNICEF

أ- WHO

**السؤال الثاني: ( ٨ درجات )**

أ- أجب عن الاسئلة التالية :

١- ماذا تعني لك العبارة التالية :

( يسير الطيران العماني خمس رحلات أسبوعيا إلى زنجبار ..).

.....  
.....

٢- علل / قامت حركة مسلحة ضد التواجد العماني في زنجبار عام ١٩٦٤م.

.....  
.....

ب- أكمل الجدول التالي الذي يوضح بعض المنظمات العالمية والإسلامية :-

اسم المنظمة	المقر
اليونسكو	.....
مجمع الفقه الإسلامي	.....
المنظمة الإسلامية للتربية والعلوم والثقافة	..... .....

ج- وضح تأثير الحروب على البنية النوعية للسكان .

.....  
.....

( ٨ درجات )

السؤال الثالث : أجب عن جميع الأسئلة التالية :

أ- أدرس الجدول التالي ثم أجب عن الأسئلة التي تليه .

المحافظة	عدد الذكور	عدد الإناث	نسبة النوع العامة
مسقط	٣٧١٩١٦	٢٦٠١٥٧	١٤٣
الباطنة	٣٥١١٨٩	٣٠٢٣١٦	١١٦
الظاهرة	١١٨١٧٩	٨٨٩٣٦	١٣٣
مسندم	١٧١٣٢	١١٢٤٦	١٥٢
الشرقية	١٧٠٩٤٣	١٤٢٨١٨	١٢٠
ظفار	١٢٧١٩٩	٨٨٧٦١	١٤٣
الداخلية	١٤٢٠٣١	١٢٥١٠٩	١١٤
الوسطى	١٤٦٥٠	٨٣٣٣	١٧٦
السلطنة	١٣١٣٢٣٩	١٠٢٧٥٧٦	؟؟؟؟

١- احسب نسبة النوع في السلطنة .

.....  
.....  
.....

٢- ما أكبر محافظة ترتفع بها نسبة النوع في السلطنة ؟ فسر ذلك .

.....  
.....

٣- اقترح حلولا لتخفيض نسبة النوع في السلطنة .

.....  
.....  
.....

ب- عرف المفاهيم التالية :

١- الهرم السكاني .

.....  
.....

٢- الجوار الجغرافي

.....  
.....

٣- أمد الحياة

.....  
.....

السؤال الرابع : ( ٨ درجات )

أ) أمامك خريطة للدول المطلة على المحيط الهندي . أدرسها جيدا ثم أجب عن الأسئلة التي تأتي بعدها :



- ١- يشير الرقم ١ على الخريطة إلى إحدى الدول المنظمة إلى رابطة الدول المطلة على المحيط الهندي:.....
- ٢- وقع على الخريطة بحر العرب.
- ٣- ظلل جزيرة مدغشقر على الخريطة.

ب) "بلغ عدد سكان دولة قطر ٢٢٨٨٠٠٠ نسمة لعام ٢٠١٥ م . وبلغت المساحة الكلية لها ١١٥٧١ كم<sup>٢</sup> .  
في ضوء العبارة السابقة اجب عن الأسئلة التالية ،،  
١- احسب الكثافة السكانية.

٢- اختر / تعتبر الكثافة السكانية لدولة قطر (مرتفعة جدا - مرتفعه - متوسطة - منخفضة )

انتهت الاسئلة مع أطيب التمنيات للجميع بالتوفيق والنجاح



سلطنة عُمان  
وزارة التربية والتعليم  
المديرية العامة للتربية والتعليم بمحافظة الظاهرة  
دائرة التقييم التربوي

نموذج إجابة امتحان نهاية الفصل الدراسي الأول - الدورة الأولى - العام الدراسي ٢٠١٥/٢٠١٦ م

الصف: التاسع الاساسي	المادة: الدراسات الاجتماعية	الزمن: ساعتان	الدرجة: ٤٠ درجة
----------------------	-----------------------------	---------------	-----------------

إجابة السؤال الأول:


السؤال	١	٢	٣	٤	٥	٦	٧	٨
الرمز الصحيح	ب	ب	ب	أ	د	د	ج	ج
الإجابة الصحيحة	١٥ - ٦٤ سنة	الهند - الصين - باكستان - اندونيسيا	٩٩٠ نسمة	كلكتا	سعيد بن سلطان	١٩٧٢ م	موريشيوس	FAO
الدرجة	٢	٢	٢	٢	٢	٢	٢	٢
الصفحة	١٥	٣١	٢٨	٤٤	٤٧	٧٥	٤٤	٨٤

## إجابة السؤال الثاني:

الصفحة	الدرجة	الإجابة								
٦٤	٢	<p>أ- ١- العلاقات القوية بين زنجبار والسلطنة.</p> <p>- ازدهار النشاط التجاري بين الدولتين.</p> <p>- استغلال الفرص الاستثمارية في زنجبار.</p> <p>- (يكتفى باثنتين)</p>								
٦٣	٢	<p>٢- بسبب التأثيرات الخارجية التي أدت إلى التحريض ضد التواجد العماني إلى زنجبار .</p>								
٨٢	لكل مفردة درجة ( ٣ درجات )	ب-								
٧٥		<table border="1" style="width: 100%; border-collapse: collapse;"> <thead> <tr> <th style="width: 50%;">اسم المنظمة</th> <th style="width: 50%;">المقر</th> </tr> </thead> <tbody> <tr> <td style="text-align: center;">اليونسكو</td> <td style="text-align: center;">باريس</td> </tr> <tr> <td style="text-align: center;">مجمع الفقه الإسلامي</td> <td style="text-align: center;">مكة المكرمة</td> </tr> <tr> <td style="text-align: center;">المنظمة الإسلامية للتربية والعلوم والثقافة</td> <td style="text-align: center;">الرباط</td> </tr> </tbody> </table>	اسم المنظمة	المقر	اليونسكو	باريس	مجمع الفقه الإسلامي	مكة المكرمة	المنظمة الإسلامية للتربية والعلوم والثقافة	الرباط
اسم المنظمة		المقر								
اليونسكو		باريس								
مجمع الفقه الإسلامي	مكة المكرمة									
المنظمة الإسلامية للتربية والعلوم والثقافة	الرباط									
٧٥										
١٦	١	<p>ج- تؤدي إلى اختلاف معدلات الوفيات بين الذكور والإناث ، حيث تعمل على زيادة الوفيات عند الذكور .</p>								



الصفحة	الدرجة	إجابة السؤال الثالث :
١٧	٢	١ - نسبة النوع = $\frac{\text{عدد الذكور}}{\text{عدد الإناث}}$ $100 \times \frac{\text{عدد الذكور}}{1313239}$ $100 \times \frac{\text{عدد الإناث}}{1027576}$ $127,8 =$
١٧	٢	٢ - محافظة الوسطى - بسبب زيادة اعداد الوافدين الذكور للعمل في قطاع النفط.
١٧	١	٣ - اتباع سياسة التعمين - توزيع الخدمات بين محافظات السلطنة (يكتفى بواحد)
٢٣	١	ب ١ - رسم بياني يبين توزيع السكان حسب فئاتهم العمرية والنوعية.
٤١	١	٢ - يستخدم للدلالة على الدول التي ترتبط فيما بينها بالموقع والقرب المكاني والامتداد الجغرافي حيث تتقاسم الموقع الفلكي والحدود السياسية.
٢١	١	٣ - عدد السنوات المتوقع ان يعيشها الانسان.

الصفحة	الدرجة	إجابة السؤال الرابع:
٨١	٢ ٢ ١	 <p>أ - ١ - استراليا ٢ - على الخريطة ٣ - على الخريطة</p>
٣٢	٢	<p>١ - الكثافة السكانية = <math>\frac{\text{عدد السكان}}{\text{المساحة}}</math></p> $\frac{2211000}{11571} = 197,7 \text{ نسمة/كم}^2$
٣٢	١	٢ - مرتفعة.

انتهى نموذج الاجابة

٩٩٤٥٧١٧٢