

اختبار نهاية الفصل الدراسي الأول- الدور الأول للصفوف من (٥-٩) للعام الدراسي ١٤٣٦ / ١٤٣٧ هـ - ٢٠١٥ / ٢٠١٦ م

- المادة: الدراسات الإجتماعية
- زمن الإجابة: ساعة ونصف
- عدد صفحات أسئلة الاختبار: (٥) .
- الإجابة في الورقة نفسها.

	اسم الطالب
الصف	المدرسة

درجة السؤال		السؤال
عشرات	آحاد	
		١
		٢
		٣
		٤
		٥
		٦
		٧
		٨
		المجموع
	٤٠	المجموع الكلي

/ التوقيع

/ اسم المصحح

/ التوقيع

/ اسم المراجع

الامتحان النهائي للصف الخامس للفصل الدراسي الأول/الدور الأول للعام الدراسي ٢٠١٥/٢٠١٦ م

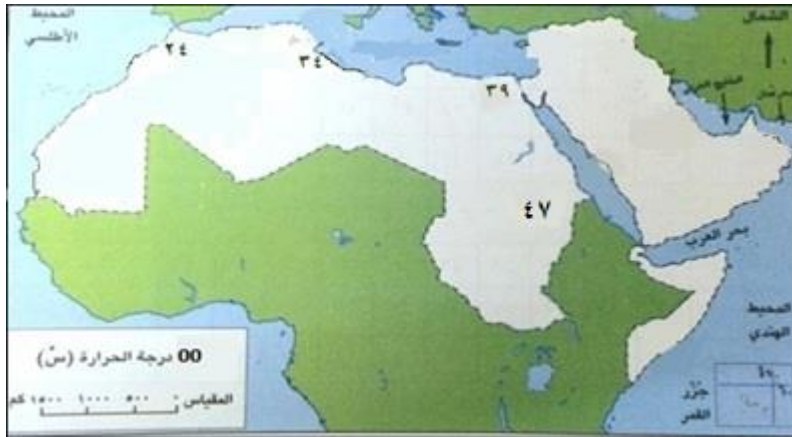
المادة: الدراسات الاجتماعية الزمن: ساعة ونصف

الدرجة الكلية: (٤٠) درجة
اسم الطالب/ة:
تنبيه: الأسئلة في (٥) صفحات
الشعبة:

أجب عن جميع الأسئلة الآتية:

السؤال الأول: ضع دائرة حول رمز الإجابة الصحيحة من بين البدائل المعطاة:

- (١) يقع الوطن العربي بالنسبة لدائرة الاستواء بين دائرتي العرض :
 (أ) ٦٠ ج / ١٧ ش
 (ب) ١٢ ش / ٣٧,٥ ج
 (ج) ١٧ ش / ٦٠ ج
 (د) ١٢ ج / ٣٧,٥ ش



- (٢) تبلغ درجة الحرارة في مدينة الخرطوم في الخريطة المقابلة :
 (أ) ٣٤
 (ب) ٣٩
 (ج) ٤٢
 (د) ٤٧

- (٣) تقع رمال القوز في:
 (أ) ليبيا
 (ب) تونس
 (ج) السودان
 (د) الجزائر

- (٤) أول مسجد بني في الإسلام :
 (أ) المسجد الحرام
 (ب) المسجد النبوي
 (ج) المسجد الأقصى
 (د) مسجد قباء

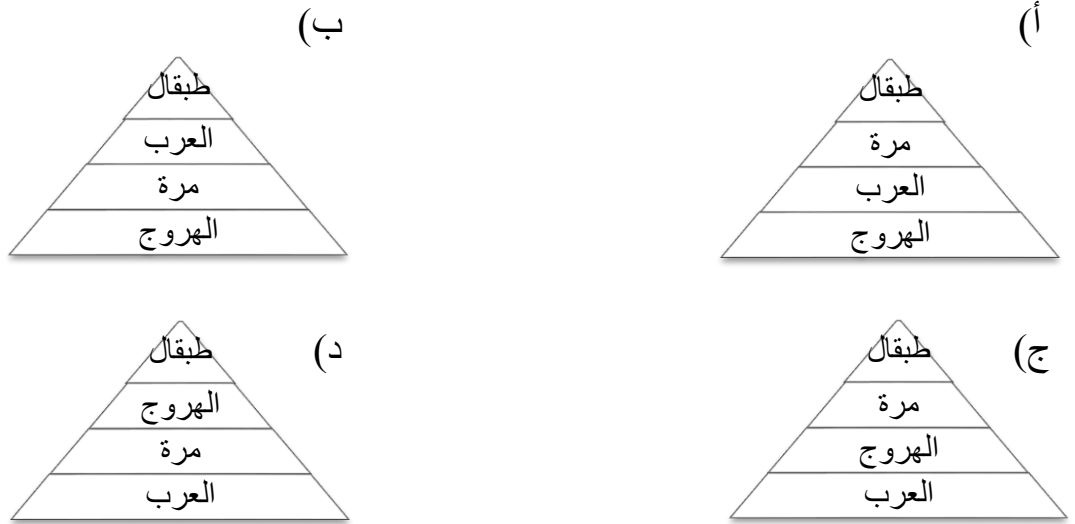
- (٥) تتأثر ولاية هيمما في سلطنة عمان بالمناخ :
 (أ) الموسمي
 (ب) الصحراوي
 (ج) الاستوائي
 (د) المتوسطي

(٢)

تابع المادة: الدراسات الاجتماعية الصف: الخامس - الفصل الدراسي: الأول - الدور: الأول العام الدراسي: ٢٠١٥/٢٠١٦م

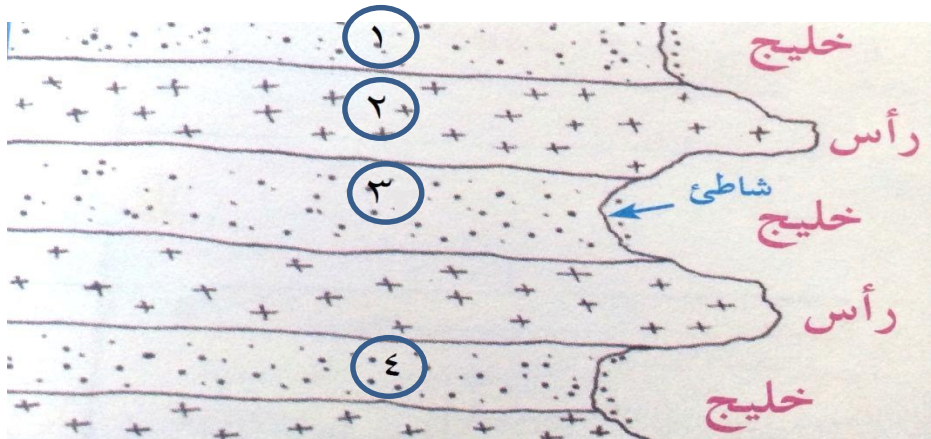
تابع السؤال الأول:

٦) الترتيب الصحيح للجبال الآتية من الأعلى إلى الأدنى ارتفاعا :



٧) ورثت الإمبراطورية البيزنطية الإمبراطورية الرومانية بعد سقوط روما في القرن الميلادي :
(أ) الرابع (ب) الخامس (ج) السادس (د) السابع

٨) الرقم الذي يشير إلى الصخور الصلبة في الشكل المقابل :



- (أ) ١
(ب) ٢
(ج) ٣
(د) ٤

السؤال الثاني:

(أ) عرف ما يلي :
١- الهضبة .

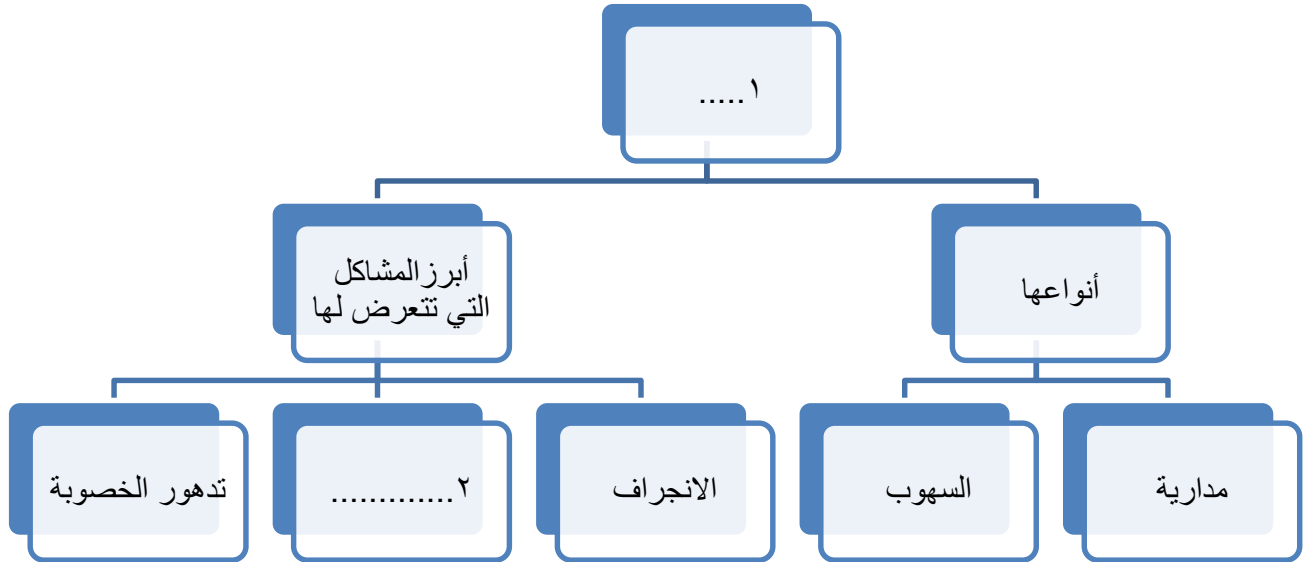
٢- المناخ .

تابع السؤال الثاني:

(ب) صنف الدول العربية التالية (تونس / العراق / السعودية / موريتانيا / جيبوتي / البحرين) إلى دول تقع في قارة آسيا و أخرى تقع في قارة أفريقيا.

قارة أفريقيا	قارة آسيا
.....
.....
.....

(ج) اكمل تصميم الخريطة الذهنية التالية بما يناسبها :

**السؤال الثالث:**

(أ) أذكر ثلاثة من شروط صلح الحديبية.

.....

.....

.....

.....

(٤)

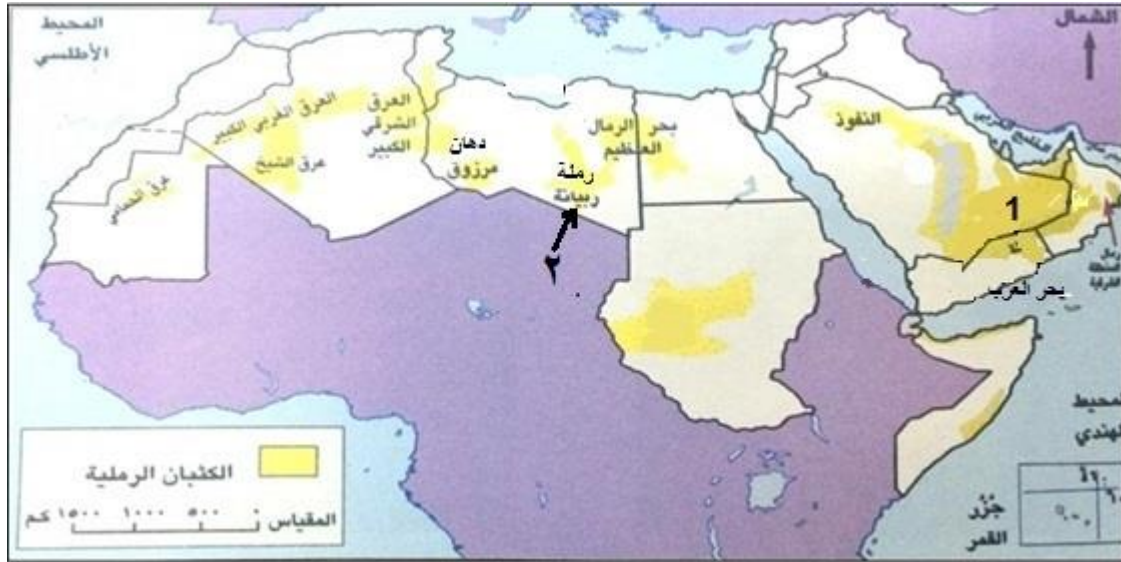
تابع المادة: الدراسات الاجتماعية الصف: الخامس - الفصل الدراسي: الأول - الدور: الأول العام الدراسي: ٢٠١٥/٢٠١٦م

تابع السؤال الثالث:

ب) أمامك جدول يوضح ألقاب واسماء حكام مجموعة من الدول المحيطة بشبه الجزيرة العربية قديماً ، أدرسه جيداً، ثم أنسب كل لقب أو اسم للدولة التي تمثله.
(الفرس / مصر / الحبشة / الروم)

الدولة	الحاكم
.....	هرقل
.....	النجاشي
.....	كسرى
.....	المقوقس

ج) أمامك خريطة توزيع الكتلان الرملية في الوطن العربي، أدرسها جيداً ثم أجب على الأسئلة التي تليها :



١ - سم:

أ) الرملة المشار إليها بالرقم (١).

.....

ب) الدولة التي تقع فيها الرملة المشار إليها بالرقم (٢).

.....

٢- ما الجهة الرئيسية التي يقع فيها بحر الرمال العظيم بالنسبة للبحر المتوسط؟

.....

السؤال الرابع:

أ) أمامك شكل من الأشكال الرملية التي تظهر في الصحاري العربية، أدرسه جيداً ثم أجب على الأسئلة التي تليه.



١- ما اسم هذا الشكل؟

.....

٢- ما العامل الطبيعي الذي يتحكم في تحديد حجمه؟

.....

ب) " لا يعاني الوطن العربي من العجز المائي " هل هذه العبارة صحيحة أم خاطئة؟ مِعلاً إجابتك.

.....

.....

ج) أمامك خريطة شبه الجزيرة العربية والدول المحيطة بها قبيل الإسلام. أدرسها جيداً ، ثم أجب على الأسئلة التي تليها:



١- ما اسم الإمبراطورية المشار إليها بالرقم (٧)؟

.....

٢- أكتب اسم بحر القلزم في موقعه الصحيح على الخريطة.

٣- ما الرقم الذي يشير إلى المدينة التي هاجر إليها الرسول صلى الله عليه وسلم؟

.....

انتهت الأسئلة، مع الأمنيات لكم بالنجاح والتفوق



نموذج الإجابة امتحان الصف الخامس للعام الدراسي ٢٠١٥/٢٠١٦م

الدور الأول – الفصل الدراسي الأول

المادة الدراسات الاجتماعية - الدرجة الكلية ٤٠ درجة

إجابة السؤال الأول : (٦ درجة) لكل مفردة درجتان عدد أوراق الإجابة (٣)

رقم المفردة	١	٢	٣	٤	٥	٦	٧	٨
رمز الإجابة	د	د	ج	د	ب	أ	ب	ب
الإجابة	١٢ ج / ٣٧,٥ ش	٤٧	السودان	قباة	الصحراوي		الخامس	٢
الصفحة	١١	٤٤	٣٥	٨٥	٤٩	٢٧	٧٨,٩٢	٢٠
الدرجة	٢	٢	٢	٢	٢	٢	٢	٢

إجابة السؤال الثاني (٨ درجات)

المفردة	الإجابة	الدرجة	الصفحة
أ	١- الهضبة : الأراضي المنبسطة (قليلة الانحدار) التي ترتفع عما يجاورها من أراضي.	١,٥	٣١
	٢- المناخ: متوسط حالة الجو لفترة زمنية طويلة قد تكون شهرا أو فصلا أو سنة أو أكثر.	١,٥	٤١
ب	- تونس / موريتانيا/ جيبوتي في قارة افريقيا - السعودية / العراق /البحرين في قارة آسيا	٣	١٣,١١
	(لكل نصف درجة)		
ج	١- التربة ٢- الملوحة	١	٥٩
		١	٦١

إجابة السؤال الثالث (٨ درجات)

المفردة	الإجابة	الدرجة	الصفحة
أ	<p>- وقف الحرب بين قريش والمسلمين مدة عشر سنوات</p> <p>- يعيد الرسول صلى الله عليه وسلم من يأتيه مسلما دون إذن وليه.</p> <p>- لا تلتزم قريش بإعادة من يأتيها من عند محمد صلى الله عليه وسلم مرتدا عن الاسلام .</p> <p>- للقبائل العربية حرية التحالف مع قريش أو مع المسلمين.</p> <p>- يرجع الرسول صلى الله عليه وسلم والمسلمون هذا العام دون زيارة البيت الحرام، على ان يعودوا في العام القادم.</p> <p>(يكتفى بثلاثة شروط ولكل درجة)</p>	٣	٨٩
ب	<p>هرقل = الروم</p> <p>النجاشي = الحبشة</p> <p>كسرى = الفرس</p> <p>المقوقس = مصر</p> <p>(لكل نصف درجة)</p>	٢	٩١
ج	<p>١- أ- رمال الربع الخالي.</p> <p>ب- ليبيا</p> <p>٢- الجنوب.</p>	١ ١ ١	٣٥

إجابة السؤال الرابع (٨ درجات)

المفردة	الإجابة	الدرجة	الصفحة
أ	١ - الكثبان الهلالية. ٢- الرياح.	١ ١	٣٧-٣٦
ب	العبارة خاطئة لان معظم المجاري المائية في الوطن العربي مؤقتة الجريان/ سيادة المناخ الصحراوي/ قلة الامطار وشدة التبخر/ زيادة عدد السكان / عمليات التنمية. (يكتفى بتعليقين ولكل درجة)	١ ٢	٥٦ ٥٧/٥٦/٥٥
ج	١- الامبراطورية البيزنطية ٢- موقع بحر القلزم على الخريطة	١ ١	٦٧
		١	
	٣- (٣)		

نهاية نموذج الإجابة ،،