

اختبار نهاية الفصل الدراسي الأول- الدور الأول للصفوف من (٥-٩)

للعام الدراسي ١٤٣٦ / ١٤٣٧ هـ - ٢٠١٥ / ٢٠١٦ م

المادة: الدراسات الاجتماعية • عدد صفحات أسئلة الاختبار: (٥) .

زمن الإجابة: ساعة ونصف • الإجابة في الورقة نفسها.

	اسم الطالب
الصف	المدرسة

درجة السؤال		السؤال
عشرات	آحاد	
		١
		٢
		٣
		٤
		٥
		٦
		٧
		٨
		المجموع
	٤٠	المجموع الكلي

/ التوقيع

/ اسم المصحح

/ التوقيع

/ اسم المراجع

الامتحان النهائي للصف السادس الفصل الدراسي الأول/الدور الأول للعام الدراسي ٢٠١٥-٢٠١٦ م

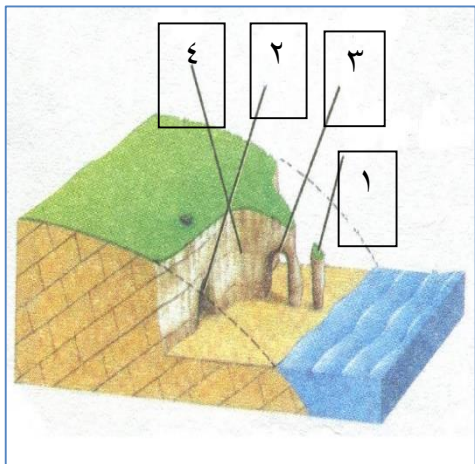
المادة: الدراسات الاجتماعية	الزمن: ساعة ونصف
الدرجة الكلية: (٤٠) درجة	تنبيه: الأسئلة في (٥) صفحات
اسم الطالب/ة:	الشعبة:

أجب عن جميع الأسئلة الآتية

السؤال الأول: ضع دائرة حول رمز الإجابة الصحيحة من بين البدائل المعطاة:

- ١- أحد أغلفة النظام الأرضي ويحدث فيه تدهور النباتات الطبيعية والحياة البرية :
 (أ) الحيوي (ب) الجوي (ج) المائي (د) الصخري
- ٢- تقع سلسلة جبال الروكي في قارة :
 (أ) أوروبا (ب) آسيا (ج) أفريقيا (د) أمريكا الشمالية

٣- يشير الرقم (١) الواضح بالشكل الى أحد أشكال النحت الناجمة عن الأمواج :



- (أ) الكهف (ب) القنطرة
 (ج) الجرف (د) المسلة

٤- يطلق على الخط الذي يصل بين قمم الجبال والتلال التي تحيط بحوض التصريف المائي :

- (أ) المنبع (ب) المصب (ج) الفاصل المائي (د) السفح الجانبي

٥- أول اعلان لاستقلال عمان عن الدولة العباسية في العام الهجري :

- (أ) ١٣١ (ب) ١٣٢ (ج) ١٣٣ (د) ١٣٤

(٢)


المادة: الدراسات الاجتماعية الصف: السادس الفصل الدراسي: الأول - الدور: الأول العام الدراسي: ٢٠١٥-٢٠١٦ م

تابع السؤال الاول:

٦- انطلقت حملة العلم للمذهب الأباضي الى جميع المناطق التالية ماعدا:

(أ) عمان (ب) فارس (ج) الاندلس (د) اليمن

٧- الطبقة التي تحترق فيها الشهب والنيازك كما هو واضح في الشكل :



(أ) التروبوسفير

(ب) الاستراتوسفير

(ج) الميزوسفير

(د) الثيرموسفير

٨- اتجاه الرياح الموسمية الصيفية كما تشير اليه الاسهم في الخريطة :



(أ) جنوبية غربية

(ب) جنوبية شرقية

(ج) شمالية شرقية

(د) شمالية غربية

السؤال الثاني:

(أ) اذكر اثنين من:

١- مصادر المعلومات التي يتم تجميعها عن الطقس.

.....
.....

تابع السؤال الثاني:

٢- النتائج المترتبة على حدوث الاعاصير.

(ب)- علل لما يلي بذكر سبب واحد فقط:

١- ضعف الدولة العباسية في نهاية حكمها.

٢- إرسال الخليفة هارون الرشيد حملة عسكرية الى عمان في عهد الامام الوارث بن كعب الخروصي.

(ج) قارن في الجدول التالي بين مرحلتي النحت والإرساب النهري من حيث (حجم الرواسب - سرعة التيار في كل مرحلة)

وجه المقارنة	النحت	الإرساب
حجم الرواسب		
سرعة التيار		

السؤال الثالث:

(أ)- اكتب المصطلح المناسب بين القوسين:

١- هضبات صغيرة تنتج من تآكل الهضاب الصحراوية بفعل النحت الريحي (.....)

٢- أحد أنواع خرائط الطقس تظهر في النشرة الجوية في التلفزيون والصحف اليومية (.....)

(ب) - صنف الملوثات التالية حسب مصدر التلوث في الجدول الذي أمامك:

(حرق النفط - المبيدات الحشرية - مخلفات البناء)

المفردة	مصدر التلوث	الملوثات
١-	الزراعة	
٢-	الصناعة	
٣-	النفايات المنزلية الصلبة	

(٤)

المادة: الدراسات الاجتماعية الصف: السادس الفصل الدراسي: الأول- الدور: الأول العام الدراسي: ٢٠١٥-٢٠١٦ م

تابع- السؤال الثالث:

(ج)- أمامك خريطة الدولة العباسية في أقصى اتساعها. ادرسها جيدا، ثم أجب عن الأسئلة التي تليها:



- ١- اكتب اسم البحر المشار اليه بالرقم (١).....
- ٢- ضع دائرة حول عاصمة الدولة الرستمية على الخريطة .
- ٣- وقع بلاد الاندلس على الخريطة.

السؤال الرابع:

(أ)- اذكر سببا واحد لكل من :

١- أنشأ الفاطميون الجامع الأزهر.

.....

٢- ازدهار التجارة في الدولة الرستمية.

.....

٣- تسمية العمانيون محمد بن نور محمد بن بور.

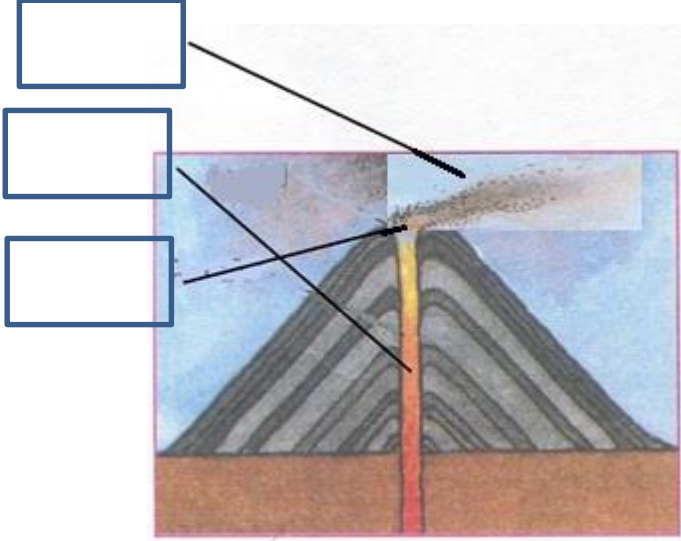
.....

(٥)

المادة: الدراسات الاجتماعية الصف: السادس الفصل الدراسي: الأول- الدور: الأول العام الدراسي: ٢٠١٥-٢٠١٦ م

تابع السؤال الرابع:

ب-) ادرس الشكل الذي امامك ثم اكتب المصطلحات التالية في مواقعها الصحيحة:

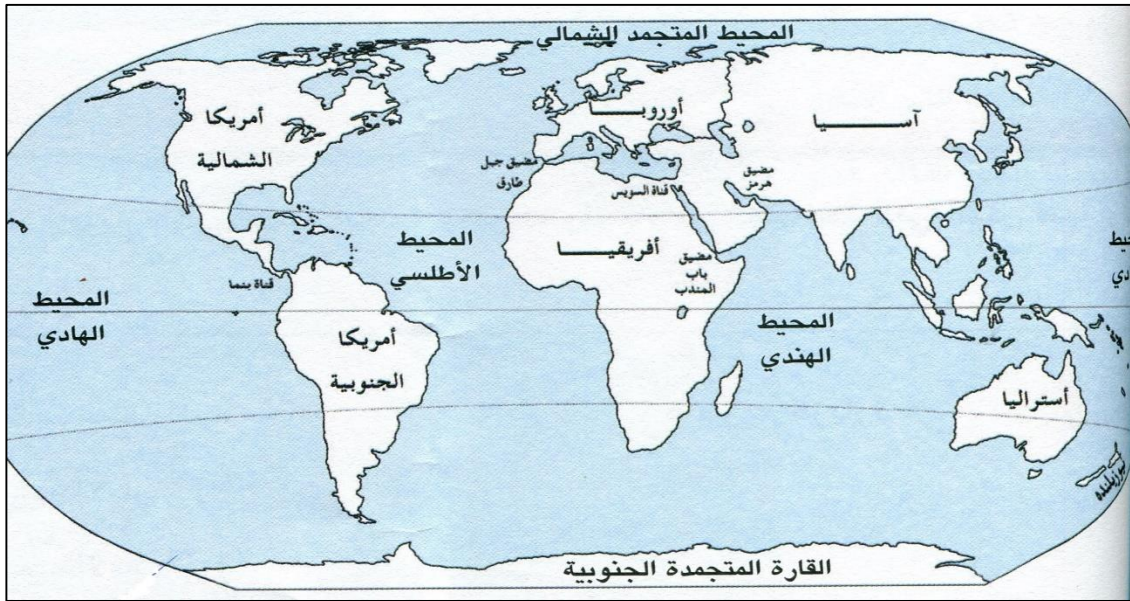


١- الفوهة

٢- المقذوفات البركانية

٣- القسبة

ج-) امامك خريطة توزيع اليابس والماء على سطح الكرة الارضية ادرسها جيدا ثم اجب عن الاسئلة التي تليها :



١ - صف توزيع اليابس والماء على سطح الأرض.

٢- استخراج اسم المضيق الذي يصل بين المحيط الاطلسي والبحر المتوسط.

انتهت الأسئلة، مع تمنياتنا بالتوفيق والنجاح،،،

(نموذج اجابة امتحان الصف السادس لمادة الدراسات الاجتماعية)

العام الدراسي ٢٠١٥ / ٢٠١٦م الفصل الدراسي الاول / الدور الاول

ملاحظة النموذج في (٣) صفحات

الدرجة الكلية : ٤٠ درجة

١٦ = ٢ × ٨

اجابة السؤال الاول: ١٦ درجة

رقم المفردة	١	٢	٣	٤	٥	٦	٧	٨
رمز الاجابة	أ	د	د	ج	ب	ج	ج	أ
الوحدة	الاولى	الاولى	الاولى	الأولى	الثانية	الثانية	الثالثة	الثالثة
الصفحة	١٢	٢٥	٤١	٣٠	٦٦	٦٥	٩٧	١٠٩
الدرجة	٢	٢	٢	٢	٢	٢	٢	٢

اجابة السؤال الثاني: ٨ درجات

الجزئية	الاجابة	الدرجة	الصفحة	الوحدة
أ (١)	السفن - الطائرات - البالونات - الاقمار الاصطناعية - محطات الرصد (يكتفى باثنتين فقط)	٢ (لكل مصدر درجة)	١٢٣	الثالثة
(٢)	غرق المدن والقرى والاراضي الزراعية - اقتلاع الاشجار - حدوث الفيضانات - هدم المنازل - انقطاع الكهرباء والمياه - الرياح السريعة - سقوط الامطار الغزيرة (يراعى أسلوب الطالب في التعبير)	١ (لكل عامل نصف درجة)	١١٧	الثالثة
ب (١)	امتدادها الكبير من الصين شرقا الى المحيط الاطلسي غربا - تولي خلفاء ضعاف - تدخل الاجانب في شؤون الحكم - التنازع على السلطة (يكتفى بسبب واحد)	١	٥٠	الثانية
(٢)	لمنع استقلال عمان .	١	٦٧	الثانية

الاولى	من ٣٢- (٣٨)	٣(درجات) حجم الرواسب لكل مرحلة درجة سرعة التيار لكل مرحلة نصف درجة	مرحلة الأرساب	مرحلة النحت	وجه المقارنة	ج (١)
			صغيرة ومفتتات	كبيرة	حجم الرواسب	
			ضعيف	قوي	سرعة التيار	

اجابة السؤال الثالث: ٨ درجات

المفردة	الاجابة	الدرجة	الصفحة	الوحدة												
(أ)	١- الموائد الصحراوية ٢- خرائط الطقس اليومية	١ ١	٤٦ ١٢٦	الاولى الثالثة												
(ب)	<table border="1"> <thead> <tr> <th>المفردة</th> <th>مصدر التلوث</th> <th>الملوثات</th> </tr> </thead> <tbody> <tr> <td>١-</td> <td>الزراعة</td> <td>المبيدات الحشرية</td> </tr> <tr> <td>٢-</td> <td>الصناعة</td> <td>حرق النفط</td> </tr> <tr> <td>٣-</td> <td>النفايات المنزلية الصلبة</td> <td>مخلفات البناء</td> </tr> </tbody> </table>	المفردة	مصدر التلوث	الملوثات	١-	الزراعة	المبيدات الحشرية	٢-	الصناعة	حرق النفط	٣-	النفايات المنزلية الصلبة	مخلفات البناء	٣(درجات) لكل اجابة درجة	١٣٣-١٣٤	الثالثة
المفردة	مصدر التلوث	الملوثات														
١-	الزراعة	المبيدات الحشرية														
٢-	الصناعة	حرق النفط														
٣-	النفايات المنزلية الصلبة	مخلفات البناء														
(ج)	١- البحر الاحمر ٢- يضع الطالب دائرة على تاهرت ٣ - يكتب الطالب بلاد الاندلس في مكانه الصحيح	١ ١ ١	٧٢	الثانية												

اجابة السؤال الرابع : ٨ درجات

المفردة	الاجابة	الدرجة	الصفحة	الوحدة
(أ)	١- ليكون مركز للدعوة الشيعية.	١	٨٦	الثانية
	٢- الامن والاستقرار- الموقع الجغرافي المتوسط - علاقتها الطيبة مع الدول المجاورة.	١	٧٩	الثانية
	٣- لأنه عندما دخل عمان أونزوى اكثر من القتل والفساد .	١	٧٠	الثانية
(ب)	تكون الاجابة على النحو التالي: ١- المقذوفات البركانية. ٢- القصبه. ٣- الفوهه.	٣ درجات (لكل اجابة درجة)	٢١	الاولى
(ج)	١- غير منتظم - غير متساوي - تزداد المسطحات المائية في نصف الكرة الجنوبي عن اليابسة والعكس صحيح في نصف الكرة الشمالي.	١	١٣١	الثالثة
	٢ - مضيق جبل طارق	١	١٣١	الثالثة

انتهى نموذج الإجابة***