

**اختبار نهاية الفصل الدراسي الأول- الدور الأول للصفوف من (٥-٩)
للعام الدراسي ١٤٣٦ / ١٤٣٧ هـ - ٢٠١٥ / ٢٠١٦ م**

- المادة: الدراسات الاجتماعية الصف التاسع • عدد صفحات أسئلة الاختبار: (٦).
- زمن الإجابة: ساعة ونصف • الإجابة في الورقة نفسها.

| | |
|------|------------|
| | اسم الطالب |
| الصف | المدرسة |

| درجة السؤال | | السؤال |
|-------------|------|---------------|
| عشرات | آحاد | |
| | | ١ |
| | | ٢ |
| | | ٣ |
| | | ٤ |
| | | المجموع |
| | ٤٠ | المجموع الكلي |

/ التوقيع

/ اسم المصحح

/ التوقيع

/ اسم المراجع

الإجابة في الورقة نفسها



المديرية العامة للتربية والتعليم لمحافظة شمال الباطنة

الامتحان النهائي للصف التاسع للفصل الدراسي الأول/الدور الأول للعام الدراسي ٢٠١٥-٢٠١٦ م

المادة: الدراسات الاجتماعية الزمن: ساعة ونصف

الدرجة الكلية: (٤٠) درجة
اسم الطالب/ة:
تنبيه: الأسئلة في (٦) صفحات
الشعبة:

أجب عن جميع الأسئلة الآتية

السؤال الأول: ضع دائرة حول رمز الإجابة الصحيحة من بين البدائل المعطاة.

١- السيد الذي شجع على ادخال زراعة القرنفل المستورد إلى زنجبار:

أ- برغش بن سعيد ب- حمد بن ثويني ج- سعيد بن سلطان د- ثويني بن سعيد

٢- الترتيب الصحيح للمحافظات في الجدول المقابل حسب نسبة النوع العامة من الأعلى للأقل:

| المحافظة | نسبة النوع العامة |
|----------|-------------------|
| مسقط | ١٧٥ |
| ظفار | ١٥١ |
| مسندم | ١٤٢ |
| الوسطى | ٣١٦ |

أ- مسقط - مسندم - ظفار - الوسطى

ب- الوسطى - مسقط - ظفار - مسندم

ج- مسقط - الوسطى - مسندم - ظفار

د- مسندم - ظفار - مسقط - الوسطى

٣- خضعت منطقة شرق أفريقيا عام ١٥٠١ م للسيطرة من قبل القوات:

أ- البريطانية ب- الألمانية ج- الفرنسية د- البرتغالية

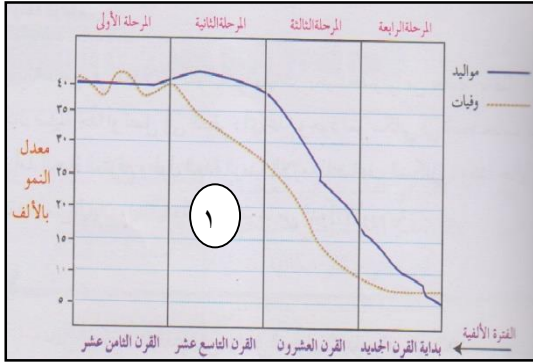
٤- تهتم منظمة (الفاو) التابعة للأمم المتحدة بـ:

أ- الأغذية والزراعة ب- العمل الدولي ج- رعاية الطفولة د- التربية والثقافة

(٢)

المادة: الدراسات الاجتماعية الصف: التاسع الفصل الدراسي: الأول - الدور: الأول العام الدراسي: ٢٠١٥-٢٠١٦ م

تابع/ السؤال الأول: أجب عن الأسئلة التالية



٥- تتميز المرحلة السكانية المشار إليها بالرقم (١) بـ:

- ارتفاع معدلات المواليد والوفيات.
- ارتفاع معدلات المواليد وانخفاض معدلات الوفيات.
- انخفاض معدلات المواليد والوفيات.
- انخفاض سريع في معدلات المواليد والوفيات.

٦- حصلت زنجبار على استقلالها من بريطانيا في العام الميلادي:

- أ- ١٩٦١ ب- ١٩٦٢ ج- ١٩٦٣ د- ١٩٦٤

٧- يعتبر من المصادر الثانوية للبيانات السكانية:

- أ- سجلات المدارس ب- التعداد السكاني ج- الأحوال المدنية د- المسوحات بالعينة

٨- تمنح جائزة السلطان قابوس التي أنشئت عام ١٩٨٩م بمبادرة كريمة من جلالتة في مجال:

- أ- الصحة العالمية ب- السلام الدولي ج- الثقافة و العلوم د- حماية البيئة

١٦

السؤال الثاني: أجب عن الأسئلة التالية

أ) من خلال دراستك " للمنظمات التابعة للأمم المتحدة". حدد المنظمات المختصة بالمجالات التالية:

- ١- تعمل على تخفيض نسبة وفيات الأمهات والأطفال دون سن الخامسة (.....)
- ٢- حفظ الأمن والسلام الدوليين (.....)

(٣)

المادة: الدراسات الاجتماعية الصف: التاسع الفصل الدراسي: الأول - الدور: الأول العام الدراسي: ٢٠١٥-٢٠١٦ م

تابع السؤال الثاني: أجب عن الاسئلة التالية.

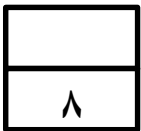
ب) ١- فسر العبارة التالية (ترتفع معدلات المواليد في المجتمعات الزراعية وتنخفض في المجتمعات الصناعية).

٢- اذكر اثنين من أهداف رابطة دول المحيط الهندي.

ج) صنف الأعمال التالية في الجدول حسب الشخصية التي اشتهرت بها:

(عمل قاضي في زنجبار - تجارة العاج - عمل مستشارا عند السيد سعيد بن سلطان - أسس إمارة عربية إسلامية في أعالي الكونغو)

| الشيخ محي الدين القحطاني الوائلي | حميد بن محمد المرجبي |
|----------------------------------|----------------------|
| | |
| | |
| | |



(٤)

المادة: الدراسات الاجتماعية الصف: التاسع الفصل الدراسي: الأول - الدور: الأول العام الدراسي: ٢٠١٥-٢٠١٦ م

السؤال الثالث: أجب عن الأسئلة التالية.

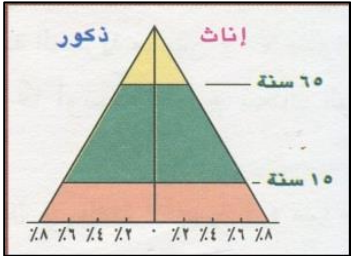
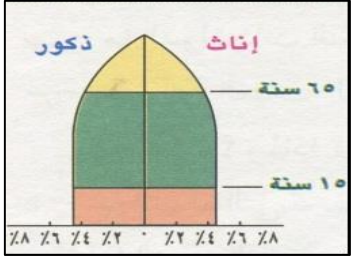
أ-١ ما المقصود بكل من:

أ- البنية الاجتماعية:

ب- الإعالة:

٢- عدد اثنين من العوامل المؤثرة على نسبة النوع في المجتمع.

ب- اكتب وصفا مختصرا للأهرام السكانية التالية:

| | | |
|---|--|-------------------|
|  |  | نوع الهرم السكاني |
| | | الوصف |

ج) دلل بمثالين على المناطق التي ساهم العمانيون بنشر الاسلام فيها.

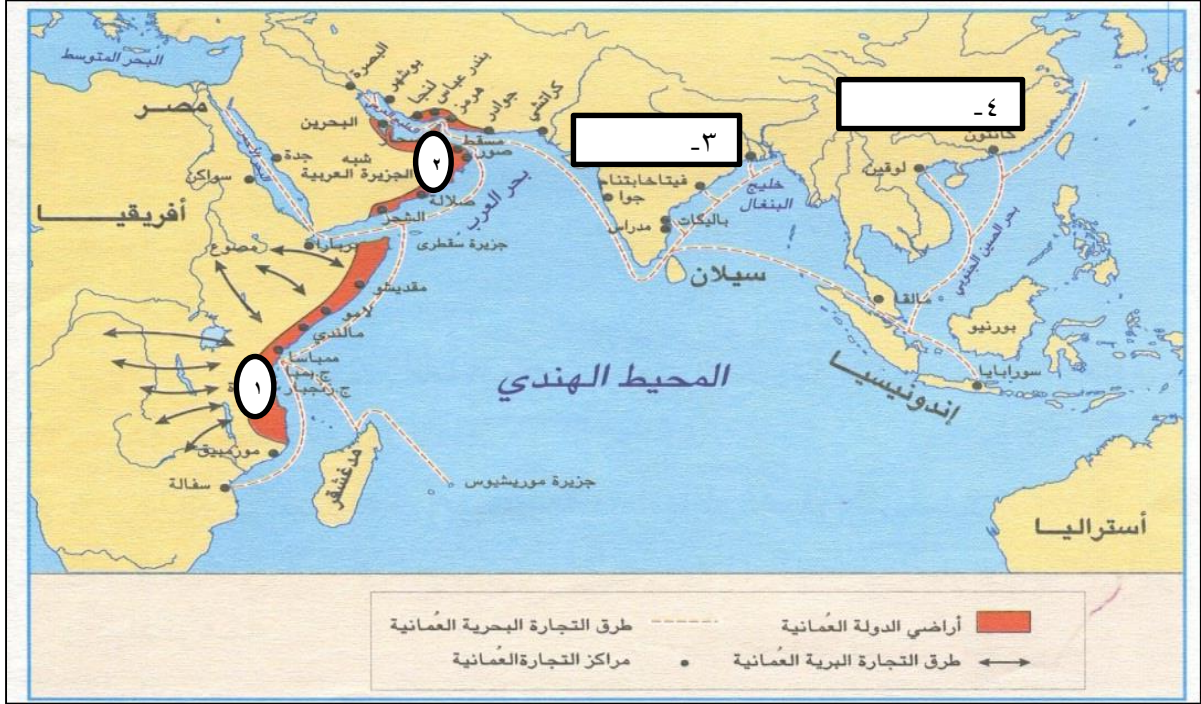
يتبع /

(٥)

المادة: الدراسات الاجتماعية الصف: التاسع الفصل الدراسي: الأول - الدور: الأول العام الدراسي: ٢٠١٥-٢٠١٦ م

السؤال الرابع: أجب عن الأسئلة التالية.

أ- أمامك خريطة الطرق التجارية العمانية في عهد السيد سعيد بن سلطان. ادرسها جيدا ثم أجب عن الأسئلة التالية:



١- اكتب على الخريطة اسم الدولتين اللتين كانتا تستوردان العاج من شرق أفريقيا في مكانهما الصحيح والمشار إليهما بالرقمين (٣ و ٤).

٢- السلطان الذي تولى السلطة بعد وفاة السيد سعيد بن سلطان في المنطقة المشار إليها بالرقم (١).
(.....)

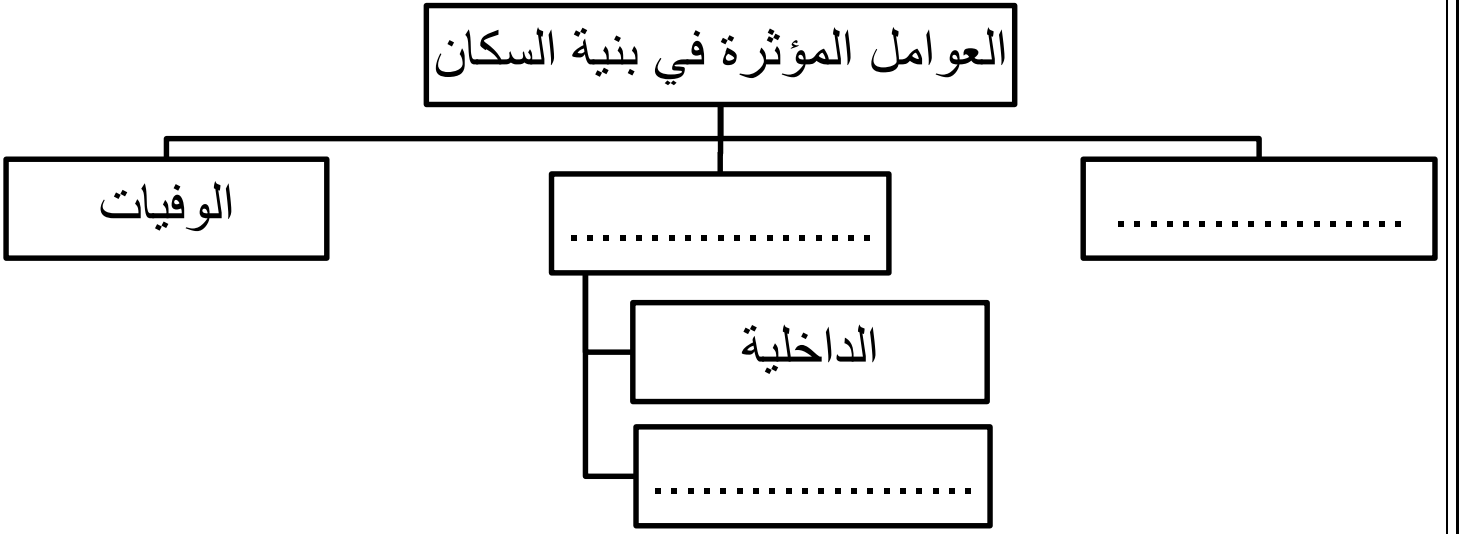
٣- عدد اثنين من السلع التي كانت تصدر من المنطقة المشار إليها بالرقم (٢) إلى المنطقة المشار إليها بالرقم (١). (.....) و (.....)

(٦)

المادة: الدراسات الاجتماعية الصف: التاسع الفصل الدراسي: الأول - الدور: الأول العام الدراسي: ٢٠١٥-٢٠١٦ م

تابع: السؤال الرابع: أجب عن الأسئلة التالية.

ب) أكمل خريطة المفاهيم التالية:



ج) حدد اثنين من السبل التي اتخذتها سلطنة عمان لمواجهة العولمة.

٨

انتهت الأسئلة، مع الأمنيات لكم بالنجاح والتفوق



عدد أوراق الإجابة (٤)

المديرية العامة للتربية والتعليم لمحافظة شمال الباطنة
[نموذج إجابة امتحان الصف التاسع الاساسي لمادة الدراسات الاجتماعية]
العام الدراسي ٢٠١٥ / ٢٠١٦ م - الفصل الدراسي الأول / الدور الأول

الدرجة الكلية ٤٠ درجة

إجابة السؤال الأول: ١٦ درجة $١٦ = ٢ \times ٨$ العلامة (/) تعتبر إجابة ثانية

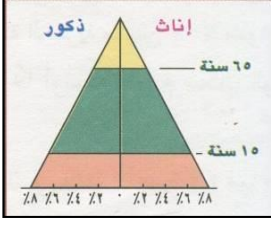
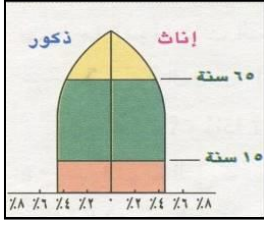




| رقم المفردة | ١ | ٢ | ٣ | ٤ | ٥ | ٦ | ٧ | ٨ |
|-------------|---------------|-------------------------------------|------------|---------------------|--|---------|------------------|-----------------|
| رمز الإجابة | ج | ب | د | أ | ب | ج | أ | د |
| الإجابة | سعيد بن سلطان | -الوسطى -مسقط -ظفار -مسندم | البرتغالية | الاغذية والزراعة | ارتفاع معدلات المواليد وانخفاض معدلات الوفيات | ١٩٦٣ | سجلات المدارس | حماية البيئة |
| الوحدة | الثانية | الأولى | الثانية | الثالثة | الأولى | الثانية | الأولى | الثالثة |
| الصفحة | ٥١ | ١٧ | ٤٠ | ٨٤ | ٢٥ | ٦٣ | ١١ | ٨٩ |
| الدرجة | ٢ | ٢ | ٢ | ٢ | ٢ | ٢ | ٢ | ٢ |

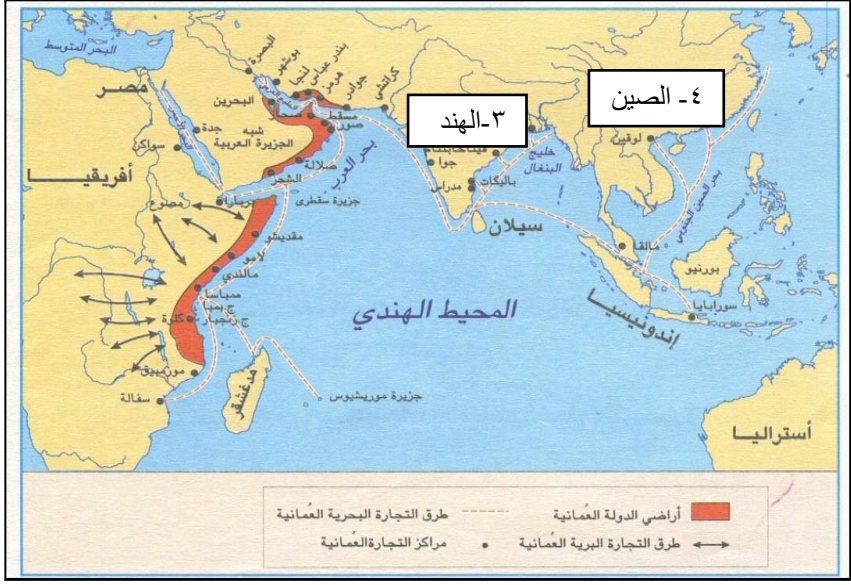
إجابة السؤال الثاني: ٨ درجات

| الجزئية | الإجابة | الدرجة | الصفحة | الوحدة |
|---------|--|------------------|--------|---------|
| أ | ١- صندوق الأمم المتحدة لرعاية الطفولة | نصف درجة | ٨٥ | الثالثة |
| | ٢- مجلس الأمن الدولي | نصف درجة | ٨٦ | الثالثة |
| ب | ١- بسبب حاجة المجتمعات الزراعية للأيدي العاملة / اعتماد المجتمعات الصناعية على الآلة. (يكتفى بذكر سبب واحد) | ١ | ٢٨ | الأولى |
| | ٢) - دعم التنمية الشاملة للدول الأعضاء. - التركيز على مجالات التعاون الاقتصادي - تشجيع التفاعل الوثيق للتجارة والصناعة. - تقوية أواصر التعاون والحوار بين الأعضاء. - دعم التعاون في مجال الموارد البشرية (يكتفى بذكر اثنين) | ٢ لكل درجة | ٧٩ | الثالثة |

تابع إجابة السؤال الثاني:

| الوحدة | الصفحة | الدرجة | الإجابة | | الجزئية | | | | |
|---|---|---------------------------|---|--|----------------------------------|----------------------|---|---|---|
| الثانية | ٥٣ ٤٨ | ٤ درجات لكل درجة | <table border="1"> <tr> <td>الشيخ محي الدين القحطاني الوائلي</td> <td>حميد بن محمد المرجبي</td> </tr> <tr> <td> <ul style="list-style-type: none"> - عمل قاضي في زنجبار. - عمل مستشارا عند السيد سعيد بن سلطان. </td> <td> <ul style="list-style-type: none"> - تجارة العاج. - أسس إمارة عربية إسلامية في أعالي الكونغو. </td> </tr> </table> | | الشيخ محي الدين القحطاني الوائلي | حميد بن محمد المرجبي | <ul style="list-style-type: none"> - عمل قاضي في زنجبار. - عمل مستشارا عند السيد سعيد بن سلطان. | <ul style="list-style-type: none"> - تجارة العاج. - أسس إمارة عربية إسلامية في أعالي الكونغو. | ج |
| الشيخ محي الدين القحطاني الوائلي | حميد بن محمد المرجبي | | | | | | | | |
| <ul style="list-style-type: none"> - عمل قاضي في زنجبار. - عمل مستشارا عند السيد سعيد بن سلطان. | <ul style="list-style-type: none"> - تجارة العاج. - أسس إمارة عربية إسلامية في أعالي الكونغو. | | | | | | | | |

| الوحدة | الصفحة | الدرجة | الإجابة | الجزئية | | | | | | |
|---|--|--------------------------|---|--|---|--------------------------|---|--|--------------|---|
| الأولى | ٢١ | ١ | أ- البنية الاجتماعية: الحالة الاجتماعية للسكان من حيث الحالة الزوجية والتعليمية واللغوية. ب- الإعاقة: نسبة الأفراد العاملين الى الافراد غير العاملين. | أ | | | | | | |
| الأولى | ١٦ | ١ لكل نصف درجة | ٢ - اختلاف نوعية المهاجرين. - عدم الدقة في تسجيل الاناث. - اختلاف معدلات الوفيات بين الذكور والاناث. (يكتفى بذكر اثنين) | | | | | | | |
| الأولى | ٢٣ | ٤ درجات لكل درجة | <table border="1" style="width: 100%; border-collapse: collapse;"> <tr> <td style="text-align: center;">  </td> <td style="text-align: center;">  </td> <td style="text-align: center;"> <p>نوع الهرم السكاني</p> </td> </tr> <tr> <td style="text-align: center;"> <p>- ذو قاعدة عريضة. - مجتمع فتي. - تزيد فيه نسبة صغار السن بنحو ٥٠%.</p> <p>(يكتفى بذكر اثنين)</p> </td> <td style="text-align: center;"> <p>- ذو قاعدة ضيقة. - مجتمع مسن. - تنخفض فيه نسبة صغار السن. - تزيد فيه نسبة كبار السن</p> <p>(يكتفى بذكر اثنين)</p> </td> <td style="text-align: center;"> <p>الوصف</p> </td> </tr> </table> |  |  | <p>نوع الهرم السكاني</p> | <p>- ذو قاعدة عريضة. - مجتمع فتي. - تزيد فيه نسبة صغار السن بنحو ٥٠%.</p> <p>(يكتفى بذكر اثنين)</p> | <p>- ذو قاعدة ضيقة. - مجتمع مسن. - تنخفض فيه نسبة صغار السن. - تزيد فيه نسبة كبار السن</p> <p>(يكتفى بذكر اثنين)</p> | <p>الوصف</p> | ب |
|  |  | <p>نوع الهرم السكاني</p> | | | | | | | | |
| <p>- ذو قاعدة عريضة. - مجتمع فتي. - تزيد فيه نسبة صغار السن بنحو ٥٠%.</p> <p>(يكتفى بذكر اثنين)</p> | <p>- ذو قاعدة ضيقة. - مجتمع مسن. - تنخفض فيه نسبة صغار السن. - تزيد فيه نسبة كبار السن</p> <p>(يكتفى بذكر اثنين)</p> | <p>الوصف</p> | | | | | | | | |
| الثالثة | ٧٢ | ١ لكل نصف درجة | (يكتفى بذكر اثنين) | ج | | | | | | |

| الوحدة | الصفحة | الدرجة | الإجابة | الجزئية |
|---------|--------|-------------------|--|---------|
| الثانية | ٥٣-٤٤ | درجة لكل نصف درجة | <p>١-</p>  | أ |
| الثانية | ٦٢ | ١ | ٢- السلطان ماجد بن سعيد | |
| الثانية | ٥٤ | درجة لكل نصف درجة | <p>٣) - التمور - ضروب الفواكه - الحنطة- الشعير- الأرز- الزعفران - الرياحين - الورد المجفف - اليمون.</p> <p>(يكتفى بذكر اثنين)</p> | |
| الأولى | ١٥ | ٣ لكل درجة | <p>العوامل المؤثرة في بنية السكان</p> <pre> graph TD A[العوامل المؤثرة في بنية السكان] --> B[المواليد] A --> C[الهجرة] A --> D[الوفيات] C --> E[الداخلية] C --> F[الخارجية] </pre> | ب |
| الثالثة | ٩١-٩٠ | ٢ لكل درجة | <p>- تطوير القدرات الوطنية.</p> <p>- تأسيس الاقتصاد على أسس راسخة.</p> <p>- الاهتمام بالعلم والبحث والتقنية الحديثة.</p> <p>- توفير الظروف الملائمة التي تكفل للقطاع الخاص النماء.</p> <p>- المشاركة في وضع الخطط التنموية والسياسات الاقتصادية.</p> <p>(يكتفى بذكر اثنين)</p> | ج |

*** انتهى نموذج الإجابة ***