

اختبار نهاية الفصل الدراسي الثاني - الدور الأول للصف السادس للعام الدراسي ١٤٣٥ / ١٤٣٦ هـ - ٢٠١٤ / ٢٠١٥

* زمن الإجابة : ساعة ونصف
 * الإجابة في نفس الورقة


المادة : الدراسات الاجتماعية
 تنبيه : عدد الصفحات (٤)

اسم الطالب: الصف: /

أجب عن جميع الأسئلة الآتية

السؤال الأول : ضع دائرة حول رمز الإجابة الصحيحة من بين البدائل المعطاة:-

- (١) الغاز الذي تطلقه النباتات الطبيعية من خلال عملية التمثيل الضوئي:
 أ) ثاني أكسيد الكربون.
 ب) الأكسجين.
 ج) الهيدروجين.
 د) الميثان.

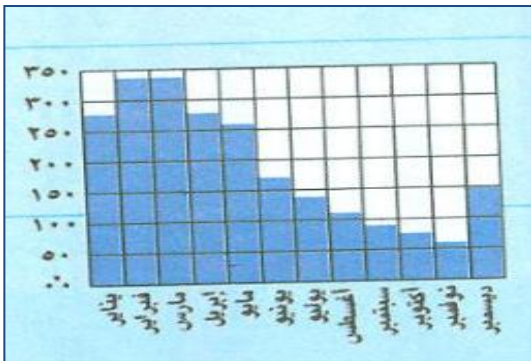


- (٢) البيئة التي توضحها الصورة المقابلة:
 أ) الصحاري الحارة.
 ب) الغابات الصنوبرية.
 ج) الغابات المدارية المطيرة.
 د) الحشائش المدارية الطويلة.

(٣) المساحة التي تشكلها بيئة الصحاري الحارة من اليابسة حوالي:

- أ) الربع ب) الثلث ج) النصف د) الثلثين

(٤) الشهر الذي بلغ فيه معدل الامطار أدناه في مدينة بلم في البرازيل:



- أ) نوفمبر ب) مارس
 ج) سبتمبر د) يونيو

(٥) وقعت سلطنة عمان على اتفاقية التنوع الاحيائي في العام الميلادي:

- أ) ١٩٩٠ ب) ١٩٩١ ج) ١٩٩٢ د) ١٩٩٣

تابع السؤال الاول :

٦) الوزارة المسؤولة عن توفير فرص العمل للمواطنين في القطاع الخاص:
 أ) الخدمة المدنية ب) القوى العاملة ج) التجارة والصناعة د) التنمية الاجتماعية

٧) وتتويجا لجهود ربع قرن من العمل الباذل والعطاء المثمر فقد أصدرنا النظام الاساسي للدولة " من أقوال السلطان قابوس في العيد الوطني:

أ) الرابع والعشرين ب) الخامس والعشرين
 ج) السادس والعشرين د) السابع والعشرين

٨) النبي الذي عمل خياطاً:
 أ) نوح عليه السلام ب) ادريس عليه السلام ج) داود عليه السلام د) موسى عليه السلام

السؤال الثاني :

أ) أكتب المصطلح المناسب بين القوسين:

١- حفظ حقوق الناس من أقوال وأسرار وودائع وأموال (.....

٢- عملية تنظيم الوقت واستغلاله في الأعمال الصحيحة النافعة (.....

٣- زراعة اشجار جديدة في الغابة محل الأشجار التي يتم قطعها (.....

ب) فسر: يؤثر الارتفاع على النظم البيئية.

.....

ج) اقرأ النص التالي ثم أجب عما يليه من أسئلة:

" للصدق دلالة على شخصية الإنسان وهي من صفات المواطن الصالح "

١- ما المقصود بالصدق.

.....

٢- عدد اثنين من صفات الشخص الصادق.

.....

.....

.....

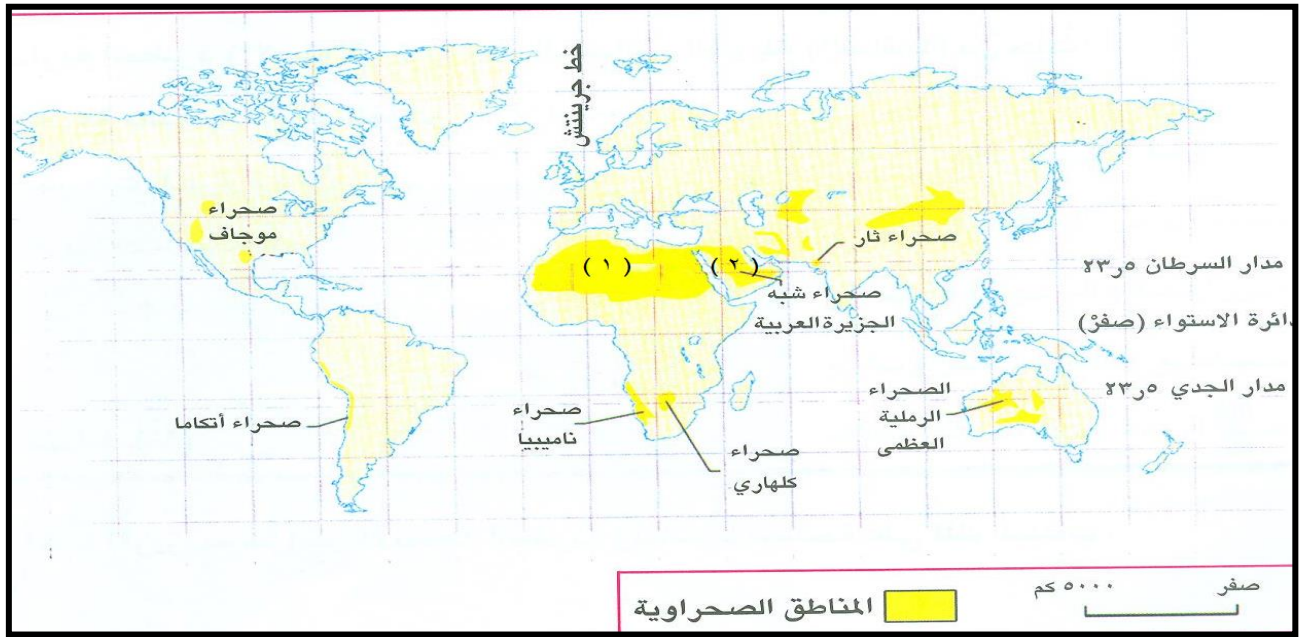
السؤال الثالث :

(أ) اذكر نتيجة واحدة ترتبت على كل مما يأتي:

١- وجود سيقان ضخمة شمعية وأوراق إبرية (شوكية) في بعض النباتات.

٢- تنفيذ الاعمال في مواعيدها.

(ب) أمامك خريطة توزيع الصحاري الحارة في العالم. ادرسها جيدا ثم أجب عن الاسئلة التي تليها:



١- سم الصحراء المشار إليها بالرقم (١)

٢- الدولة العربية التي توجد بها صحراء شبه الجزيرة العربية والمشار إليها بالرقم (٢)

٣- ارسم في الخريطة دائرة حول القارة التي لا يوجد بها صحراء.

(ج) ادرس الصورة التي أمامك جيدا ثم أجب عن الأسئلة التالية:


١- سم نوع العمل.

٢- لماذا حث الاسلام على العمل؟



السؤال الرابع:

أ) اكتب أرقام المصطلحات التالية في موقعها الصحيح على الشكل التالي (النخلة وفوائدها):



- ١ - يستخدم في صناعة العسل (الدبس).
- ٢ - تستخدم في صناعة السلال والحصر.
- ٣ - تستخدم في بناء سقوف المنازل.

ب) صنف العوامل المؤدية إلى انجراف التربة من حيث نوعها حسب الجدول التالي:

(الرعي الجائر - الامطار - ميل السفوح)

بشري	تضاريسي	مناخي

ج) دال بمثالين على تعاظم مشكلة تناقص الغابات:

- ١-
- ٢-

نموذج الإجابة امتحان الصف السادس للعام الدراسي ٢٠١٤/٢٠١٥م

الدور الأول - الفصل الدراسي الثاني

المادة الدراسات الاجتماعية - الدرجة الكلية ٤٠ درجة

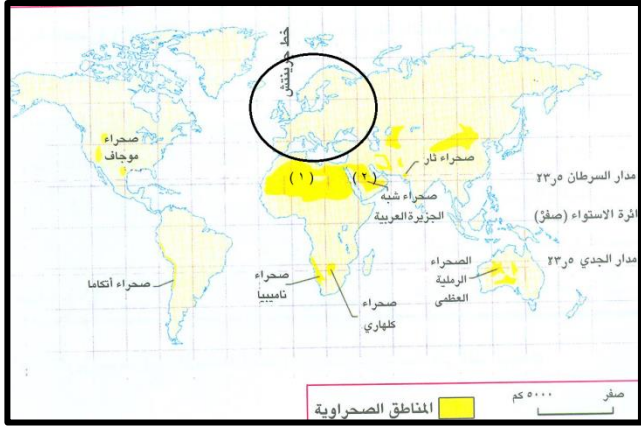
إجابة السؤال الأول: (١٦ درجة) لكل مفردة درجتان

رقم المفردة	١	٢	٣	٤	٥	٦	٧	٨
رمز الإجابة	ب	د	ب	أ	ج	ب	ج	ب
الإجابة	الأكسجين	الحشائش المدارية الطويلة	الثلاث	نوفمبر	١٩٩٢	القوى العاملة	السادس والعشرين	ادريس عليه السلام
الصفحة	١٤	٢٦	٣٠	٢٠	١٥	٧٨	٥١	٧٢
الدرجة	٢	٢	٢	٢	٢	٢	٢	٢

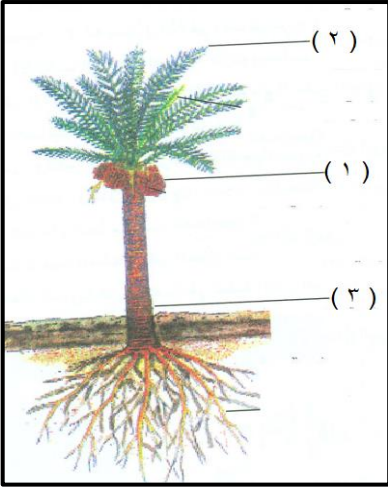
إجابة السؤال الثاني (٨ درجات)

المفردة	الإجابة	الدرجة	الصفحة
أ	١- الأمانة	١	٦١
	٢- إدارة الوقت	١	٦٤
	٣- التحريج	١	٤٣
ب	تناقص كثافة الباتات الطبيعية مع تزايد ارتفاع السطح	٢	١٧
ج	١- أن يتطابق القول مع الفعل والواقع .	١	٥٩
	٢- أمين / واثق بنفسه / قوي النفس وشريف / محترم لنفسه / شجاع . (يكفى بذكر اثنين ولكل واحد درجة)	٢	٦١

إجابة السؤال الثالث (٨ درجات)

المفردة	الإجابة	الدرجة	الصفحة
أ	١- لمنع عملية التتح	١	٣٣
	٢- تخطيط الوقت وتنظيمه / استغلاله الاستغلال الأمثل. (يكتفى بنتيجة واحدة)	١	٦٦
ب	١- الصحراء الكبرى .	١	٣٠
	٢- المملكة العربية السعودية .	١	٣٠
		١	٣٠
ج	١- عمل يدوي (بناء) ٢- مصدر لكسب الرزق الحلال / تعمير الأرض / حتى ينال رضى الله (عبادة) (يكتفى بذكر اثنين لكل واحد درجة)	٢	٧٢

إجابة السؤال الرابع (٨ درجات)

الصفحة	الدرجة	الإجابة	المفردة						
٣٥	٣		أ						
٣٧	٣	<table border="1" style="width: 100%; text-align: center;"> <tr> <td>بشرى</td> <td>تضارسي</td> <td>مناخى</td> </tr> <tr> <td>الرعى الجائر</td> <td>ميل السفوح</td> <td>الامطار</td> </tr> </table> <p>(لكل مفردة درجة)</p>	بشرى	تضارسي	مناخى	الرعى الجائر	ميل السفوح	الامطار	ب
بشرى	تضارسي	مناخى							
الرعى الجائر	ميل السفوح	الامطار							
٤٢	٢	<p>١- تدمير نصف الغابات المدارية المطيرة .</p> <p>٢- تدمير ٩٠% من غابات أمريكا الوسطى .</p> <p>٣- تدمير ٩٥% من غابات الهند .</p> <p>(يكتفى بذكر اثنين ولكل واحد درجة ولا يشترط ذكر النسب)</p>	ج						

اتهاء نموذج الإجابة،،،