



سَلْطَنَةُ عُومَانِ
وَزَارَةُ التَّرْبِيَةِ وَالْتَّحْلِيمِ
لِلرَّيَاضَةِ الْعَالِيَةِ وَالْمَعْرِفَةِ وَالْجَوْدِ وَالْحِرْمَانِ

اختبار نهاية الفصل الدراسي الثاني - الدور الثاني للصف السادس للعام الدراسي ١٤٣٥ / ١٤٣٦ هـ - ٢٠١٤ / ٢٠١٥ م

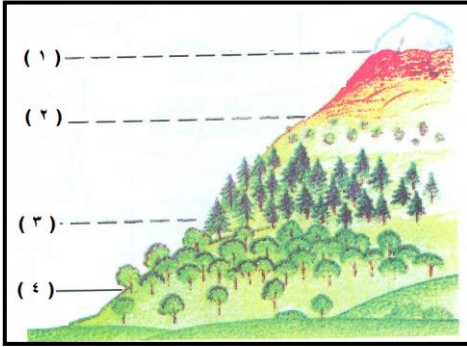
* زمن الإجابة : ساعة ونصف
* الإجابة في نفس الورقة

المادة : الدراسات الاجتماعية
تنبيه : عدد الصفحات (٤)

اسم الطالب: الصف: /

أجب عن جميع الأسئلة الآتية

السؤال الأول : ضع دائرة حول رمز الإجابة الصحيحة من بين البدائل المعطاة:-



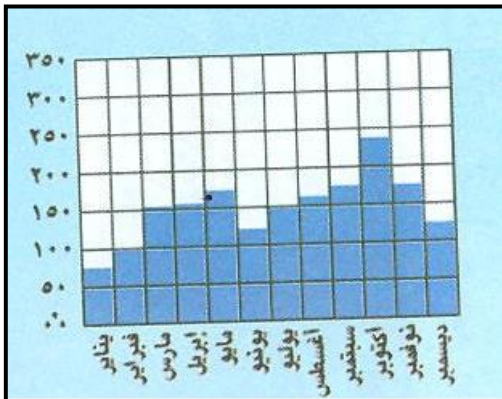
- (١) الرقم الذي يشير الى مستوى خط الثلج الدائم:
أ) ١
ب) ٢
ج) ٣
د) ٤

- (٢) جميع المشكلات التالية تسهم في تدمير الغلاف الحيوي ما عدا:
أ) تناقص مساحة الغابات.
ب) إنشاء المحميات البرية.
ج) انجراف التربة.
د) انقراض بعض الحيوانات البرية.

(٣) عملية طبيعية تسهم في إزالة غطاء التربة:

- أ) التحريج ب) الانجراف ج) الصيانة د) الرعي الجائر

(٤) الشهر الذي بلغ فيه معدل الامطار أعلاه في مدينة يان جامبي في زانير:



- أ) ابريل ب) اكتوبر
ج) مايو د) يونيو

تابع السؤال الاول :

٥) قُدمت ميدالية جون فليبس التذكارية لصون الطبيعة الى السلطان قابوس في العام الميلادي:
 (أ) ١٩٩٥ (ب) ١٩٩٦ (ج) ١٩٩٧ (د) ١٩٩٨

٦) " فالمهم هو التعليم حتى تحت ظل الشجر " من أقوال السلطان قابوس في العيد الوطني:
 (أ) الثاني (ب) الثالث (ج) الرابع (د) الخامس

٧) صدر النظام الاساسي للدولة بموجب المرسوم السلطاني رقم:

(أ) ٩٥/١٠١ (ب) ٩٦/١٠١ (ج) ٩٧/١٠١ (د) ٩٨/١٠١

٨) النبي الذي عمل نجاراً:

(أ) نوح عليه السلام
 (ب) ادريس عليه السلام
 (ج) داود عليه السلام
 (د) موسى عليه السلام

السؤال الثاني :

(أ) أكتب المصطلح المناسب بين القوسين :

١- الوقت الفائض لدى الفرد بعد إنجاز الأعمال الرئيسية والمهمة (.....

٢- منطقة محدودة جغرافياً بهدف حماية ما تشمل عليه من حيوانات او نباتات معرضة للإنقراض (.....

٣- زيادة في اعداد حيوانات الرعي مقارنة مع كميات الاعشاب التي يوفرها المرعى(.....)

ب) فسر: تؤثر درجة ميل السفوح (الانحدار) في النظم البيئية.

.....

ج) صنف الأعمال التالية حسب المؤهل الدراسي الموضح في الجدول

(أعمال الحفر - صناعة الاجهزة - أعمال الكهرباء - صناعة السيارات - أعمال النظافة - النجارة)

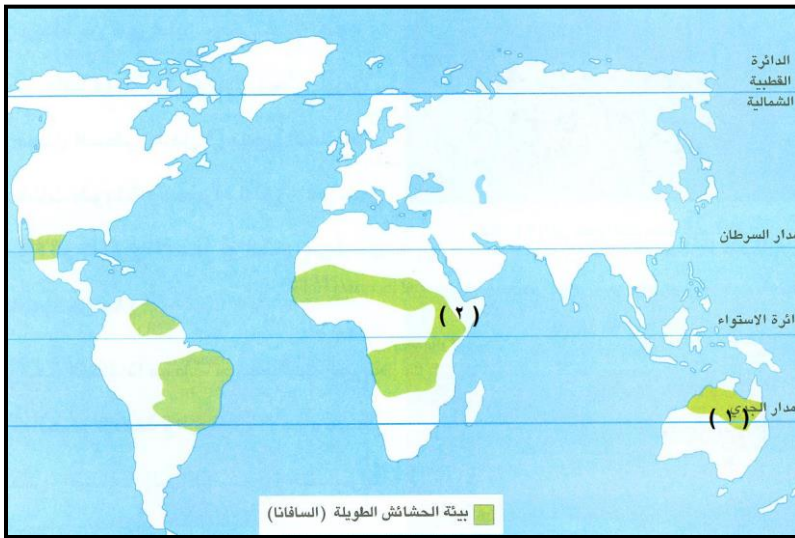
لا تحتاج الى تأهيل دراسي	تحتاج الى تأهيل دراسي متوسط	تحتاج الى تأهيل دراسي عالي

السؤال الثالث :

(أ) فرق بين الحقوق والواجبات من حيث المفهوم.

١- الحقوق.....

٢- الواجبات.....


(ب) أمامك خريطة بيئة الحشائش الطويلة السافانا ادرسها جيدا ثم أجب عن الاسئلة التي تليها :
١- سمِّ القارة المشار إليها بالرقم (١)

٢- الدولة العربية التي يوجد بها بيئة السافانا ومشار إليها بالرقم (٢)

٣- يمر مدار السرطان على بيئة السافانا في قارة.

(ج) ادرس الصورة التي أمامك جيداً ثم أجب عن الاسئلة التالية:


١- سم نوع المهارة.




٢- لماذا تعمل السلطنة على تدريب القوى العاملة الوطنية.

السؤال الرابع :

أ) قارن بين الشكلين (١) و (٢) الذين أمامك في الصورة حسب الجدول التالي :



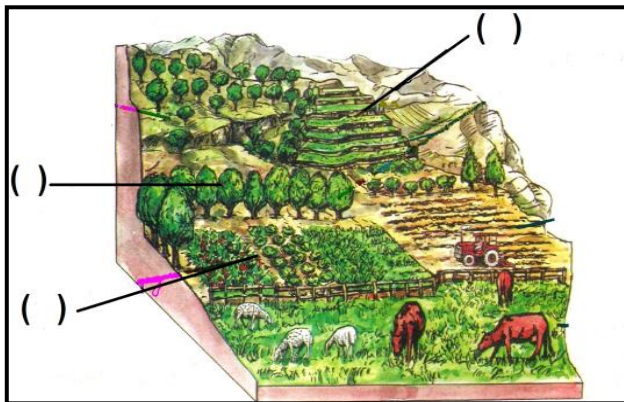
(٢)



(١)

وجه المقارنة	نوع الجذور	تكيفها مع الجفاف
الشكل (١)		
الشكل (٢)		من خلال جذورها المنتشرة على مساحة واسعة لتحصل على أكبر كمية من المياه.

ب) اكتب أرقام المصطلحات التالية في مواقعها الصحيحة على الشكل التالي (اساليب صيانة التربة).



- ١- بناء المدرجات.
- ٢- زراعة المحاصيل المختلفة.
- ٣- مصدات الرياح.

ج) اذكر سببين لقطع اشجار الغابات.

- ١-
- ٢-

إنتهت الاسئلة مع تمنياتنا للجميع بالتوفيق والنجاح ،،،

نموذج الإجابة امتحان الصف السادس للعام الدراسي ٢٠١٤/٢٠١٥م

الدور الثاني - الفصل الدراسي الثاني

المادة الدراسات الاجتماعية - الدرجة الكلية ٤٠ درجة

إجابة السؤال الأول: (١٦ درجة) لكل مفردة درجتان

رقم المفردة	١	٢	٣	٤	٥	٦	٧	٨
رمز الإجابة	أ	ب	ب	ب	ب	أ	ب	أ
الإجابة	١	انشاء المحميات البرية	الانجراف	أكتوبر	١٩٩٦	ر.ق. ١٠١	٩٦	نوح عليه السلام
الصفحة	١٨	١٥	٣٦	٢٠	٤٨	٥٨	٥١	٧٢
الدرجة	٢	٢	٢	٢	٢	٢	٢	٢

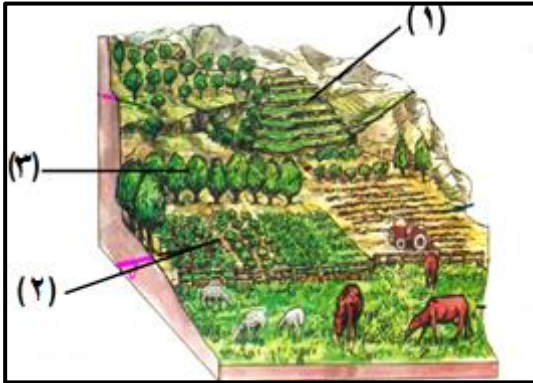
إجابة السؤال الثاني (٨ درجات)

المفردة	الإجابة	الدرجة	الصفحة
أ	١- وقت الفراغ.	١	٦٧
	٢- المحمية.	١	١٥
	٣- الرعى الجائر.	١	٢٨
ب	كل ما زاد ميل السفوح تصبح التربة قليلة السمك وفقيرة وغير ملائمة لنمو النباتات الطبيعية.	٢	١٧
ج	لا تحتاج إلى تأهيل دراسي	٣	٧٥
	تحتاج إلى تأهيل دراسي متوسط		
	تحتاج إلى تأهيل دراسي عالي		
ج	أعمال الحفر	٣	٧٥
	أعمال الكهرباء		
	صناعة الاجهزة		
أعمال النظافة	النجارة	صناعة السيارات	لكل إجابة نصف درجة

إجابة السؤال الثالث (٨ درجات)

الصفحة	الدرجة	الإجابة	المفردة
٥١	١	١- كل ما يستحقه المواطن من الدولة/ المجتمع/ الاسرة . ضمن نطاق الشرعية والقانون .	أ
٥١	١	٢- كل ما يجب على المواطن أن يقوم به تجاه الدولة / المجتمع /الاسرة وفق الانظمة والقوانين المعمول بها في الدولة .	
٢٥	١	١- إستراليا .	ب
٢٥	١	٢- الصومال .	
٢٥	١	٣- أمريكا الشمالية	
	١	(١) التدريب المهني أو العمل اليدوي .	ج
٧٩	٢	(٢) ١- من أجل المشاركة في سوق العمل خاصة القطاع الخاص . ٢- توفير اليد العاملة الوطنية المدربة . (لكل واحد درجة)	

إجابة السؤال الرابع (٨ درجات)

الصفحة	الدرجة	الإجابة	المفردة									
٣٣	٣	<table border="1"> <tr> <td>تكييفها مع الجفاف</td> <td>نوع الجذور</td> <td>وجه المقارنة</td> </tr> <tr> <td>من خلال جذورها</td> <td>طويلة</td> <td>الشكل ١</td> </tr> <tr> <td>الطويلة التي تصل الى المياه الجوفية</td> <td>قصيرة</td> <td>الشكل ٢</td> </tr> </table>	تكييفها مع الجفاف	نوع الجذور	وجه المقارنة	من خلال جذورها	طويلة	الشكل ١	الطويلة التي تصل الى المياه الجوفية	قصيرة	الشكل ٢	أ
تكييفها مع الجفاف	نوع الجذور	وجه المقارنة										
من خلال جذورها	طويلة	الشكل ١										
الطويلة التي تصل الى المياه الجوفية	قصيرة	الشكل ٢										
		لكل مفردة درجة										
٤٠	٢		ب									
		لكل مفردة درجة										
٤٢	٢	<p>١- بناء المساكن ٢- الزراعة ٣- وقود للطبخ والتدفئة ٤- الصناعة ٥- توفير الأخشاب . (يكتفى بذكر اثنين ولكل واحد درجة)</p>	ج									

اتهاء نموذج الإجابة،،،