



سُلْطَنَةُ عُومَانِ
وَزَارَةُ التَّرْبِيَةِ وَالتَّعْلِيمِ

امتحان دبلوم التعليم العام

للعام الدراسي ١٤٣٥/١٤٣٦ هـ - ٢٠١٤ / ٢٠١٥ م

الدور الأول - الفصل الدراسي الثاني

- زمن الإجابة: ثلاث ساعات.
- الإجابة في الورقة نفسها.

- تنبيه: المادة: التاريخ (العالم من حولي).
- الأسئلة في (١١) صفحة.

تعليمات وضوابط التقدم للامتحان:

- الحضور إلى اللجنة قبل عشر دقائق من بدء الامتحان للأهمية.
- إبراز البطاقة الشخصية لمراقب اللجنة.
- يمنع كتابة رقم الجلوس أو الاسم أو أي بيانات أخرى تدل على شخصية الممتحن في دفتر الامتحان، وإلا ألغى امتحانه.
- يحظر على الممتحنين أن يصطحبوا معهم بمركز الامتحان كتباً دراسية أو كراسات أو مذكرات أو هواتف محمولة أو أجهزة النداء الآلي أو أي شيء له علاقة بالامتحان كما لا يجوز إدخال آلات حادة أو أسلحة من أي نوع كانت أو حقائب يدوية أو آلات حاسبة ذات صفة تخزينية.
- يجب أن يتقيد المتقدمون بالزي الرسمي (الدشداشة البيضاء والمصر أو الكمة للطلاب والدارسين والزي المدرسي للطالبات واللباس العماني للدارسات) ويمنع النقاب داخل المركز ولجان الامتحان.
- لا يسمح للمتقدم المتأخر عن موعد بداية الامتحان بالدخول إلا إذا كان التأخير بعذر قاهر يقبله رئيس المركز وفي حدود عشر دقائق فقط.
- يتم الالتزام بالإجراءات الواردة في دليل الطالب لأداء امتحان شهادة دبلوم التعليم العام.
- يقوم المتقدم بالإجابة عن أسئلة الامتحان المقالية بقلم الحبر (الأزرق أو الأسود).
- يقوم المتقدم بالإجابة عن أسئلة الاختيار من متعدد بتظليل الشكل (○) وفق النموذج الآتي:
س - عاصمة سلطنة عمان هي:
○ القاهرة ○ الدوحة
● مسقط ○ أبوظبي
- ملاحظة: يتم تظليل الشكل (●) باستخدام القلم الرصاص وعند الخطأ، امسح بعناية لإجراء التغيير.
- صحيح ● غير صحيح ○
صحيح ○ خطأ ×
صحيح ○ خطأ ×

مُسَوَّدَةٌ، لا يتم تصحيحها

لا تكتب في هذا الجزء

لا تكتب في هذا الجزء

أجب عن جميع الأسئلة الآتية

السؤال الأول:

ظلل الشكل (○) المقترن بالإجابة الصحيحة لكل مفردة من المفردات الآتية:

(١) الالتزام بالشرعية الدولية وعدم التدخل في الشؤون الداخلية للدول من أهداف الحوار في المجال:

- الاقتصادي. ○ السياسي.
○ الديني. ○ الثقافي.



(٢) الشكل الذي أمامك يمثل أحد مكونات شعار:

- مؤتمر قمة الأرض. ○ التراث العالمي.
○ عاصمة الثقافة العربية. ○ مؤتمر الألفية.

(٣) الترتيب الصحيح للأحداث المرتبطة بالحوار الحضاري العماني من الأقدم إلى الأحدث:

○	١. تبني منظمة اليونسكو فكرة مشروع طريق الحرير.	○	١. تبني منظمة اليونسكو فكرة مشروع طريق الحرير.
○	٢. إعلان تخصيص سفينة فلك السلامة لتنفيذ رحلة مشروع طريق الحرير.	○	٢. إنشاء كرسي السلطان قابوس بجامعة جورج تاون الأمريكية.
○	٣. إنشاء كرسي السلطان قابوس بجامعة جورج تاون الأمريكية.	○	٣. إعلان تخصيص سفينة فلك السلامة لتنفيذ رحلة مشروع طريق الحرير.
○	١. إنشاء كرسي السلطان قابوس بجامعة جورج تاون الأمريكية.	○	١. إعلان تخصيص سفينة فلك السلامة لتنفيذ رحلة مشروع طريق الحرير.
○	٢. إعلان تخصيص سفينة فلك السلامة لتنفيذ رحلة مشروع طريق الحرير.	○	٢. تبني منظمة اليونسكو فكرة مشروع طريق الحرير.
○	٣. تبني منظمة اليونسكو فكرة مشروع طريق الحرير.	○	٣. إنشاء كرسي السلطان قابوس بجامعة جورج تاون الأمريكية.

لا تكتب في هذا الجزء

تابع السؤال الأول:

(٤) الدولة التي يوجد فيها برج بيزا المائل :

- اسبانيا. إيطاليا.
- بريطانيا. فرنسا.

(٥) استضافت تونس عام ٢٠٠٥م قمة مجتمع المعلومات:

- الأولى. الثانية.
- الثالثة. الرابعة.

(٦) المدينة التي عقد فيها مؤتمر الأمم المتحدة للتنمية المستدامة عام ٢٠٠٢م:

- ستوكهولم. نيروبي.
- ريودي جانيرو. جوهانسبرغ.

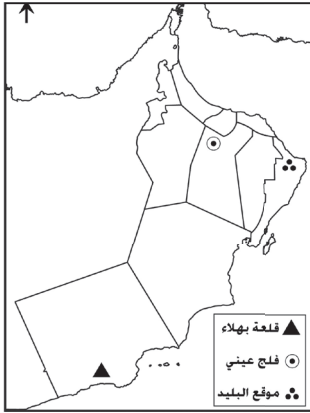
(٧) الموقع الأثري الذي تم إدراجه في بداية القرن ٢١م ضمن قائمة التراث العالمي :

- قبة جيناكو. مدينة وارسو.
- حضارة المايا. مسرح إبيدورس.

لا تكتب في هذا الجزء

تابع السؤال الأول:

٨ الخريطة التي تمثل بعض المواقع الأثرية العمانية المدرجة ضمن قائمة التراث العالمي:



٩ الولاية التي يوجد فيها الموقع الأثري الذي أمامك:



إزكي.

الرستاق.

عبري.

مرباط.

١٠ العام الميلادي الذي أعلنته الأمم المتحدة عامًا لحوار الثقافات:

٢٠٠١

٢٠٠٠

٢٠٠٣

٢٠٠٢

لا تكتب في هذا الجزء

تابع السؤال الأول:

(١١) الشخصية الحائزة على جائزة نوبل للسلام في مجال حماية البيئة عام ٢٠٠٤م:

- فاتو ديوب. ونجار ماتاي.
 هوانغ تاي ماي. أنطونيو بالديزون.

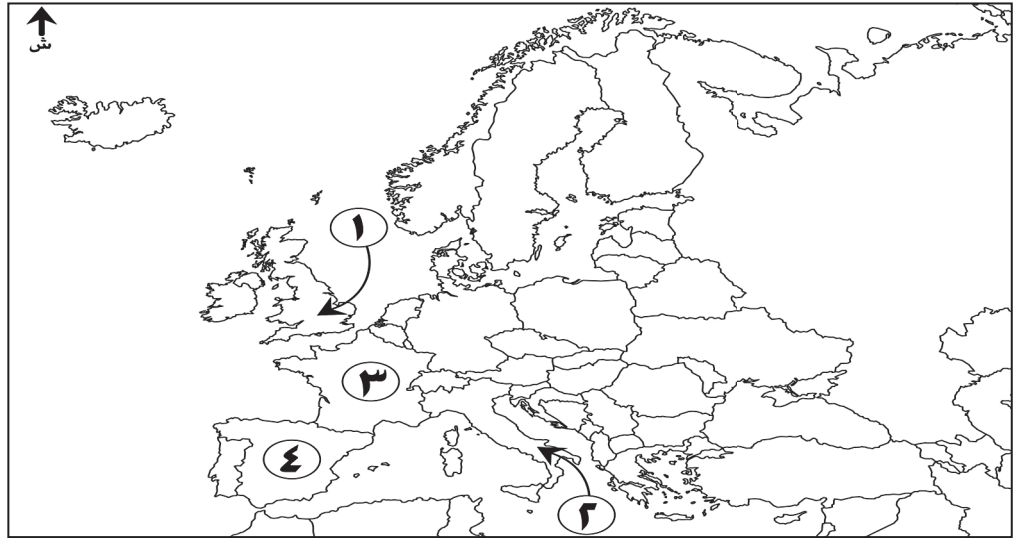
(١٢) تمنح جائزة السلطان قابوس لحماية البيئة التي أعلن عنها عام ١٩٨٩م كل:

- عام. عامين.
 ثلاثة أعوام. أربعة أعوام.

(١٣) الوزارة التي تشرف على زمالة سلطان عمان الدولية في مجال الآداب والعلوم الإنسانية والاجتماعية بجامعة أكسفورد ببريطانيا:

- التعليم العالي. الخارجية.
 الإعلام. التراث والثقافة.

(١٤) الرقم الذي يشير إلى الدولة التي توجد فيها قبة الألفية:



- ١ ٢
 ٣ ٤

لا تكتب في هذا الجزء

السؤال الثاني:

(١٥) اذكر اثنين من:

أ. أدبيات الحوار.

ب. المبادئ التي تضمنتها وثيقة "حقوق المواطن بمجتمع معلومات مستدام".

(١٦) علل:

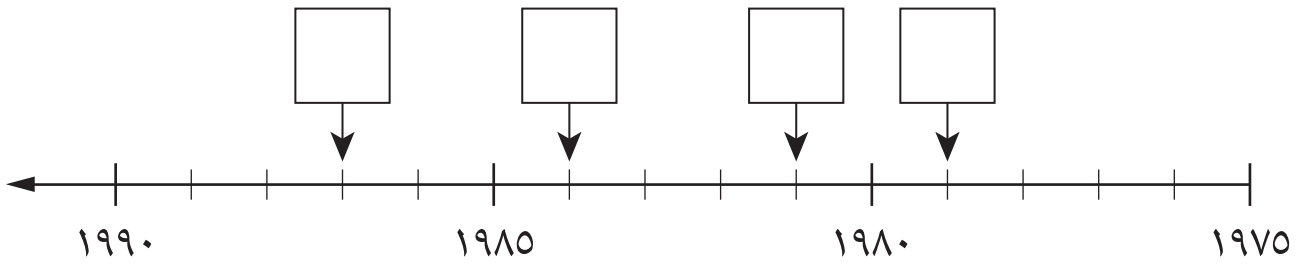
أ. تلوث الحيد المرجاني في رابو رابو الفلبينية عام ٢٠٠٥م.

ب. زارت سفينة "شباب عمان" أكثر من ١٤٠ دولة حول العالم.

تابع السؤال الثاني:

١٧) اكتب الرقم في المربع على الخط الزمني الذي يمثل تاريخ إدراج المواقع الأثرية التالية ضمن قائمة التراث العالمي:

- ١- قلعة بهلاء.
- ٢- شلالات نياجرا.
- ٣- تمثال الحرية.
- ٤- الحاجز المرجاني الكبير.



١٨) قارن في الجدول الذي أمامك بين (حضارة المايا، قصر الدالاي لاما):

وجه المقارنة	حضارة المايا	قصر الدالاي لاما
الدولة	أ-	ب-
نوع الخطر الذي يتعرض له	ج-	د-

لا تكتب في هذا الجزء

السؤال الثالث:

١٩) انسب كراسي جلالة السلطان قابوس التالية إلى الجامعات التي توجد فيها بكتابة رقم الكرسي في الجدول التالي:

- ١- كرسي السلطان قابوس للاستزراع الصحراوي الذي أنشئ عام ١٩٩٤م.
- ٢- كرسي السلطان قابوس في العلاقات الدولية الذي أنشئ عام ١٩٩٩م.
- ٣- كرسي السلطان قابوس للأستاذية في مجال إدارة المياه والتنوع الاقتصادي الذي أنشئ عام ٢٠٠٥م.

اسم الجامعة	رقم الكرسي
هارفارد الأمريكية.	
أترخت الهولندية.	
الخليج العربي.	

٢٠) فسر العبارات التالية:

أ. الحضارات والثقافات ليست مصطلحات تاريخية ثابتة.

ب. تعمل ظاهرة الاحتباس الحراري على عدم تطرف درجات الحرارة على الأرض.

ج. توجد في كل الثقافات مجموعات ثقافية "صغرى" أو "فرعية".

لا تكتب في هذا الجزء

تابع السؤال الثالث:

(٢١) صنّف الأهداف التالية التي يسعى مجتمع المعلومات إلى تحقيقها وفق المجال الذي تنتمي إليه:
(اكتساب المهارات والمعلومات / زيادة فرص العمل / ممارسة الهوايات وتحصيل المعلومات العامة / اعتماد نجاح المشاريع على البنية التحتية للمعلومات).

المجال التربوي	المجال الاقتصادي

(٢٢) أمامك أحد مواقع التراث العالمي، ادرسه جيدًا ثم أجب عن الأسئلة التالية:

أ. سمّ الموقع التراثي.



ب. ما القرن الميلادي الذي بني فيه؟

ج. لماذا بني هذا الموقع؟

لا تكتب في هذا الجزء

السؤال الرابع:

(٢٣) يعد مؤتمر قمة الألفية الذي عقد بالولايات المتحدة الأمريكية في ٦-٨ / سبتمبر / ٢٠٠٠ م من أكبر المؤتمرات في التاريخ من حيث مشاركة عدد من رؤساء وزعماء الحكومات).

في ضوء العبارة أجب عن الأسئلة التالية:

أ. سمّ المدينة التي عقد فيها المؤتمر.

ب. دلل على ما تحته خط في العبارة السابقة.

ج. ما الموضوع العام الذي تناوله المؤتمر؟

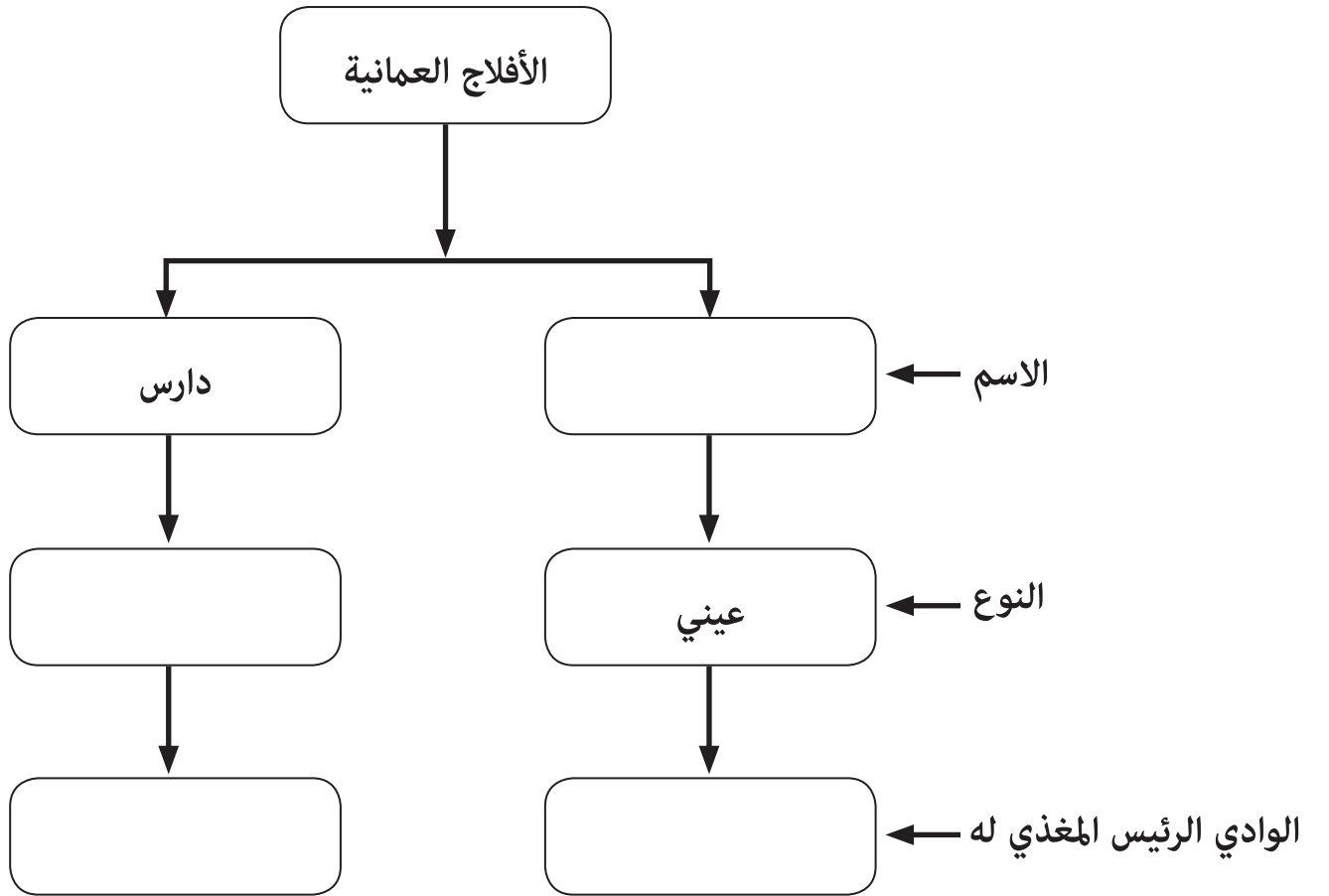
(٢٤) أكمل الجدول التالي الذي يمثل مؤتمرات قمة الأرض:

أ- _____	مؤتمر الأمم المتحدة للبيئة والسكان.	اسم المؤتمر
ب- _____	السويد.	دولة الانعقاد
إشعار الرأي العام العالمي بأهمية الاعتبارات البيئية والاجتماعية واعتبارها جزءاً مهماً من سياسة التنمية الاقتصادية الإنسانية.	ج- _____	بنود الاتفاق

لا تكتب في هذا الجزء

تابع: السؤال الرابع:

(٢٥) أكمل مخطط الأفلاج العمانية المدرجة ضمن قائمة التراث العالمي عام ٢٠٠٦م:



لا تكتب في هذا الجزء

تابع: السؤال الرابع:

٢٦) أمامك خريطة العالم الصماء، ادرسها جيداً ثم أجب عن الأسئلة التالية:



- أ. ظلل الدولة التي وُجد فيها برج بابل إحدى عجائب الدنيا السبع في العالم القديم.
- ب. سمّ الظاهرة الطبيعية الإستثنائية التي تعرضت لها سواحل الدولة المشار إليها بالرقم (١) في يونيو ٢٠٠٧م.
- ج. ما الجهة الرئيسة التي تقع فيها الدولة المشار إليها بالرقم (٢) بالنسبة للبحر المتوسط؟
- د. ما الرقم الذي يشير إلى الدولة التي حققت مداخيل من التجارة الإلكترونية بمقدار ٧٢١ مليون دولار عام ٢٠٠٢م؟

انتهت الأسئلة، مع تمنياتنا لكم بالتوفيق والنجاح.

لا تكتب في هذا الجزء

مُسَوِّدَةٌ

لا تكتب في هذا الجزء

لا تكتب في هذا الجزء



نموذج
الإجابة
المعتمد

نموذج إجابة امتحان دبلوم التعليم العام
للعام الدراسي ١٤٣٥/١٤٣٦ هـ - ٢٠١٤/٢٠١٥ م
الدور الأول - الفصل الدراسي الثاني

المادة: التاريخ (العالم من حولي).
تدبيره: نموذج الإجابة في (٩) صفحات.

إجابة السؤال الأول: مجموع درجاته (٢٨ درجة).

الصفحة	الدرجة	الإجابة	المفردة
١٤٧	٢	السياسي.	١
٢٣٧	٢	مؤتمر الألفية.	٢
١٥٧-١٥٦	٢	١. تبني منظمة اليونسكو فكرة مشروع طريق الحرير. ٢. إعلان تخصيص سفينة فلك السلامة لتنفيذ رحلة مشروع طريق الحرير. ٣. إنشاء كرسي السلطان قابوس بجامعة جورج تاون الأمريكية.	٣
١٧٦	٢	إيطاليا.	٤
٢٠٨	٢	الثانية.	٥
٢٢٢	٢	جوهانسبرغ.	٦
١٨٠	٢	حضارة المايا.	٧
٢٠١، ١٩٦	٢		٨
١٩٧	٢	عبري.	٩
١٦٢	٢	٢٠٠١	١٠
٢٢٣	٢	ونجار ماتاي.	١١
٢٢٦	٢	عامين.	١٢
١٥٦	٢	الخارجية.	١٣
٢٣٦	٢	(١)	١٤

(٢)

تابع نموذج إجابة امتحان دبلوم التعليم العام
للعام الدراسي ١٤٣٥/١٤٣٦ هـ - ٢٠١٤/٢٠١٥ م
الدور الأول - الفصل الدراسي الثاني
المادة: التاريخ (العالم من حولي)
إجابة السؤال الثاني: مجموع درجاته (١٤) درجة.

الصفحة	الدرجة	الإجابة الصحيحة	المفردة	الجزئية
١٤١	٢	<ul style="list-style-type: none"> - الإخلاص . - التجرد من التعصب لفكرته أو مذهبه (الموضوعية) . - الإصغاء وحسن الاستماع لمن يحاوره، وأن يستوعب لما يقوله المتحاورون. - الالتزام بالقول الحسن. - تجنب منهج التحدي والإقحام. - ينأى بنفسه عن أسلوب الطعن والتجريح . - الالتزام بوقت محدد في الكلام، وألا يستأثر بالكلام على حساب وقت المتحاورين الآخرين . - تقدير الخصم واحترامه، أي الاحترام المتبادل بين المتحاورين . - التركيز على الفكرة لا على صاحبها والفصل بين الفكرة وصاحبها، والالتزام بنقاش الأفكار التي يتم تداولها أثناء الحوار. - إنهاء الحوار بأدب ولباقة، بحيث يختم المتحاورون حواراتهم بجمل رقيقة وحسنة، مع إبداء الشكر والتقدير للجميع . 	أ	١٥

يكتفى باثنين وبما يفيد المعنى.

معياري التصحيح

(٢-١-٠)

مفتاح التصحيح

الصفحة	الدرجة	الإجابة الصحيحة	المفردة	الجزئية
٢٠٩	٢	<ul style="list-style-type: none"> - المعرفة إرث إنساني وملك للجميع ويجب أن تكون متاحة ومتوفرة لكل الناس. - تقليل الفجوة الرقمية بين الشعوب من أهم الأولويات التنموية . - التنوع الثقافي شرط أساسي لبناء مستدام لمجتمع المعلومات. - ضرورة التنوع الإعلامي واختلاف مصادر المعلومات . - احترام خصوصية الفرد والحرية الشخصية حق من حقوق الإنسان، وأمر ضروري لتنمية الإنسان الحر والمستقل في مجتمع المعلومات. 	ب	١٥

يكتفى باثنين ويراعى أسلوب الطالب في صياغة المبادئ، وإذا كتب الطالب أمثلة بدون ذكر المبادئ تعتبر الإجابة خاطئة.

معياري التصحيح

(٢-١-٠)

مفتاح التصحيح

الصفحة	الدرجة	الإجابة الصحيحة	المفردة	الجزئية
٢٤٥	٢	تسرب المواد السامة الناتجة من نشاطات التعدين لإحدى الشركات الكبرى في المنجم/ مخلفات المنجم / وجود المنجم / تسرب الوحول من المنجم.	أ	١٦

يكتفى بواحدة.

معياري التصحيح

(٢-٠)

مفتاح التصحيح

(٣)

تابع نموذج إجابة امتحان دبلوم التعليم العام
للعام الدراسي ١٤٣٥/١٤٣٦ هـ - ٢٠١٤/٢٠١٥ م
الدور الأول - الفصل الدراسي الثاني
المادة: التاريخ (العالم من حولي)

تابع إجابة السؤال الثاني:

الجزئية	المفردة	الإجابة الصحيحة	الدرجة	الصفحة
١٦	ب	<ul style="list-style-type: none"> - للتواصل مع شعوب العالم والتعرف على ثقافتهم. - للتعريف بالسلطنة وحضارتها. - للمشاركة في المسابقات الشراعية الدولية. - للمشاركة في المعارض الدولية. - نشر القيم والتسامح والسلام. - سياسة الحكومة الرشيدة للانفتاح والتواصل مع العالم. 	٢	١٥٥
		يكتفى بواحدة وبما يفيد المعنى.		
		مفتاح التصحيح		
		(٢-٠)		

الجزئية	الإجابة الصحيحة	الدرجة	الصفحة	
١٧		٤ لكل درجة	١٨٢، ١٩٦، ١٨١،	
		إذا كتب الطالب أسماء المواقع في المكان الصحيح على الخط الزمني تعتبر الإجابة صحيحة.		
		مفتاح التصحيح		
		(٤-٣-٢-١-٠)		

الجزئية	الإجابة الصحيحة	الدرجة	الصفحة									
١٨	<table border="1"> <thead> <tr> <th>وجه المقارنة</th> <th>حضارة المايا</th> <th>قصر الداياي لاما</th> </tr> </thead> <tbody> <tr> <td>الدولة</td> <td>أ- المكسيك / جواتيمالا.</td> <td>ب- الصين.</td> </tr> <tr> <td>نوع الخطر الذي تتعرض له</td> <td>ج- السياحة العشوائية. (المشي العشوائي، تخريب بعض أجزاء المواقع نتيجة قلة الوعي، قلة الشعور بحجم المسؤولية).</td> <td>د- الكوارث الطبيعية (الزلازل) / زحف وتقدم المباني والمدن الحديثة. (الزحف العمراني) / (الزحف السكاني)</td> </tr> </tbody> </table>	وجه المقارنة	حضارة المايا	قصر الداياي لاما	الدولة	أ- المكسيك / جواتيمالا.	ب- الصين.	نوع الخطر الذي تتعرض له	ج- السياحة العشوائية. (المشي العشوائي، تخريب بعض أجزاء المواقع نتيجة قلة الوعي، قلة الشعور بحجم المسؤولية).	د- الكوارث الطبيعية (الزلازل) / زحف وتقدم المباني والمدن الحديثة. (الزحف العمراني) / (الزحف السكاني)	٢ لكل نصف درجة.	١٨٠، ١٨٣،
وجه المقارنة	حضارة المايا	قصر الداياي لاما										
الدولة	أ- المكسيك / جواتيمالا.	ب- الصين.										
نوع الخطر الذي تتعرض له	ج- السياحة العشوائية. (المشي العشوائي، تخريب بعض أجزاء المواقع نتيجة قلة الوعي، قلة الشعور بحجم المسؤولية).	د- الكوارث الطبيعية (الزلازل) / زحف وتقدم المباني والمدن الحديثة. (الزحف العمراني) / (الزحف السكاني)										
		في الرمز (أ) و (د) يكتفى بذكر إجابة واحدة.										
		مفتاح التصحيح										
		(٢-١.٥-١-٠)										

(٤)

تابع نموذج إجابة امتحان دبلوم التعليم العام

للعام الدراسي ١٤٣٥/١٤٣٦ هـ - ٢٠١٤/٢٠١٥ م

الدور الأول - الفصل الدراسي الثاني

المادة: التاريخ (العالم من حولي)



إجابة السؤال الثالث: مجموع درجاته (١٤) درجة.

الصفحة	الدرجة	الإجابة الصحيحة		الجزئية
١٥٥ -	١	رقم الكرسي	اسم الجامعة	١٩
١٥٦	١	٢	هارفارد الأمريكية	
	١	٣	أترخت الهولندية	
		١	الخليج العربي	
إذا كتب الطالب اسم الكرسي أو العام الميلادي بما يتناسب مع الرقم الصحيح تعطى له الدرجة.				معياري التصحيح
(٠ - ١ - ٢ - ٣)				مفتاح التصحيح



(٥)

تابع نموذج إجابة امتحان دبلوم التعليم العام

للعام الدراسي ١٤٣٥/١٤٣٦ هـ - ٢٠١٤/٢٠١٥ م

الدور الأول - الفصل الدراسي الثاني

المادة: التاريخ (العالم من حولي)

تابع / إجابة السؤال الثالث:

الصفحة	الدرجة	الإجابة الصحيحة	المفردة	الجزئية
١٥٢	٢	إن الحضارات والثقافات قابلة للتغير، وأنها دوما تنمو وتتطور وتكيف نفسها مع الأزمنة الحديثة والحقائق الجديدة من خلال التفاعل فيما بينها.	أ	٢٠
بما يفيد المعنى.			معياري التصحيح	
(٢-٠)			مفتاح التصحيح	
الصفحة	الدرجة	الإجابة الصحيحة	المفردة	الجزئية
٢٢٨	٢	- تسمح بمرور الأشعة الشمسية قصيرة الموجات التي يمتصها سطح الأرض. - عندما يسخن سطح الأرض تنبعث عنه أشعة طويلة الموجات تمنعها الغازات الموجودة في الغلاف الجوي من الخروج إلى الفضاء فتحبس معظمها في الطبقة السفلى وبالتالي تساهم في المحافظة على حرارة الأرض عند ١٥ درجة سيليزية ولولا هذه الغازات لتسربت الطاقة الأرضية بالإشعاع إلى الفضاء.	ب	٢٠
يكتفى بوحدة بما يفيد المعنى.			معياري التصحيح	
(٢-٠)			مفتاح التصحيح	
الصفحة	الدرجة	الإجابة الصحيحة	المفردة	الجزئية
١٥٢	٢	وجود ثقافات صغرى أو فرعية قائمة على التباين (الاختلاف) العرقي أو الديني أو الجغرافي (البيئي) أو الجنسي أو اللغوي.	ج	٢٠
إذا كتب الطالب نوع واحد من أنواع التباين تعتبر الإجابة صحيحة. وإذا كتب الطالب أمثلة على التباين في كل نوع مثال في العرقي (عرب وترك) والديني (الإسلامي والمسيحي)، الجغرافي (جبلية وصحراوية) لغوي (عربية وإنجليزية) تعتبر الإجابة صحيحة.			معياري التصحيح	
(٢-٠)			مفتاح التصحيح	



(٦)
تابع نموذج إجابة امتحان دبلوم التعليم العام
للعام الدراسي ١٤٣٥/١٤٣٦ هـ - ٢٠١٤/٢٠١٥ م
الدور الأول - الفصل الدراسي الثاني
المادة: التاريخ (العالم من حولي)

تابع / إجابة السؤال الثالث:

الصفحة	الدرجة	الإجابة الصحيحة		الجزئية
٢١١-٢١٠	٢ لكل واحدة نصف درجة.	المجال التربوي	المجال الاقتصادي	٢١
		اكتساب المهارات والمعلومات.	زيادة فرص العمل.	
		ممارسة الهوايات وتحصيل المعلومات العامة.	اعتماد نجاح المشاريع على البنية التحتية للمعلومات.	
(٥-٠، ١-١.٥-٢)				مفتاح التصحيح

الصفحة	الدرجة	الإجابة الصحيحة	المفردة	الجزئية
١٨١	١		أ تاج محل.	٢٢
١٨١	١		ب السابع عشر الميلادي (١٧م).	
١٨١	١	بناه الإمبراطور شاه جيهان بعد وفاة زوجته ممتاز محل وفاءً وعرفاناً لها / حباً لها/ تخليداً لذكرى زوجته/ قبراً لزوجته.	ج	
في الرمز (ج) يكتفى بذكر إجابة واحدة.				معيار التصحيح
(٣-٢-١-٠)				مفتاح التصحيح

يتبع/٧



(٧)

تابع نموذج إجابة امتحان دبلوم التعليم العام
للعام الدراسي ١٤٣٥/١٤٣٦ هـ - ٢٠١٤/٢٠١٥ م

الدور الأول - الفصل الدراسي الثاني
المادة: التاريخ (العالم من حولي)

إجابة السؤال الرابع: مجموع درجاته (١٤) درجة:

الصفحة	الدرجة	الإجابة الصحيحة	المفردة	الجزئية
٢٣٧	١		أ	
٢٣٧	١		ب	٢٣
٢٣٧	١		ج	
في الرمز (ج) يكتفى بذكر إجابة واحدة.				معيار التصحيح
(٣-٢-١-٠)				مفتاح التصحيح

الصفحة	الدرجة	الإجابة الصحيحة	الجزئية
٢٢٢	٣ لكل إجابة درجة واحدة	أ) مؤتمر الأمم المتحدة للبيئة والتنمية/ مؤتمر البيئة والتنمية.	اسم المؤتمر
		ب) البرازيل.	دولة الانعقاد
		إشعار الرأي العام العالمي بأهمية الاعتبارات البيئية والاجتماعية واعتبارها جزءاً مهماً من سياسة التنمية الاقتصادية الإنسانية.	بنود الاتفاق
في الرمز (أ) الالتزام بكتابة المسمى الصحيح والكامل للمؤتمر.			
في الرمز (ج) يكتفى بإجابة واحدة.			
(٣-٢-١-٠)			



(٨)

تابع نموذج إجابة امتحان دبلوم التعليم العام
للعام الدراسي ١٤٣٥/١٤٣٦ هـ - ٢٠١٤/٢٠١٥ م
الدور الأول - الفصل الدراسي الثاني
المادة: التاريخ (العالم من حولي)

تابع / إجابة السؤال الرابع:

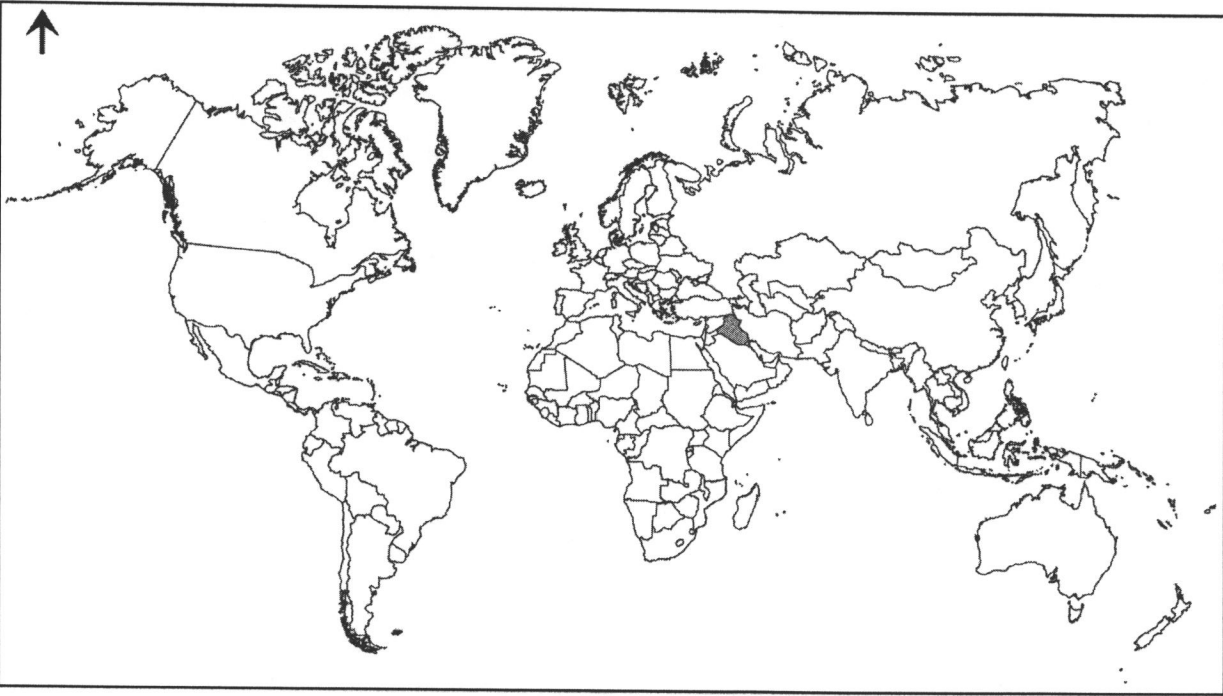
الصفحة	الدرجة	الإجابة الصحيحة	الجزئية
٢٠١- ٢٠٢	٤	<pre>graph TD; A[] --> B[داوودي]; A --> C[الجيل]; B --> D[الأبيض]; C --> E[شاب];</pre>	٢٥
لكل مفردة درجة.			معياري التصحيح
(٠ - ١ - ٢ - ٣ - ٤)			مفتاح التصحيح



(٩)

تابع نموذج إجابة امتحان دبلوم التعليم العام
للعام الدراسي ١٤٣٥/١٤٣٦ هـ - ٢٠١٤/٢٠١٥ م
الدور الأول - الفصل الدراسي الثاني

تابع / إجابة السؤال الرابع:

الصفحة	الدرجة	الإجابة الصحيحة	المفردة	الجزئية	
					
١٧٢	١	انظر الخريطة.	أ		
٢٣٠	١	الأنواء المناخية/إعصار غونو/إعصار/غونو.	ب		
١٧٢، ١٧٣، ١٨٣	١	الجنوب.	ج		
٢١٢	١	٥	د		
	٤ (١-٠)	٣ (١-٠)	٢ (١-٠)	١ (١-٠)	مفتاح التصحيح

نهاية نموذج الإجابة