



سَلْطَنَةُ عُمَانِ  
وَزَارَةُ التَّرْبِيَةِ وَالتَّعْلِيمِ  
لِلرَّيْثِيَّةِ الْعِلْمِيَّةِ وَالتَّحْقِيقِ الْعِلْمِيِّ بِمَهْدِ الْبَلَدِ

اختبار نهاية الفصل الدراسي الثاني للصف السابع للعام الدراسي ١٤٣٥ / ١٤٣٦ هـ - ٢٠١٤ / ٢٠١٥ م

\* زمن الإجابة : ساعة ونصف  
\* الإجابة في نفس الورقة

المادة : الدراسات الإجتماعية  
تنبيه : عدد الصفحات ( ٤ )

[ أجب عن جميع الأسئلة التالية ]

السؤال الأول: ضع دائرة حول رمز الإجابة الصحيحة من بين البدائل المعطاة:

١- بلغ عدد المدن المليونية الضخمة مع بداية القرن الحادي والعشرين حوالي:  
أ- ١٠٠      ب- ٢٠٠      ج- ٣٠٠      د- ٤٠٠

٢- يطلق على الهجرة العكسية من المدينة إلى الريف:  
أ- التحضر      ب- التراجع الحضري      ج- التنمية الريفية      د- الزحف الحضري

٣- عقدت ندوة التصحر في محافظة ظفار في العام الميلادي:

أ- ٢٠٠٠      ب- ٢٠٠١  
ج- ٢٠٠٢      د- ٢٠٠٣

النسبة المئوية لسكان المدن (%)			أقاليم العالم
٢٠٠٠م	١٩٨٠م	١٩٢٠م	
٤٠	٣١	٩	شركي آسيا
٣٥	٢٥	٩	جنوبي آسيا
٨٠	٦٠	٢٢	أمريكا اللاتينية
٣٩	٢٨	٧	أفريقيا
٧١	٤٦	٤٦	أوروبا
٧٨	٦٥	٥٢	أمريكا الشمالية
٨٥	٨١	١٥	روسيا
٨٠	٦٨	٤٧	أستراليا
٥١	٤٦	١٩	العالم


٤- الإقليمين الذين تتساوي فيهما النسبة المئوية لسكان المدن في عام ٢٠٠٠م من خلال الجدول المقابل:  
أ- أمريكا اللاتينية وأستراليا      ب- جنوب آسيا وأوروبا  
ج- شرقي آسيا وروسيا      د- أوروبا وأفريقيا

٥- تعد مدينة طيبة مقرا لعبادة الإله:

أ- عشتار      ب- أتون  
ج- رع      د- أمون

٦- تمثل الصورة المقابلة أحد منجزات العمارة في بلاد الرافدين في عهد الملك:

أ- نابوبولاسر      ب- نبوخذ نصر  
ج- آشور بانيبال      د- نارام سن



**تابع السؤال الأول:**

٧- تقع بلاد ما بين النهرين بالنسبة لقارة آسيا في الجهة:

أ- الجنوبية الغربية ب- الشمالية الغربية ج- الجنوبية الشرقية د- الشمالية الشرقية

٨- جميع ما يلي مدن مليونيه ضخمة ما عدا:

أ- مكسيكوستي ب- ساوباولو

ج- طوكيو د- ميامي

١٦

**السؤال الثاني:** أجب عن جميع الأسئلة الآتية

أ- أذكر إثنين من :

١- نتائج الهجرة من الريف إلى الحضر.

.....  
.....

٢- الشعوب السامية التي هاجرت من موطنها الأصلي إلى بلاد الرافدين منذ الألف الرابعة ق.م حتى القرن السادس ق.م.

.....  
.....

ب- علل/ يعد التعليم من الإحتياجات الأساسية للسكان.


.....  
.....

ج- أمامك صورة تمثل مشكلة الإسكان التي تواجه المدن في الدول النامية ، أدرسها جيدا، ثم أجب عن الأسئلة التي تليها:

١- استنتج اسم المشكلة التي تمثلها الصورة المقابلة.

.....

٢- إعط مثالين على ما يميز هذه المشكلة.

.....  
.....

٨

**السؤال الثالث:** أجب عن جميع الأسئلة الآتية

أ- عرف كل من:  
١- حضارات وادي النيل.

.....  
.....

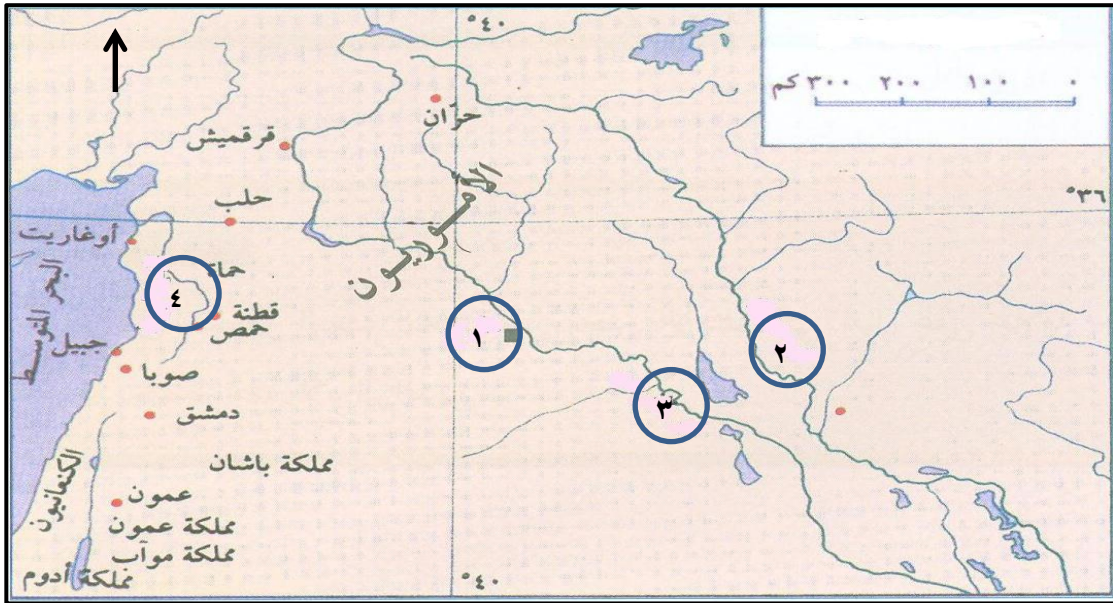
٢- الكتابة المسمارية.

.....  
.....

ب- دلل باثنين على حرص سلطنة عمان على تأمين السكن الملائم للمواطنين.

.....  
.....

ج- أمامك خريطة حضارات بلاد الشام أدرسها جيدا ، ثم أجب عن الأسئلة التي تليها:



١- ظلل الرقم الذي يشير إلى عاصمة الأموريين.

٢- ما الجهة الرئيسية التي تقع فيها حمص بالنسبة للبحر المتوسط.

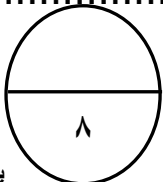
.....

٣- ما الرقم الذي يشير إلى نهر دجلة.

.....

٤- استخرج من الخريطة اسم ميناء اعتمدت عليه الحضارة الفينيقية.

.....



**السؤال الرابع:****أجب عن جميع الأسئلة الآتية**

أ- رتب الاحداث التاريخية الآتية من الأقدم إلى الأحدث، باستخدام الارقام (٣،٤،٢،١) وذلك بوضع الرقم الصحيح يمين الحدث:

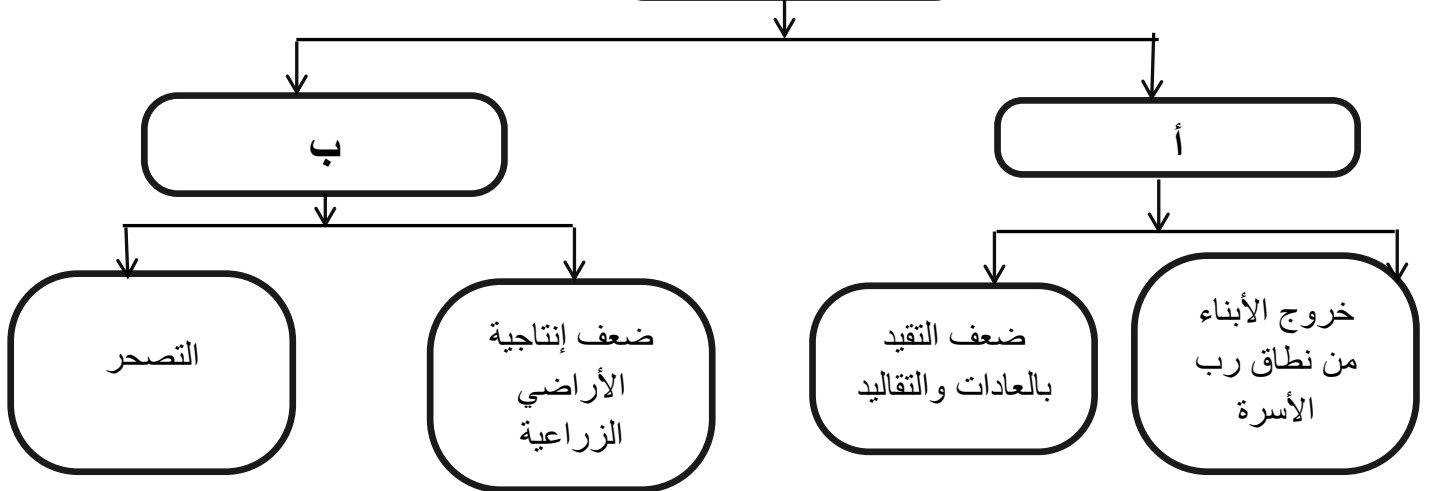
- طرد الهكسوس من مصر بقيادة أحمس.  
 أستطاع أمنحوتب الثاني تأسيس الأسرة الحادية عشرة.  
 انتصار تحتمس الثالث في معركة مجدو.  
 انتهت معركة قادش بعقد معاهدة بين الفراعنة والحيثيين.

ب- أمامك جدول يمثل مراحل تطور المجتمعات البشرية، أدرسه جيدا، ثم صنف الإنجازات التالية على هذه المراحل: (صنع الأدوات البسيطة للدفاع عن النفس، اكتظاظ المدن بالسكان، بداية استقرار الإنسان في تجمعات سكنية، استهلاك ما تنتجه البيئة).

مرحلة الجمع والالتقاط	مرحلة الصيد والرعي	مرحلة الزراعة	مرحلة التجارة	مرحلة الصناعة

ج- أمامك خريطة مفاهيمية تمثل بعض مشكلات الريف، أدرسها جيدا، ثم أجب عن الاسئلة التي تليها:

بعض مشكلات الريف



١- أكتب ما تشير إليه الرموز أ و ب.

أ- .....

ب- .....

٢- استخرج من الخريطة المفاهيمية اسم الظاهرة التي يعد الرعي الجائر أحد أسبابها.

.....



## اختبار نهاية الفصل الدراسي الثاني- الدور الأول للصفوف من (٥-٩) للعام الدراسي ١٤٣٥ / ١٤٣٦ هـ - ٢٠١٤ / ٢٠١٥ م

- \* عدد صفحات أسئلة الاختبار : ( ٤ ) .
- \* الإجابة في الورقة نفسها .

- المادة : الدراسات الإجتماعية
- زمن الإجابة : ساعة ونصف

		اسم الطالب
الصف		المدرسة

(التوقيع بالاسم)		الدرجة بالحروف (بالأحمر)	الدرجة بالأرقام (بالأحمر)		السؤال
المصحح (بالأحمر)	الاسم		عشرات	آحاد	
التوقيع					١
					٢
					٣
					٤
					٥
					٦
					٧
					المجموع
				٤٠	المجموع الكلي

عدد أوراق الإجابة ( ٤ )



المديرية العامة للتربية والتعليم لمحافظة شمال الباطنة  
نموذج إجابة امتحان الصف السابع الاساسي لمادة الدراسات الاجتماعية  
٢٠١٤م/٢٠١٥م - الفصل الدراسي الثاني / الدور الأول

الدرجة الكلية ٤٠ درجة

$$١٦ = ٢ \times ٨$$

إجابة السؤال الأول: ١٦ درجة

رقم المفردة	١	٢	٣	٤	٥	٦	٧	٨
رمز الإجابة	ج	ب	ج	أ	د	ب	أ	د
الإجابة	٣٠٠	التراجع الحضري	٢٠٠٢	أمريكا اللاتينية وأستراليا	آمون	نبوخذ نصر	الجنوبية الغربية	ميامي
الوحدة	الرابعة	الرابعة	الرابعة	الرابعة	الخامسة	الخامسة	الخامسة	الرابعة
الصفحة	٢٥	٢٣	٢٢	٢٤	٤٨	٥٩	٥١	٢٥
الدرجة	٢	٢	٢	٢	٢	٢	٢	٢

إجابة السؤال الثاني: ٨ درجات

الوحدة	الصفحة	الدرجة	الإجابة	الجزئية
الرابعة	١٨	١	١- عرقلة تنمية القطاع الزراعي، حيث يفقد الريف كثيرا من القوى العاملة وهو ما يجعل الأراضي الزراعية غير مستغلة استغلالا كاملا فيقل الإنتاج الزراعي ويقل دخل الفرد في هذه المناطق. / انتقال أكثر الأشخاص المتميزين والطموحين من المجتمعات الريفية إلى المجتمعات الحضرية. / تغير نمط الأسرة من أسرة كبير (ممتدة) إلى أسرة صغيرة. / التحول من العمل الزراعي إلى أعمال مهنية أخرى. / الضغط ع الخدمات العامة في المدن. ( يكتفى باثنين ولكل واحدة نصف درجة )	أ
الخامسة	٥٣	٢	٢- الأكاديون / البابليون / الآشوريون / الكلدانيون. ( يكتفى باثنين ولكل واحدة درجة )	
الرابعة	٣٣	٢	يسهم في تزويد المتعلمين بالمعرفة. / غرس شعور حب الوطن والدفاع عنه. / تلبية حاجات المجتمع بتزويدهم بالمهارات الضرورية للحياة. / إعداد الفرد ليكون عنصرا فاعلا في المجتمع. ( يكتفى بواحدة ) (تراعى إجابات الطلبة التي تؤدي نفس المعنى)	ب

نموذج إجابة امتحان الصف السابع الاساسي لمادة الدراسات الاجتماعية  
٢٠١٤م/٢٠١٥م - الفصل الدراسي الثاني / الدور الأول

تابع /إجابة السؤال الثاني: ٨ درجات

الوحدة	الصفحة	الدرجة	الإجابة	الجزئية
الرابعة	٢٨	١	١- مدن الاكواخ ،حي الأكواخ ، أحياء الأكواخ.	ج
الرابعة	٢٧ ٢٨	٢	٢- بناء المنزل من بقايا الخشب أو الصفيح الذي يتم الحصول عليه من مكبات النفايات أو مواضع البناء. / تفتقر المنازل إلى التخطيط ، وتنمو بسرعة كبيرة نظرا لازدحامها بالسكان المهاجرين من الريف./ تنقصها الخدمات الأساسية كالمياه والصرف الصحي والكهرباء والشوارع وجمع القمامة والنفايات. ( يكتفى باثنين ولكل واحدة درجة )	

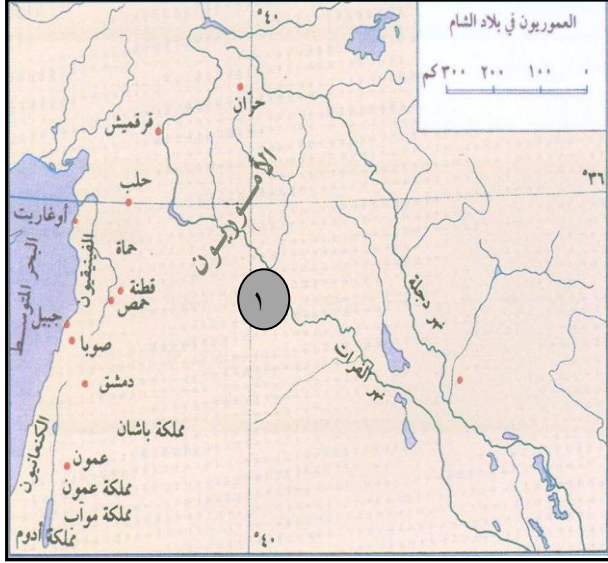
إجابة السؤال الثالث: ٨ درجات

الوحدة	الصفحة	الدرجة	الإجابة	الجزئية
الخامسة	٣٨	١	١- حضارات ظهرت على ضفاف نهر النيل ، وامتدت من أعالي وادي النيل جنوبا حتى مصبه في البحر المتوسط شمالا.	أ
الخامسة	٥٣	١	٢- الكتابة التي اخترعها السومريون منذ الألف الرابعة قبل الميلاد وقد استخدموا فيها أداة صنعت من العظم أو من الخيزران تشبه المسمار للكتابة على الواح من الطين وذلك لتسهيل المعاملات التجارية. (تراعى اجابات الطلبة)	
الرابعة	٣٠ ٣١	٢	وضع الأسس والقوانين المنظمة لقطاع الاسكان. / التخطيط للمشاريع الإسكانية. / التخطيط والمساحة(المخططات السكنية وتوزيع الاراضي السكنية) / الاسكان الاجتماعي (المساعدات السكنية والقروض السكنية)  (يكتفى بدليلين ولكل واحد درجة) ٧	ب



نموذج إجابة امتحان الصف السابع الاساسي لمادة الدراسات الاجتماعية  
٢٠١٤م/٢٠١٥م - الفصل الدراسي الثاني / الدور الأول

تابع / إجابة السؤال الثالث: ٨ درجات

الوحدة	الصفحة	الدرجة	الإجابة	الجزئية
الخامسة	٦٢	١	 <p>١- الإجابة على الخريطة. ٢- جهة الشرق. ٣- الرقم (٢). ٤- جبيل.</p>	ج
الخامسة	٦٢	١		
الخامسة	٦٢	١		
الخامسة	٦٢	١		

إجابة السؤال الرابع: ٨ درجات

الوحدة	الصفحة	الدرجة	الإجابة	الجزئية
الخامسة	٤٦	١	طرد الهكسوس من مصر بقيادة أحمدس.	أ
الخامسة	٤٥	١	أستطاع امنحوتب الثاني تأسيس الأسرة الحادية عشرة.	
الخامسة	٤٨	١	انتصار تحتمس الثالث في معركة مجدو.	
الخامسة	٤٩	١	إنتهت معركة قادش بعقد معاهدة بين الفراعنة والحيثيين.	



نموذج إجابة امتحان الصف السابع الاساسي لمادة الدراسات الاجتماعية  
٢٠١٤م/٢٠١٥م - الفصل الدراسي الثاني / الدور الأول

تابع /إجابة السؤال الرابع: ٨ درجات

الوحدة	الصفحة	الدرجة	الإجابة					الجزئية
الرابعة	١١	٢	مرحلة الصناعة	مرحلة التجارة	مرحلة الزراعة	مرحلة الصيد والرعي	مرحلة الجمع والالتقاط	ب
	١٢		١٣	اكتظاظ المدن بالسكان		بداية استقرار الإنسان في تجمعات سكنية	صنع الأدوات البسيطة للدفاع عن النفس	
			( لكل جزئية نصف درجة )					
الرابعة	٢١	١	١- أ- الإجتماعية					ج
	٢٢		ب- الإقتصادية. (لكل مفردة نصف درجة)					
الرابعة	٢٢	١	٢- التصحر.					

\*\*\* انتهى نموذج الإجابة \*\*\*