



سلطنة كوتان  
وزارة التربية والتعليم  
الامانة العامة للتربية والتعليم محافظة الدوحة

امتحان الصف السادس  
للعام الدراسي ١٤٣٦/١٤٣٧هـ - ٢٠١٥/٢٠١٦م  
الفصل الدراسي الثاني - الدور الأول

- المادة : الدراسات الاجتماعية
- زمن الإجابة : ساعة ونصف
- الأسئلة في : ٧ صفحات
- الإجابة في الورقة نفسها \*

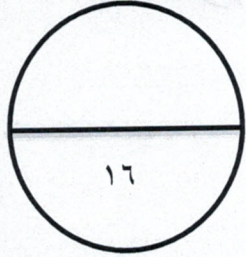
اسم الطالب	
المدرسة	
الشعبة	

السؤال	الدرجة بالأرقام بالأحمر	الدرجة بالحروف بالأحمر	( التوقيع بالاسم )	
			المصحح ( بالأحمر )	المصحح ( بالأخضر )
1				
2				
3				
4				
5				
6				
المجموع الكلي		جمعه ( بالأحمر )	مراجعة الجمع والتشطيب ( بالأزرق )	

يعتمد ،،،

المعلم الأول

السؤال الأول : ضع دائرة حول رمز الإجابة الصحيحة من بين البدائل المعطاة لكل عبارة :



١- تغطي الغابات بأنواعها المختلفة من مساحة الأرض :

(أ) النصف (ب) الثلث (ج) الربع (د) الخمس

٢- الغاز الذي تطلقه النباتات الطبيعية أثناء عملية التمثيل الضوئي :

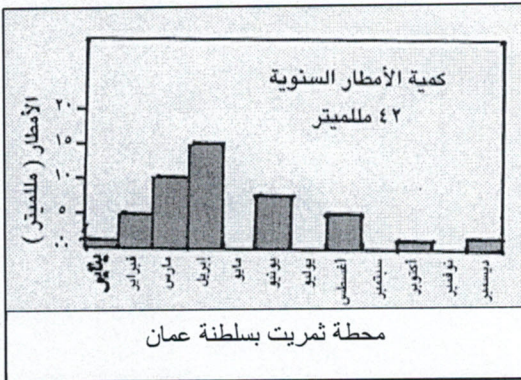
(أ) الأكسجين (ب) أول أكسيد الكربون (ج) ثاني أكسيد الكربون (د) الهيدروجين

٣- نبات صحراوي ذات سيقان شمعية وأوراق إبرية لمنع النتح :

(أ) الأوكاسيا (ب) الصبار (ج) النخيل (د) السدر

٤- العام الميلادي الذي صدر فيه النظام الأساسي للدولة:

(أ) ١٩٩٥ (ب) ١٩٩٦ (ج) ١٩٩٧ (د) ١٩٩٨



٥- النظام البيئي الذي يمثله الرسم البياني المقابل :

(أ) الغابات المدارية المطيرة (ب) الحشائش المدارية الطويلة  
(ج) الصحاري الحارة (د) التندرا الباردة

٦- المصدر الأساسي لكسب الرزق الحلال في الاسلام :

(أ) العمل (ب) الصدقة (ج) الزكاة (د) الميراث

العام الدراسي : ٢٠١٥/٢٠١٦ م

الصف : السادس

المادة : الدراسات الاجتماعية

٧- المهنة التي تحتاج الى خبرة وتأهيل دراسي متوسط في الصورة المقابلة:



أ) النظافة

ب) النجارة

ج) السباكة

د) الحدادة

٨- نسبة الأدوية التي تستخلص من نباتات الغابات الاستوائية تقدر بـ:

د) ٥٠%

ج) ٤٠%

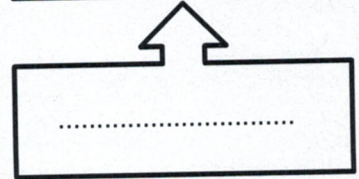
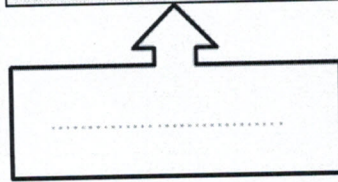
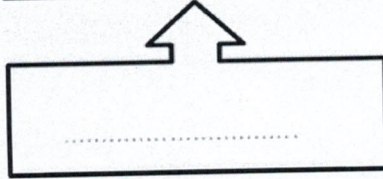
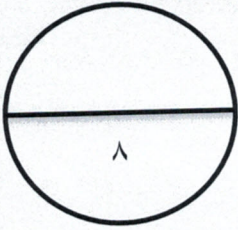
ب) ٣٠%

أ) ٢٠%

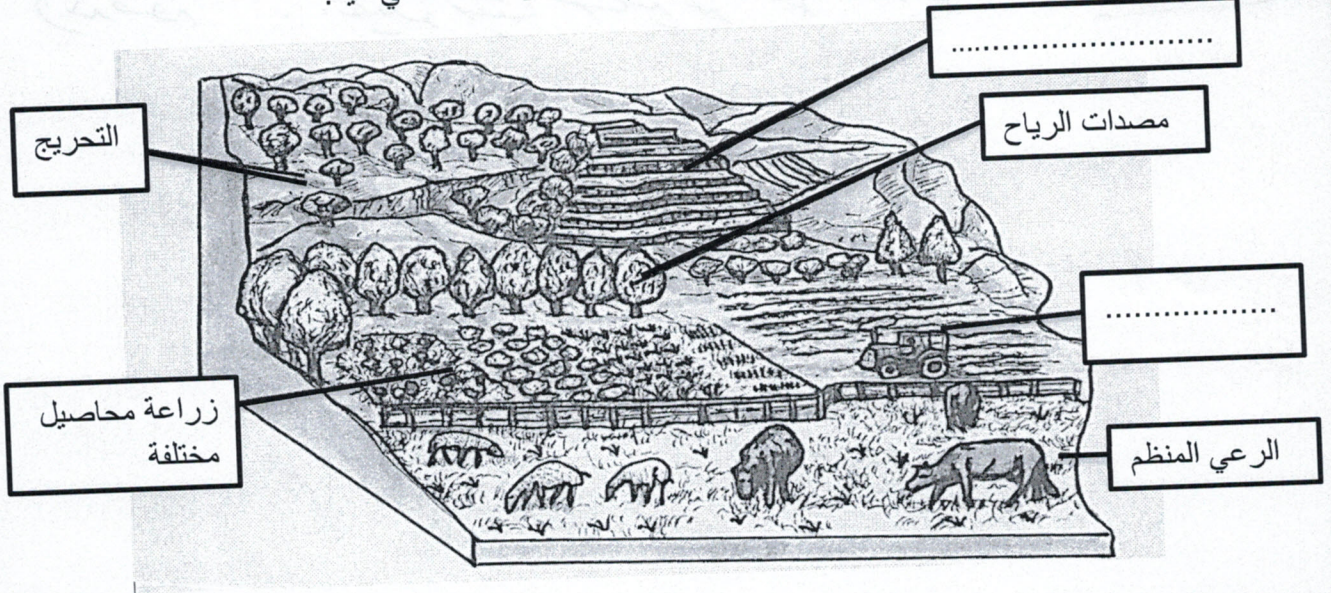
السؤال الثاني :

١) أنسب أشكال الأمانة من بين القوسين أسفل الصورة الدالة عليها.

( حفظ الأسرار - أداء الصلاة - رد الودائع )



٢) أنظر الى الشكل الذي يمثل (أساليب صيانة التربة)، ثم أجب عن الأسئلة التي تليه:



أ - أكتب الاسلوب المناسب لصيانة التربة في مكانها الصحيح على الشكل

( الحراثة السليمة- المدرجات الحجرية )

ب - أكتب المفهوم المناسب للتعريفات الواردة بالجدول

صفوف من الأشجار تزرع لحماية التربة من التعرية الريحية	.....
تحديد عدد حيوانات المرعى بما يتناسب وكمية النباتات الرعوية في المرعى	.....

ج - ما السبب الرئيسي الذي دفع الانسان القيام بـ:

- عملية التحريج .

- زراعة محاصيل مختلفة .

٣) قارن بين الحقوق والواجبات في الجدول أدناه .

المفهوم وجه المقارنة	الحقوق	الواجبات
التعريف	..... .....	..... .....
مثال عليها	.....	.....

### السؤال الثالث:

١) أكتب مثالين على:

أ - المحميات الطبيعية في سلطنة عمان.

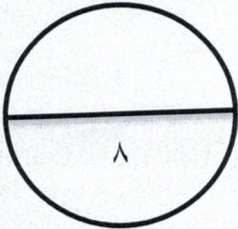
١- .....

ب - أنواع الصحاري في العالم .

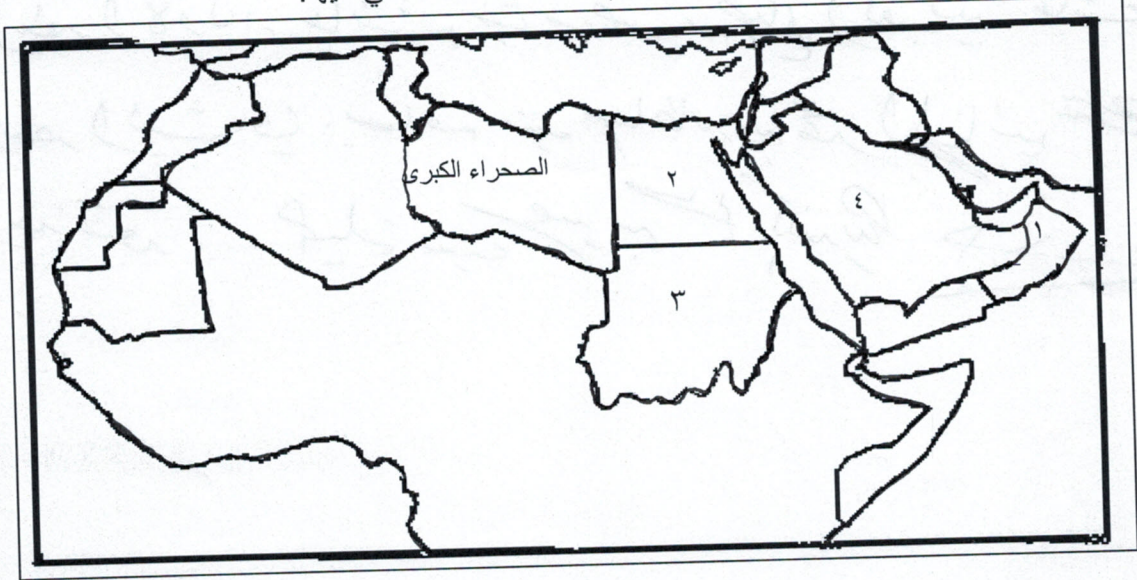
١- .....

٢- .....

٢- .....



٢) ادرس خريطة الوطن العربي التي أمامك ، ثم أجب عن الأسئلة التي تليها:



أ - أكتب الأرقام التي تشير الى :

- الدولة العربية التي اهتمت بتربية الأبقار في بيئة السافانا (.....)
- الدولة العربية التي خصصت جائزة لحماية وصون البيئة (.....)

ب - ما اسم الصحراء المشار إليها بالرقم (٤) ؟ .....

ج - في أي قارة توجد الصحراء الكبرى ؟ .....

٣) أ - عرف المفاهيم الآتية :

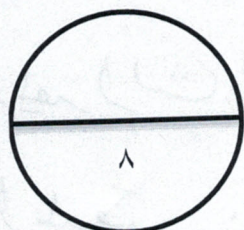
- ادارة الوقت . .....

- وقت الفراغ . .....

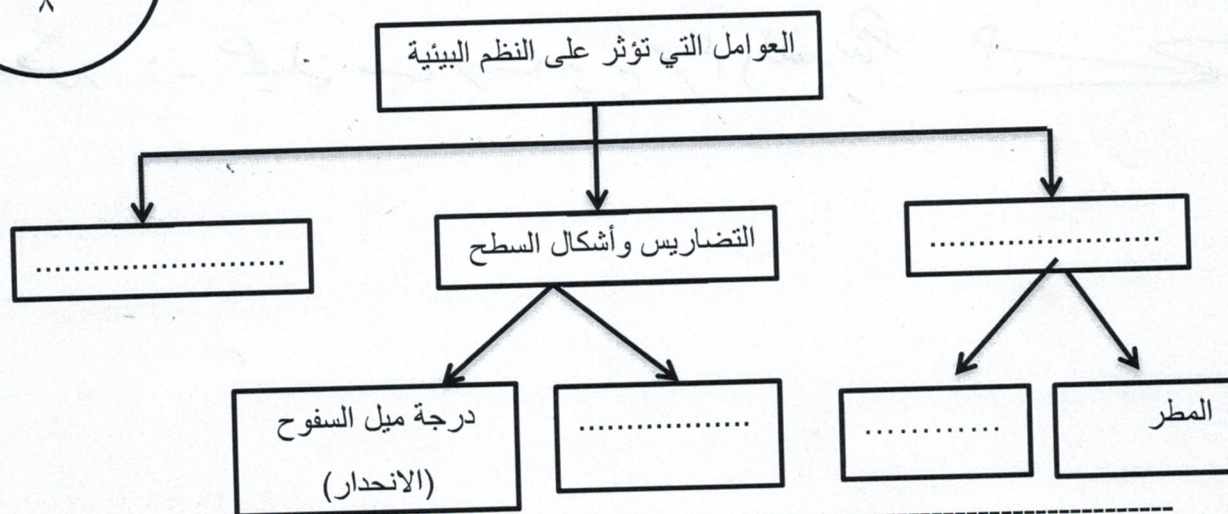
ب - ( من الأخلاق الاسلامية ، محافظة الفرد المسلم على احترام المواعيد ) في ضوء العبارة السابقة  
دلل بذكر اثنين من المواعيد التي يجب التقيد بها .

١- .....

٢- .....



السؤال الرابع: (١) أكتب العوامل الموجودة بين القوسين في مكانها الصحيح بالمخطط ( الارتفاع بالأمتار - درجة الحرارة - التربة - المناخ )



(٢) تمعن جدول ( تطور أعداد العمالة في القطاع الخاص بسلطنة عمان ) ثم أجب عن الأسئلة :

السنة	البيان
١٩٩٧م (ألف عامل)	العمالة الوطنية
١٩٩٨م (ألف عامل)	العمالة الوافدة
١٩٩٩م (ألف عامل)	
٢٠٠٠م (ألف عامل)	

أ - بم تفسر :

زيادة العمالة الوطنية من سنة لأخرى .

ب - ماذا تلاحظ على أعداد العمالة الوافدة بين عامي ١٩٩٧م و ٢٠٠٠م؟

ج - ( هناك مشاريع رائدة لحفز الشباب العماني للعمل في القطاع الخاص ) دلت باثنتين منها .

١- .....  
٢- .....

٣) اقرأ النص التالي ، ثم أجب عن الأسئلة التي تليه:

.....في مؤتمر الأمم المتحدة المعني بالبيئة والتنمية الذي عقد في ريودي جانيرو بالبرازيل في يونيو عام ١٩٩٢ م ، بحضور مئة رئيس دولة وحكومة ، تشكل أكبر لقاء لزعماء العالم حتى أصبح معروفا باسم ((قمة الأرض)) ، وكان اختيار شخص حضره صاحب الجلالة السلطان المعظم - يحفظه الله - متحدثا باسم العرب تتويجا لدور السلطنة في مجال حماية البيئة (

أ - أكتب البيانات الصحيحة عن المؤتمر

اسم المؤتمر	مكان انعقاده	سنة انعقاده
مؤتمر قمة الأرض	.....	.....

ب - علل :

تسمية مؤتمر الأمم المتحدة المعني بالبيئة والتنمية بقمة الأرض .

.....

ج - من الشخص الذي تم اختياره ليكون متحدثا باسم العرب في المؤتمر ؟

.....

=====

بالتوفيق للجميع



نموذج اجابة امتحان نهاية الفصل الدراسي الثاني(الدور الأول) للصف السادس

للعام الدراسي: ٢٠١٥/٢٠١٦م

المجموع الكلي: ٤٠ درجة

اجابة السؤال الأول : (١٦ درجة)

رقم العبارة	الرمز الصحيح	الاجابة الصحيحة	رقم الصفحة	الدرجة المقدرة
١	ب	الثلاث	١٩	٢
٢	أ	الأكسجين	١٤	٢
٣	ب	الصبار	٣٣	٢
٤	ب	١٩٩٦	٥١	٢
٥	ج	الصحاري الحارة	٣٢	٢
٦	أ	العمل	٧٢	٢
٧	ب	النجارة	٧٥	٢
٨	ج	%٤٠	٢٤	٢
المجموع				١٦

**نموذج اجابة**

اجابة السؤال الثاني : (٨ درجات)

رقم السؤال	رقم الجزئية	الاجابة الصحيحة	الدرجة المقدرة	رقم الصفحة
١	الصورة الأولى	أداء الصلاة	درجة فقط	٦٢
	الصورة الثانية	رد الودائع	درجة فقط	
	الصورة الثالثة	حفظ الأسرار	درجة فقط	
٢	أ	المدرجات الحجرية	نصف درجة	٤٠
		الحراثة السليمة	نصف درجة	
	ب	مصدات الرياح	نصف درجة	٤٠
	ج	الرعي المنظم	نصف درجة	٤٠ و ٢٨
		قطع الغابات	نصف درجة	
	زراعة بدائية (عدم استخدام الدورة الزراعية)	نصف درجة	٤١	
٣	الحقوق	التعريف: كل ما يستحقه المواطن من الدولة/المجتمع/الأسرة. ضمن نطاق الشرعية والقانون	نصف درجة	٥١
		مثال: الجنسية/العدل والمساواة/التعليم/الرعاية الصحية/الملكية الخاصة/الأمن (يكتفى بمثال واحد فقط)	نصف درجة	٥٤
		التعريف: كل ما يجب على المواطن أن يقوم به تجاه الدولة/المجتمع/الأسرة وفق الأنظمة والقوانين المعمول بها في الدولة	نصف درجة	٥١
	الواجبات	مثال: الدفاع عن الوطن/المحافظة على ممتلكات الوطن/العمل على الارتقاء بالوطن (يكتفى بمثال واحد فقط)	نصف درجة	٥٥
المجموع		٨ درجات		

نموذج اجابة

اجابة السؤال الثالث: (٨ درجات)

رقم السؤال	رقم الجزئية	الاجابة الصحيحة	الدرجة المقدره	رقم الصفحة
١	أ	١- محمية المها العربي في جدة الحراسيس	نصف درجة	١٥
	ب	٢- محمية السلاحف في رأس الحد حجرية ٢ حصوية / رملية	نصف درجة نصف درجة	
٢	أ	٣ ١	نصف درجة	٢٨
	ب	صحراء شبه الجزيرة العربية	نصف درجة	٤٨
	ج	قارة أفريقيا	درجة فقط	٣٠
٣	أ	ادارة الوقت: عملية تنظيم الوقت واستغلاله في الأعمال الصحيحة والنافعة. وقت الفراغ: الوقت الفائض لدى الفرد بعد انجاز الأعمال الرئيسية	درجة فقط	٦٤
	ب	مواقيت الصلاة الحضور الى المدرسة الحضور الى المنزل حيث انتظر الأهل انجاز الواجبات المدرسية المطلوبة بوقت معين زيارات الأقارب والأصدقاء ممارسة الرياضة القيام ببعض الأعمال المنزلية (يكتفى باثنين فقط)	نصف درجة نصف درجة	٦٧
		المجموع	٨ درجات	

نموذج إجابة

اجابة السؤال الرابع: (٨ درجات)

رقم السؤال	رقم الجزئية	الاجابة الصحيحة	الدرجة المقدره	رقم الصفحة
١	المخطط	المناخ - التربة درجة الحرارة - الارتفاع بالامطار	نصف - نصف نصف - نصف	١٧
٢	أ	جهود الحكومة الرشيدة في تعميم مختلف الأعمال بالقطاع الخاص/ سياسة التعميم	درجة فقط	٧٨
	ب	تناقص / تقل	درجة	
	ج	١- صندوق الرفع ٢- مشروع انطلاقة	نصف درجة نصف درجة	
٣	أ	مكان انعقاده: ريودي جانيرو / البرازيل سنة انعقاده: ١٩٩٢م	نصف درجة نصف درجة	٤٧
	ب	حضور مئة رئيس دولة وحكومة هذا المؤتمر / تشكل أكبر لقاء لزعماء العالم	درجة فقط	
	ج	حضرة صاحب الجلالة السلطان المعظم	درجة فقط	
		المجموع	٨ درجات	

الله الموفق

نموذج إجابة